

"БИАТЛОН"

ЗАДАЧИ

первый уровень



второй уровень




третий уровень



Галкина Инна Анатольевна, учитель начальных классов
МОУ «Водоватовская СОШ» Арзамасского района, Нижегородской области







На ветке сидело 5 птиц.
Прилетело ещё 3 птицы.
Сколько птиц стало?

9

8

2








Когда я с братом пришёл в спортзал, там уже были четверо наших ребят и тренер. Сколько теперь человек в спортзале?

9

8

7



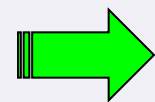



На опушку прилетело 12
дроздов, а кукушек на 7
меньше. Сколько кукушек
прилетело на опушку?

5

19

7



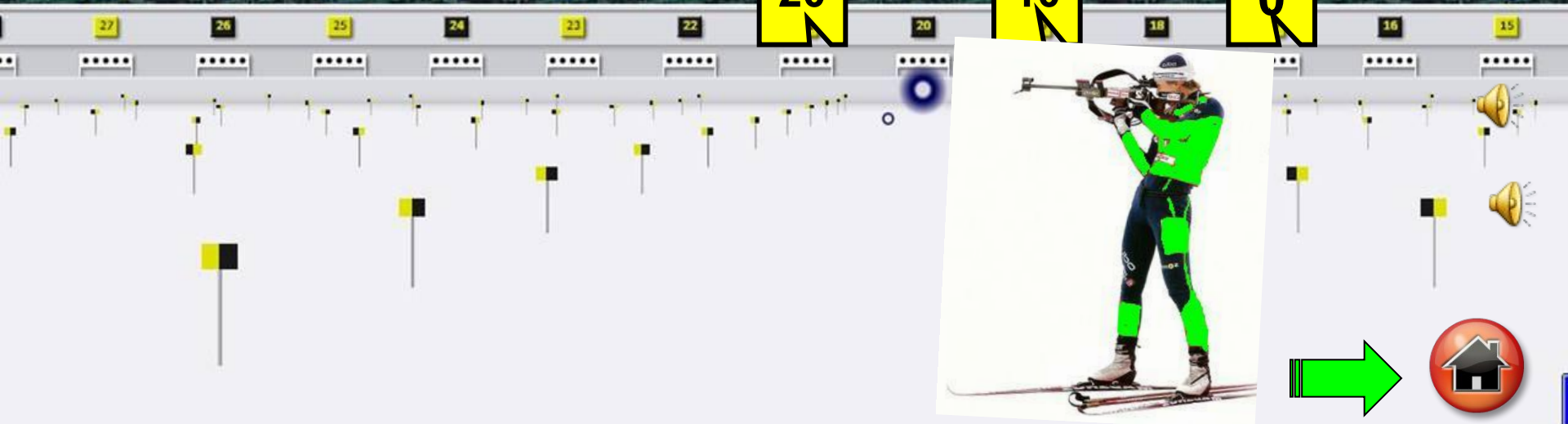



В замке 15 башен имеют окна, а 5 без окон. На сколько меньше башен без окон?

20

10

0






Когда у продавца купили 2
хомячка, то у него
осталось 6 хомячков.
Сколько хомячков было у
продавца?

4

8

9



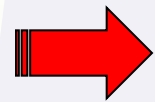



Нарезали 12 кружков колбасы.
На каждый ломтик хлеба
положили два кружка.
Сколько получилось
бутербродов?

6

8

12



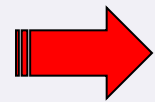



Мастер собрал четыре трёхколесных велосипеда. Сколько колёс ему потребовалось?

4

12

7







В гараже было 15 машин.
5 уехало, а 7 приехало.
Сколько машин стало в
гараже?

27

10

17






Дуремар поймал 8 пиявок в первый день и 2 во второй. Сколько пиявок у него осталось, если он продал 3?

7

8

10



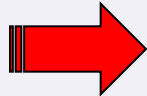



Шарик выпил 9 кружек
молока, а Матроскин на 5
меньше. Сколько кружек
молока выпили друзья?

14

4

13



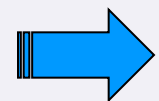



В нашем классе было 19 мальчиков и 18 девочек. Потом к нам пришли учиться ещё 3 девочки. Сколько учеников стало в нашем классе?

37

40

41



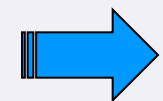



В группе 15 туристов. Четверо из них говорят по-немецки, двое - по-английски, а остальные - по-французски, но никто из них не говорит на двух языках. Сколько туристов говорят по-французски?

9

15

21



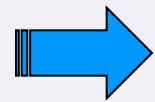



У семи братьев по одной сестре. Сколько всего сестёр?

7

8

1



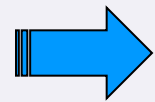



Заполнив 5 трёхлитровых банок, хозяйка поняла, что остаётся ещё литр компота. Тогда она разлила компот в двухлитровые банки. Сколько двухлитровых банок получилось?

6

8

5





На лугу паслось стадо коров. Пастух заснул, и пока он спал, половина коров ушла в лес. Потом из тех, что остались, половина ушла на речку. Проснулся пастух, видит - на лугу только Бурёнка и Пеструшка. Сколько коров было в стаде?


6

10

8



МОЛОДЦЫ!



ИСТОЧНИКИ:

- http://www.interestinfo.ru/uploads/posts/2009-11/1258805073_sshot-15.png - биатлонист
- <http://softobzor.com.ua/fotos/b/410576.jpg> - фон
- <http://www.parkov3.narod.ru/sound/23/023.mp3> -
звук выстрела винтовки
- <http://www.parkov3.narod.ru/sound/22/012.mp3> -
аплодисменты
- <http://sport.segodnya.ua/img/forall/p/007/01%20medals.jpg> - медали