



АНАЛИЗ КОНТРОЛЬНОЙ РАБОТЫ.

**ПИСЬМЕННОЕ ДЕЛЕНИЕ НА ДВУЗНАЧНОЕ
ЧИСЛО.**

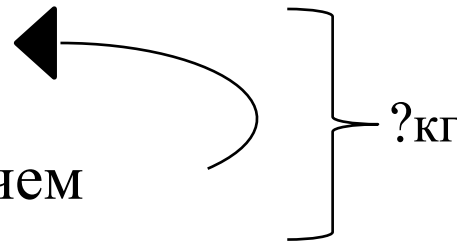
ДЕЛЕНИЕ НА ТРЁХЗНАЧНОЕ ЧИСЛО.

АНАЛИЗ КОНТРОЛЬНОЙ РАБОТЫ

На склад привезли 4т 368 кг овощей, а фруктов в 3 раза меньше. Сколько всего кг овощей и фруктов привезли на склад?

Овощи - 4т 368кг

Фрукты - ?кг , в 3 раза меньше, чем



$$4\text{т } 368\text{кг} = 4368\text{кг}$$

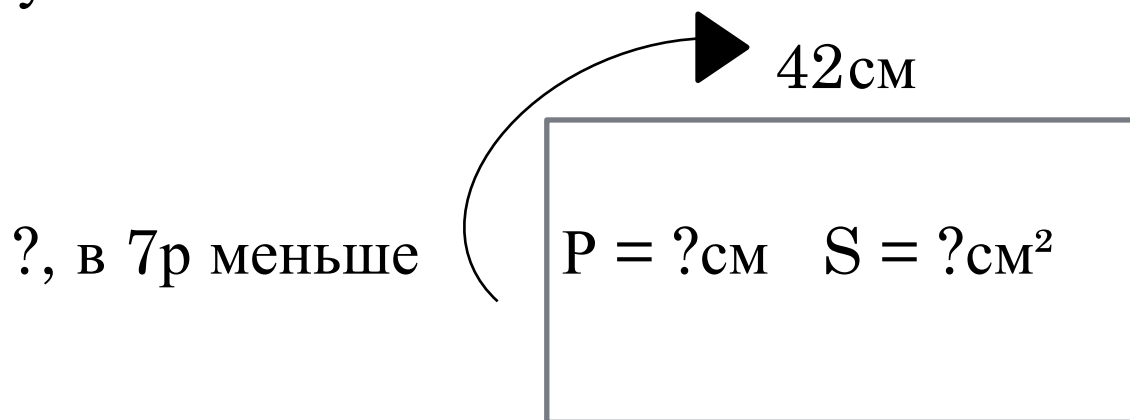
1) $4368:3 = 1456$ (кг) – привезли фруктов.

2) $4368+1456 = 5824$ (кг)

Ответ: 5824кг овощей и фруктов привезли на склад.



Длина прямоугольника равна 42 см, а ширина в 7 раз короче. Найди периметр и площадь данного прямоугольника.



1) $42:7 = 6$ (см) – ширина.

2) $(42+6) \cdot 2 = 96$ (см) – периметр.

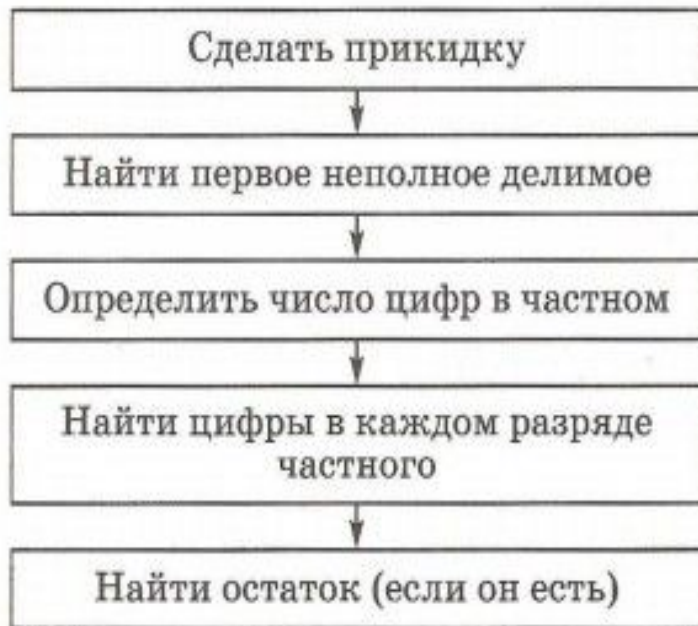
3) $42 \cdot 6 = 252$ (см²) – площадь.

Ответ: $P = 96\text{см}$, $S = 252\text{см}^2$



ПИСЬМЕННОЕ ДЕЛЕНИЕ НА ДВУЗНАЧНОЕ И ТРЁХЗНАЧНОЕ ЧИСЛО

Алгоритм деления



ВЫПОЛНИ ДЕЛЕНИЕ СТОЛБИКОМ

$$3912 : 12 =$$

$$7222 : 314 =$$

$$234135 : 45 =$$

$$14484 : 426 =$$

$$29736 : 56 =$$

$$25916 : 418 =$$



РАБОТА С УЧЕБНИКОМ

Открой учебник на странице 75.

Реши в тетради задачу № 301.

