

Проверка домашнего задания.



Отгадай кроссворд:

С
А



1,3,2,5



А=И



Повторение темы

Игра дополни предложения:

1) Самый южный материк - **АВСТРАЛИЯ**



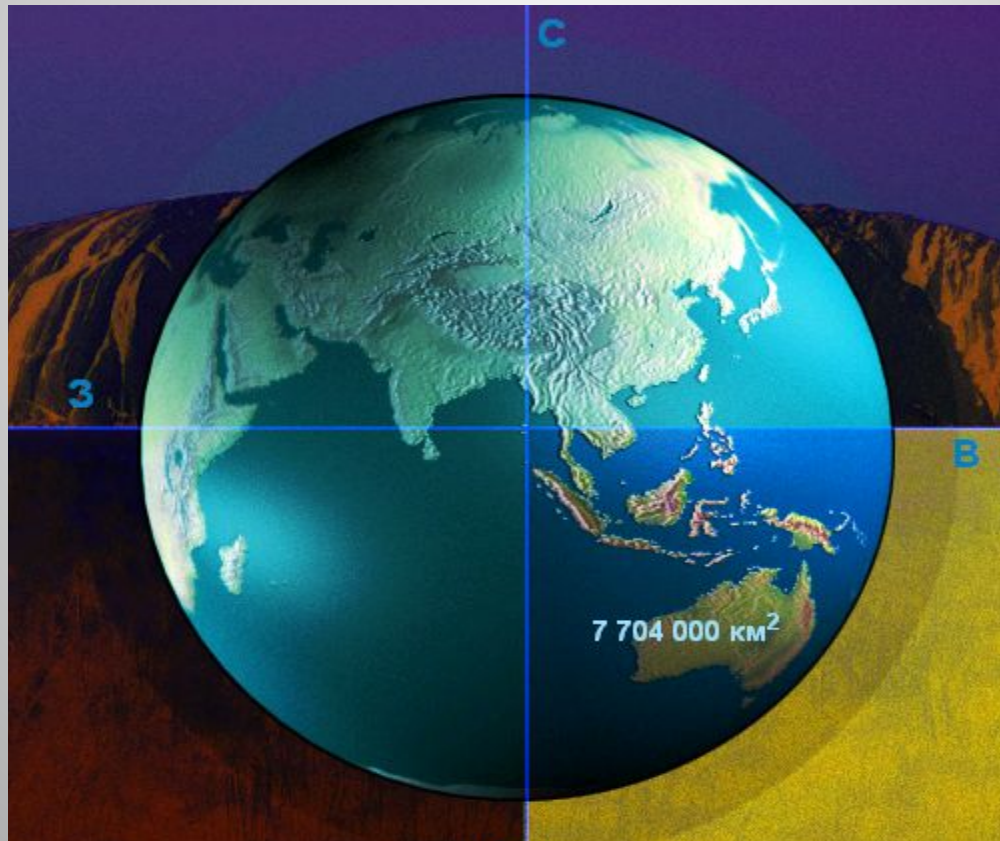


Повторение темы

Игра дополни предложения:

2) В каком полушарии расположен материк

**Южное
полушарие**





Повторение темы

Игра дополни предложения:

3) Самый большой коралловый риф в мире **Большой Барьерный риф**





Игра дополни предложения:

4) Участок суши, окружённый со всех сторон водой. Это **остров**

5) Часть суши, окружённая с трёх сторон водой. Это **полуостров**



Покажи острова и полуострова Австралии

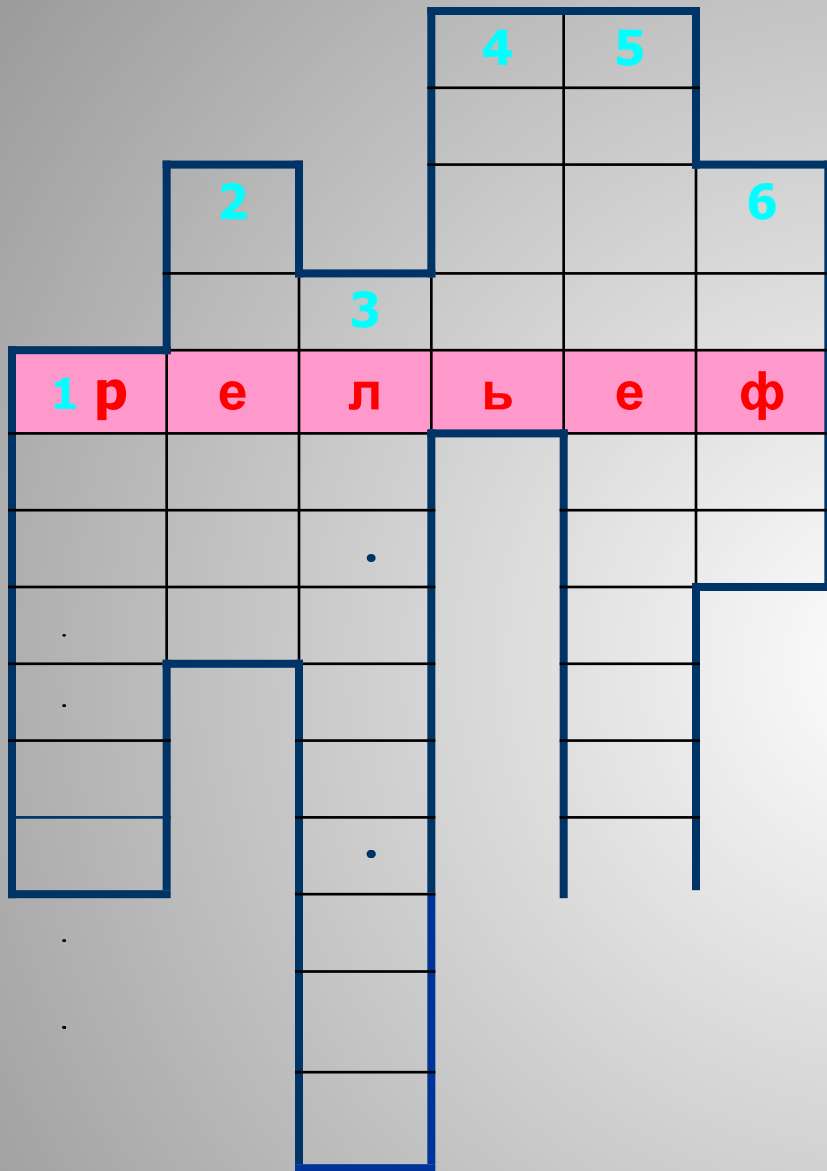
Остров
Новая Гвинея

Полуостров
Арнем-Ленд

Полуостров
Кейп-Йорк

Остров
Тасмания

Остров
Новая Зеландия



Отгадайте кроссворд

1. Участок суши высотой до 200 м.
2. Горная цепь.
3. Участок горного рельефа с преобладанием плоских поверхностей.
4. Вид топлива, образовавшийся из частиц древний растений под землёй.
5. Широкое пространство поверхности с низким общим уровнем.
6. Полезное ископаемое осадочного происхождения

			4 у	5 н	
			г	и	
	2 х		о	з	6 н
	р	3 п	л	м	е
1 р	е	л	ь	е	ф
а	б	о		н	т
в	е	с		н	ь
н	т	к		о	
и		о		с	
н		г		т	
а		о		ь	
		р			
		ь			
		е			

Правильные ответы

1. Участок суши высотой до 200 м.
2. Горная цепь.
3. Участок горного рельефа с преобладанием плоских поверхностей.
4. Вид топлива, образовавшийся из частиц древний растений под землёй.
5. Широкое пространство поверхности с низким общим уровнем.
6. Полезное ископаемое осадочного происхождения



Отдохнём?



Раз – подняться, потянуться.
Два – согнуться, разогнуться.
Три – в ладоши три хлопка,
Головою три кивка.
На четыре – руки шире.
Пять – руками помахать.
Шесть – за парту тихо сесть.



25.11.15 г.

**Тема: «Разнообразие рельефа.
Климат, реки и озёра
Австралии»**



Основные формы рельефа

Равнинный центр

Возвышенный
запад

Высокогорный
восток



NEXT

Большой Водораздельный хребет



Гора Косцюшко (2 228 м)



@Mt Kosciuszko

Центральная низменность



Западно-Австралийское плоскогорье



Австралия богата полезными ископаемыми

Австралия занимает ведущее место в мире по добыче урана и железа.

Добыча урана



Добыча железной руды



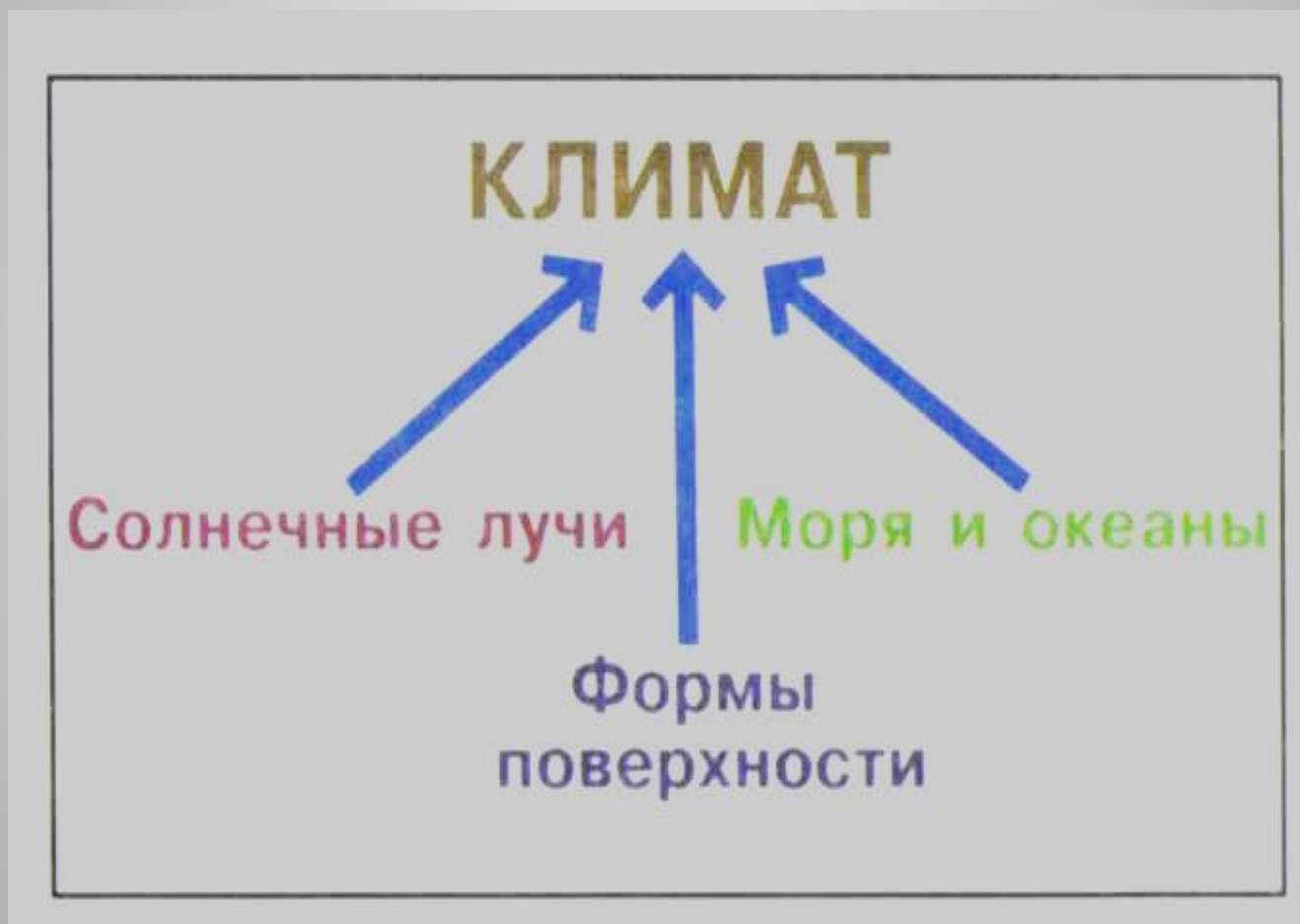
Полезные ископаемые



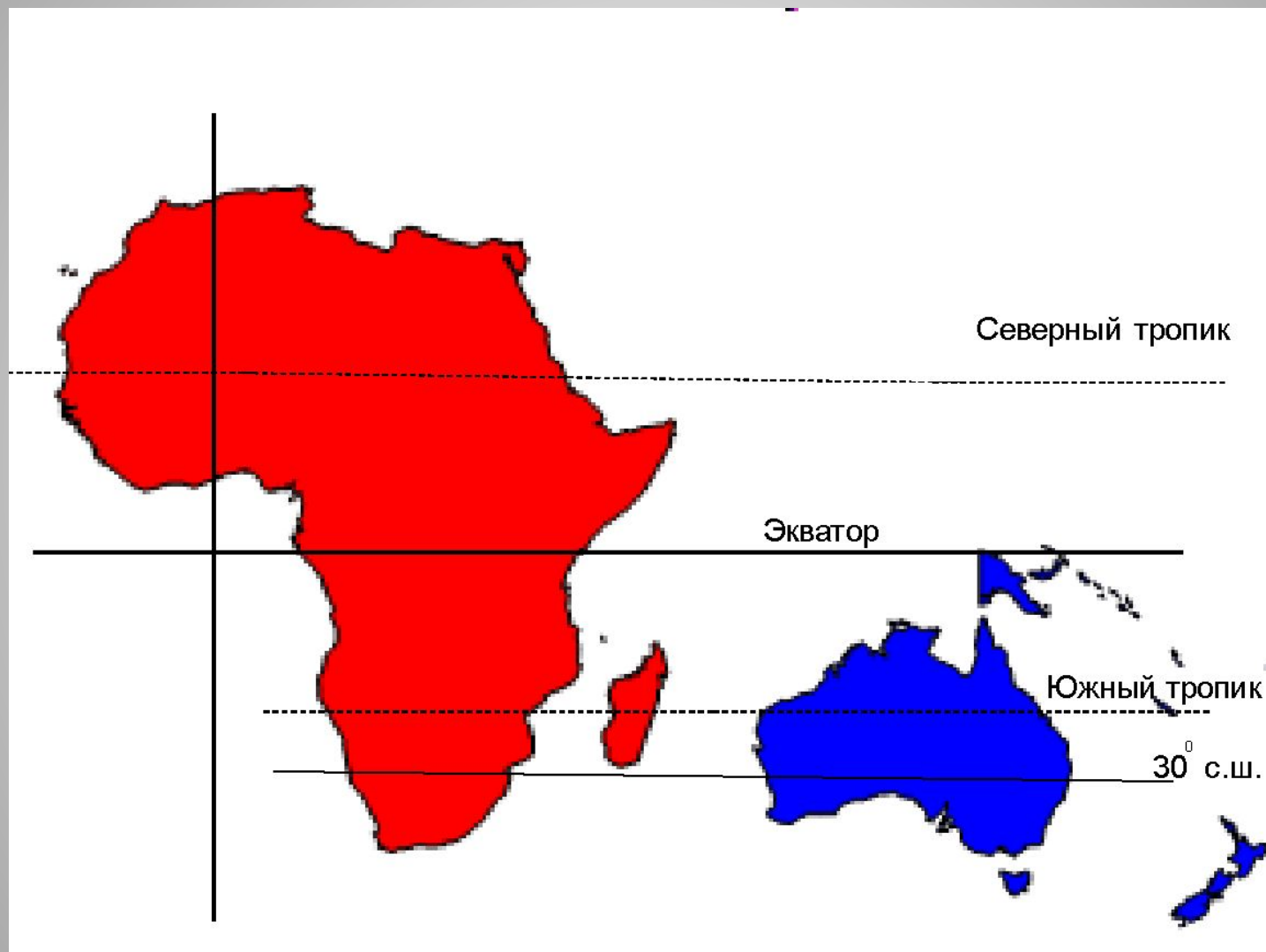
ЗАПОМНИТЕ!

В Австралии **НЕТ**
действующих вулканов,
землетрясений, в горах
отсутствуют ледники.

От чего зависит климат?

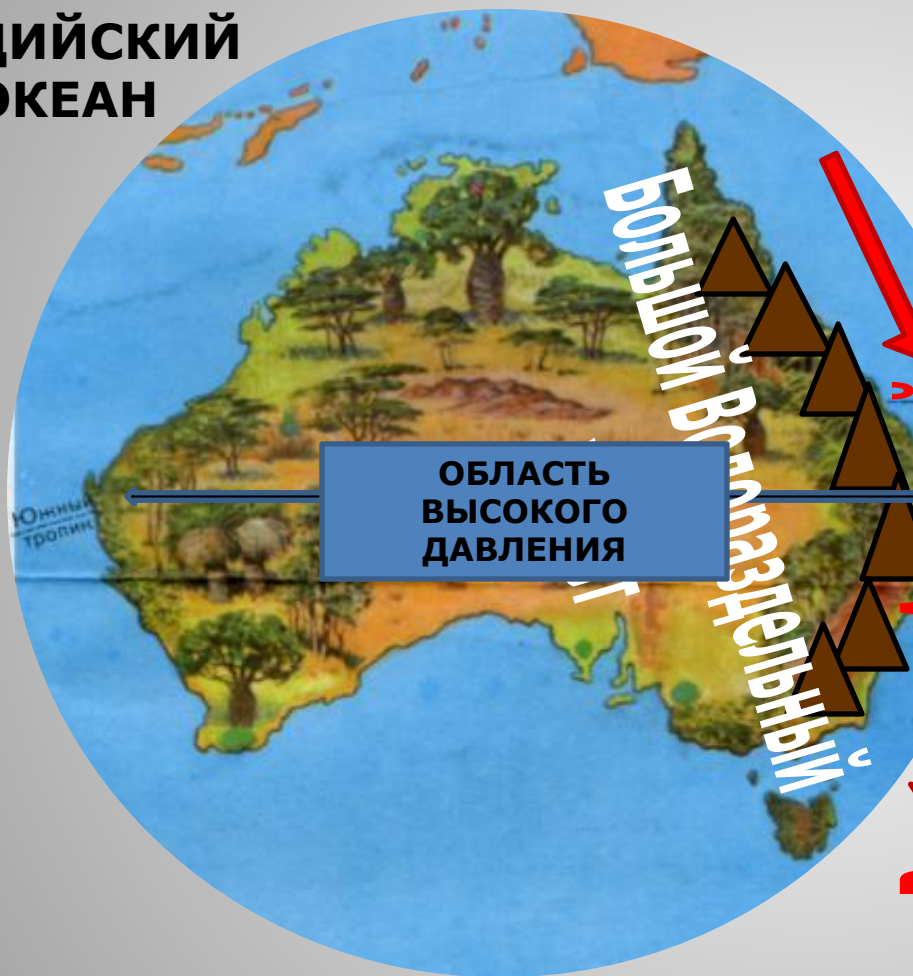


ПОЛОЖЕНИЕ АВСТРАЛИИ И АФРИКИ ПО ОТНОШЕНИЮ К ЭКВАТОРУ И ТРОПИКАМ



ФАКТОРЫ, ВЛИЯЮЩИЕ НА РАСПРЕДЕЛЕНИЕ ОСАДКОВ НА ТЕРРИТОРИИ МАТЕРИКА

ИНДИЙСКИЙ
ОКЕАН



ОБЛАСТЬ
ВЫСОКОГО
ДАВЛЕНИЯ

Большой Ветмаздрельный фронт

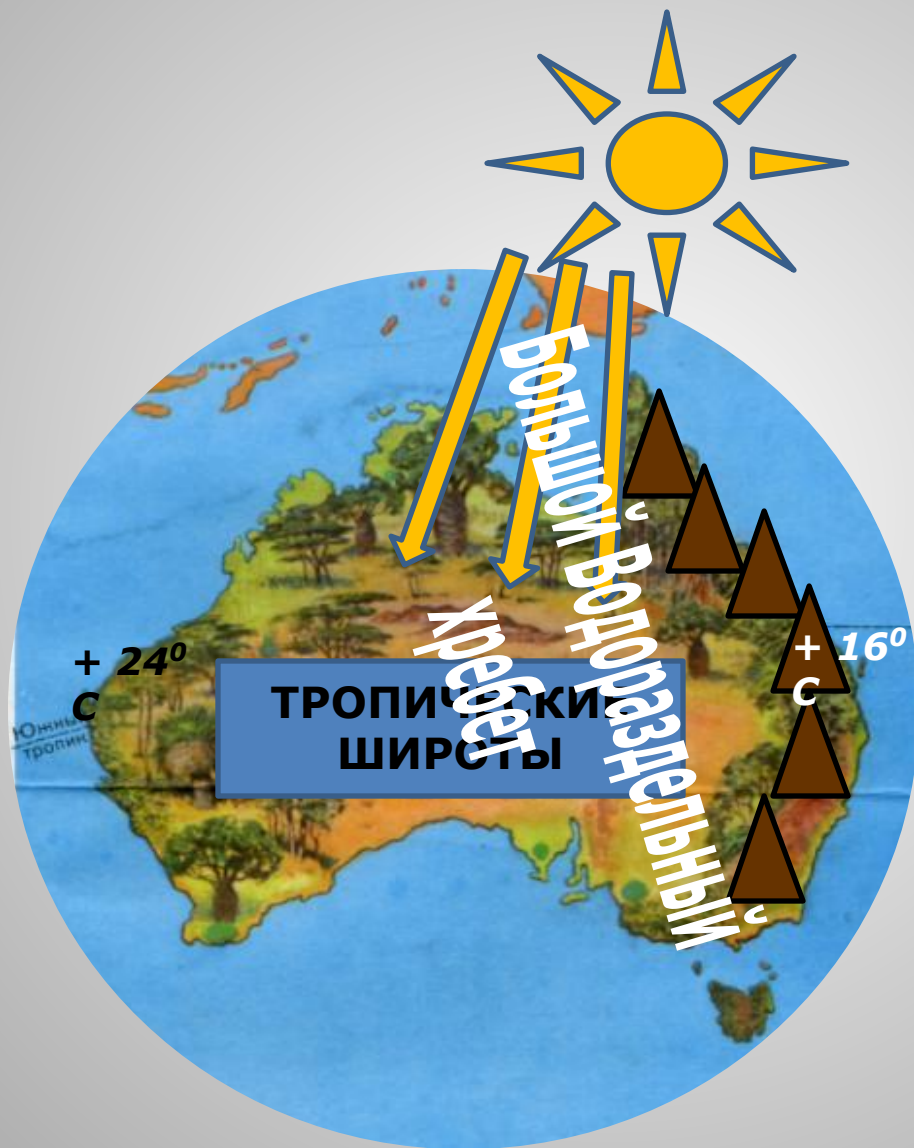
Восточно-Австралийское течение

ТИХИЙ ОКЕАН



пассаты

ФАКТОРЫ, ВЛИЯЮЩИЕ НА РАСПРЕДЕЛЕНИЕ ТЕМПЕРАТУР ПО ТЕРРИТОРИИ МАТЕРИКА



Заполнить таблицу: «От чего зависит климат Австралии?»

№ п/п	Факторы	Причины
1	Положение Австралии по отношению к экватору и тропикам.	
2	Факторы, влияющие на распределение осадков на территории материка.	
3	Факторы, влияющие на распределение температур по территории материка.	

проверка:

№ п/п	Факторы	Причины
1	Положение Австралии по отношению к экватору и тропикам.	Австралия расположена в южном полушарии, южный тропик пересекает пополам.
2	Факторы, влияющие на распределение осадков на территории материка.	Большой Водораздельный хребет мешает проникновению осадков на материк.
3	Факторы, влияющие на распределение температур по территории материка.	Лучи, падающие на материк – отвесные, поэтому температуры круглый год положительные.

В каких поясах находится Австралия?

Большая часть материка находится в тропическом поясе и имеет недостаточное увлажнение.



Заполните таблицу:
**«Характеристика климатов
Австралии»**

<i>Климатический пояс</i>	<i>Общая характеристика пояса</i>
Субэкваториальный пояс	
Тропический пояс	
Субтропический пояс	

Проверка:

<i>Климатический пояс</i>	<i>Общая характеристика пояса</i>
Субэкваториальный пояс	круглый год влажно и жарко
Тропический пояс	круглый год сухо и жарко
Субтропический пояс	лето жаркое и сухое, влажная зима

Самое влажное место Австралии - восточные склоны Большого Водораздельного хребта.







Вопросы на внимательность:

- Кто был изображён на предыдущем кадре?
- Сколько их было?
- Во что они были одеты?
- Какое это время года?

Ответьте на вопрос: Много ли рек в Австралии? Почему?



Многие реки в засушливой период пересыхают. На карте они обозначены пунктиром. Эти реки называют **крики**.





Озеро Эйр-Норт

В Австралии много озёр. Но они бессточные и большее время года без воды. Самое крупное озеро Австралии **Эйр-Норт**, оно также иногда пересыхает полностью.





Повторение: определи климат

- 1. Жарко и сухо весь год . **тропический**
- 2. Летом жарко и сухо, зимой жарко и влажно . **субтропический**
- 3. Жарко и влажно круглогодично ...
субэкваториальный

Расположите объекты на карте

Большая
Песчаная
пустыня

Центральные
низменности

Большой Водораздельный хребет

Большая пустыня
Виктория



**Самое большое озеро
Австралии называется**

А) Эйр-Норт

Б) Эйр-Корт

В) Эйр-Порт



Крики – это...

- А) разрушающиеся горы
- Б) реки, которые пересыхают в сухой сезон
- В) заброшенные колодцы



В Австралии НЕТ

А) вулканов

Б) рек

В) ледников



В Австралии лето, а у нас

А) осень

Б) весна

В) зима



Итог урока



1. На какие части по характеру рельефа можно разделить материк Австралия?

2. В каком полушарии находится Австралия?


3. Какой климат в Австралии?

Домашнее задание:

Прочитать текст, ответить на вопросы
(с. 73- 75)

Прочитать рассказ «Для любознательных»
(с. 75)



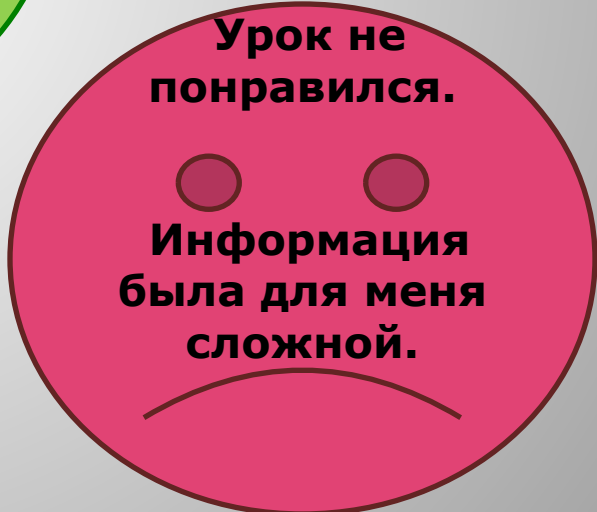


**Урок
понравился.**

**Усвоил (а)
много
информации.**



**Не все
моменты
урока
понравились.
Усвоил (а) не
весь материал.**



**Урок не
понравился.**

**Информация
была для меня
сложной.**

Использованные ресурсы

- <https://yandex.ru/images/search>
- <https://ru.wikipedia.org/wiki/>
- <http://www.putidorogi-nn.ru/avstraliya-i-okeaniya/>
- Учебник 8 класса по географии Лифановой Т.М. «География материков и океанов»