

СКАЛЯРНОЕ ПРОИЗВЕДЕНИЕ ВЕКТОРОВ

Выполнили:
учащиеся 9 «Б» класса МБОУ ЛИТ
Момот Юлия и Саврова Анастасия

Вектор – это направленный отрезок

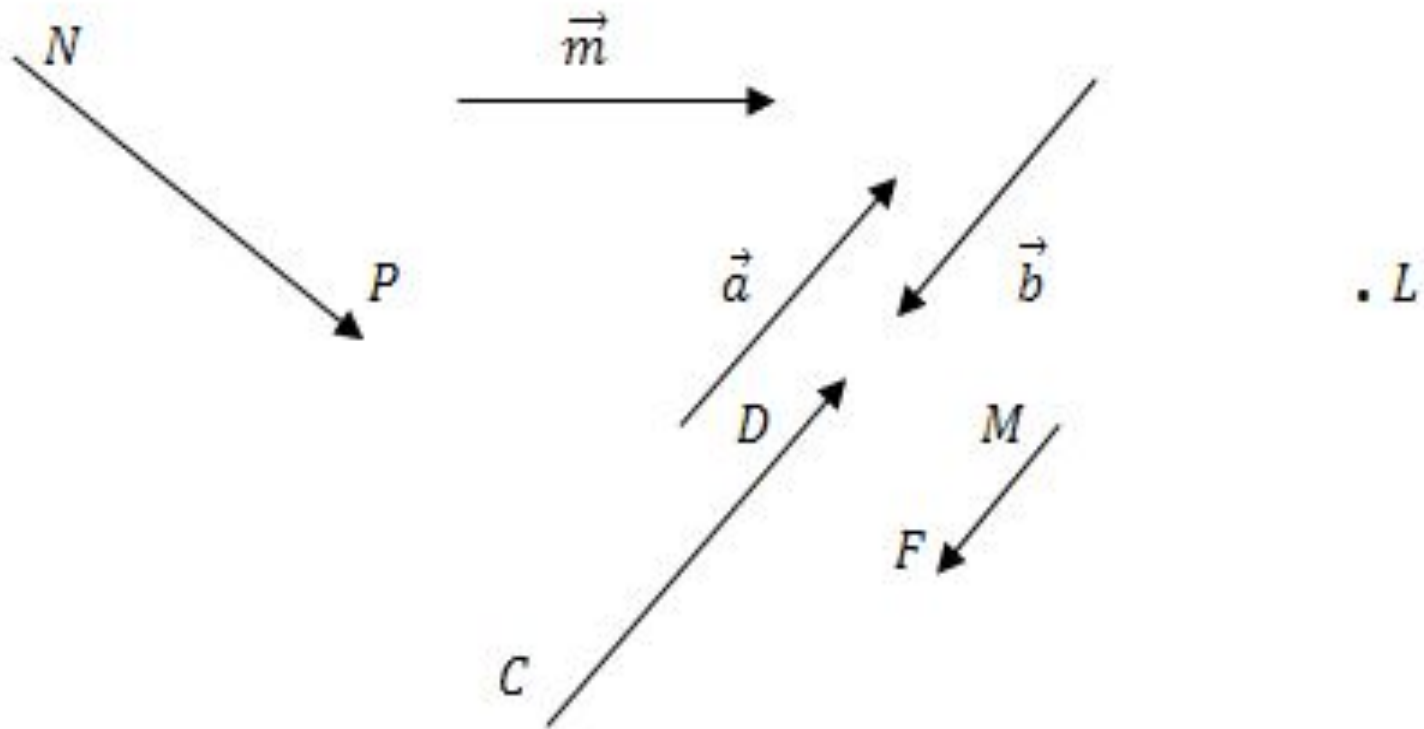
Векторы обозначают латинскими буквами \vec{a} , \vec{b} ,
а так же \overrightarrow{AB}

\vec{a} и \vec{b}

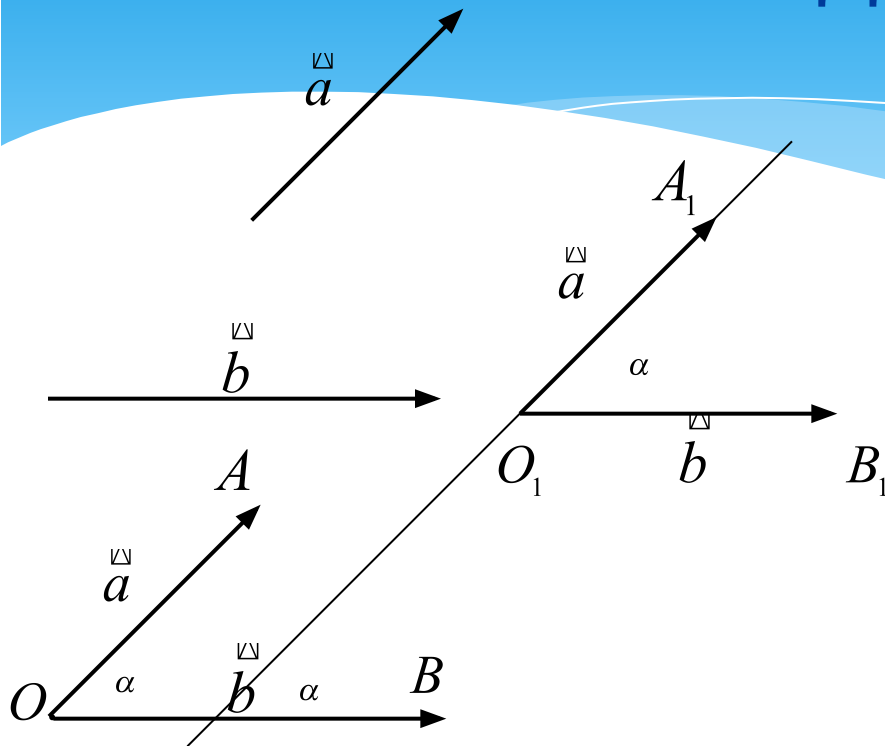
\overrightarrow{AB}

Длина вектора $a(x, y)$:

$$|\vec{a}| = \sqrt{x^2 + y^2}$$



Угол между векторами



\vec{a} и \vec{b}

$O; \vec{OA} = \vec{a}; \vec{OB} = \vec{b}$

$\angle AOB = \alpha$

α — Угол между векторами \vec{a} и \vec{b}

$\vec{a} \wedge \vec{b} = \alpha$

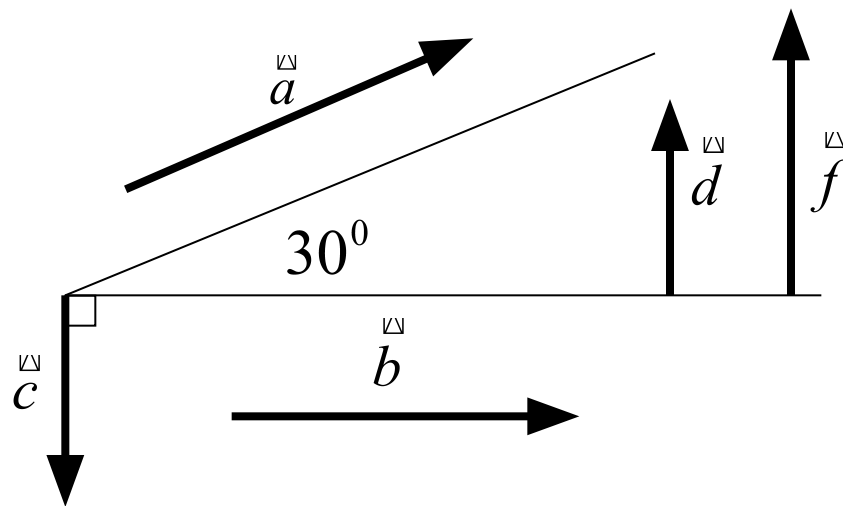
Если $\vec{a} \uparrow \vec{b}$; $\vec{a} = \vec{0}$ или $\vec{b} = \vec{0}$; $\vec{a} = \vec{0}, \vec{b} = \vec{0}$
то $\alpha = 0^\circ$
 $0^\circ \leq \alpha \leq 180^\circ$

Пример

$$\vec{a} \wedge \vec{b} = 30^\circ; \quad \vec{a} \wedge \vec{c} = 120^\circ$$

$$\vec{b} \wedge \vec{c} = 90^\circ; \quad \vec{d} \wedge \vec{f} = 0^\circ \quad \vec{d} \wedge \vec{c} = 180^\circ$$

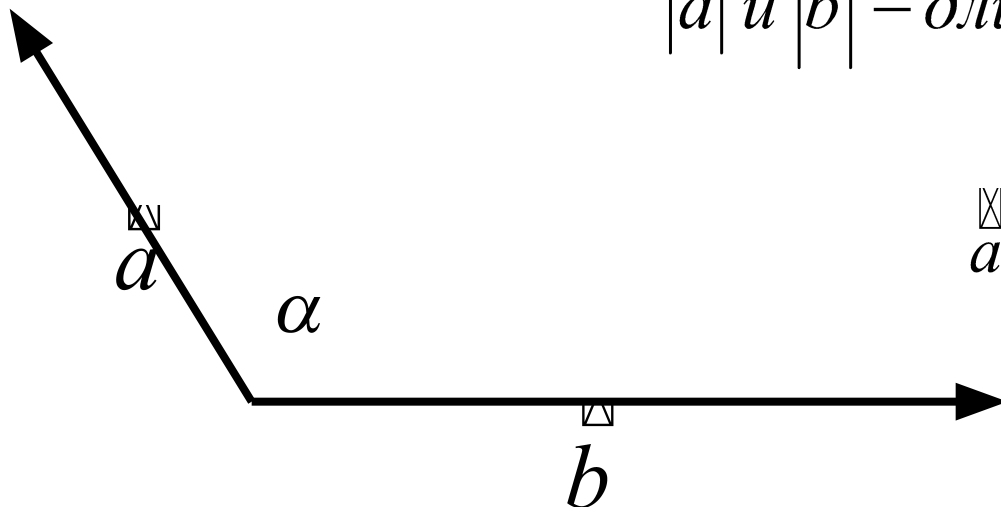
$$\vec{a} \perp \vec{b}, \text{ если } \alpha = 90^\circ$$



Скалярным произведением векторов называется произведение их длин на косинус угла между ними

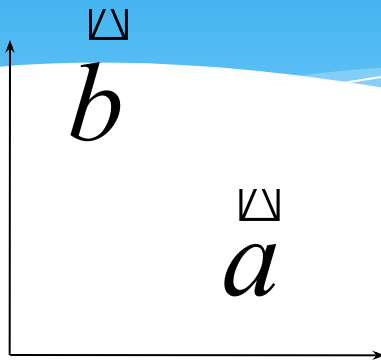
$\vec{a} \cdot \vec{b}$ – скалярное произведение векторов

$|\vec{a}|$ и $|\vec{b}|$ – длины векторов



$$\vec{a} \cdot \vec{b} = |\vec{a}| \cdot |\vec{b}| \cdot \cos(\alpha)$$

Свойства скалярного произведения:

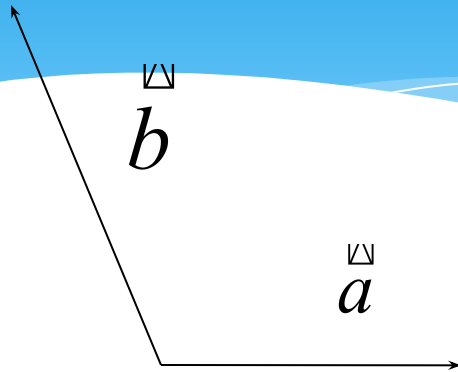


$$\vec{a} \cdot \vec{b} = 0 \Leftrightarrow \vec{a} \perp \vec{b}$$

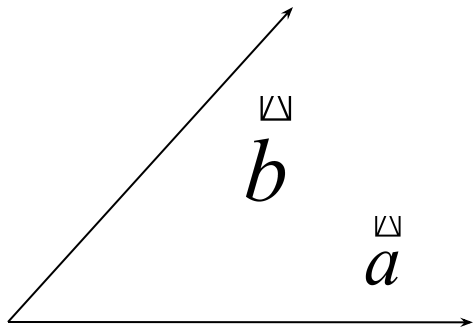
Two horizontal arrows pointing to the right. The top arrow is labeled \vec{a} and the bottom arrow is labeled \vec{b} . They are parallel and point in the same direction.

$$\vec{a} \uparrow \uparrow \vec{b} \quad \vec{a} \cdot \vec{b} = |\vec{a}| \cdot |\vec{b}| \cdot \cos 0^\circ \Rightarrow \vec{a} \cdot \vec{b} = |\vec{a}| \cdot |\vec{b}|$$

Свойства скалярного произведения:

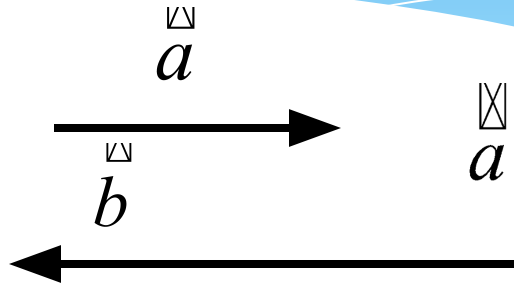


$$\left(\begin{array}{c} \vec{a} \quad \vec{b} \\ \vec{a}, \vec{b} \end{array} \right) > 90^{\circ} \implies \vec{a} \cdot \vec{b} < 0$$



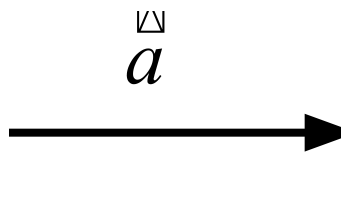
$$\left(\begin{array}{c} \vec{a} \quad \vec{b} \\ \vec{a}, \vec{b} \end{array} \right) < 90^{\circ} \implies \vec{a} \cdot \vec{b} > 0$$

Свойства скалярного произведения:



\vec{a}
 \vec{b}

$$\vec{a} \uparrow \downarrow \vec{b} \quad \vec{a} \cdot \vec{b} = |\vec{a}| \cdot |\vec{b}| \cdot \cos 180^\circ = -|\vec{a}| \cdot |\vec{b}|$$



\vec{a}

$$\vec{a} \cdot \vec{a} = a^2 \text{ — скалярный квадрат вектора}$$

$$a^2 = \vec{a} \cdot \vec{a} = |\vec{a}| \cdot |\vec{a}| \cdot \cos 0^\circ = |\vec{a}|^2$$

Упражнения:

Домашнее задание:

П.101-102

№ 1039 д,е,ж,з

№1041 в

В классе:

№1039 а,б – у доски

в,г- самостоятельно

№ 1041 а,б

№ 1040 а,б