

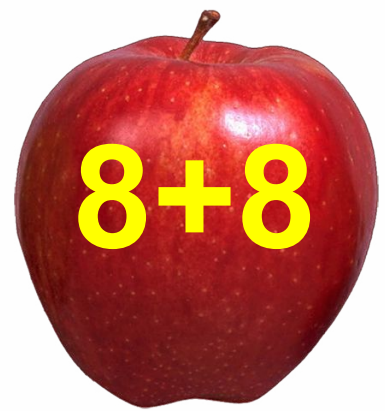

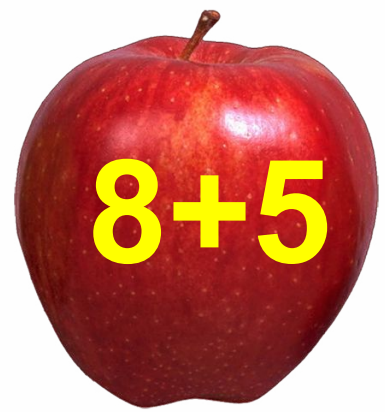
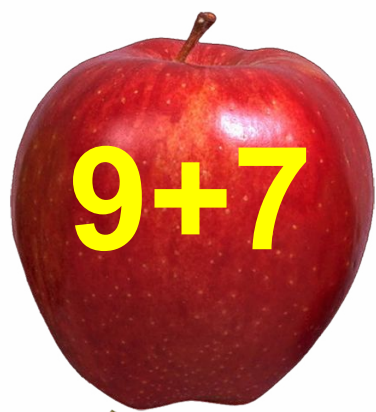
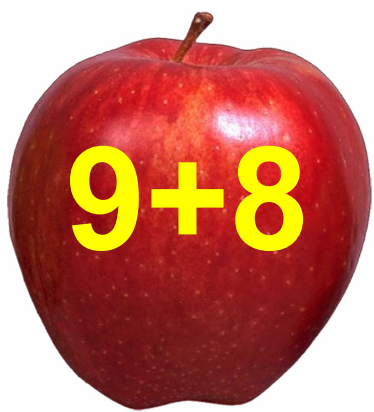
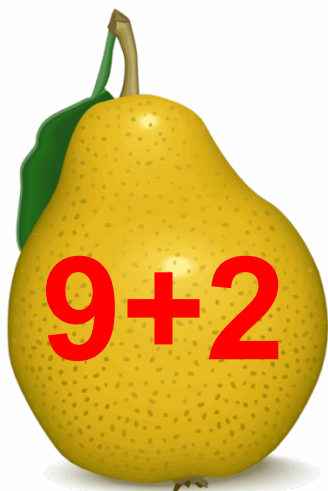


# **Закрепление знаний по теме «Табличное сложение».**

урок в 1 б классе  
7 мая

# УСТНЫЙ СЧЁТ





Соберите фрукты с ответом **16** и **13** (по вариантам).

Прочитай примеры разными способами.



$$17 - 7 = 10$$

$$5 + 10 = 15$$

С яблони собрали **20** кг яблок. Из **10** кг яблок сварили варенье, а из **5** кг яблок сделали компот. Сколько кг яблок осталось?

$$20 - 10 - 5 = 5 \text{ кг}$$



**20** кг


**5** кг



Купили **5** бубликов и **4** пирожка. А булочек столько, сколько пирожков и бубликов вместе. Сколько купили булочек?

9

$$4 + 5 = 9$$



?



5



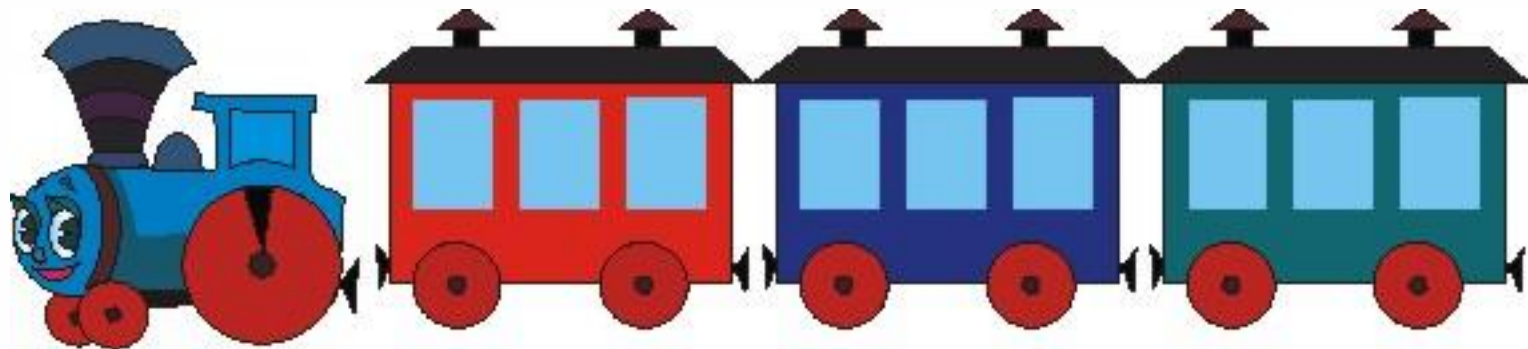
4

В начале путешествия у паровозика было **3** вагона. На следующей станции прицепили ещё **4** вагона, а потом ещё **6**. Сколько всего вагонов стало у паровозика?




**13 вагонов**

$$3 + 4 + 6 = 13$$



# РАБОТА ПО УЧЕБНИКУ







**19.** На уроке труда дети делали поздравительные открытки. Сколько всего открыток получилось, если мальчики сделали 10 открыток, а девочки — на 3 открытки меньше?

**20.** На шахматной доске осталось 5 белых фигур, а чёрных на 4 больше. Поставь вопрос так, чтобы задача решалась двумя действиями.

**21.** 19 см ○ 16 см  
10 см ○ 13 см


2 см ○ 2 дм  
1 дм ○ 13 см

**22.** Составь пять разных примеров на сложение с ответом 13.

**23.**  $2 + 8 + 5$   
 $1 + 9 + 4$

$20 - 10 - 8$   
 $11 - 1 - 7$


$6 + 4 - 9$   
 $12 - 2 + 3$



- 24.** 1) На уроке в лесной школе медведь учил белочку, как к 7 прибавить ещё 6. Какие слагаемые должна записать белочка? Какая сумма у неё должна получиться?
- 2) Ученики лесной школы на уроке решили ещё по одному примеру. Кто какой пример решал, если все ответы у них верные?



**25.** Заяц составил 7 примеров на сложение, а белка — 5 примеров на вычитание. На сколько больше примеров составил заяц, чем белка? Сколько примеров они составили вместе?



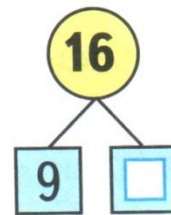
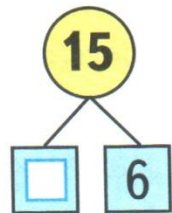
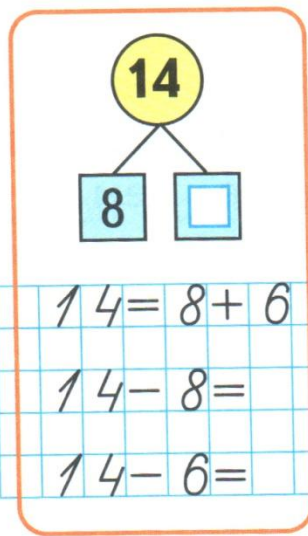


# РАБОТА В ТЕТРАДИ




Стр. 40

1



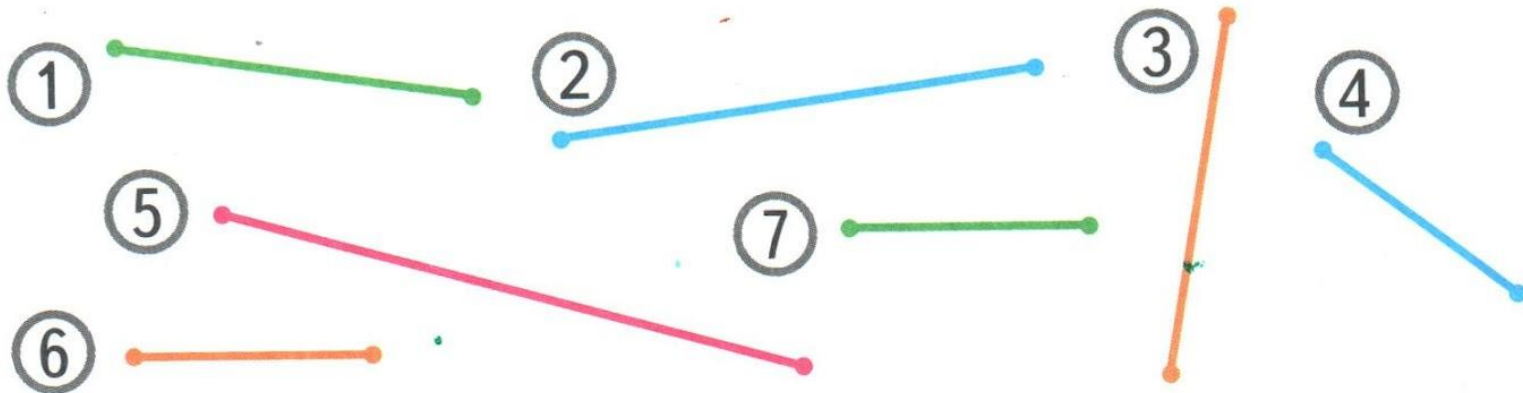
- 2 На одном причале стояло 6 яхт, а на другом — на 4 яхты больше. Сколько яхт на этих двух причалах?

Закончи схематический рисунок к задаче и реши её.






Ответ:

**3** Раскрась до измерения одним цветом кружки с номерами равных отрезков. Проверь измерением.



# ЗАДАНИЯ НА СМЕКАЛКУ






Одно яйцо варят **4** минуты. Сколько минут надо варить **6** яиц?



**4 МИН**



Сколько месяцев в году содержат **30** дней?



**Все месяцы,  
кроме февраля.**

Пара лошадей пробежала **40** км. По сколько километров пробежала каждая лошадь?



**по 40 км**



Пошли на охоту **2** сына и **2** отца. Убили **3** зайцев. Возвращаясь, каждый нёс по зайцу. Могло ли так случиться?



**Шли дед, отец и сын.**



**КОНЕЦ**

