

Решение задания №3 ГИА

- 3 Между населёнными пунктами А, В, С, D, Е построены дороги, протяжённость которых (в километрах) приведена в таблице.

	A	B	C	D	E
A		2	5	1	
B	2		1		
C	5	1		3	2
D	1		3		
E			2		

Определите длину кратчайшего пути между пунктами А и Е. Передвигаться можно только по дорогам, протяжённость которых указана в таблице.

- 1) 4 2) 5 3) 6 4) 7

С чего начать?...

3

Между населёнными пунктами А, В, С, D, Е построены дороги, протяжённость которых (в километрах) приведена в таблице.

	А	В	С	D	Е
А		2	5	1	
В	2		1		
С	5	1		3	2
D	1		3		
Е			2		

Определите длину кратчайшего пути между пунктами А и Е. Передвигаться можно только по дорогам, протяжённость которых указана в таблице.

1) 4

2) 5

3) 6

4) 7

- Вспомним, где видели аналогичную таблицу?
- *Может быть – это было расписание автобусов, электропоездов...*
- Главное – надо понимать, что из пункта А есть дороги только в пункт В, в пункт С, в пункт D. (*Была рассмотрена первая строка*)

3

Между населёнными пунктами А, В, С, D, Е построены дороги, протяжённость которых (в километрах) приведена в таблице.

	A	B	C	D	E
A		2	5	1	
B	2		1		
C	5	1		3	2
D	1		3		
E			2		

Определите длину кратчайшего пути между пунктами А и Е. Передвигаться можно только по дорогам, протяжённость которых указана в таблице.

1) 4

2) 5

3) 6

4) 7

Решать можно любым способом.

Рассуждать по таблице или

графически – построить схему дорог.

Делай сам свой выбор!

Предлагается рассмотреть графический способ.

3

Между населёнными пунктами А, В, С, D, Е построены дороги, протяжённость которых (в километрах) приведена в таблице.

	А	В	С	Д	Е
А		2	5	1	

Определите длину кратчайшего пути между пунктами А и Е. Передвигаться можно только по дорогам, протяжённость которых указана в таблице.

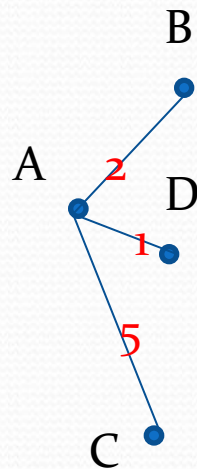
1) 4

2) 5

3) 6

4) 7

Начнем строительство дорог!!!



Рассмотрена первая строка.

Продолжим...

3

Между населёнными пунктами А, В, С, D, Е построены дороги, протяжённость которых (в километрах) приведена в таблице.

	А	В	С	Д	Е
А		2	5	1	
В	2		1		

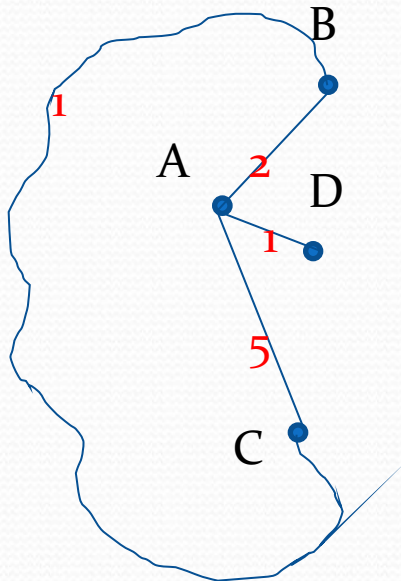
Определите длину кратчайшего пути между пунктами А и Е. Передвигаться можно только по дорогам, протяжённость которых указана в таблице.

1) 4

2) 5

3) 6

4) 7



Рассмотрена вторая строка.

Продолжим...

3

Между населёнными пунктами А, В, С, D, Е построены дороги, протяжённость которых (в километрах) приведена в таблице.

	А	В	С	D	Е
А		2	5	1	
В	2		1		
С	5	1		3	2

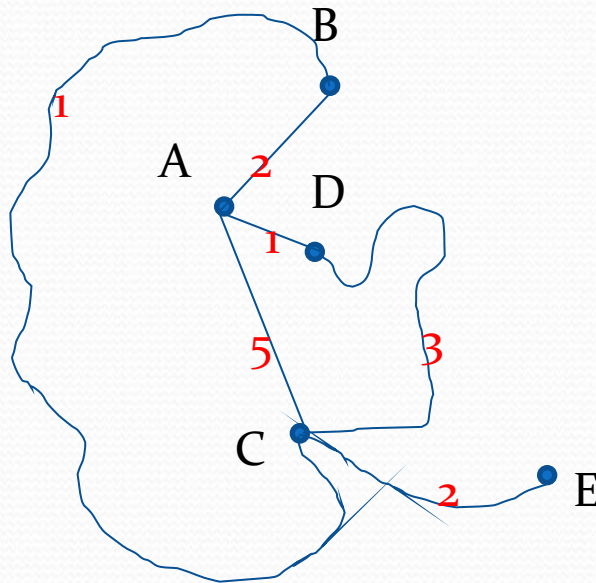
Определите длину кратчайшего пути между пунктами А и Е. Передвигаться можно только по дорогам, протяжённость которых указана в таблице.

1) 4

2) 5

3) 6

4) 7



Рассмотрена третья строка.

Продолжим...

3

Между населёнными пунктами А, В, С, D, Е построены дороги, протяжённость которых (в километрах) приведена в таблице.

	A	B	C	D	E
A		2	5	1	
B	2		1		
C	5	1		3	2
D	1		3		

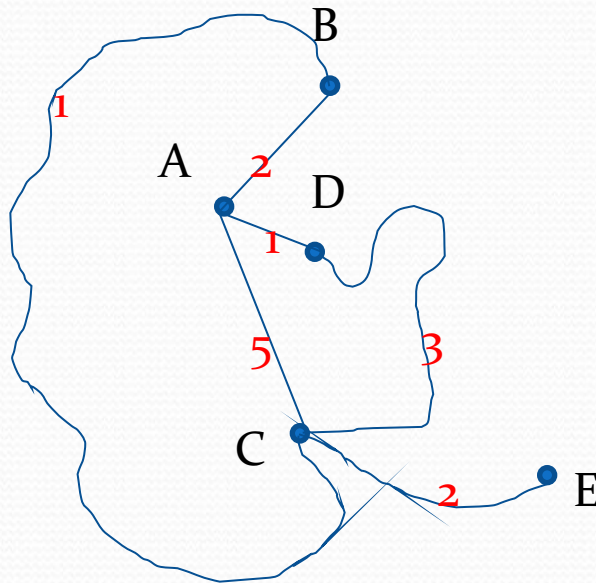
Определите длину кратчайшего пути между пунктами А и Е. Передвигаться можно только по дорогам, протяжённость которых указана в таблице.

1) 4

2) 5

3) 6

4) 7



Рассмотрим четвертую строку.
Дороги уже построены.
Продолжим...

3

Между населёнными пунктами А, В, С, D, Е построены дороги, протяжённость которых (в километрах) приведена в таблице.

	A	B	C	D	E
A		2	5	1	
B	2		1		
C	5	1		3	2
D	1		3		
E			2		

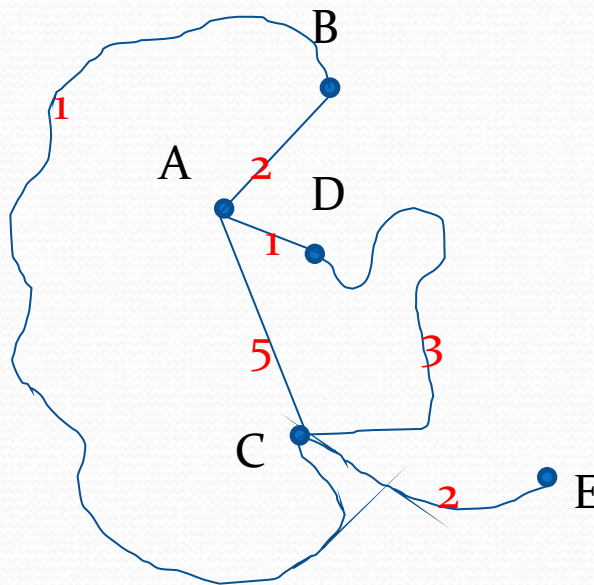
Определите длину кратчайшего пути между пунктами А и Е. Передвигаться можно только по дорогам, протяжённость которых указана в таблице.

1) 4

2) 5

3) 6

4) 7



Рассмотрим пятую строку.
Дорога от Е в С уже построена.

А вот, теперь, поехали по дорогам!

Выбираем кратчайший путь от А до Е.

3

Между населёнными пунктами А, В, С, D, Е построены дороги, протяжённость которых (в километрах) приведена в таблице.

	A	B	C	D	E
A		2	5	1	
B	2		1		
C	5	1		3	2
D	1		3		
E			2		

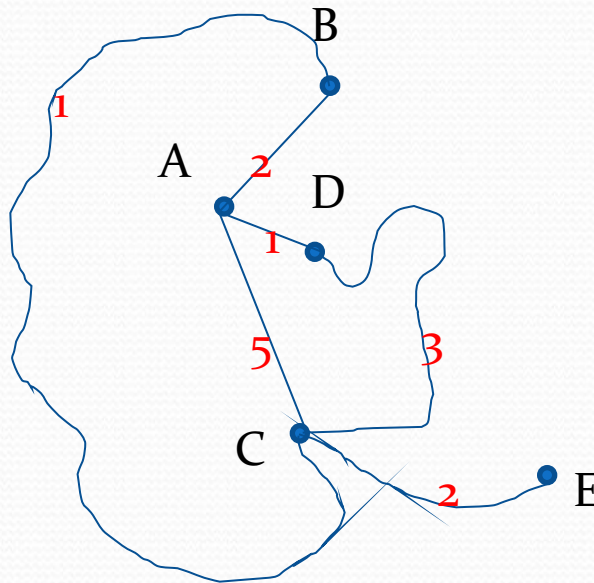
Определите длину кратчайшего пути между пунктами А и Е. Передвигаться можно только по дорогам, протяжённость которых указана в таблице.

1) 4

2) 5

3) 6

4) 7



Выбираем кратчайший путь от А до Е.

$$ACE = 5+2=7$$

$$ABCE = 2+1+2=5$$

$$ADCE = 1+3+3 = 7$$

3

Между населёнными пунктами А, В, С, D, Е построены дороги, протяжённость которых (в километрах) приведена в таблице.

	A	B	C	D	E
A		2	5	1	
B	2		1		
C	5	1		3	2
D	1		3		
E			2		

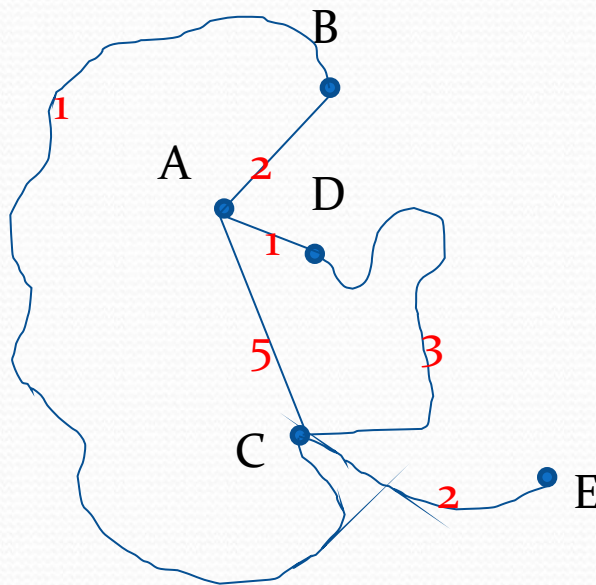
Определите длину кратчайшего пути между пунктами А и Е. Передвигаться можно только по дорогам, протяжённость которых указана в таблице.

1) 4

2) 5

3) 6

4) 7



Выбираем кратчайший путь от А до Е.

$$ACE = 5+2=7$$

$$ABCE = 2+1+2=5$$

$$ADCE = 1+3+3 = 7$$

Ответ: 2) 5

3

Между населёнными пунктами А, В, С, D, Е построены дороги, протяжённость которых (в километрах) приведена в таблице.

	А	В	С	D	Е
А		2	5	1	
В	2		1		
С	5	1		3	2
D	1		3		
Е			2		

Определите длину кратчайшего пути между пунктами А и Е. Передвигаться можно только по дорогам, протяжённость которых указана в таблице.

1) 4

2) 5

3) 6

4) 7

Как задание? Всё понятно?

Можно всё повторить сначала!

Разрешается!