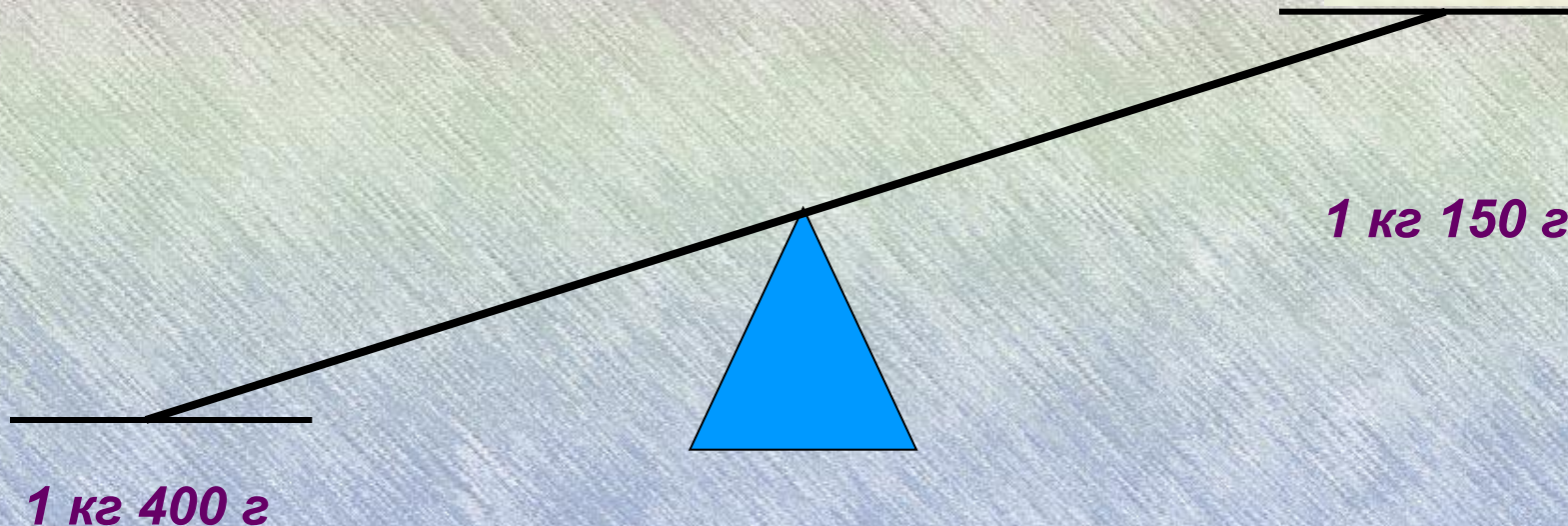



Одна чаша весов перевешивает другую. Это происходит потому, что масса на ней больше, чем на другой чаше весов, на 250 г. Узнайте, какова масса котенка, кролика и обезьянки.




Одна чаша весов перевешивает другую. Это происходит потому, что масса на ней больше, чем на другой чаше весов, на **250 г**. Узнайте, какова масса котенка, кролика и обезьянки.

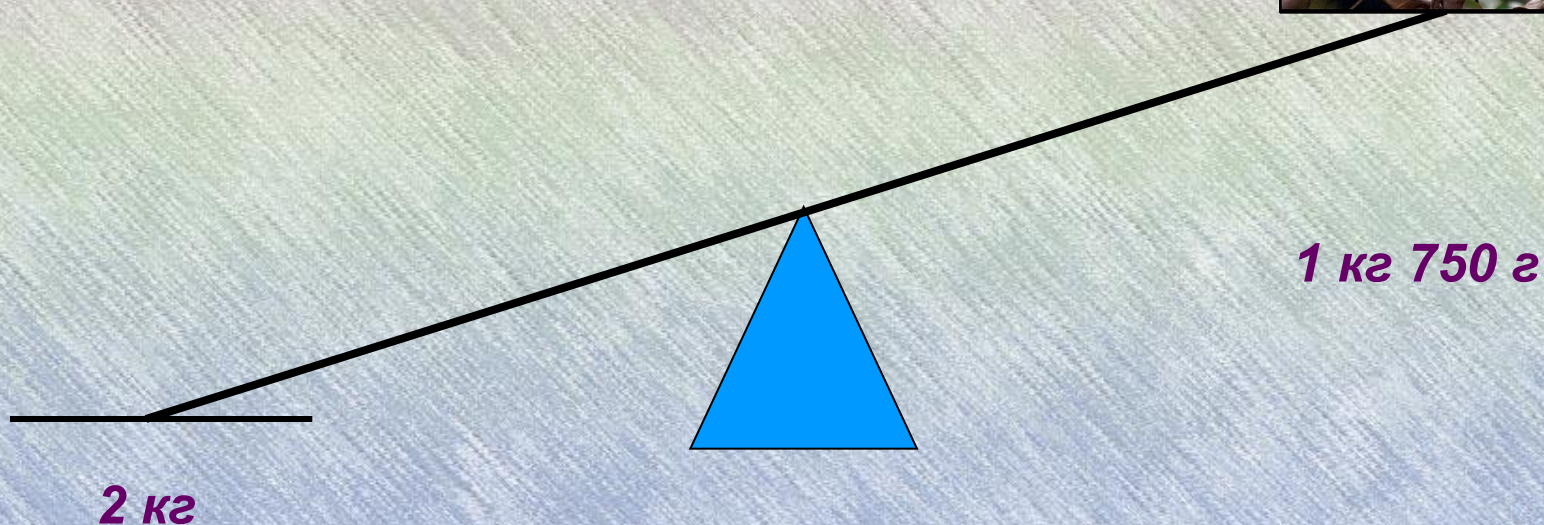


950 г

1 кг 200 г



Одна чаша весов перевешивает другую. Это происходит потому, что масса на ней больше, чем на другой чаше весов, на 250 г. Узнайте, какова масса котенка, кролика и обезьянки.

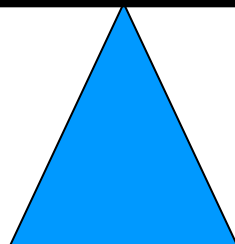


Учитывая найденные ответы и рисунок, найдите массу яблок.



2 кг 950 г

Найдите массу ананаса.



600 г