

Урок математики

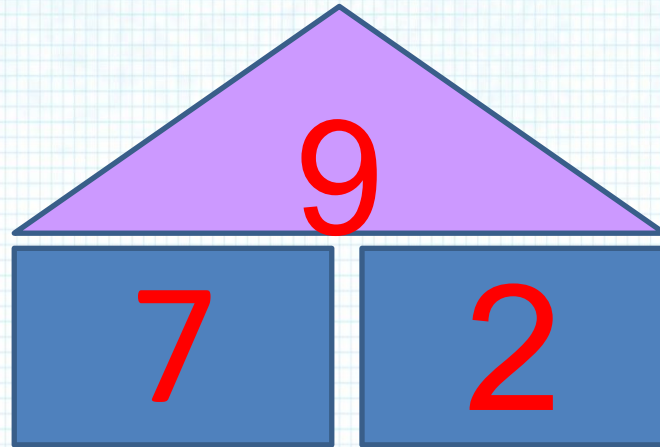
1 класс

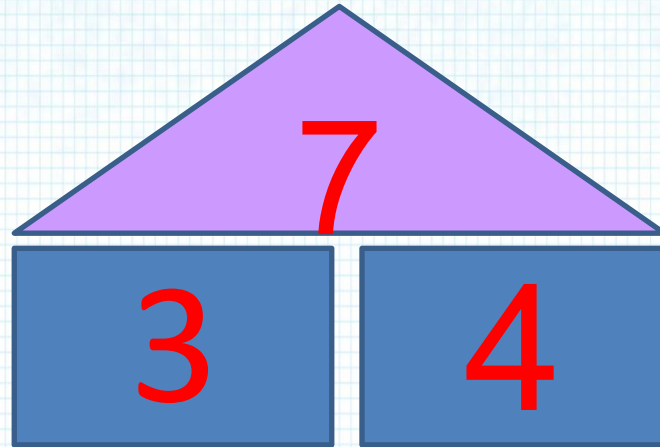
Прибавить и вычесть число 3.
Решение текстовых задач.

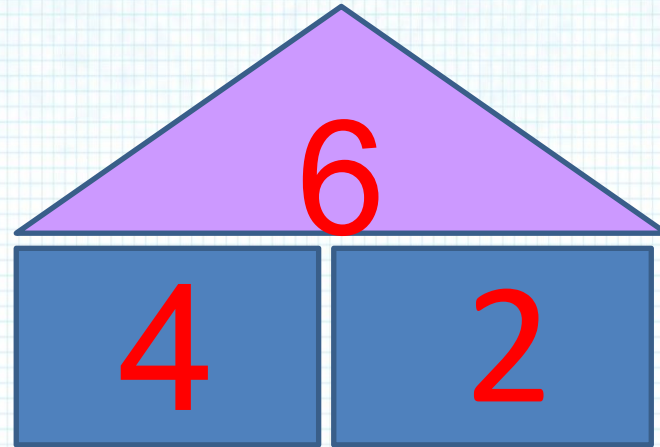


Устный счет

- Счёт в пределах 10 в прямом и обратном порядке начиная с 1, 10, через 1.
- Какое число идёт за числом: 2, 6, 9?
- Какое число идёт перед числом: 4, 8, 3?
- Какое число стоит между числами: 7 и 9, 5 и 7, 0 и 2?
- Назовите соседей числа: 3, 7.
- Как получить следующее число? (предыдущее число)







8

$$1 + 3 =$$

1

$$5 + 3 = 4$$

3

$$6 + 3 =$$

$$6 - 3 = 9$$

4

$$4 - 3 =$$

$$7 - 3 =$$

ВАСЯ СДЕЛАЛ



ХЛОПУШКИ.

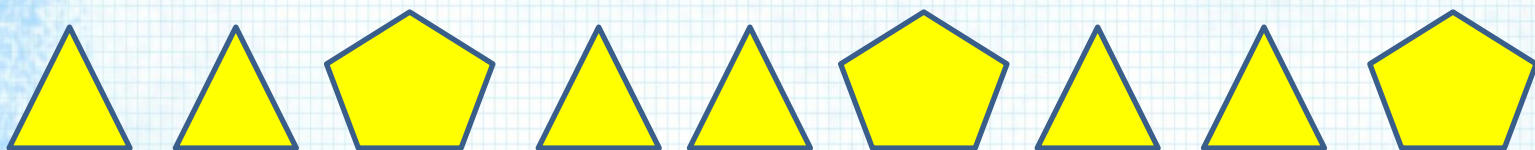


**КОЛЯ СДЕЛАЛ
ХЛОПУШКИ.**

СКОЛЬКО ВСЕГО ХЛОПУШЕК?

$$4 + 2 = 6(\text{х.})$$

Ответ: 6 х.



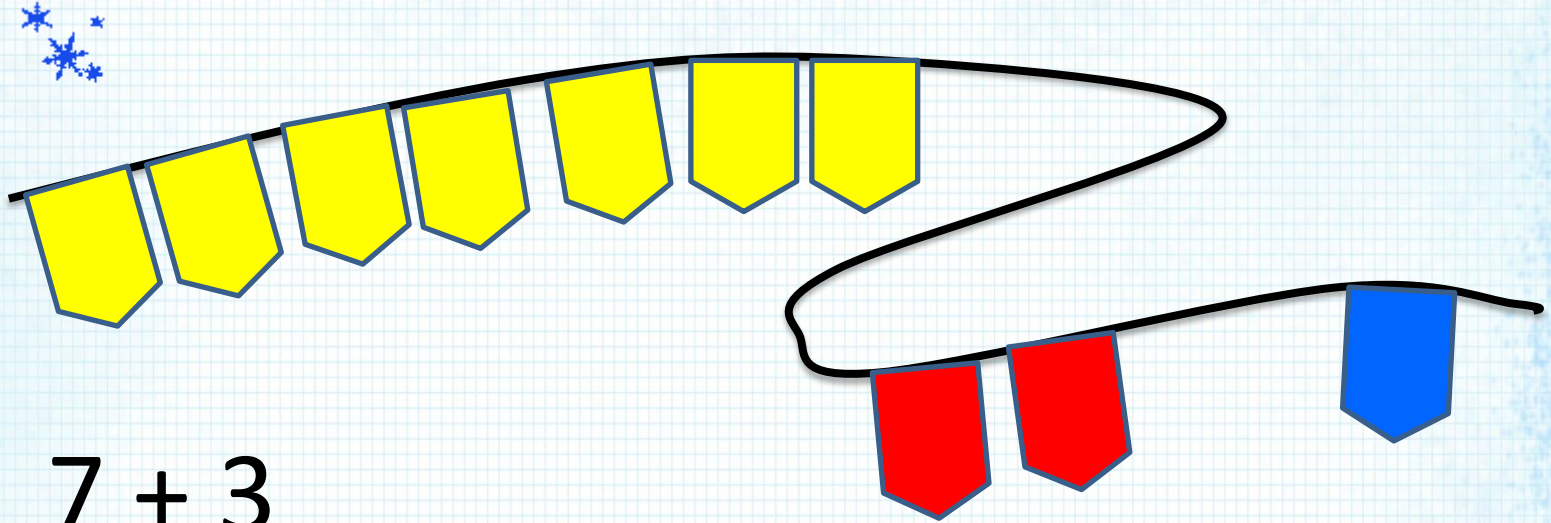
Какая фигура пропущена?



**Наступили холода.
Обернулась в лед вода.
Длинноухий зайка серый
Обернулся зайкой белым.
Перестал медведь реветь:
В спячку впал в бору медведь.
Кто скажет, кто знает,
Когда это бывает?**

Зимушка - зима

- Как получили 10?




$$\underline{7 + 3}$$

$$7 + 2 + 1 = 10$$

$$\underline{7 + 3}$$

$$7 + 1 + 2 = 10$$



6

$$\underline{6 - 3}$$

$$6 - 2 - 1 = 3$$

$$\underline{6 - 3}$$

$$6 - 1 - 2 = 3$$



Физминутка

Раз-два-три – на месте шаг,
Палки лыжные в руках.
Мы вперёд руками вертим.
Пусть по классу дует ветер!
А теперь назад покрутим,
Снова ветер делать будем.
Возле парты мы идём
И в ладоши звонко бьём.
Раз – хлопок, и два – хлопок,
И за парту сядь, дружок.



задача

условие

вопрос

решение

ответ

Варя склеила




фонариков для елки.

Юра склеил 3 фонарика.

Сколько фонариков всего?

$$5 + 3 = 8(\text{ф.})$$

Ответ: 8 ф.



Вычисли:

Увеличь на 3 каждое из этих чисел

7	2	1
10	5	4

Вычисли:

Уменьши на 3 каждое из этих чисел

10	8	3
7	5	0





**ПРОЗВЕНИ-КА, ДРУЖОК,
ГОЛОСИСТЫЙ ЗВОНОК.
ПЕРЕМЕНУ ЖДУТ РЕБЯТА,
ПОИГРАТЬ, ПОПРЫГАТЬ НАДО.**

Спасибо!