











ВПР география

6 класс

№ 5 «Природные зоны»

2018 г.



- | | | | | | |
|--|---------------------|---|-------------------------------|---|-----------------------------------|
|  | Арктические пустыни |  | Полупустыни |  | Смешанные и широколиственные леса |
|  | Тундра |  | Пустыни |  | Лесостепи |
|  | Тайга |  | Области с высотной поясностью |  | Смешанные леса |
|  | Степи | | | | |

АРКТИЧЕСКАЯ ПУСТЫНЯ



ДА ИЛИ НЕТ?

АРКТИЧЕСКАЯ ПУСТЫНЯ



ТУНДРА



ТУНДРА





Ягель



Полярная сова



Северный олень



Лемминг



Карликовая берёза



Песец

Рис. 74. Живые организмы, обитающие в тундре

ТАЙГА





Венерин башмачок



Брусника



Тигровая лилия



Рысь



Глухарь



Заяц



Бурый медведь



Ель

Рис. 75. Живые организмы, обитающие в тайге

ШИРОКОЛИСТВЕННЫЙ ЛЕС

Широколиственные леса

Деревья с широкими листовыми пластинками и твёрдой древесиной – дуб, липа, клён, ясень, бук. Господствуют в южной части лесной зоны.



ДУБ



КЛЁН



ЛИПА



Дуб



Иволга



Лесная куница



Кабан



Волк



Благородный олень

СТЕПЬ



СТЕПЬ





Суслик



Ковыль



Полынь



Сайгак



Степной орёл



Журавль-красавка



Дикий тюльпан


Рис. 77. Живые организмы, обитающие в степи

ПУСТЫНЯ



Растительный мир


Саксаул



Кактус



Эфедра



Верблюжья колючка



Песчаная акация



ЖИВОТНЫЙ МИР ПУСТЫНИ



ТУШКАНЧИК



ПЕСЧАНКИ



УШАСТЫЙ ЁЖ



САЙГАК



ЛИСИЦА-КОРСАК



БАРАН

САВАННЫ



ВЛАЖНЫЕ ЭКВАТОРИАЛЬНЫЕ ЛЕСА



• ГЕОГРАФИЧЕСКИЕ ОСОБЕННОСТИ:

- А** Устойчивый снежный покров; **2**
 - Б** Преимущественно травянистая растительность; **1**
 - В** Занимает обширные равнины Африки; **1**
 - Г** Произрастание хвойных деревьев; **2**
 - Д** Занимает территорию в пределах умеренного пояса Северного полушария; **2**
 - Е** Местообитания зебр, жирафов, антилоп; **1**
- ПРИВОДНАЯ ЗОНА: **1) Саванны и редколесья; 2) Тайга**

На какой фотографии указаны природные зоны: 1) саванны и редколесья, 2) тайга



А

ТАЙГА



Б

**САВАННЫ И
РЕДКОЛЕСЬЯ**

- А** Постоянный снежный покров в зимний период; **1**
- Б** Преобладает травянистый тип растительности; **2**
- В** Преобладание хвойных пород деревьев; **1**
- Г** Незначительное количество осадков в летний период; **2**
- Д** Является частью лесного пояса Северного полушария; **1**
- Е** Характерны плодородные почвы **2**

ПРИРОДНАЯ ЗОНА: **1) тайга; 2) степь**

На какой фотографии указаны природные
зоны: 1) ТАЙГА, 2) СТЕПЬ



А

ТАЙГА

Б

**СТЕП
Ь**

- А** Засушливый климат; 1
- Б** Преобладает древесный тип растительности; 2
- В** Сильно разреженная растительность; 1
- Г** Произрастают засухоустойчивые растения; 1
- Д** Наличие нескольких ярусов растительности; 2
- Е** Частое выпадение осадков 2

**ПРИРОДНАЯ ЗОНА: 1) ТРОПИЧЕСКАЯ ПУСТЫНЯ;
2) СМЕШАННЫЙ ЛЕС**

На какой фотографии указаны природные зоны: 1) тропическая пустыня, 2) смешанный лес



А Тропическая
пустыня



Б Смешанный
лес

- А** Сухое лето и влажная зима; **2**
- Б** Преобладает травянистый и древесный типы растительности; **2**
- В** Характерна мохово-лишайниковая растительность; **1**
- Г** Произрастают приспособленные к низким температурам растения; **1**
- Д** Встречаются злаки; **2**
- Е** Большое количество болот **1**

ПРИРОДНАЯ ЗОНА: **1) ТУНДРА; 2)**

На какой фотографии указаны природные зоны: 1) тундра, 2) лесостепь



А

Лесостепь

Б

Тундра

- А** Преобладает древесный тип растительности; 1
- Б** Наличие многоярусных лесов; 1
- В** Повышенная влажность воздуха; 1
- Г** Преобладание осадков в виде снега; 2
- Д** Наличие многолетней мерзлоты; 2
- Е** Отрицательные температуры в течение года 2

ПРИРОДНАЯ ЗОНА: **1) ВЛАЖНЫЕ
ЭКВАТОРИАЛЬНЫЕ ЛЕСА;**


2) АРКТИЧЕСКАЯ ПУСТЫНЯ

На какой фотографии указаны природные зоны:
1) влажные экваториальные леса,
2) арктическая пустыня



А

**Влажные
экваториальны
е леса**



Б

**Арктическая
пустыня**

А Преобладает древесный тип

1

Б растительности;

2

Форма кроны деревьев предназначена для

В накопления влаги;

1

Г Достаточно влаги;

2

Располагается преимущественно в

Д субэкваториальном климатическом поясе;

1

Располагается в умеренном

Е климатическом поясе;

2

Отсутствуют отрицательные температуры

в течение года

ПРИРОДНАЯ ЗОНА: **1) ШИРОКОЛИСТВЕННЫЕ ЛЕСА;**

2) САВАННЫ И РЕДКОПЕСЬЯ

На какой фотографии указаны природные зоны:
1) ШИРОКОЛИСТВЕННЫЕ ЛЕСА;
2) САВАННЫ И РЕДКОЛЕСЬЯ



А Широколиственные леса



Б Саванны и редколесья

А Разреженная травянистая
растительность;

1

Б Засушливый климат;

1

В Наличие многолетней мерзлоты;

2

Г Редкая древесная растительность;

2

Д Заболоченность территории;

2

Е Дуют суховеи

1

ПРИРОДНАЯ ЗОНА: **1) ПОЛУПУСТЫНЯ;**
2) ЛЕСОТУНДРА

На какой фотографии указаны природные зоны: 1) полупустыня; 2) лесотундра



А

Полупустыня



Б

Лесотундра

А Наличие морозного периода;

2

Б Преобладают хвойные породы

2

В деревьев;

1

Произрастают только лиственные

Г породы деревьев;

2

Д Встречается многолетняя мерзлота;

1

Е Густая лиственная растительность;

1

Регулярные осадки только в виде

дождя

ПРИРОДНАЯ ЗОНА: **1) ВЛАЖНЫЕ
ЭКВАТОРИАЛЬНЫЕ ЛЕСА;**

2) ТАЙГА

На какой фотографии указаны природные
зоны: 1) влажные экваториальные леса; 2)
тайга



А

**Влажные
экваториальные
леса**



Б

Тайга

А Черноземные почвы;

2

Б Преобладание трав, в том числе

2

В злаков;

2

Г Характерны суховеи;

1

Произрастают преимущественно мхи

Д и лишайники;

1

Е непригодна для земледелия;

1

Является естественным пастбищем

для оленей

ПРИРОДНАЯ ЗОНА: **1) тундра,** **2) степь**

На какой фотографии указаны природные зоны: 1) тундра; 2) степь



А Тундра

Б Степь

А Много влаги;

1

Б Полностью располагается в умеренном климатическом поясе;

2

В Может встречаться многолетняя мерзлота;

1

Г Произрастают отдельные хвойные деревья;

1

Д Характерны плодородные почвы;

2

Е Произрастают лиственные породы деревьев

2

ПРИРОДНАЯ ЗОНА: **1) лесотундра, 2)**

На какой фотографии указаны природные зоны: 1) лесотундра; 2) лесостепь



А Лесотунд
ра



Б Лесостеп
ь

А Отрицательные температуры в течение круглого года;

2

Б Расположены в высоких широтах;

2

В Высокое положение солнца над горизонтом;

1

Г Характерен полярный день;

2

Д Встречаются засухоустойчивые

1

Е растения;

1

Практически полное отсутствие воды
ПРИРОДНАЯ ЗОНА: **1) тропические
пустыни;**

2) арктические пустыни

На какой фотографии указаны природные зоны: 1) тропические пустыни; 2) арктические пустыни



А Тропические пустыни



Б Арктические пустыни