

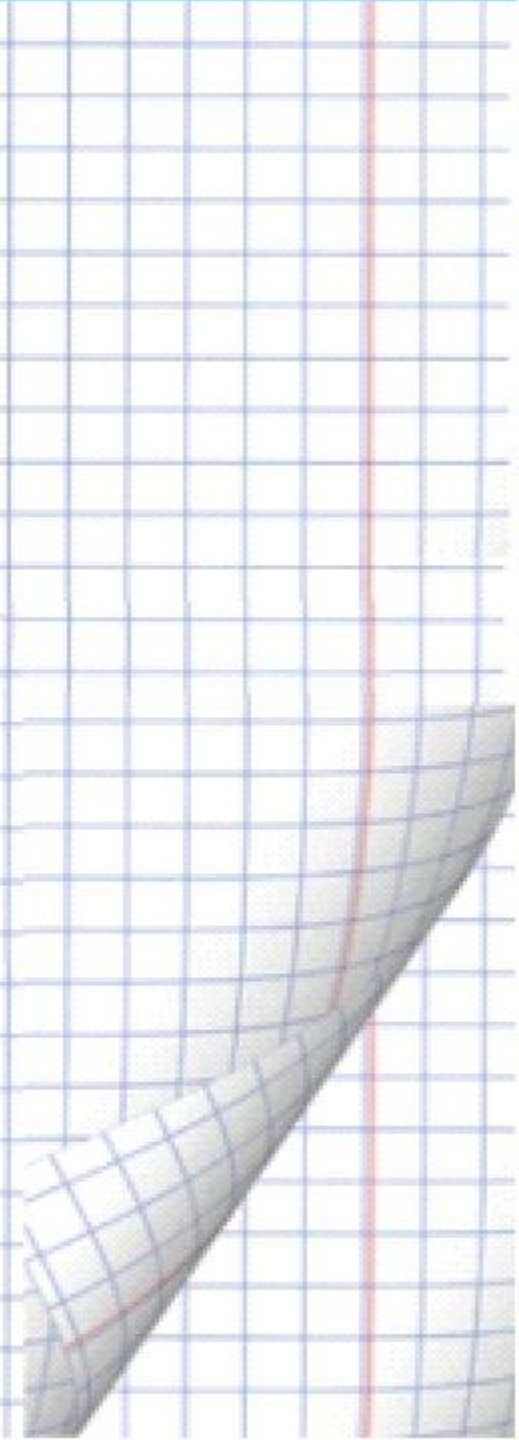
72:12

60:15

96:16

84:14

64:16



$$17 \times 5$$

$$26 \times 4$$

$$29 \times 3$$

$$53 \times 4$$

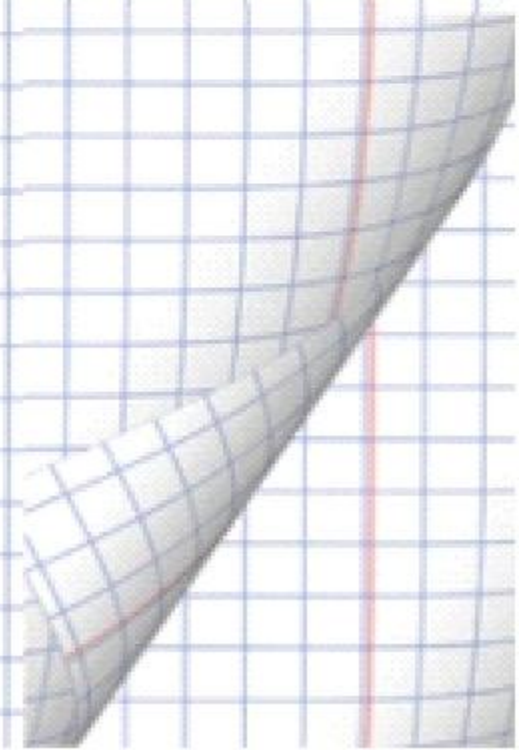
$$27 \times 4$$

$$39 \times 3$$

$$45 \times 2$$

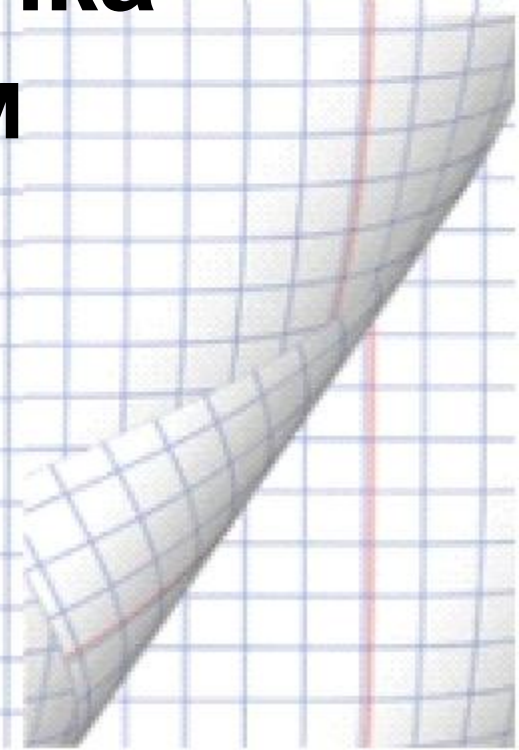
$$16 \times 6$$

$$28 \times 4$$

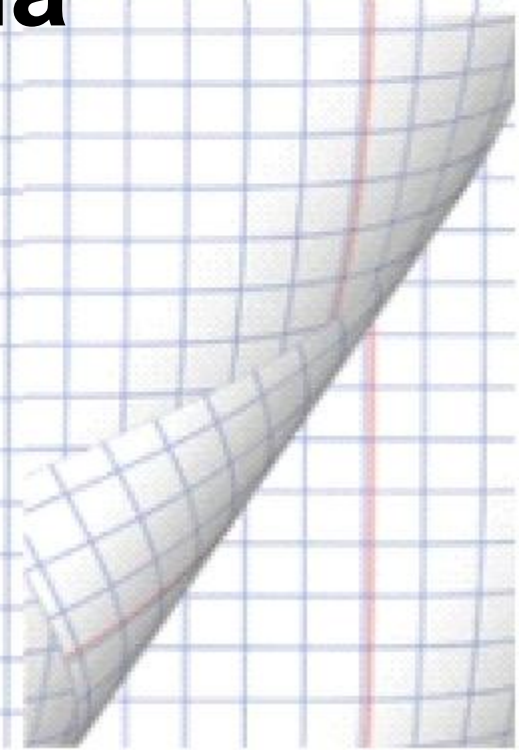


**Шоколадка стоит 90 рублей,
а пачка печенья в 5 раз
дешевле.**

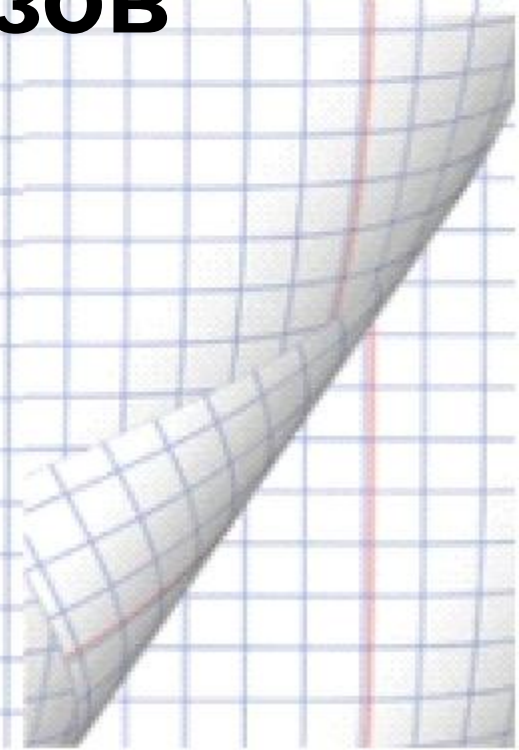
**На сколько рублей пачка
печенья дешевле, чем
шоколад?**



**Ручка стоит 18 рублей, а
карандаш в 3 раза дешевле.
Сколько рублей должна
заплатить Ира, если она
купила 4 ручки и 5
карандашей?**



**В магазин привезли 70
арбузов. До обеда продали
13 арбузов,
а после обеда в 3 раза
больше. Сколько арбузов
осталось в магазине к
вечеру?**



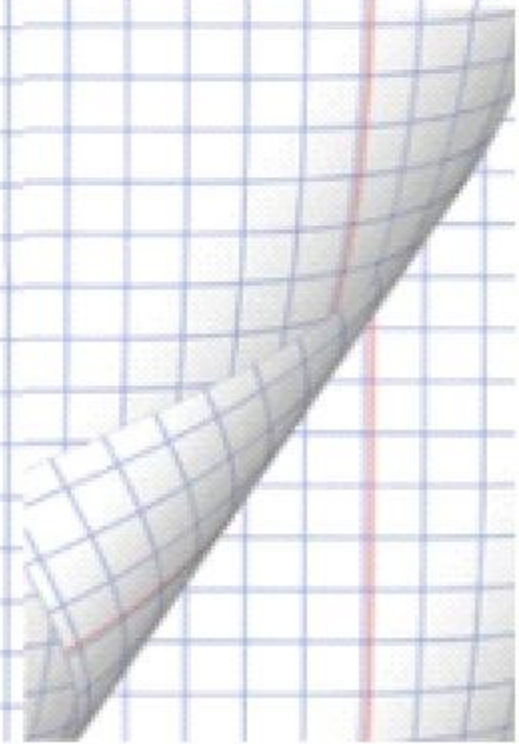
Расположи числа в порядке возрастания:

389, 709, 327, 800, 980, 398

Замени суммой разрядных слагаемых.



**Начерти прямоугольник,
ширина которого 4 см, а
длина на 7 см больше. Найди
площадь и периметр.**



1ч 35мин=...мин

2нед 3 дня=... дней

2м 3см=...см

4см 7мм= ... мм

1км =... м

1год 2 мес= ... мес

