




Высота Троицкой башни 80 м, высота Кутафьей башни  $13\frac{5}{10}$  м, а


Средней Арсенальной  $38\frac{9}{10}$  м.

На сколько метров Троицкая башня выше, чем Кутафья и Арсенальная вместе?


Троицкая



Кутафья



Средняя Арсенальная



## Самостоятельная работа:

№ 1

Выполните сложение:

а)  $4\frac{5}{17} + \frac{8}{17}$ ;

в)  $13 + 12\frac{11}{12}$ ;

д)  $3\frac{12}{23} + 4\frac{11}{23}$ ;

б)  $3\frac{5}{21} + 4\frac{8}{21}$ ;

г)  $9\frac{5}{6} + 7$ ;

е)  $7\frac{15}{19} + 4\frac{14}{19}$ .

№ 2

Выполните вычитание:

а)  $9\frac{11}{12} - 3\frac{10}{12}$ ;

в)  $11 - \frac{5}{18}$ ;

д)  $8\frac{3}{17} - 4\frac{11}{17}$ ;

б)  $9\frac{11}{15} - 4$ ;

г)  $21 - 8\frac{7}{15}$ ;

е)  $10\frac{15}{16} - 3\frac{15}{16}$ .