

**Математика**  
**17.04.2020**

**ЗАДАЧА**

**УСЛОВИЕ**

**ВОПРОС**

**РЕШЕНИЕ**

**ОТВЕТ**

# ТИПЫ ПРОСТЫХ ЗАДАЧ

► Задачи на нахождение суммы

Б. - 3 лв.  
Р. - 2 лв. } ? лв.

Было - 4 п.  
Привезли - 3 п.  
Стало - ? п.

► Задачи на нахождение остатка

Было - 8 п.  
Продали - 3 п.  
Осталось - ? п.

► Задачи на увеличение и уменьшение нескольких единиц

Б. - 5 п.  
М. - ?, на 2 п. >

Н. - 5 п.  
А. - ?, на 2 п. <

► Задачи на разностное сравнение

В. - 5 т.  
М. - 2 т. } на ? т. > или на ? т. <

► Задачи на нахождение неизвестного слагаемого

Было - 6 с.  
Купила - ? с.  
Стало - 10 с.

Кр. - 4 р.  
Ф. - ? р. } 6 р.

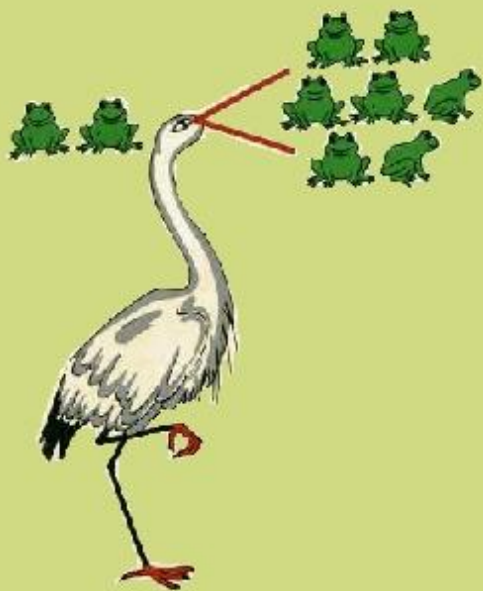
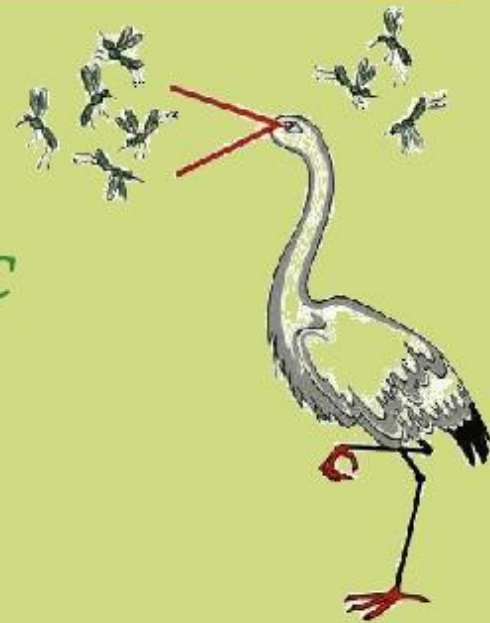
► Задачи на нахождение неизвестного уменьшаемого

Было - ? р.  
Срезали - 4 р.  
Ост. - 3 р.

► Задачи на нахождение неизвестного вычитаемого

Было - 7 р.  
Срезали - ? р.  
Ост. - 3 р.

# Урок по математике 1 класс



## Задача на разностное сравнение



Ответ: 5 ушей.

16 апреля.

Классная работа.

123 123

456 456

789 789

## Задачи на разностное сравнение


Вите 7 лет, Лене – 10 лет. На сколько лет Лена старше Вити?

В.- 7л.     )  
Л. – 10л.   ) на ? л.

$$10-7=3(\text{г.})$$

Ответ: на 3 года Лена старше Вити.

Чтобы узнать на сколько  
одно число больше или  
меньше другого –  
надо из большего вычесть  
меньшее.



$$5 - 2 = 3$$



1. На грядке выросло 4 кабачка и 6 патиссонов. Чего выросло больше и на сколько больше?



1. На грядке выросло 4 кабачка и 6 патиссонов. Чего выросло больше и на сколько больше?

1. На грядке выросло 4 кабачка и 6 патиссонов. Чего выросло больше и на сколько больше?

16 апреля.  
Классная работа.

123 123

456 456

789 789

1.

Кабачки -  
Патиссоны -



Страна. 3 года.

16 апреля.

Классная работа.

123 123

456 456

789 789

1.

Кабачки - 4 шт.

Патиссоны - 6 шт.

на ? шт. больше



16 апреля.

Классная работа.

123 123

456 456

789 789

1.

Кабачки - 4 шт

Патиссоны - 6 шт.

на ? шт. больше

$$6 - 4 = 2 \text{ (шт.)}$$



16 апреля.  
Классная работа.

123 123

456 456

789 789

1.

Кабачки - 4 шт

Патиссоны - 6 шт.

на ? шт. больше

$$6 - 4 = 2 \text{ (шт.)}$$

Ответ: на 2 патиссона больше.

2. Мама сорвала 8 красных помидоров и 10 жёлтых. На сколько больше жёлтых, чем красных помидоров сорвала мама?

2. Мама сорвала 8 красных помидоров и 10 жёлтых. На сколько больше жёлтых, чем красных помидоров сорвала мама?



2. Мама сорвала 8 красных помидоров и 10 жёлтых. На сколько больше жёлтых, чем красных помидоров сорвала мама?

16 апреля.  
Классная работа.

123 123

456 456

789 789

1.

Кабачки - 4 шт }  
Патиссоны - 6 шт } на ? шт. больше

$$6 - 4 = 2 \text{ (шт.)}$$

Ответ: на 2 патиссона больше

2.

Красных -  
Жёлтых -

16 апреля.  
Классная работа.

123 123

456 456

789 789

1.

Кабачки - 4 шт

Патиссоны - 6 шт.

на ? шт. больше

$$6 - 4 = 2 \text{ (шт.)}$$

Ответ: на 2 патиссона больше.

2.

Красных - 8 п.

Жёлтых - 10 п.



16 апреля.

## Классная работа.

123 123

456 456

789 789

1.

Кабачки - 4 шт  
Патиссоны - 6 шт

на ? шт. больше

$$6 - 4 = 2 \text{ (шт.)}$$

Ответ: на 2 патиссона больше.

2.

Красных - 8 п.  
Жёлтых - 10 п.

на ? п. больше



2.

Красных - 8 п.


Жёлтых - 10 п.

на ? п. больше

$$10 - 8 = 2 \text{ (п.)}$$

Ответ: на 2 патиссона больше.

2.

Красных - 8 п.  
Жёлтых - 10 п.  на ? п. больше

$$10 - 8 = 2 \text{ (п.)}$$


Ответ: на 2 помидора больше.



6 - 4 = 2 (шт.)

Ответ: на 2 патиссона больше.

2.

Красных - 8 п.  
Жёлтых - 10 п.  на ? п. больше

10 - 8 = 2 (п.)

Ответ: на 2 помидора больше.

3.



3. В вазе помещается или 7 яблок, или 10 груш. На сколько меньше яблок, чем груш помещается в вазе?

3. В вазе помещается или 7 яблок, или 10 груш. На сколько меньше яблок, чем груш помещается в вазе?

3. В вазе помещается или 7  
яблоков, или 10 груш. На  
сколько меньше яблок, чем груш  
помещается в вазе?



Добок -

Трун -

Дюлек - 7 шт.

Труны - 10 шт.



Яблок - 7 шт.

Груши - 10 шт.

на ? шт. меньше



Яблок - 7 шт.

Груш - 10 шт.

$$10 - 7 = 3 \text{ (шт.)}$$

на ? шт. меньше

Яблок - 7 шт.

Груш - 10 шт.

$$10 - 7 = 3 \text{ (шт.)}$$

Ответ: на 3 яблока меньше.

на ? шт. меньше



Ответ: 5 ушей.

16 апреля.

Классная работа.

123 123

456 456

789 789

1.

Кабачки - 4 шт

Патиссоны - 6 шт

на ? шт. больше

$$6 - 4 = 2 \text{ (шт.)}$$

Ответ: на 2 патиссона больше.

2.

Красных - 8 п.

Желтых - 10 п.

на ? п. больше

$$10 - 8 = 2 \text{ (п.)}$$

Ответ: на 2 помидора больше.

3.

Яблок - 7 шт.

Груш - 10 шт.

на ? шт. меньше

$$10 - 7 = 3 \text{ (шт.)}$$

Ответ: на 3 яблока меньше.



# Домашнее задание по математике

## 17.04.2020.

1. Состав числа в пределах 10;
2. Компоненты задачи знать;
3. Учимся различать задачи по типам.
4. Решить задачи на разностное сравнение:
  - 1) Весной посадили 2 ведра картошки, а осенью собрали 10 вёдер. На сколько больше вёдер собрали, чем посадили?
  - 2) На зиму заготовили 9 банок яблочного сока и 7 банок виноградного. На сколько меньше виноградного сока, чем яблочного, заготовили на зиму?
5. Учебник стр. 89 №4

Памятка по оформлению краткой записи к задачам.

<p>Аня вымыла 5 тарелок, а Дима вымыл 3 тарелки.  <u>Сколько всего</u> тарелок вымыли дети?</p> <p><b>А. – 5 т.</b>  <b>Д. – 3 т.</b> } ?  <b><math>5+3=8</math> (т.)</b>  <b>Ответ. 8 тарелок вымыли дети.</b></p>	<p>У Васи 7 марок, а у Егора <u>на 3 марки больше</u>.          Сколько марок у Егора?</p> <p><b>В. – 7 м.</b>  <b>Е. – ? на 3 м. больше</b> ←  <b><math>7+3=10</math> (м.)</b>  <b>Ответ. 10 марок у Егора.</b></p>	<p>У Нади 7 конфет, а у Зины <u>на 3 конфеты меньше</u>.          Сколько конфет у Зины?</p> <p><b>Н. – 7 к.</b>  <b>З. – ? на 3 к. меньше</b> ←  <b><math>7-3=4</math> (к.)</b>  <b>Ответ. 4 конфеты у Зины.</b></p>
<p>Один мальчик поймал 8 крабов, а другой 3 краба.  <u>На сколько</u> крабов первый мальчик поймал больше (<math>\gg</math>) / меньше (<math>\ll</math>) второго?</p> <p><b>I М. – 8 к.</b> ←  <b>II М. – 3 к.</b> ← } на сколько <math>&gt;?</math>  <b><math>8-3=5</math> (к.)</b>  <b>Ответ. на 5 крабов первый мальчик поймал больше, чем второй.</b></p>	<p>На проводах сидели (было) 9 ворон. 5 ворон улетели. Сколько ворон <u>осталось</u>?</p> <p><b>Было – 9 в.</b>  <b>Улетели – 5 в.</b>  <b>Осталось – ?</b>  <b><math>9-5=4</math> (в.)</b>  <b>Ответ. 4 вороны осталось.</b></p>	<p>У Ани было 9 роз. 5 красных, остальные белые.          Сколько белых роз было у Ани?</p> <p><b>К. – 5 р.</b> }  <b>Б. – ? р.</b> } 9 р.  <b><math>9-5=4</math> (р.)</b>  <b>Ответ. 4 белые розы у Ани.</b></p>