



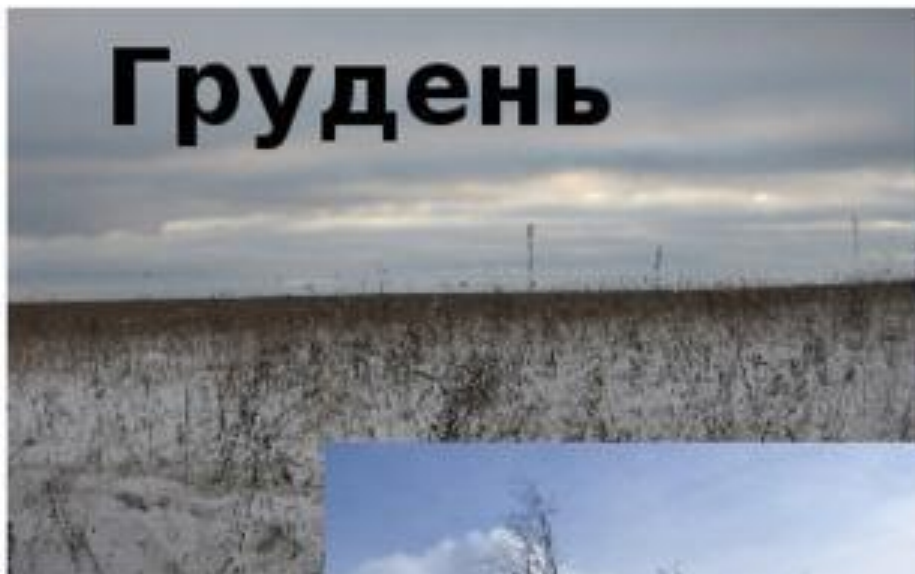
Які прикмети у зими?





Зимові місяці

Грудень



Січень



Лютий





Грудень

12



Січень


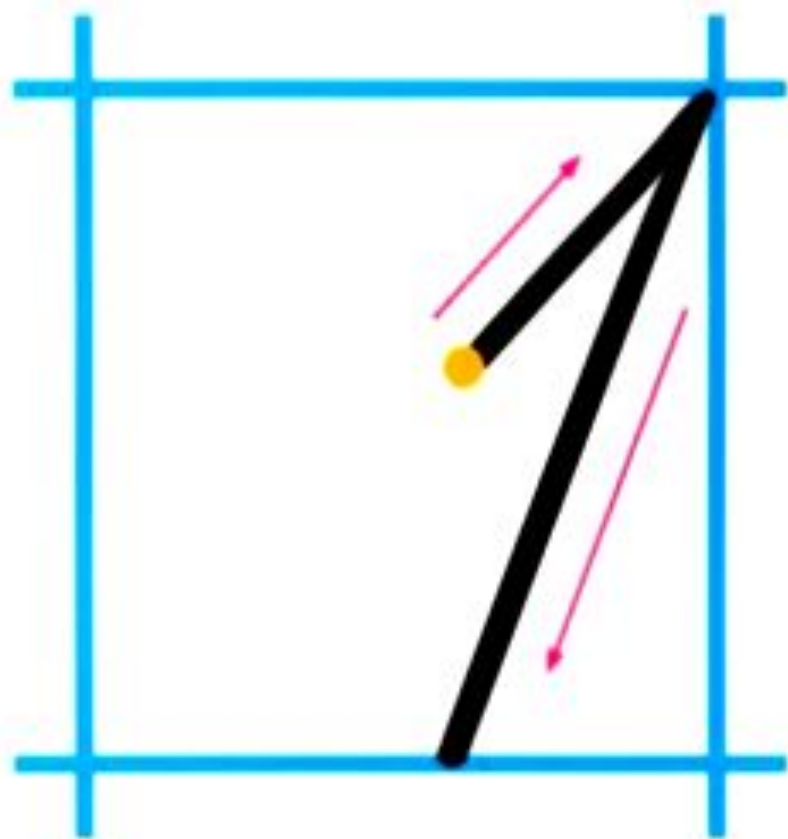
1



Лютий

2

Каліграфічна запиши по рядку цих цифр.
Найкращу - обведи.



Математичний диктант

1. Знайти суму двох доданків 10 і 10

$$10+10=20$$

2. Знайти різницю двох чисел 12 і 3

$$12-3 = 9$$

3. Записати число на 1 менше, ніж 49

$$49-1= 48$$

4. Записати число на 1 більше, ніж 49

$$49+1=50$$

5. Записати сусідів числа 88

87 і 89

6. 17 зменшити на 9

$$17-9=8$$

7. 24 збільшити на 1

$$24+1=25$$

Тема уроку: “Зв’язок дій множення і ділення”

Правило: з кожного виразу на множення двох різних множників можна скласти два вирази на ділення. Якщо добуток поділити на один з множників, то дістанемо другий множник.

Задача №472

- Що посіяли на трьох однакових ділянках ?



Домашнє завдання

С. 76, завдання 474; 475.