

Задание для контрольной работы


МИРОВАЯ ЭКОНОМИКА

Контрольная работа

Выбрать любые три задания

- ▣ Работы предоставить до 1 декабря 2015 года.
- ▣ Оформить титульный лист,
- ▣ Обязательно указать источники информации, список литературы
- ▣ Работы прислать на адрес yelena_17@rambler.ru
- ▣ Те, кто прислал работу и получил мой отзыв по согласованию освобождаются от экзамена.

ЗАДАНИЕ 1

- На основании данных таблицы проанализировать структуру экспорта и импорта Российской Федерации за 2007-2010 годы.
 - Добавить информацию по структуре экспорта и импорта не старше 5 лет.
 - Рассчитать внешнеторговый оборот за рассматриваемый период времени, экспортную квоту в 2010 г, внешнеторговый оборот на 1 жителя в 2010 г.
 - Сделать необходимые выводы о степени открытости российской экономики.
- 

Товарная структура экспорта и импорта Российской Федерации

(в фактически действовавших ценах)

(по данным www.gks.ru)

Показатель	2008		2009		2010	
	Млн долл США	В % к итогу	Млн долл США	В % к итогу	Млн долл США	В % к итогу
Экспорт – всего	467 581,0	100	301 667,0	100	396 644,0	100
В том числе:						
Продовольственные товары и сельскохозяйственное сырье (кроме текстильного)	9 278,0		9 967,0		9 365	
Минеральные продукты	326 314		203 408		272 840	
Продукция химической промышленности, каучук	30 234		18 708		25 192	
Кожевенное сырье, пушнина, и изделия из них	3540		242		307	
Древесина и целлюлозно-бумажные изделия	11 560		8 436		9 862	
Текстиль, текстильные изделия и обувь	870		716		814	
Металлы, драгоценные камни и изделия из них	61 751		38 551		51 326	
Машины, оборудование, и транспортные средства	22 764		17 879		22 582	
Прочие товары	4 458		3 761		4 356	


Товарная структура импорта РФ

(в фактически действовавших ценах)

(по данным www.gks.ru)

Показатель	2008		2009		2010	
	Млн долл США	В % к итогу	Млн долл США	В % к итогу	Млн долл США	В % к итогу
Импорт – всего	267 101	100	167 348	100	229 045	100
В том числе:						
Продовольственные товары и сельскохозяйственное сырье (кроме текстильного)	35 189		30 015		36 482	
Минеральные продукты	8 279		4 079		5 914	
Продукция химической промышленности, каучук	35 209		27 872		37 232	
Кожевенное сырье, пушнина, и изделия из них	1 038		771		1 244	
Древесина и целлюлозно-бумажные изделия	6 504		5 103		5 897	
Текстиль, текстильные изделия и обувь	11 658		9 544		14 221	
Металлы, драгоценные камни и изделия из них	19 337		11 330		17 568	
Машины, оборудование, и транспортные средства	140 759		72 669		101 823	
Прочие товары	9 127		5 964		8 663	
ВВП, млн долл США					1 479 819	
Численность населения, чел					142,9	

ЗАДАНИЕ 2.

- По данным таблицы оценить обеспеченность разведанными запасами угля, нефти, природного газа отдельных стран мира.
 - Сделайте выводы по полученным данным.
- 

Страны с крупнейшими запасами нефти (млрд баррелей) (по данным BP Statistical review of world energy 2011)

Страна	Запасы, млрд баррелей	% от мировых запасов	Добыча, тыс. баррелей в день	На сколько лет хватит
Саудовская Аравия	264,5		10 007	72
Венесуэла	211,2		2 471	234
Иран	137		4245	88
Ирак	115		2460	128
Кувейт	101,5		2508	111
ОАЭ	97,8		2849	94
Россия	77,4		10270	21
Ливия	46,4		1659	77
Казахстан	39,8		1757	62
Нигерия	37,2		2402	42
Канада	32,1		3336	26
США	30,9		7513	11
Катар	25,9		1569	45
Китай	14,8		4071	10
Бразилия	14,2		2137	18
Члены ОПЕК	1 068,4		34 324	85
Весь мир	1 383,2	100	82 095	46

^[1] Рассчитывается как запасы/добыча

Задание для самостоятельной работы

- Подготовить аналогичную таблицу по запасам угля, природного газа. Указать источник и год когда были сделаны расчеты.
- Дать оценку, по каким природным ресурсам возможно возникновение проблем в ближайшем будущем.
- Ваше мнение о том, как отразится на человечестве возможное исчерпание ресурсов.
- Существует ли глобальная топливно-энергетическая проблема в настоящее время? Если да, то в каких странах она стоит острее, и каковы пути ее решения, на Ваш взгляд.

ЗАДАНИЕ 3.

- Рассчитайте удельный вес ведущих стран в мировом экспорте и импорте товаров и услуг.
- Сделайте выводы о степени участия стран в международном разделении труда (МРТ)


Ведущие мировые экспортеры и импортеры товаров в 2011 г. (по данным www.wto.org)

Страны экспортеры	Объем экспорта, млрд долл	Доля в мировом экспорте, %	Страны импортеры	Объем импорта, млрд долл	Доля в мировом импорте, %
Весь мир	17 779	100	Весь мир	18 000	100
Китай	1 889		США	2265	
США	1 481		Китай	1 743	
Германия	1 474		Германия	1 254	
Япония	823		Япония	854	
Нидерланды	660		Франция	715	
Франция	597		Великобритания	636	
Корея	555		Нидерланды	597	
Италия	523		Италия	557	
Россия	522		Корея	524	
Бельгия	476		Гонконг (Китай)	511	

Ведущие мировые экспортеры и импортеры услуг в 2011 г. (по данным www.wto.org)

Страны экспортеры	Объем экспорта, млрд долл	Доля в мировом экспорте, %	Страны импортеры	Объем импорта, млрд долл	Доля в мировом импорте, %
Весь мир		100	Весь мир		100
США			США		
Великобритания			Германия		
Германия			Китай		
Китай			Великобритания		
Франция			Япония		
Индия			Франция		
Япония			Индия		
Испания			Нидерланды		
Нидерланды			Италия		
Сингапур			Ирландия		

ЗАДАНИЕ 4.

- По данным сводной таблицы, характеризующих ведущих экспортеров и импортеров товаров необходимо:
 - Рассчитать сальдо внешнеторгового баланса приведенных стран.
 - Рассчитать объем внешнеторгового оборота на душу населения стран
 - Выделить страны с положительным и отрицательным сальдо, объемы экспорта и импорта на душу населения
 - По каждой формуле приведите экономическое объяснение показателя.
- 

Ведущие мировые экспортеры и импортеры товаров в 2011 г.

(по данным www.wto.org)

Страны экспортеры	Объем экспорта, млрд долл	Объем импорта, млрд долл	Сальдо	Численность населения, млрд чел	Объем экспорта на душу населения	Объем импорта на душу населения
Весь мир	17 779	18 000		7,0		
Китай	1 889	1 743		1,330		
США	1 481	2265		0,310		
Германия	1 474	1 254		0,081		
Япония	823	854		0,131		
Нидерланды	660	597		0,017		
Франция	597	715		0,065		
Корея	555	524		0,049		
Италия	523	557		0,061		
Россия	522	323		0,140		
Великобритания	473	636		0,063		