

СВОЯ

ИГРА

ИГРА

СВОЯ

СВОЯ

игра

Песни	10	20	30	40	50
Логические задачи	10	20	30	40	50
Одним словом	10	20	30	40	50
<Дурацкие> вопросы	10	20	30	40	50
Все самое интересное	10	20	30	40	50

...

Песни

10

- Кто исполняет данную песню?



Отве

Песни

10

- Стас Михайлов



СВОЯ ИГРА					
Категория 1	10	20	30	40	50
Категория 2	10	20	30	40	50
Категория 3	10	20	30	40	50
Категория 4	10	20	30	40	50
Категория 5	10	20	30	40	50

Песни

20

- Кто изображён на фото?



Отве

Песни

20

- Натали



СВОЯ игра					
Категория 1	10	20	30	40	50
Категория 2	10	20	30	40	50
Категория 3	10	20	30	40	50
Категория 4	10	20	30	40	50
Категория 5	10	20	30	40	50

- Угадайте мелодию по строкам:
- Шар земной быстрее кружится
От весенней кутерьмы
И поют над нами птицы.
И поем как птицы мы...

Отве

Песни

30

- <Крылатые качели>



СВОЯ
ИГРА

Категория 1	10	20	30	40	50
Категория 2	10	20	30	40	50
Категория 3	10	20	30	40	50
Категория 4	10	20	30	40	50
Категория 5	10	20	30	40	50

КОТ В МЕШКЕ

40



Вопро

- Где проходили летние олимпийские игры 2016?



Отве

Разное

40

Рио-де-Жанейро, Бразилия



СВОЯ игра					
Категория 1	10	20	30	40	50
Категория 2	10	20	30	40	50
Категория 3	10	20	30	40	50
Категория 4	10	20	30	40	50
Категория 5	10	20	30	40	50

Песни

50

- Кто автор песни «День Победы»?



Отве

- Давид Фёдорович Тухманов




СВОЯ игра					
Категория 1	10	20	30	40	50
Категория 2	10	20	30	40	50
Категория 3	10	20	30	40	50
Категория 4	10	20	30	40	50
Категория 5	10	20	30	40	50

Логические задачи

10

В какую сторону движется автобус?

Влево или вправо?



Отве

Логические задачи

10

- Автобус едет влево (при правостороннем движении), так как не видно дверей.



СВОЯ игра					
Категория 1	10	20	30	40	50
Категория 2	10	20	30	40	50
Категория 3	10	20	30	40	50
Категория 4	10	20	30	40	50
Категория 5	10	20	30	40	50

Логические задачи

20

$$\text{○} + \text{○} = 10$$

$$\text{○} \times \text{□} + \text{□} = 12$$

$$\text{○} \times \text{□} - \text{△} \times \text{○} = \text{○}$$

$$\text{△} = ?$$

Отве

Логические задачи

20

- Из первого равенства явно видно, что круг равен 5. Никакие 2 одинаковых числа больше не будут в сумме давать десять. Подставляем 5 во второе уравнение, получаем квадрат равный двум. Подставляем 5 вместо круга и 2 вместо квадрата в третье уравнение и получаем, что треугольник равен одному. Ответ: треугольник = 1.



Категория 1	10	20	30	40	50
Категория 2	10	20	30	40	50
Категория 3	10	20	30	40	50
Категория 4	10	20	30	40	50
Категория 5	10	20	30	40	50

КОТ В МЕШКЕ

30




Вопро

Разное

30

- В каком городе спрятались мужское имя и сторона света?



Отве

Разное

30

- Владивосток

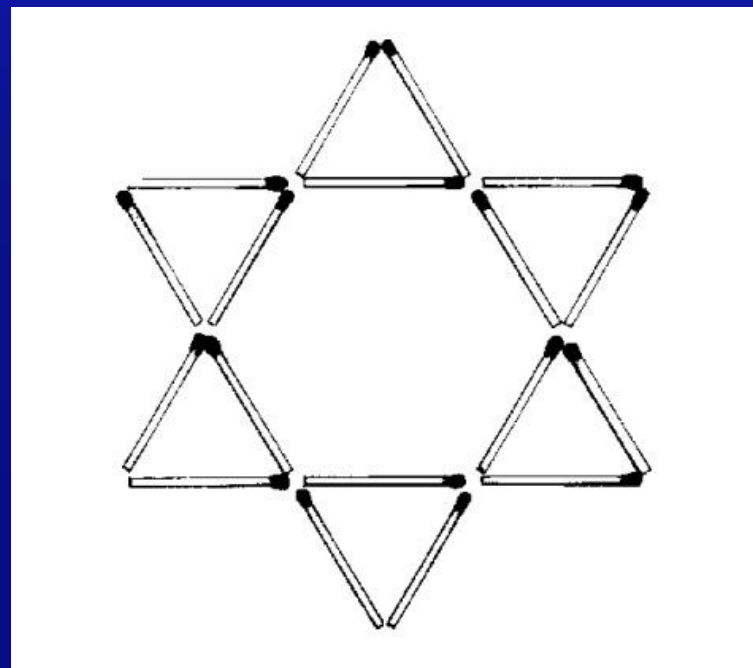


СВОЯ игра					
Категория 1	10	20	30	40	50
Категория 2	10	20	30	40	50
Категория 3	10	20	30	40	50
Категория 4	10	20	30	40	50
Категория 5	10	20	30	40	50

Логические задачи

40

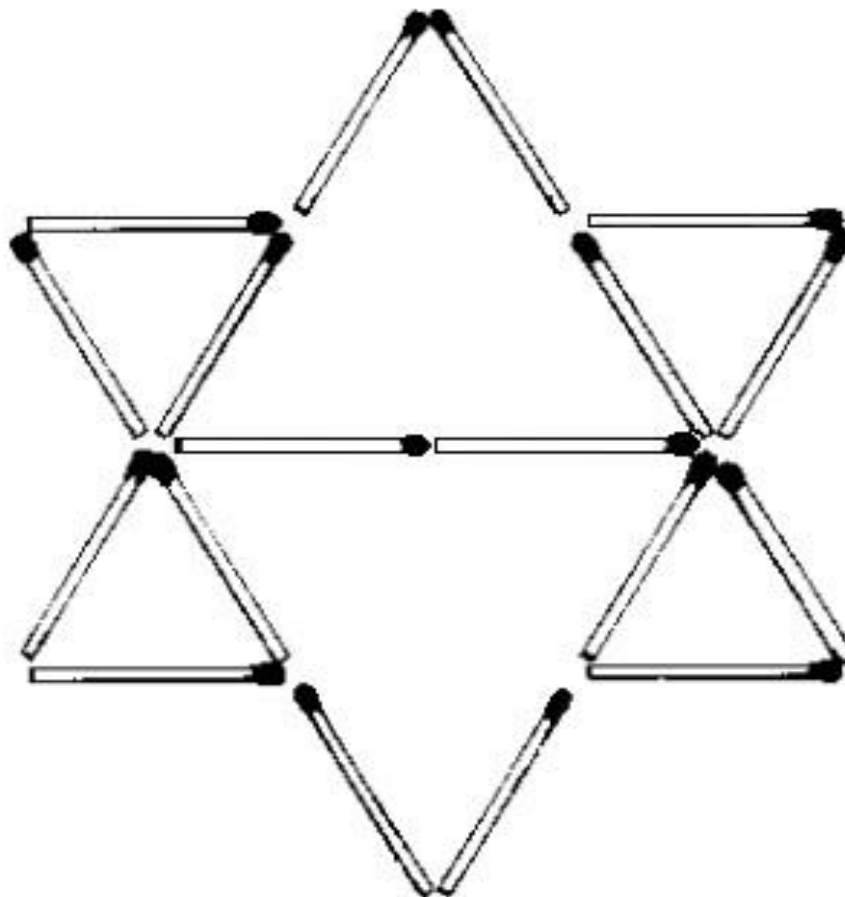
- На рисунке звезда, включающая в себя восемь треугольников – 6 маленьких и 2 больших. Передвиньте 2 спички так, чтобы в звезде осталось только 6 треугольников:



Отве

Логические задачи

40

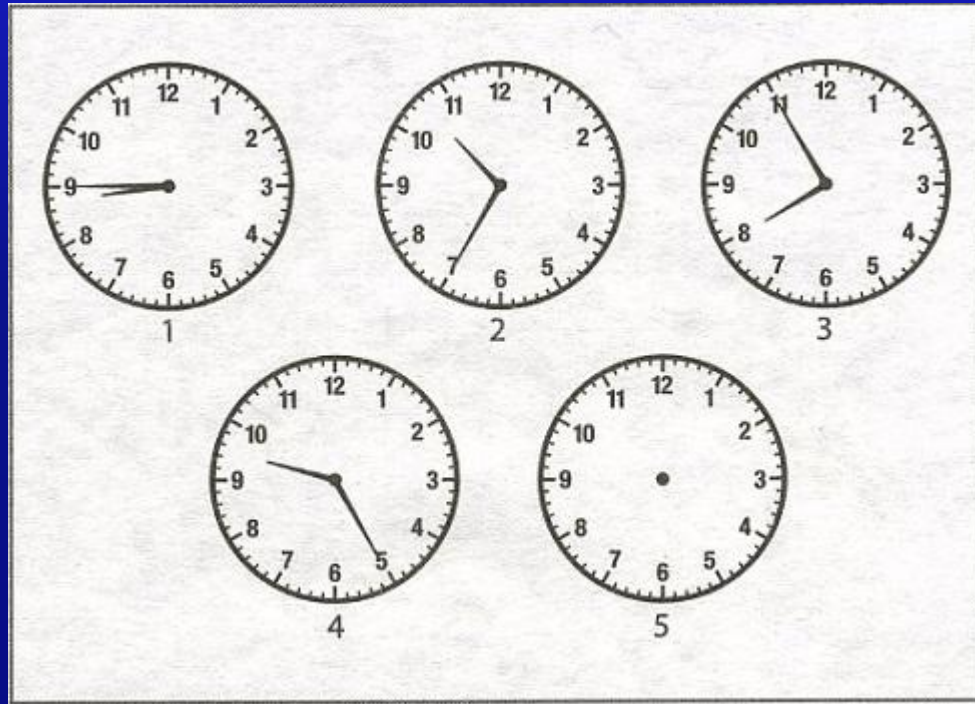


СВОЯ ИГРА					
Категория 1	10	20	30	40	50
Категория 2	10	20	30	40	50
Категория 3	10	20	30	40	50
Категория 4	10	20	30	40	50
Категория 5	10	20	30	40	50

Логические задачи

50

Если смотреть на показания часов слева направо, то можно установить закономерность и вычислить время, которое будет на часах под номером 5. Определите закономерность и установите время для часов под номером 5:



Отве

Логические задачи

50

- Ответ : Время 07:05. Часы 2 показывают к часам 1 плюс 1 час 50 минут, часы 3 показывают к часам 2 минус 2 часа 40 минут, часы 4 показывают к часам 3 плюс 1 час 30 минут. Следовательно, пятые часы должны показывать к четвертым минус 2 часа 20 минут.



СВОЯ ИГРА					
Категория 1	10	20	30	40	50
Категория 2	10	20	30	40	50
Категория 3	10	20	30	40	50
Категория 4	10	20	30	40	50
Категория 5	10	20	30	40	50

Одним словом

10

- В России этим чистят зубы, а в Италии – это самое любимое национальное блюдо или



Отве

Одним словом

10

- Паста/pasta




СВОЯ игра					
Категория	10	20	30	40	50
Категория 1	10	20	30	40	50
Категория 2	10	20	30	40	50
Категория 3	10	20	30	40	50
Категория 4	10	20	30	40	50
Категория 5	10	20	30	40	50

Одним словом

20

- В Англии этот читают, а во Франции это посещают, чтобы сделать покупки...




Отве

Одним словом

20

- Magazine/magasin



СВОЯ игра					
Категория 1	10	20	30	40	50
Категория 2	10	20	30	40	50
Категория 3	10	20	30	40	50
Категория 4	10	20	30	40	50
Категория 5	10	20	30	40	50

Одним словом

30

- В России это предмет мебели для отдыха, а в Германии это предмет мужской одежды, надеваемый на особые



Отве

Одним словом

30

- Кровать/ die Krawatte



СВОЯ игра					
Категория 1	10	20	30	40	50
Категория 2	10	20	30	40	50
Категория 3	10	20	30	40	50
Категория 4	10	20	30	40	50
Категория 5	10	20	30	40	50

Одним словом

40

Это слово – вид транспорта на английском, немецком, итальянском и французском языках произносится и пишется одинаково...



Отве



Одним словом

40

• Таксі



СВОЯ школа					
Категория 1	10	20	30	40	50
Категория 2	10	20	30	40	50
Категория 3	10	20	30	40	50
Категория 4	10	20	30	40	50
Категория 5	10	20	30	40	50

КОТ В МЕШКЕ

50



Вопро

Категория 3

50

- Как на Руси в древности иначе называли колокольчик?

Отве

Категория 3

50

Ответ: балаболка



СВОЯ ИГРА					
Категория 1	10	20	30	40	50
Категория 2	10	20	30	40	50
Категория 3	10	20	30	40	50
Категория 4	10	20	30	40	50
Категория 5	10	20	30	40	50

КОТ В МЕШКЕ

10



Вопро

Разное

10

- Две дочери, две матери, да бабушка с внучкой. Сколько всех?



Отве

Разное

10

• Трое



СВОЯ игра					
Категория 1	10	20	30	40	50
Категория 2	10	20	30	40	50
Категория 3	10	20	30	40	50
Категория 4	10	20	30	40	50
Категория 5	10	20	30	40	50

<Дурацкие> вопросы

20

- Какими нотами можно измерить расстояние?



Отве

<Дурацкие> вопросы

20

- **Ми-ля-ми**



СВОЯ ИГРА					
Категория 1	10	20	30	40	50
Категория 2	10	20	30	40	50
Категория 3	10	20	30	40	50
Категория 4	10	20	30	40	50
Категория 5	10	20	30	40	50

<Дурацкие> вопросы

30

- Назовите «врага»
ВЫЧИСЛИТЕЛЬНЫХ НАВЫКОВ
ШКОЛ

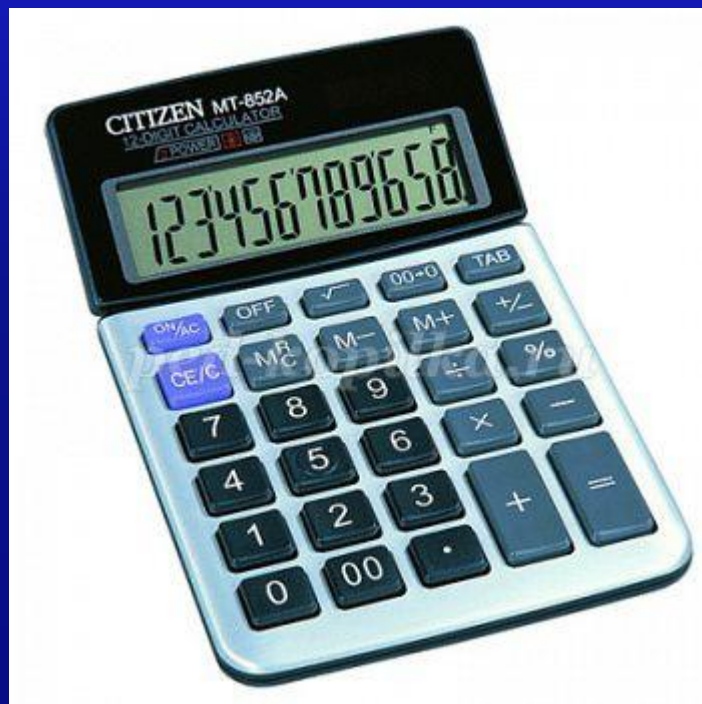


Отве

<Дурацкие> вопросы

30

- Калькулятор



СВОЯ ИГРА					
Категория 1	10	20	30	40	50
Категория 2	10	20	30	40	50
Категория 3	10	20	30	40	50
Категория 4	10	20	30	40	50
Категория 5	10	20	30	40	50

<Дурацкие> вопросы

40

- Между какими двумя одинаковыми буквами можно поставить маленькую лошадь и получить название



Отве

<Дурацкие> вопросы

40

• Япония



СВОЯ игра					
Категория 1	10	20	30	40	50
Категория 2	10	20	30	40	50
Категория 3	10	20	30	40	50
Категория 4	10	20	30	40	50
Категория 5	10	20	30	40	50

<Дурацкие> вопросы

50

- В Древней Руси деньгами служили серебряные бруски. Их называли гривнами. Если вещь стоила меньше, чем весь брусок, то от него отрубали часть. Как называлась отрубленная часть серебряного бруска?



Отве

<Дурацкие> вопросы

50

- Рубль



СВОЯ игра					
Категория 1	10	20	30	40	50
Категория 2	10	20	30	40	50
Категория 3	10	20	30	40	50
Категория 4	10	20	30	40	50
Категория 5	10	20	30	40	50

Всё самое интересное...

10

- Являются ли слова ЦИРК и ЦИРКУЛЬ родственными?

Да или нет?

Почему?



Отве

Всё самое интересное...

10

- Значение каждого из этих слов связано с понятием круга. Они имеют общий корень, образованный от латинского «циркус», что значит «круг».

Поэтому они являются родственными.



СВОЯ игра				
Категория 1	10	20	30	40 50
Категория 2	10	20	30	40 50
Категория 3	10	20	30	40 50
Категория 4	10	20	30	40 50
Категория 5	10	20	30	40 50

КОТ В МЕШКЕ

20



Вопро

Разное

20

- В каком городе находится Тадж-Махал?



Отве

Разное

20

- Индия, Агра



СВОЯ игра					
Категория 1	10	20	30	40	50
Категория 2	10	20	30	40	50
Категория 3	10	20	30	40	50
Категория 4	10	20	30	40	50
Категория 5	10	20	30	40	50

Всё самое интересное...

30

- Что объединяет все эти картинки?



Отве

Всё самое интересное...

30

- Власть



СВОЯ игра					
Категория 1	10	20	30	40	50
Категория 2	10	20	30	40	50
Категория 3	10	20	30	40	50
Категория 4	10	20	30	40	50
Категория 5	10	20	30	40	50

Всё самое интересное...

40


- Найдите три отличия:



Отве

Всё самое интересное...

40



СВОЯ игра

Категория 1	10	20	30	40	50
Категория 2	10	20	30	40	50
Категория 3	10	20	30	40	50
Категория 4	10	20	30	40	50
Категория 5	10	20	30	40	50

Всё самое интересное...

50

- Решите ребус:



Отве

Всё самое интересное...

50

• ДЕЛЕНИЕ



СВОЯ ИГРА					
Категория 1	10	20	30	40	50
Категория 2	10	20	30	40	50
Категория 3	10	20	30	40	50
Категория 4	10	20	30	40	50
Категория 5	10	20	30	40	50