

Народы и страны Евразии



Теория

Вопросы

- 1 Какова численность населения Евразии?
- 2 Какие народы в основном заселяют Европу?
- 3 Какие народы Азии являются самыми многочисленными?
- 4 Какие территории Евразии почти не заселены?
- 5 Какая страна является крупнейшей по площади в Европе? Азии? (без России)
- 6 Численность населения Евразии в млрд.

Вопросы

Задание 2. Определите страны по контуру

- 1
- 2
- 3
- 4
- 5

1. Саудовская Аравия
2. Индия
3. Казахстан
4. Иран
5. Монголия

Задания

Тест


- 1 Численность населения Евразии превышает... млн. человек.
А. 3 Б. 4 В. 5 Г. 6
- 2 Славянские народы проживают в ...
А. Северной Европе Б. Южной Европе
В. Восточной Европе Г. Западной Европе
- 3 Большую часть населения Евразии образуют представители ... расы.
А. Европейской Б. Монголоидной
В. Негроидной Г. Смешанной
- 4 Какое государство расположено в Азии?
А. Испания Б. Белоруссия В. Украина Г. Турция
- 5 Какое государство находится в Европе?
А. Греция

Тест

Практическая работа 1. «Обозначение на контурной карте крупных стран Европы и их столиц».

- 1 Великобритания
- 2 Испания
- 3 Франция
- 4 Германия
- 5 Норвегия
- 6 Швеция
- 7 Финляндия
- 8 Польша
- 9 Италия
- 10 Украина

Практикум



Расы и
народы



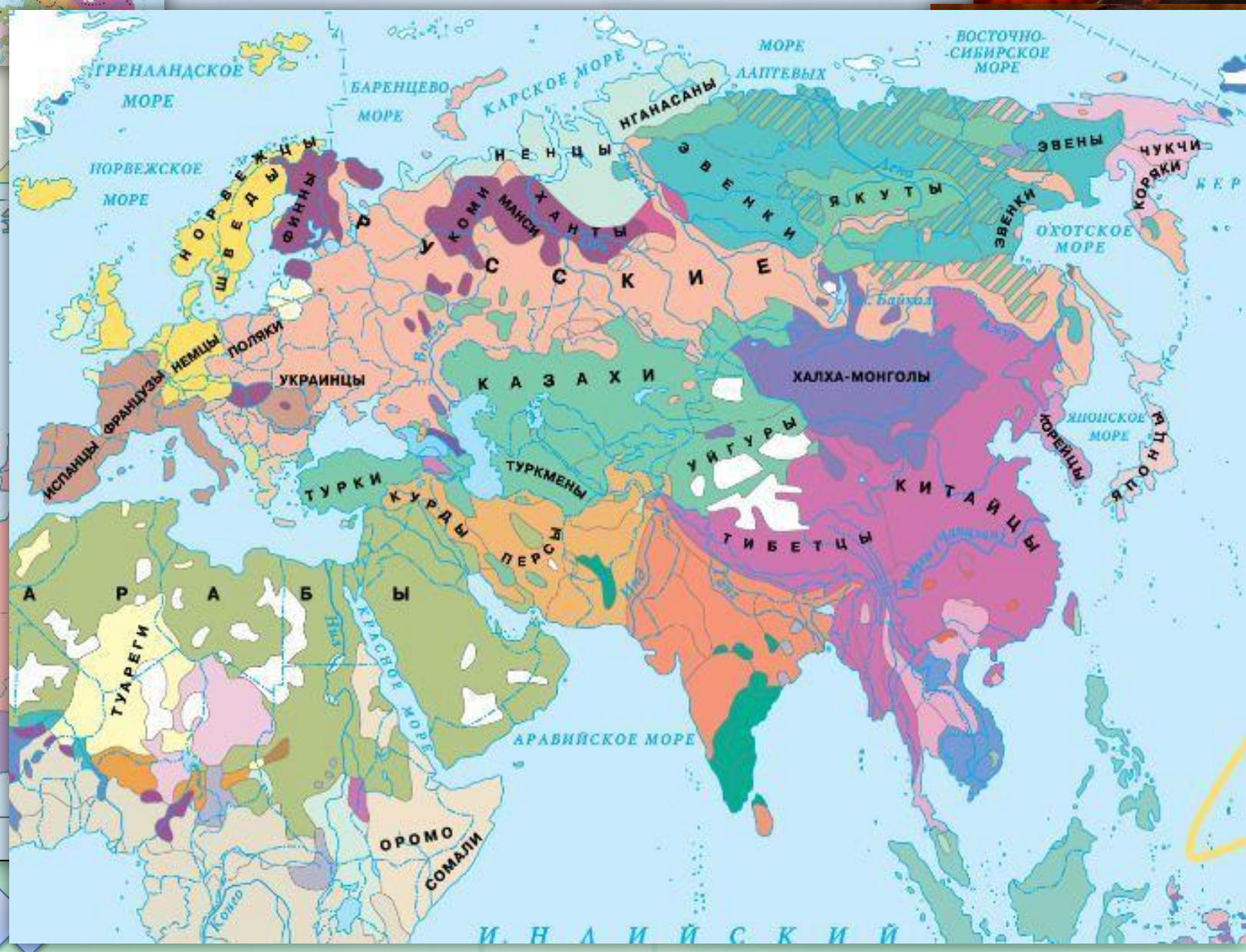
Размещение



Страны



Расы и народы



ароды

ории
и
ют
,
ся к
сам и
уппам



Славянские народы



П



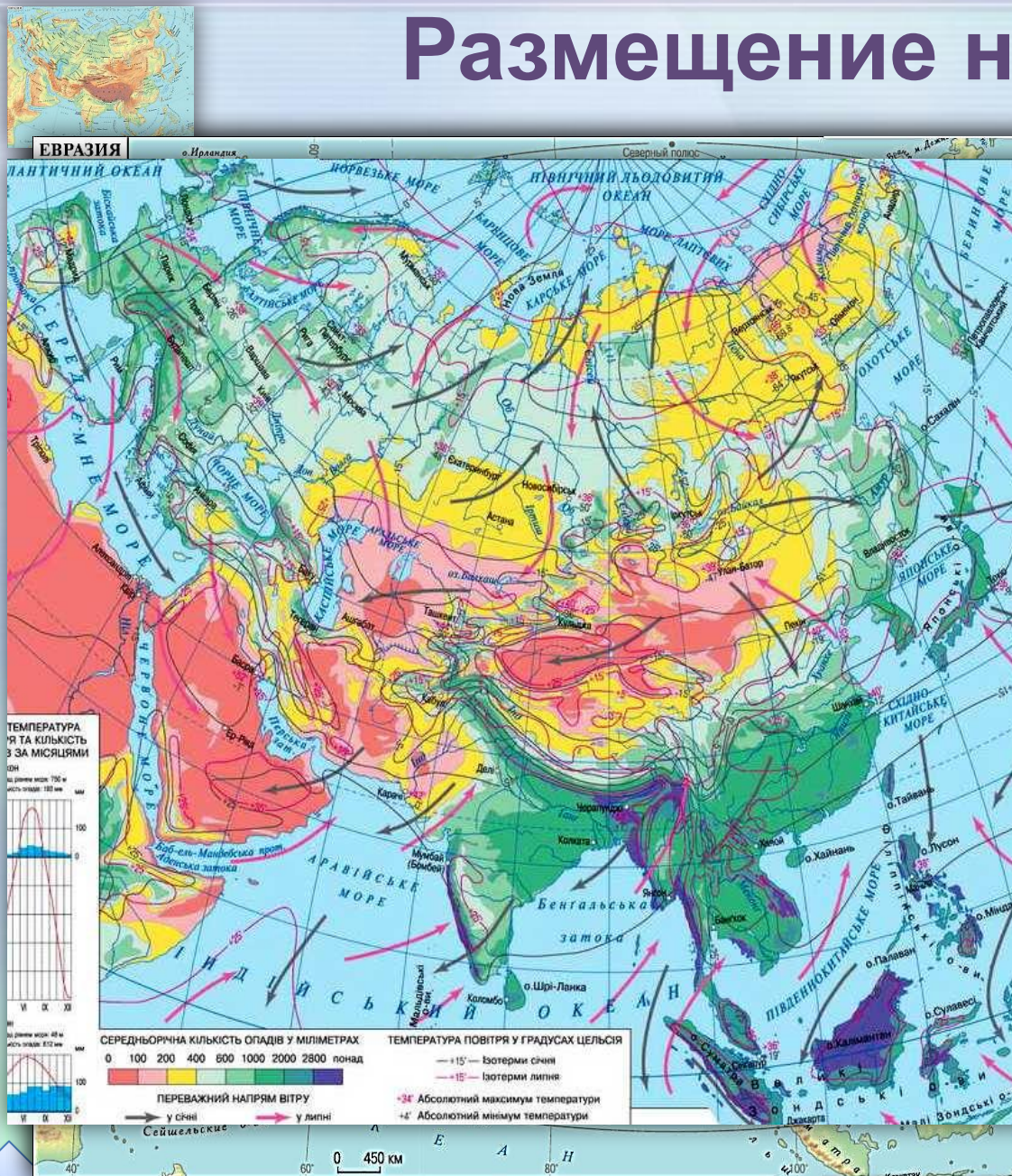
Германские народы



Романские народы



Размещение населения



В Азии наблюдаются большие контрасты природных условий и соответственно, размещения населения. В одних районах (долины крупных рек, приморские низменности, Японские острова) плотность населения очень велика и порой достигает 1 500 человек / 1 км². Очень высокая плотность населения в городах. В других же районах (Тибет, пустыни) плотность населения составляет 2 человека / 1 км² или они вообще безлюдны.

Страны



По
Евр
Вы
По
кру
по
Бел

В
кие
им.
гся
ека
ва,

К



Страны

В Европе существуют государства-«карлики», имеющие крошечную территорию, а количество их населения можно сравнить с количеством жителей города. Например, *Ватикан* занимает 0,44 км², *Монако* - 2 км², *Сан-Марино* - 60,6 км².



Ватикан



Монако



Самые многочисленные народы мира

№ п/п	Народ	Численность, млн.чел.
1	Китайцы	1125
2	Хиндустанцы	244
3	Американцы США	194
4	Бенгальцы	190
5	Бразильцы	149
6	Русские	147
7	Японцы	126
8	Пенджабцы	100
9	Бихарцы	98

Наиболее распространенные языки мира

№ п/п	Язык	Численность носителей, млн.чел.
1	Китайский	1100
2	Хинди	340
3	Испанский	340
4	Английский	330
5	Бенгальский	190
6	Арабский	190
7	Португальский	170
8	Русский	170
9	Японский	125



Вопросы

1

Более 4 млрд.человек.

2

Славянские, германские, романские.

3

Индийские народы и китайцы.

4

Северная и Центральная часть Азии, Аравийский полуостров.

5

В Европе – Украина, в Азии – Китай.

6

Китая и Индии.



Тест

1 Численность населения Евразии превышает... млрд. человек.
А. 3 Б. 4 В. 5 Г. 6

2 Славянские народы проживают в ...
А. *Северной Европе* Б. *Южной Европе*
В. *Восточной Европе* Г. *Западной Европе*

3 Большую часть населения Евразии образуют представители ... расы.
А. *Европеоидной* Б. *Монголоидной*
В. *Негроидной* Г. *Смешанной*

4 Какое государство расположено в Азии?
А. *Испания* Б. *Белоруссия* В. *Украина* Г. *Турция*

5 Какое государство находится в Европе?
А. *Греция* Б. *Монголия* В. *Казахстан* Г. *Индия*



Тест

1 Численность населения Евразии превышает... млрд. человек.
А. 3 **Б. 4** В. 5 Г. 6

2 Славянские народы проживают в ...
А. Северной Европе Б. Южной Европе
В. Восточной Европе Г. Западной Европе

3 Большую часть населения Евразии образуют представители ... расы.
А. Европеоидной **Б. Монголоидной**
В. Негроидной Г. Смешанной

4 Какое государство расположено в Азии?
А. Испания Б. Белоруссия В. Украина **Г. Турция**

5 Какое государство находится в Европе?
А. Греция Б. Монголия В. Казахстан Г. Индия



Задания

1. Определить страну по контуру
(Европа)

2. Определить страну по контуру
(Азия)

3. Найти на политической карте
страны

4. Заполнить таблицу «Народы
Европы»

5. Заполнить таблицы «Страны и
СТОЛИЦЫ»



Задание 1. Определите страны по контуру



Задание 2. Определите страны по контуру



Задание 3. Найдите на карте названия стран Евразии, которые начинаются на буквы:

И

К

М



Задание 4. Заполните таблицу «Народы Европы»

Славянские народы			Германские народы	Романские народы
Восточные	Западные	Южные		



ОТВЕТ



Задание 5. Заполните таблицу «Страны и столицы»

Европа		Азия	
Страна	Столица	Страна	Столица
Испания	Мадрид	Китай	Пекин
Германия	Берлин	Япония	Токио
Франция	Париж	Иран	Тегеран
Швеция	Стокгольм	Индия	Нью-Дели
Норвегия	Осло	Казахстан	Астана
Великобритания	Лондон	Индонезия	Джакарта
Италия	Рим	Турция	Анкара
Польша	Варшава	Пакистан	Исламабад
Украина	Киев	Монголия	Улан-Батор
Финляндия	Хельсинки	Афганистан	Кабул
Белоруссия	Минск	Саудовская Аравия	Эр-Рияд
Греция	Афины		



ответ



Практическая работа 1. «Обозначение на контурной карте крупных стран Европы и их столиц».

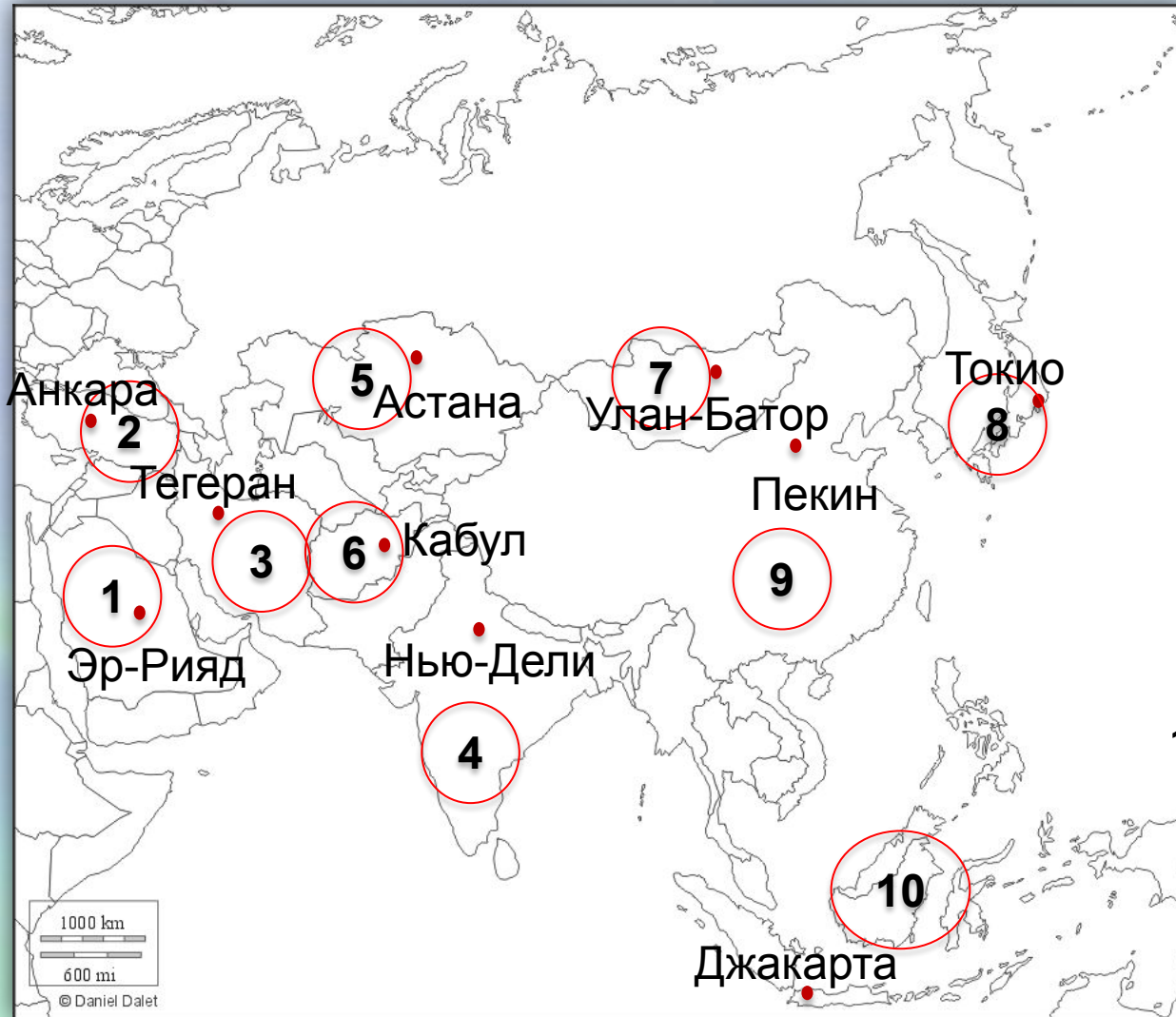


1. Великобритания
2. Испания
3. Франция
4. Германия
5. Норвегия
6. Швеция
7. Финляндия
8. Польша
9. Италия
10. Украина

ответ



Практическая работа 2. «Обозначение на контурной карте крупных стран Азии и их столиц».



1. Саудовская Аравия
2. Турция
3. Иран
4. Индия
5. Казахстан
6. Афганистан
7. Монголия
8. Япония
9. Китай
10. Индонезия

ОТВЕТ



Ресурсы

1. Карта Евразии – единая коллекция ЦОР
2. http://dic.academic.ru/pictures/enc_geo/e001.jpg -физическая карта
3. http://www.mapsmaps.ru/wp-content/uploads/2010/10/polit_europa2.jpg - карта Европы
4. http://upload.wikimedia.org/wikipedia/en/5/58/Natalya_Simonova_by_Izabella_Scorupco1.jpg - полячка
5. http://t3.gstatic.com/images?q=tbn:ANd9GcQWIP22vU9hYC_ctF-CIUm4vsfU-n-FfTshBmWQoTBaDjuSp
ENL – русские
6. <http://www.teambulgaria.org/wp-content/uploads/2008/11/familypic.jpg> - болгары
7. <http://www.lbudget.ru/i/big/20090303222145.jpg> - шведы
8. http://content.foto.mail.ru/inbox/guzenko_inna/answers/i-374.jpg - немцы
9. <http://www.tourism.ru/docs/report/mountain/53/109/410/img/076.jpg> - англичане
10. http://lh6.ggpht.com/_YcN5bepzKBE/TIpRJ6j4eMI/AAAAAAAAAMI/vvqq4X1jkrY/maglionenorvegiese.jpg
- норвежцы
11. <http://i024.radikal.ru/1011/dc/908a65aa25b2.jpg> - итальянцы
12. <http://antonio-banderas.msk.ru/wp-content/uploads/2009/08/AntonioBanderas1-239x300.jpg>
13. http://www.smh.com.au/ffximage/2008/05/20/ferreria_wideweb_470x308_0.jpg - португальцы
14. http://img1.liveinternet.ru/images/attach/b/3/16/242/16242850_18629264_w434_h_g80.jpg - французы
15. http://www.indostan.ru/indiya/foto-video/2869/4153_1_o.jpg - индейцы
16. http://img.dni.ru/binaries/v2_articlepic/319974.jpg -китайцы
17. <http://images.clipartof.com/small/7646-Clipart-Picture-Of-A-Red-Book-Mascot-Cartoon-Character-Pointing-Upwards.jpg> - клипарт книга
18. <http://toprekord.ru/wp-content/thumbnails/625.jpg> - Ватикан
19. http://www.svali.ru/pic/pictures/63/r_p_ae50567bf39d68c914031397095bd7d2.jpg - Монако
20. http://afromberg.narod.ru/fon/10/kontur_Europe.gif - контурная карта Европы
21. <http://letopisi.ru/index.php/%D0%95%D0%93%D0%AD/%D0%9D%D0%B0%D1%81%D0%B5%D0%BB%D0%B5%D0%BD%D0%B8%D0%B5%D0%BC%D0%B8%D1%80%D0%B0%D0%B2%D1%82%D0%B0%D0%B1%D0%BB%D0%B8%D1%86%D0%B0%D1%85> таблица



Ресурсы

1. <http://www.ifimages.com/photos/ZyOKQT3fAk2WnxIA1kqH21Ys/author-541/Smiling-Chinese-man-Shanghai-China.jpg> - китаец
2. http://geoo.ucoz.kz/_pu/2/54299352.gif - контурная карта Азии
3. http://www.ukrmap.kiev.ua/program2010/g7/materiki_files/image399.jpg - климатическая карта



Руководство по навигации



назад



далее



ресурсы



завершить
показ



при нажатии на объекты с красным контуром – появляются информация об объекте. Увеличенное изображение фотографии или текст исчезают при щелчке на них.



текстовая информация



при нажатии на карту – появляется ее увеличенное изображение. Чтобы его убрать, кликните на него.

