



ИЗДАТЕЛЬСТВО  
**ЛЕГИОН**  
www.legionr.ru

Приказом Минобрнауки РФ №729 от 14.12.2009  
пособия издательства «Легион» допускаются к использованию  
в общеобразовательных учреждениях

**Ростов-на-Дону**  
**(863) 303-05-50**

# **«Экономические» задачи повышенного уровня сложности в ЕГЭ**

докладчик: Кулабухов Сергей Юрьевич



ИЗДАТЕЛЬСТВО  
**ЛЕГИОН**  
www.legionr.ru

## Спецификация КИМ ЕГЭ 2015 базового уровня по математике (фрагмент)

19	Уметь использовать приобретённые знания и умения в практической деятельности и повседневной жизни	6.1, 6.3	1.1.1, 1.1.3, 2.1.12	П	3	–	30
----	---	----------	----------------------------	---	---	---	----

### Кодификатор элементов содержания КИМ ЕГЭ 2015 базового уровня по математике (фрагмент)

1.1.1	Целые числа
1.1.3	Дроби, проценты, рациональные числа
2.1.12	Применение математических методов для решения содержательных задач из различных областей науки и практики. Интерпретация результата, учёт реальных ограничений

### Кодификатор требований к уровню подготовки выпускников, КИМ ЕГЭ 2015 по математике (фрагмент)

6.1	Анализировать реальные числовые данные, информацию статистического характера; осуществлять практические расчеты по формулам; пользоваться оценкой и прикидкой при практических расчетах
6.3	Решать прикладные задачи, в том числе социально-экономического и физического характера, на наибольшие и наименьшие значения, на нахождение скорости и ускорения

Содержание критерия, задание 19	Баллы
Обоснованно получен верный ответ	3
Верно построена математическая модель, решение сведено к исследованию этой модели, получен неверный ответ из-за вычислительной ошибки ИЛИ получен верный ответ, но решение недостаточно обосновано	2
Верно построена математическая модель и решение сведено к исследованию этой модели, при этом решение может быть не завершено	1
Решение не соответствует ни одному из критериев, перечисленных выше	0
<i>Максимальный балл</i>	3



# Задача 1.

Максим хочет взять в кредит 1,5 млн рублей. Погашение кредита происходит раз в год равными суммами (кроме, может быть, последней) после начисления процентов. Ставка процента 10% годовых. На какое минимальное количество лет может Максим взять кредит, чтобы ежегодные выплаты были не более 350 тысяч рублей?

## Решение

При начислении процентов оставшаяся сумма долга умножается на коэффициент  $1 + 0,01 \cdot 10 = 1,1$ . В конце первого года долг составит  $1500000 \cdot 1,1 = 1650000$  рублей. После выплаты 350 тысяч рублей останется долг 1300000 рублей. И так далее. Составим таблицу выплат.

Год	Долг банку (руб.)	Остаток после транша (руб.)
0	1500000	—
1	1650000	1300000
2	1430000	1080000
3	1188000	838000
4	921800	571800
5	628980	278980
6	306878	0

Значит, Максим погасит кредит за 6 лет.

**Ответ: 6.**

<b>Содержание критерия</b>	<b>Баллы</b>
Обоснованно получен правильный ответ	3
Найден верный алгоритм вычисления оставшейся суммы долга, но допущена вычислительная ошибка, приведшая к неверному ответу	2
Найден верный алгоритм вычисления оставшейся суммы долга, но решение не доведено до конца или имеется верный ответ без обоснования	1
Решение не соответствует ни одному из критериев, перечисленных выше	0

## Задача 2.

31 декабря 2014 года Фёдор взял в банке 6 951 000 рублей в кредит под 10% годовых. Схема выплаты кредита следующая: 31 декабря каждого следующего года банк начисляет проценты на оставшуюся сумму долга (то есть увеличивает долг на 10%), затем Фёдор переводит в банк платёж. Весь долг Фёдор выплатил за 3 равных платежа. На сколько рублей меньше он бы отдал банку, если бы смог выплатить долг за 2 равных платежа?

## Решение

1. Пусть  $x$  рублей — ежегодная плата при которой Фёдор выплатит кредит за 3 года,  $p = 6\,951\,000$  рублей — сумма кредита. Составим таблицу выплат.

Год	Долг банку (руб.)	Остаток после ежегодной выплаты (руб.)
0	$p$	—
1	$1,1p$	$1,1p - x$
2	$1,1(1,1p - x) = 1,21p - 1,1x$	$1,21p - 1,1x - x = 1,21p - 2,1x$
3	$1,1(1,21p - 2,1x) = 1,331p - 2,31x$	$1,331p - 2,31x - x = 1,331p - 3,31x$

Таким образом, получаем уравнение  $1,331p - 3,31x = 0$ .

Тогда  $x = \frac{1,331p}{3,31} = \frac{1,331 \cdot 6\,951\,000}{3,31} = 2\,795\,100$  рублей.

2. Если через  $y$  обозначить ежегодную плату при которой весь кредит выплачивается за 2 года, то из приведённой таблицы видно, что  $y$  можно найти из уравнения  $1,21p - 2,1y = 0$ .

Тогда  $y = \frac{1,21p}{2,1} = \frac{1,21 \cdot 6\,951\,000}{2,1} = 4\,005\,100$  рублей.

3. За три равных платежа банку будет уплачено  $3x$  рублей, а за два равных платежа —  $2y$  рублей. Таким образом, если бы Фёдор смог выплатить кредит за 2 равных платежа, то он сэкономял бы  $3x - 2y = 3 \cdot 2\,795\,100 - 2 \cdot 4\,005\,100 = 375\,100$  рублей.

**Ответ: 375 100.**



### Задача 3.

Двадцать пятого ноября 2013 года Иван взял в банке 2 млн. рублей в кредит. План выплаты кредита такой — 25-го ноября каждого следующего года банк начисляет проценты на оставшуюся сумму долга, то есть увеличивает долг на  $x\%$ , а затем Иван переводит очередной транш. Иван выплатил кредит за 2 транша, переведя в первый раз 1 210 000 рублей, а во второй — 1 219 800 рублей. Под какой годовой процент банк выдал кредит Ивану?



## Решение

После начисления процентов в конце первого года, сумма, которую должен выплатить Иван, возрастает до  $2\,000\,000 \cdot \left(1 + \frac{x}{100}\right)$  рублей, из них Иван выплачивает 1 210 000 рублей, уменьшая тем самым сумму долга до  $\left(2\,000\,000 \cdot \left(1 + \frac{x}{100}\right) - 1\,210\,000\right)$  рублей.

В конце второго года сумма долга снова возрастает на  $x\%$  и, таким образом, становится равной  $\left(1 + \frac{x}{100}\right) \cdot \left(2\,000\,000 \cdot \left(1 + \frac{x}{100}\right) - 1\,210\,000\right)$ . Заплатив 1 219 800 рублей, Иван погашает кредит, то есть  $\left(1 + \frac{x}{100}\right) \cdot \left(2\,000\,000 \cdot \left(1 + \frac{x}{100}\right) - 1\,210\,000\right) = 1\,219\,800$ . В этом уравнении сделаем замену  $y = \left(1 + \frac{x}{100}\right)$  ( $y > 1$ ) и разделим обе части на 200, получим  $y \cdot (10\,000y - 6\,050) = 6\,099$ , то есть  $10\,000y^2 - 6\,050y - 6\,099 = 0$ , откуда

$$y_{1,2} = \frac{3\,025 \pm \sqrt{3025^2 + 60\,990\,000}}{10\,000} = \frac{3\,025 \pm \sqrt{70\,140\,625}}{10\,000}.$$

## Решение

$$\sqrt{70\,140\,625} = \sqrt{5^4 \cdot 25 \cdot 4\,489} = \sqrt{5^6 \cdot 4\,489} = 5^3 \cdot \sqrt{4\,489} = 125 \cdot \sqrt{4\,489}.$$

Ясно, что  $60^2 < 4\,489 < 70^2$ . Перебирая натуральные числа от 61 до 69, находим, что  $\sqrt{4489} = 67$  и значит,  $\sqrt{70\,140\,625} = 125 \cdot 67 = 8\,375$ . Полу-

чим  $y_{1,2} = \frac{3\,025 \pm 8\,375}{2}$ .

Так как  $y > 1$ , получим  $y_{1,2} = \frac{3\,025 + 8\,375}{10\,000} = 1,14$ . Но тогда

$$1 + \frac{x}{100} = 1,14, \text{ откуда } x = 14.$$

*Ответ:* 14

## Задача 4.

В банк помещён вклад 64 000 рублей под 25% годовых. В конце каждого из первых трёх лет (после начисления процентов) вкладчик дополнительно положил на счёт одну и ту же фиксированную сумму. К концу четвёртого года после начисления процентов оказалось, что он составляет 385 000 рублей. Какую сумму (в рублях) ежегодно добавлял вкладчик?

## Решение

Пусть в конце каждого года вкладчик добавлял на счёт  $x$  рублей. Тогда к концу первого года на счету было  $1,25 \cdot 64\,000 + x = 80\,000 + x$  рублей (учитываем, что  $1,25 = \frac{5}{4}$ ). К концу второго года на счету уже находилось  $\frac{5}{4} \cdot (80\,000 + x) + x$ , к концу третьего —  $\frac{5}{4} \cdot \left(\frac{5}{4} \cdot (80\,000 + x) + x\right) + x$ , к концу четвёртого —  $\frac{5}{4} \cdot \left(\frac{5}{4} \cdot \left(\frac{5}{4} \cdot (80\,000 + x) + x\right) + x\right)$ . Таким образом, получим уравнение  $\frac{5}{4} \cdot \left(\frac{5}{4} \cdot \left(\frac{5}{4} \cdot (80\,000 + x) + x\right) + x\right) = 385\,000$ , откуда  $\frac{5}{4} \cdot \left(\frac{5}{4} \cdot (80\,000 + x) + x\right) + x = 308\,000$  и  $\frac{25}{16} \cdot (80\,000 + x) + \frac{5x}{4} + x = 308\,000$ ;  
 $125\,000 + \frac{25x}{16} + \frac{5x}{4} + x = 308\,000$ ;  $\frac{61x}{16} = 183\,000$ ;  $x = 48\,000$ .

*Ответ:* 48 000.



## Задача 5.

Алексей взял кредит в банке на срок 12 месяцев. По договору Алексей должен вернуть кредит ежемесячными платежами. В конце каждого месяца к оставшейся сумме долга добавляется  $r\%$  этой суммы и своим ежемесячным платежом Алексей погашает эти добавленные проценты и уменьшает сумму долга. Ежемесячные платежи подбираются так, чтобы долг уменьшался на одну и ту же величину каждый месяц (на практике такая схема называется «схемой с дифференцированными платежами»). Известно, что общая сумма, выплаченная Алексеем банку за весь срок кредитования, оказалась на  $13\%$  больше, чем сумма, взятая им в кредит. Найдите  $r$ .

## Решение

Пусть  $x$  — сумма кредита. Тогда  $\frac{x}{12}$  — сумма на которую долг уменьшается ежемесячно.

Обозначая через  $p_i$  сумму ежемесячного платежа, заполним таблицу

Месяц	Остаток долга	Платёж
0	$x$	0
1	$(1 + \frac{r}{100}) \cdot x - p_1 = \frac{11}{12}x$	$p_1 = (1 + \frac{r}{100}) \cdot x - \frac{11}{12}x$
2	$(1 + \frac{r}{100}) \cdot \frac{11}{12}x - p_2 = \frac{10}{12}x$	$p_2 = (1 + \frac{r}{100}) \cdot \frac{11}{12}x - \frac{10}{12}x$
...	...	...
11	$(1 + \frac{r}{100}) \cdot \frac{2}{12}x - p_{11} = \frac{1}{12}x$	$p_{11} = (1 + \frac{r}{100}) \cdot \frac{2}{12}x - \frac{1}{12}x$
12	$(1 + \frac{r}{100}) \cdot \frac{1}{12}x - p_{12} = 0$	$p_{12} = (1 + \frac{r}{100}) \cdot \frac{1}{12}x - 0$

По условию общая сумма выплат оказалась на 13% больше, чем сумма, взятая в кредит. Получаем уравнение

$$p_1 + p_2 + \dots + p_{11} + p_{12} = 1,13x.$$

## Решение (продолжение)

Подставляем выражения для  $p_i$  из таблицы и решаем уравнение:

$$\left(1 + \frac{r}{100}\right) \cdot \left(x + \frac{11}{12}x + \dots + \frac{2}{12}x + \frac{1}{12}x\right) - \left(\frac{11}{12}x + \frac{10}{12}x \dots + \frac{1}{12}x\right) = \frac{113}{100}x;$$

$$\left(1 + \frac{r}{100}\right) \cdot \frac{12 + 11 + \dots + 2 + 1}{12} - \frac{11 + 10 + \dots + 1}{12} = \frac{113}{100};$$

$$\left(1 + \frac{r}{100}\right) \cdot \frac{(12 + 1) \cdot 12}{2 \cdot 12} - \frac{(11 + 1) \cdot 11}{2 \cdot 12} = \frac{113}{100};$$

$$\left(1 + \frac{r}{100}\right) \cdot \frac{13}{2} - \frac{11}{2} = \frac{113}{100};$$

$$1 + \frac{13}{200} \cdot r = \frac{113}{100};$$

$$\frac{13}{200} \cdot r = \frac{13}{100};$$

$$r = 2.$$

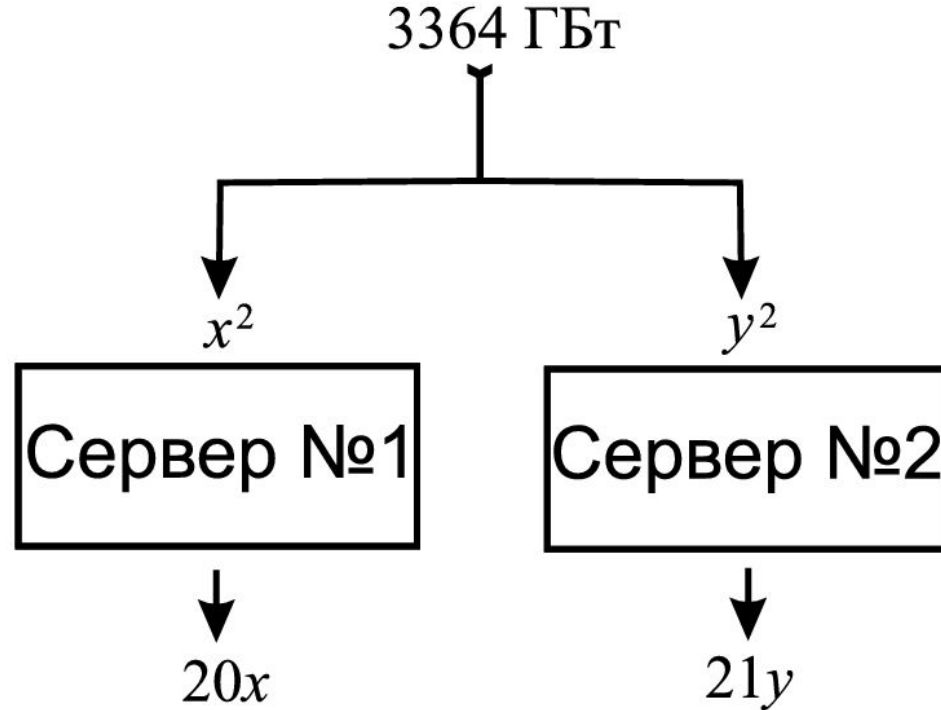
*Ответ: 2.*

## Задача 6.

Первичная информация разделяется по серверам №1 и №2 и обрабатывается на них. С сервера №1 при объёме  $t^2$  Гбайт входящей в него информации выходит  $20t$  Гбайт, а с сервера №2 при объёме  $t^2$  Гбайт входящей в него информации выходит  $21t$  Гбайт обработанной информации;  $25 \leq t \leq 55$ . Каков наибольший общий объём выходящей информации при общем объёме входящей информации в 3364 Гбайт?



# Решение №1



Пусть на сервере №1 обрабатывается  $x^2$ , а на сервере №2 обрабатывается  $y^2$  Гбайт из всей первичной информации. Тогда  $x^2 + y^2 = 3364$ , а обработано будет  $20x + 21y$  Гбайт информации. Требуется найти максимум суммы  $20x + 21y$  при условии

$$x^2 + y^2 = 3364, \quad 25 \leq x \leq 55, \quad 25 \leq y \leq 55.$$

## Решение №1

Так как  $3364 = 58^2$ , то  $x = 58 \cos \alpha$ ,  $y = 58 \sin \alpha$  для некоторого угла  $\alpha \in [0; \pi/2]$ . Так как  $20^2 + 21^2 = 29^2$ , то

$$20x + 21y = 58(20 \cos \alpha + 21 \sin \alpha) = 58 \cdot 29 \left( \frac{20}{29} \cos \alpha + \frac{21}{29} \sin \alpha \right) = 58 \cdot 29 \sin(\alpha + \varphi)$$

для вспомогательного угла  $\varphi$  с  $\cos \varphi = \frac{21}{29}$ ,  $\sin \varphi = \frac{20}{29}$ . Следовательно, наибольшее

значение суммы  $20x + 21y$  равно  $58 \cdot 29 = 1682$ . Оно достигается при

$\cos \alpha = \frac{20}{29}$ ,  $\sin \alpha = \frac{21}{29}$ ,  $x = 40$ ,  $y = 42$ , т.е. для значений, удовлетворяющих условиям

$25 \leq x \leq 55$ ,  $25 \leq y \leq 55$ .

**Ответ:** 1682.

## Решение №2

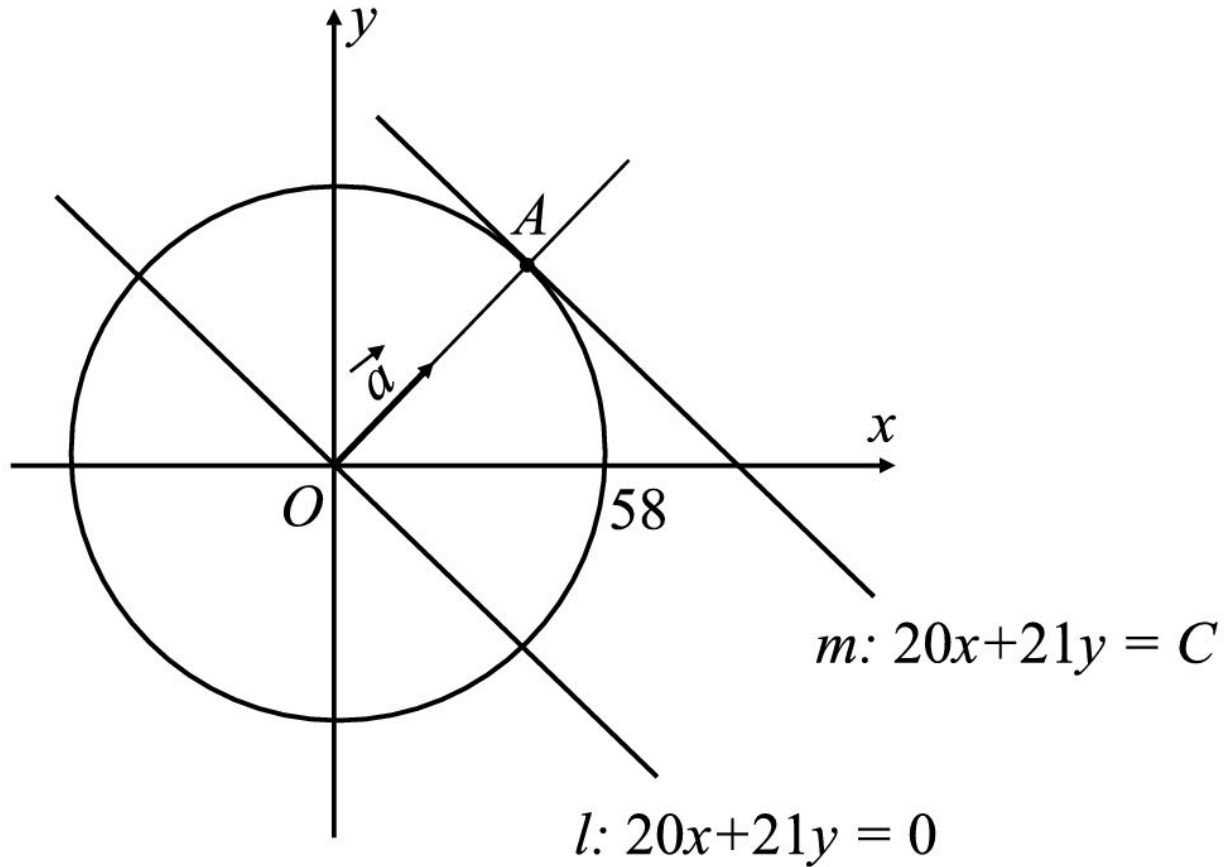
Пусть на сервере №1 обрабатывается  $x^2$ , а на сервере №2 обрабатывается  $y^2$  Гбайт из всей первичной информации. Тогда  $x^2 + y^2 = 3364$ , а обработано будет  $20x + 21y$  Гбайт информации. Выразим  $y$  через  $x$ :  $y = \sqrt{3364 - x^2}$ . Требуется найти наибольшее значение функции  $f(x) = 20x + 21\sqrt{3364 - x^2}$ .

$$f'(x) = 20 - \frac{21x}{\sqrt{3364 - x^2}}, \quad f'(x) = 0, \quad 400 = \frac{441x^2}{3364 - x^2}, \quad x^2 = \frac{400 \cdot 3364}{841} = 1600, \quad x = 40.$$

Поэтому  $x = 40$  единственная критическая точка и  $y = \sqrt{3364 - 1600} = 42$ . Условия  $25 \leq x \leq 55$ ,  $25 \leq y \leq 55$  выполнены. Если  $x < 40$ , то  $x^2 < 1600$ ,  $400 > \frac{441x^2}{3364 - x^2}$  и  $f'(x) > 0$ . Если  $x > 40$ , то  $f'(x) < 0$ . Поэтому  $x = 40$  есть точка максимума. Значит,  $f_{\text{наиб}} = f(40) = 20 \cdot 40 + 21 \cdot 42 = 1682$ .

**Ответ:** 1682.

## Решение №3



Пусть на сервере №1 обрабатывается  $x^2$ , а на сервере №2 обрабатывается  $y^2$  Гбайт из всей первичной информации. Тогда  $x^2 + y^2 = 3364$ , а обработано будет  $20x + 21y$  Гбайт информации.

Так как  $3364 = 58^2$ , то  $x^2 + y^2 = 3364$  задает окружность  $\omega$  радиуса 58 с центром в начале координат. Проведем целевой вектор  $\vec{a}(20; 21)$  и перпендикулярную ему прямую  $l: 20x + 21y = 0$ , проходящую через начало



## Решение №3

координат. Луч, коллинеарный вектору  $\vec{a}(20;21)$ , пересечёт окружность  $\omega$  в точке  $A(40;42)$ . Прямая  $m$  проходящая через точку  $A(40;42)$  и перпендикулярная вектору  $\vec{a}(20;21)$  будет касаться окружности  $\omega$  и задаваться уравнением  $m: 20x + 21y = C$  со значением  $C$ , наибольшим среди всех прямых параллельных  $l$  и пересекающих  $\omega$ . Условия  $25 \leq x \leq 55$ ,  $25 \leq y \leq 55$  для точки  $A(40;42)$  выполнены. Значит,

$$C_{\text{наиб}} = 20 \cdot 40 + 21 \cdot 42 = 1682.$$

**Ответ:** 1682.

## Задача 6 (а).

Владимир является владельцем двух заводов в разных городах. На заводах производятся абсолютно одинаковые товары, но на заводе, расположенном во втором городе, используется более совершенное оборудование. В результате, если рабочие на заводе, расположенном в первом городе, трудятся суммарно  $t^2$  часов в неделю, то за эту неделю они производят  $2t$  единиц товара; если рабочие на заводе, расположенном во втором городе, трудятся суммарно  $t^2$  часов в неделю, то за эту неделю они производят  $5t$  единиц товара.

За каждый час работы (на каждом из заводов) Владимир платит рабочему 500 рублей.

Владимиру нужно каждую неделю производить 580 единиц товара. Какую наименьшую сумму придётся тратить еженедельно на оплату труда рабочих?

## Решение

Допустим, что на заводе, расположенном в первом городе, рабочие трудятся  $x^2$  часов, а на заводе, расположенном во втором городе,  $y^2$  часов. Тогда в неделю будет произведено  $2x + 5y$  единиц товара, а затраты на оплату труда составят  $500(x^2 + y^2)$  рублей. В этом случае нужно найти наименьшее значение  $500(x^2 + y^2)$  при условии  $2x + 5y = 580$ . Выразим  $y$  через  $x$ :

$$y = \frac{580 - 2x}{5}, \quad 0 \leq x \leq 290.$$

Таким образом, нам нужно найти наименьшее значение функции

$$S(x) = 500 \left( x^2 + \left( \frac{580 - 2x}{5} \right)^2 \right)$$

при  $0 \leq x \leq 290$ . После преобразования получаем:

$$S(x) = 20(29x^2 - 2320x + 336\,400).$$

Наименьшее значение квадратного трёхчлена  $29x^2 - 2320x + 336\,400$

достигается при  $x = \frac{2320}{2 \cdot 29} = 40$ , причём  $40 \in [0; 290]$ . При этом значении

получаем:  $S(40) = 5\,800\,000$ .

Ответ: 5 800 000 руб.

Содержание критерия	Баллы
Обоснованно получен верный ответ	3
Верно построена математическая модель, решение сведено к исследованию этой модели и получен результат: — неверный ответ из-за вычислительной ошибки; — верный ответ, но решение недостаточно обосновано	2
Верно построена математическая модель, решение сведено к исследованию этой модели, при этом решение может быть не завершено	1
Решение не соответствует ни одному из критериев, перечисленных выше	0
<i>Максимальный балл</i>	3



## Задача 7.

Производительность первого цеха завода не более 730 произведённых телевизоров в сутки.

Производительность второго цеха завода до реконструкции составляла 75% от производительности первого цеха. После реконструкции второй цех увеличил производительность на 20% и стал выпускать более 640 телевизоров в сутки.

Найдите, сколько телевизоров в сутки выпускает второй цех после реконструкции, если оба цеха выпускают в сутки целое число телевизоров.

## Решение

Пусть первый цех в сутки выпускает  $x$  телевизоров, тогда до реконструкции второй цех выпускал  $0,75x$  телевизоров, при этом  $x \in N$  и  $0,75x \in N$ . Получим из этого, что  $\frac{75x}{100} = \frac{3x}{4} \in N$ , значит  $x$  кратно 4.

После реконструкции второй цех стал выпускать  $0,75x \cdot 1,2 = 0,9x$  часов, при этом  $0,9x = \frac{9x}{10} \in N$ , значит  $x$  кратно 10.

Таким образом,  $x$  кратно 20.

По условию,  $x \leq 730$  и  $0,9x > 640$  или  $x > 711$ .

Число, кратное 20 и  $711 < x \leq 730$ , это число 720.

Второй цех после реконструкции стал выпускать  $720 \cdot 0,9 = 648$  телевизоров в сутки.

*Ответ:* 648.

## Задача 8.

Заводы в США и России за февраль выпустили более 39 танков. Число танков, выпущенных в России, уменьшенное на 3, более чем в 4 раза превышает число танков, выпущенных в США. Утроенное число танков, выпущенных в России, превышает удвоенное число танков, выпущенных за февраль в США, но не более, чем на 85. Сколько танков выпустили за февраль на заводе в России?

### Решение

Пусть за февраль на заводе в России выпустили  $x$  танков, а в США —  $y$  танков. По условию можно составить систему неравенств:

$$\begin{cases} x + y > 39, \\ x - 3 > 4y, \\ 3x - 2y \leq 85. \end{cases}$$

При этом  $x$  и  $y$  — натуральные числа. Выразим одну из переменных во всех трёх неравенствах.

$$\begin{cases} x > 39 - y, \\ x > 4y + 3, \\ x \leq \frac{85 + 2y}{3}. \end{cases}$$

$$\text{Тогда получим } \begin{cases} 39 - y < x \leq \frac{85 + 2y}{3}, \\ 4y + 3 < x \leq \frac{85 + 2y}{3}; \end{cases}$$

$$\begin{cases} 117 - 3y < 85 + 2y, \\ 12y + 9 < 85 + 2y; \\ 5y > 32, \\ 10y < 76; \end{cases}$$

$$\begin{cases} y > 6,4, \\ y < 7,6; \end{cases} \quad y = 7 \text{ — единственное целое решение.}$$

Подставим  $y = 7$  в начальную систему неравенств.

$$\begin{cases} x + 7 > 39, \\ x - 3 > 28, \\ 3x - 14 \leq 85; \\ x > 32, \\ x > 31, \\ x \leq 33. \end{cases}$$

Так как  $x$  целое, то  $x = 33$ .

В России на заводе за февраль выпустили **33** танка.

*Ответ:* **33**.



## Задача 9.

Для перевозки большого числа ящиков по 130 кг и по 110 кг выделены двухтонные машины. Можно ли загрузить такими ящиками машину полностью? Укажите все варианты того, сколько ящиков каждого вида при этом можно взять.

## Решение

Обозначим через  $x$  число ящиков по 130 кг и через  $y$  — число ящиков по 110 кг. Тогда должно выполняться  $130x + 110y = 2000$ , или  $13x + 11y = 200$ , где  $x$  и  $y$  могут быть только целыми положительными числами.

$$x \geq 0, \text{ поэтому } 11y \leq 200, y \leq 18.$$

$$y \geq 0, \text{ поэтому } 13x \leq 200, x \leq 15.$$

Далее у нас есть два пути.

1) Перебираем все значения  $x$  от 0 до 15 и находим целые значения  $y$ .

2) Решим уравнение  $13x + 11y = 200$  в целых числах.  $11y = 200 - 13x$ ,

$$y = 18 - x + \frac{2 - 2x}{11}, y = 18 - x + \frac{2(1 - x)}{11}. \text{ Так как } x, y \text{ целые,}$$

то  $1 - x$  делится на 11,  $1 - x = 11k, k \in Z, x = 1 - 11k$ ,

$$y = \frac{200 - 13x}{11} = \frac{200 - 13(1 - 11k)}{11} = \frac{200 - 13}{11} + 13k = 17 + 13k.$$

$$\text{Мы получили, что } \begin{cases} x = 1 - 11k, \\ y = 17 + 13k, \end{cases} k \in Z.$$

$$x \geq 0, 1 - 11k \geq 0, k \leq \frac{1}{11},$$

$$y \geq 0, 17 + 13k \geq 0, k \geq -\frac{17}{13}, \text{ значит } k \text{ может быть равно } -1 \text{ или } 0.$$

Если  $k = -1$ , то  $x = 12, y = 4$ .

Если  $k = 0$ , то  $x = 1, y = 17$ .

*Ответ:* 12 ящиков по 130 кг и 4 ящика по 110 кг или 1 ящик по 130 кг и 17 ящиков по 110 кг.

## Задача 10.

Билл несколько лет назад вложил деньги в акции некоторого предприятия. Ежегодно он получал прибыль по акциям сначала  $9\frac{1}{11}\%$  в год, потом  $37,5\%$  в год и наконец  $6\frac{2}{3}\%$  в год и сразу же вкладывал деньги в те же акции. Известно, что одинаковые процентные ставки были равное число лет, а в конце первоначальная сумма его вклада увеличилась на  $156\%$ . Определите срок хранения вклада.

## Решение

Увеличение вклада на  $9\frac{1}{11}\%$  увеличивает его в  $\left(100 + 9\frac{1}{11}\right) : 100$  раз, или в  $\frac{1200}{1100} = \frac{12}{11}$  раза. Аналогично, увеличение на  $37,5\%$  увеличивает вклад в  $\frac{550}{400}$  раза, увеличение на  $6\frac{2}{3}\%$  — в  $\frac{16}{15}$  раза. Если каждая процентная ставка была  $k$  лет, то вклад увеличился в  $\left(\frac{12}{11} \cdot \frac{55}{40} \cdot \frac{16}{15}\right)^k$  раз, что по условию равно  $\frac{100 + 156}{100}$  или  $\frac{64}{25}$  раза.

$$\left(\frac{12}{11} \cdot \frac{55}{40} \cdot \frac{16}{15}\right)^k = \frac{64}{25}, \left(\frac{8}{5}\right)^k = \frac{64}{25}; k = 2.$$

Всего вклад хранился  $3 \cdot 2 = 6$  лет.

*Ответ:* 6 лет.



## Задача 11.

Цена производителя на товар  $A$  составляет 20 рублей. Прежде чем попасть на прилавок магазина, товар проходит через несколько фирм-посредников, каждая из которых увеличивает текущую цену в 2 или 3 раза и осуществляет услуги по транспортировке и хранению товара. Магазин делает наценку 20%, после чего покупатель приобрёл товар за 576 рублей. Сколько посредников было между магазином и производителем?

### Решение

Определим цену, по которой магазин закупил товар  $A$  у посредника. Она равна  $576 : 1,2 = 480$  (рублей). Значит, за счёт посредников цена возросла в  $\frac{480}{20} = 24$  раза. Пусть  $k$  посредников увеличивали цену в 2 раза,  $m$  — в 3 раза. Тогда  $24 = 2^k \cdot 3^m$ , 2 и 3 — взаимно простые числа. Но  $24 = 2^3 \cdot 3^1$ , поэтому  $k = 3$ ,  $m = 1$ . Общее число посредников равняется  $k + m = 3 + 1 = 4$ .

*Ответ:* 4.

## Задача 12.

Первоначально годовой фонд заработной платы столовой составлял 1 500 000 рублей. После увеличения числа клиентов, штатное расписание было увеличено на 9 человек, а фонд заработной платы возрос до 5 250 000 рублей, средняя годовая заработная плата (относительно всех сотрудников) стала больше на 100 000 рублей. Какова стала средняя заработная плата (относительно всех сотрудников) после увеличения годового фонда?

## Решение

Пусть изначально в столовой работали  $n$  человек. Тогда средняя годовая заработная плата (в рублях) равнялась  $\frac{1\,500\,000}{n}$ .

После увеличения числа клиентов штат сотрудников составил  $(n + 9)$  человек, а средняя годовая заработная плата возросла до  $\frac{5\,250\,000}{n + 9}$  рублей. По условию  $\frac{5\,250\,000}{n + 9} - \frac{1\,500\,000}{n} = 100\,000$ .

Определим  $n$ . Сократив обе части уравнения на 50 000,

$$\text{получим } \frac{105}{n + 9} - \frac{30}{n} = 2; \quad \frac{105n - 30(n + 9)}{n(n + 9)} = \frac{75n - 270}{n(n + 9)};$$

$$75n - 270 = 2n(n + 9); \quad 2n^2 + 18n = 75n - 270; \quad 2n^2 - 57n + 270 = 0;$$

$$n_{1,2} = \frac{57 \pm \sqrt{3249 - 2160}}{4} = \frac{57 \pm 33}{4}; \quad n_1 = 6; \quad n_2 = 22,5.$$

Число сотрудников должно выражаться неотрицательным целым числом, поэтому  $n = 6$ . Тогда  $n + 9 = 15$ . Искомая средняя годовая заработная плата равна  $\frac{5\,250\,000}{15} = 350\,000$  (рублей).

*Ответ:* 350 000 рублей.

## Задача 13.

Компания  $A$  решила распределить премиальный фонд за январь между тремя сотрудниками в соотношении  $8 : 5 : 4$ , но потом руководство подумало и распределило тот же фонд в соотношении  $7 : 7 : 6$  между теми же сотрудниками, в результате третий сотрудник получил на 22000 рублей больше, чем получил бы по первоначальным условиям. Определите сумму премиального фонда за месяц (в рублях).



## Решение

Пусть премиальный фонд —  $x$  рублей. Будем, изначально предполагать, что первый сотрудник получит  $8k$  рублей, второй —  $5k$  рублей, а третий  $4k$  рублей. При этом  $8k + 5k + 4k = x$ ,  $k = \frac{x}{17}$ . Значит, третий сотрудник должен был получить  $\frac{4x}{17}$  рублей.

Пусть в итоге первый сотрудник получил  $7m$  рублей, тогда второй тоже получил  $7m$  рублей, а третьему досталось  $6m$  рублей. Но  $7m + 7m + 6m = x$ , откуда  $m = \frac{x}{20}$  и третий сотрудник получил  $\frac{6x}{20} = \frac{3x}{10}$  рублей.

Согласно условию, сумма которую выплатили третьему сотруднику на 22000 рублей больше изначально запланированной. Составим уравнение:

$\frac{3x}{10} - \frac{4x}{17} = 22000$ ,  $\frac{51x}{170} - \frac{40x}{170} = 22000$ ,  $\frac{11x}{170} = 22000$ ,  $x = 340000$ . Таким образом, премиальный фонд за месяц составил 340000 рублей.

*Ответ:* 340000

## Задача 14.

Цену на гречку подняли на 75%. Для того чтобы поменять ценник, продавец поменял местами цифры прежней стоимости 1 кг гречки. Цена гречки выражалась двузначным числом рублей, кратным 9. Сколько стоил 1 кг гречки до подорожания?

### Решение

По условию до подорожания цена гречки — двузначное число  $\overline{xy} = 10x + y$ . Здесь  $x$  — цифра десятков,  $y$  — цифра единиц. При этом  $x \neq 0$  и  $y \neq 0$ .

После повышения цены на 75% стоимость гречки стала  $(10x + y) \cdot 1,75$ , в то же время цена по условию стала  $\overline{yx} = 10y + x$ .

Получим уравнение:  $(10x + y) \cdot 1,75 = 10y + x$ ,  $17,5x + 1,75y = 10y + x$ ,  $16,5x = 8,25y$ ,  $2x = y$ .

Видим, что цифра единиц числа  $\overline{xy}$  в два раза больше цифры десятков. Среди двузначных чисел таких четыре: 12, 24, 36, 48. На 9 делится только число 36.

Начальная цена гречки 36 рублей.

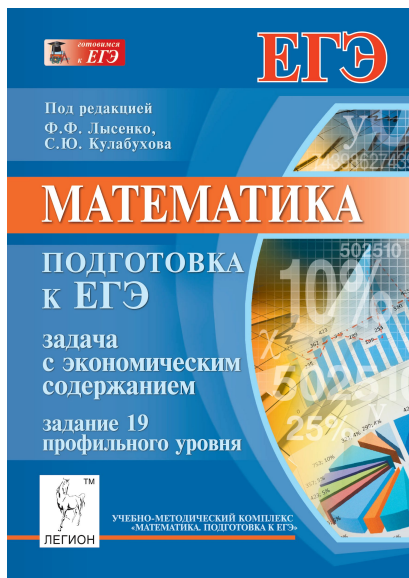
*Ответ:* 36 рублей.

# Литература


**1. Математика. Подготовка к ЕГЭ 2015. Книга 2:** учебно-методическое пособие/ под. ред. Ф. Ф. Лысенко, С. Ю. Кулабухова. Ростов-на-Дону: Легион, 2014. – 256 с.



**2. Задание с экономическим содержанием в ЕГЭ по математике.** Учебно-методическое пособие под ред. Ф. Ф. Лысенко, С. Ю. Кулабухова. Ростов-на-Дону: Легион, 2014. – 48 с.



**3. ЕГЭ. Математика : типовые экзаменационные варианты : 36 вариантов / под ред. И. В. Яценко.** – М. – «Национальное образование», 2015. – 272 с.







ИЗДАТЕЛЬСТВО  
**ЛЕГИОН**  
www.legionr.ru

Приказом Минобрнауки РФ №729 от 14.12.2009  
пособия издательства «Легион» допускаются к использованию  
в общеобразовательных учреждениях

**Ростов-на-Дону**  
**(863) 303-05-50**

# Спасибо за внимание!





Книги можно заказать в нашем  
интернет-магазине на сайте:

[www.legionr.ru](http://www.legionr.ru)

Спрашивайте  
в книжных магазинах города!



**Издательство  
регулярно проводит  
онлайн-семинары  
авторов пособий с  
педагогами. По  
завершении каждого  
вебинара участники  
получают  
электронные  
сертификаты.  
Ссылки для участия  
вы сможете найти на  
сайте издательства  
[www.legionr.ru](http://www.legionr.ru)**



***Все вебинары  
издательства «Легион»  
носят обучающий характер***



**legionrus@legionrus.com**

**Вступайте в группу  
«Издательство «Легион»  
в СОЦИАЛЬНЫХ СЕТЯХ:**

** Контактте**

** одноклассники**

** asebook**

**Видео вебинаров смотрите на  .**

**Адрес для корреспонденции:  
344000, г. Ростов-на-Дону, а/я 550**