

ПЛАНАРНЫЕ ГРАФЫ

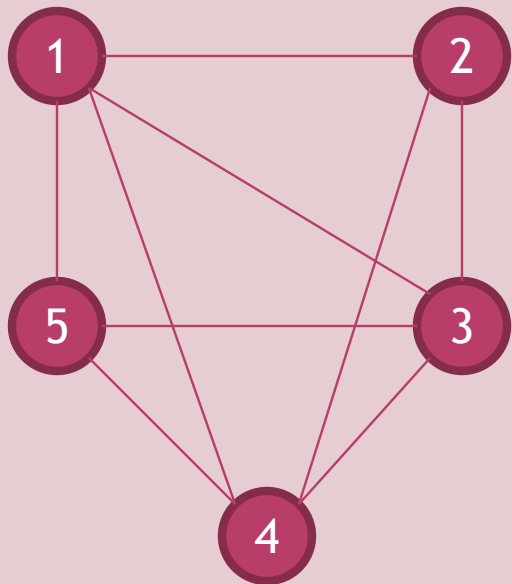
Лекция 6

ОПРЕДЕЛЕНИЕ ПЛАНАРНОГО ГРАФА

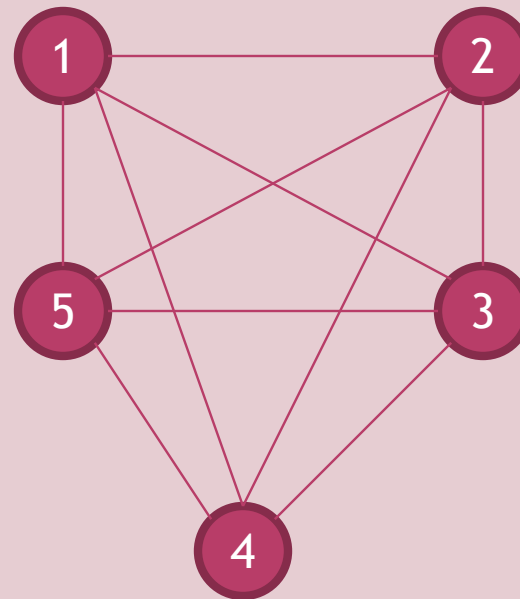
- Граф, изображенный на плоскости или на шаре, называется **плоским или планарным** графом, если его ребра (дуги) не пересекаются в точках, отличных от вершин графа.

ПРИМЕРЫ

Планарный граф



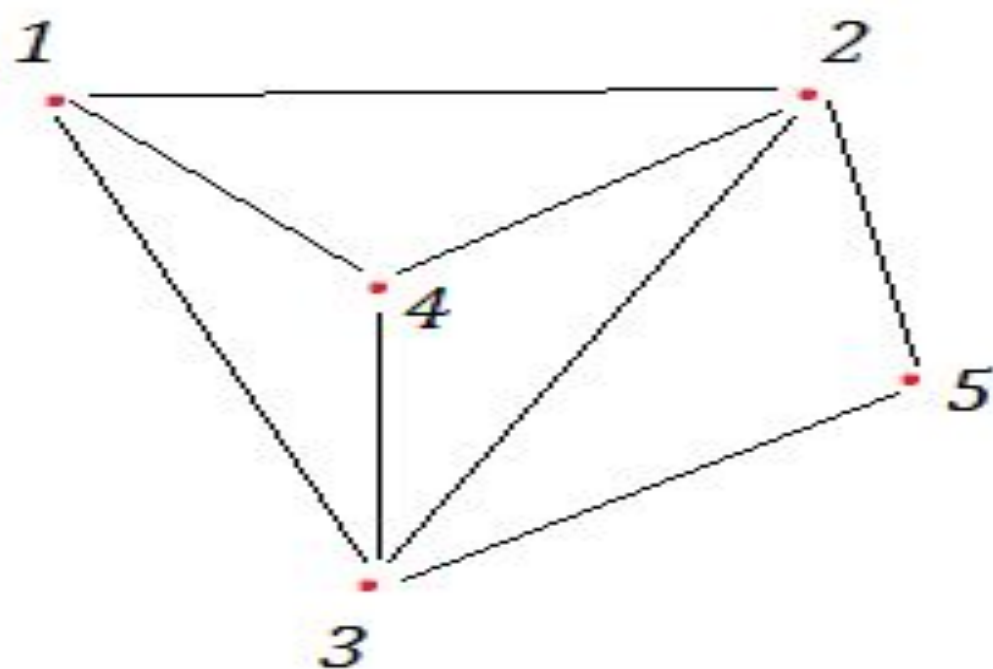
Непланарный граф



ЧТО ТАКОЕ «ГРАНЬ»

Гранью (страной) в плоском представлении графа называется **часть плоскости, ограниченная простым циклом и не содержащая внутри других циклов.**

ПРИМЕР



*Рис. 2. Плоский граф с 5 гранями:
1-2-4-1, 1-3-4-1, 2-4-3-1, 2-3-5-2 и
часть плоскости "вне" фигуры
графа*

ЭКСКУРС В ИСТОРИЮ


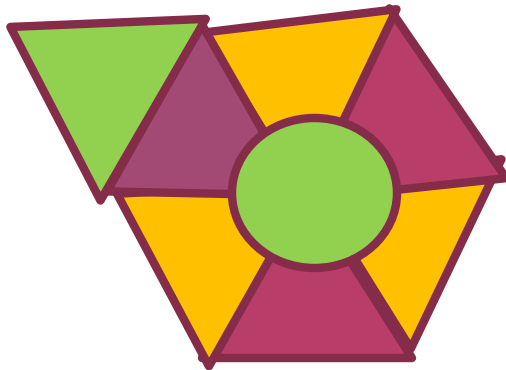
- Интерес к планарным графам возник в эпоху великих географических открытий: высоко ценились точные и четкие карты, но чем больше красок использовались на карте, тем она дороже. Отсюда задача: **сколько красок нужно, чтобы все страны на ней, имеющие общую границу, были окрашены в разный цвет, а число этих красок было минимально?**

ТЕОРЕМА О 4-Х КРАСКАХ


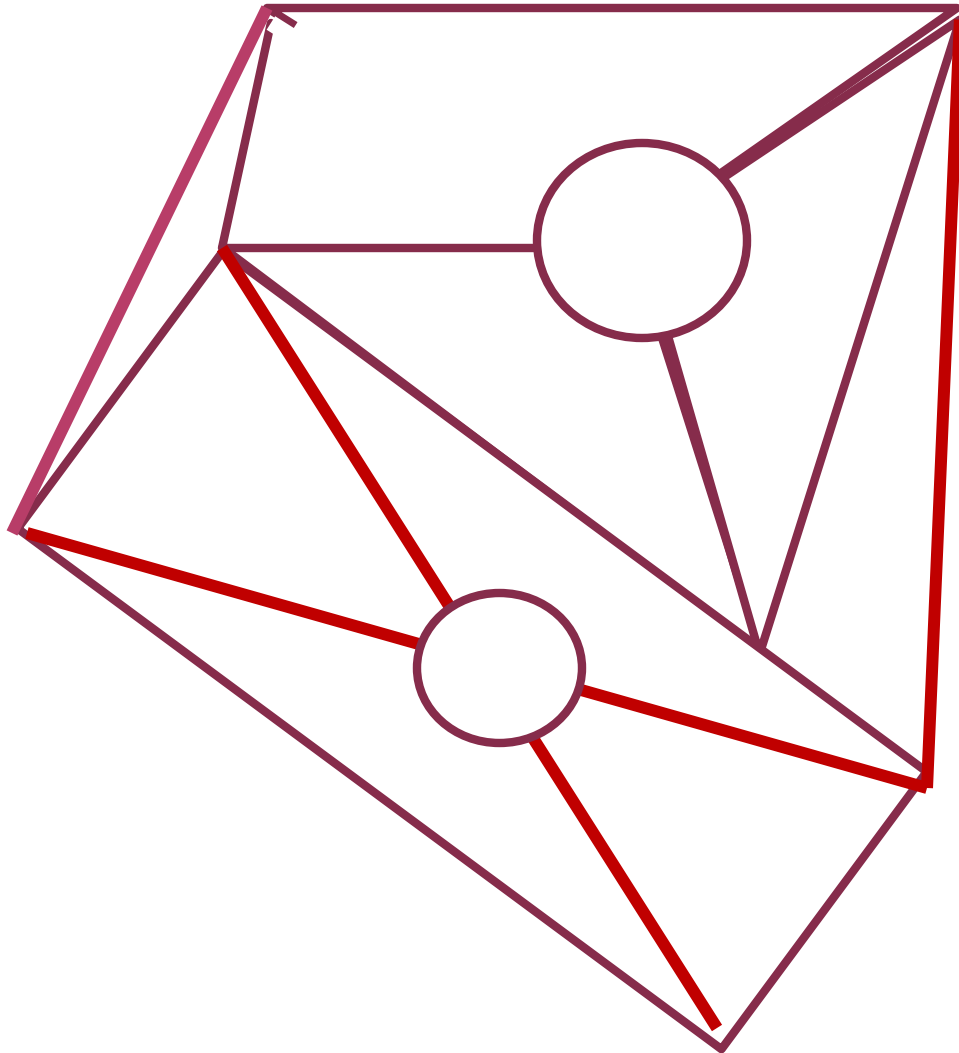
- Любую плоскую карту или карту на сфере можно раскрасить 4-я красками так, что страны, имеющие общую границу, будут разного цвета.



Раскрасить минимальным числом красок

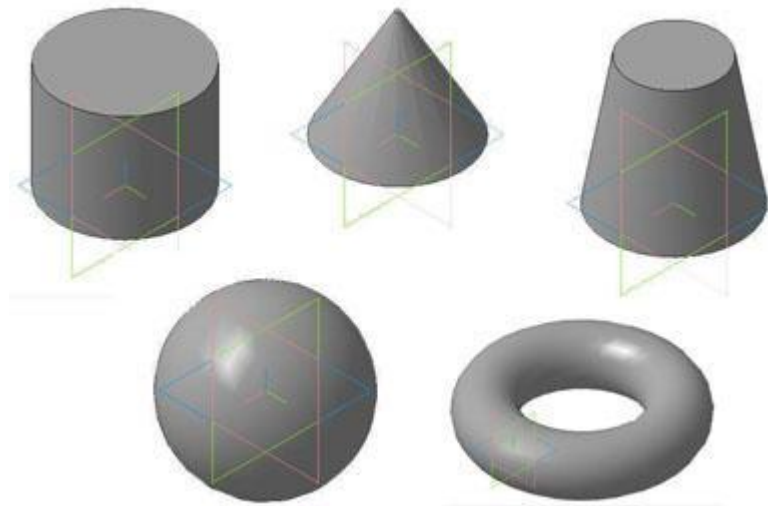


САМОСТОЯТЕЛЬНО РАСКРАСИТЬ
МИНИМАЛЬНЫМ ЧИСЛОМ КРАСОК



САМОСТОЯТЕЛЬНО

- Для каких из этих тел справедлива теорема о четырех красках?



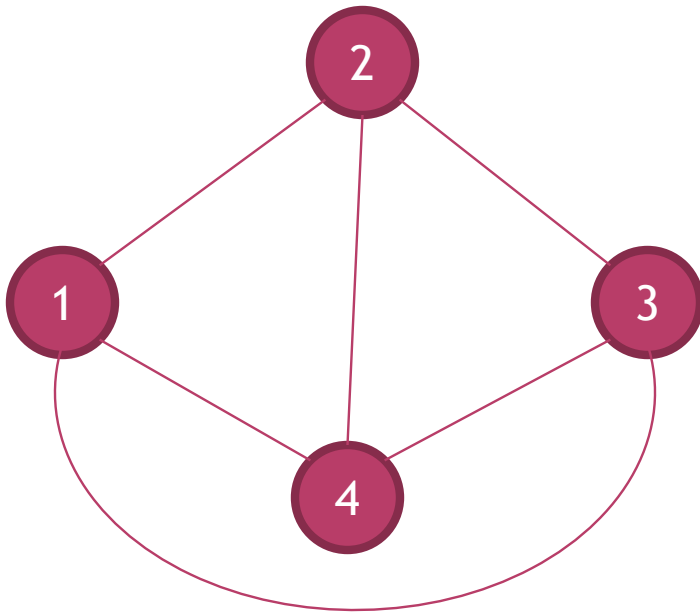
ТЕОРЕМА ЭЙЛЕРА

- Пусть V - количество вершин в графе, Γ - количество граней в плоском представлении графа, P - количество рёбер в графе. Тогда получаем *формулу Эйлера* для связного планарного графа:

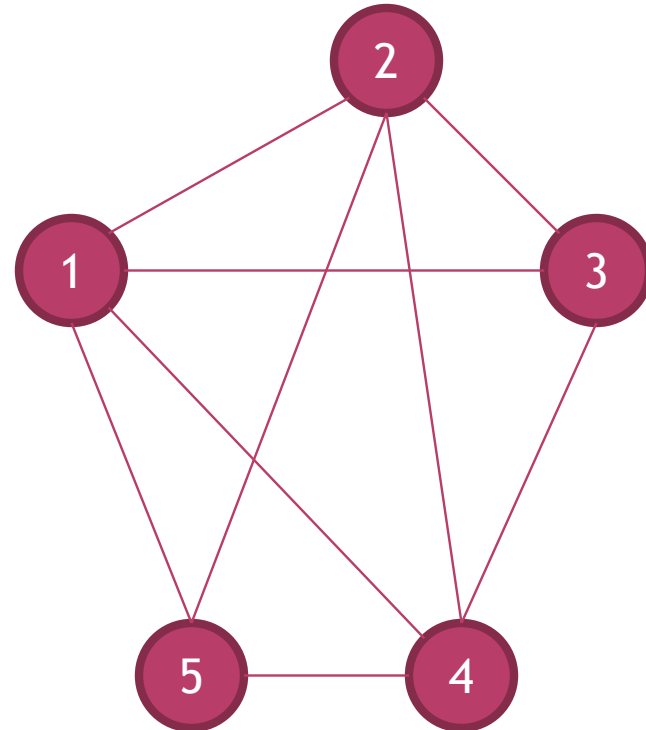
- $$V + \Gamma - P = 2$$

ПРИМЕРЫ

$G_1(X, U)$



$G_2(X, U)$



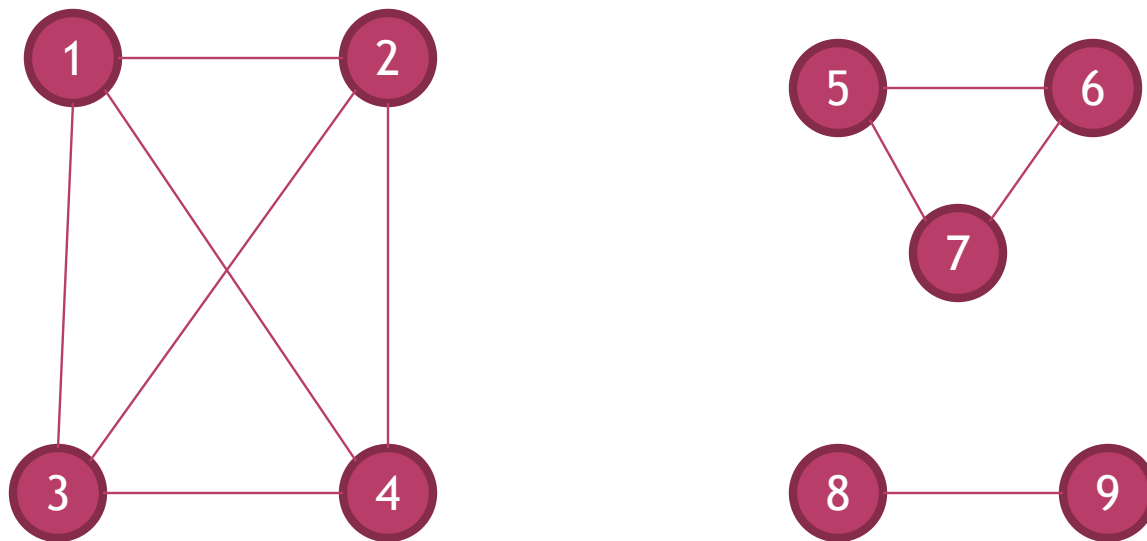
ФОРМУЛА ЭЙЛЕРА ДЛЯ НЕСВЯЗНОГО ГРАФА

Для несвязного
планарного графа с K
компонентами связности
формула Эйлера имеет
вид:

$$V + \Gamma - P = K + 1.$$

ПРИМЕР

Несвязный планарный граф с $K = 3$
компонентами:



$$V + \Gamma - P = K + 1$$

ТЕОРЕМА КУРАТОВСКОГО - ПОНТРЯГИНА

Граф планарен тогда и только тогда, когда он не содержит подграфов типов, приведённых ниже:

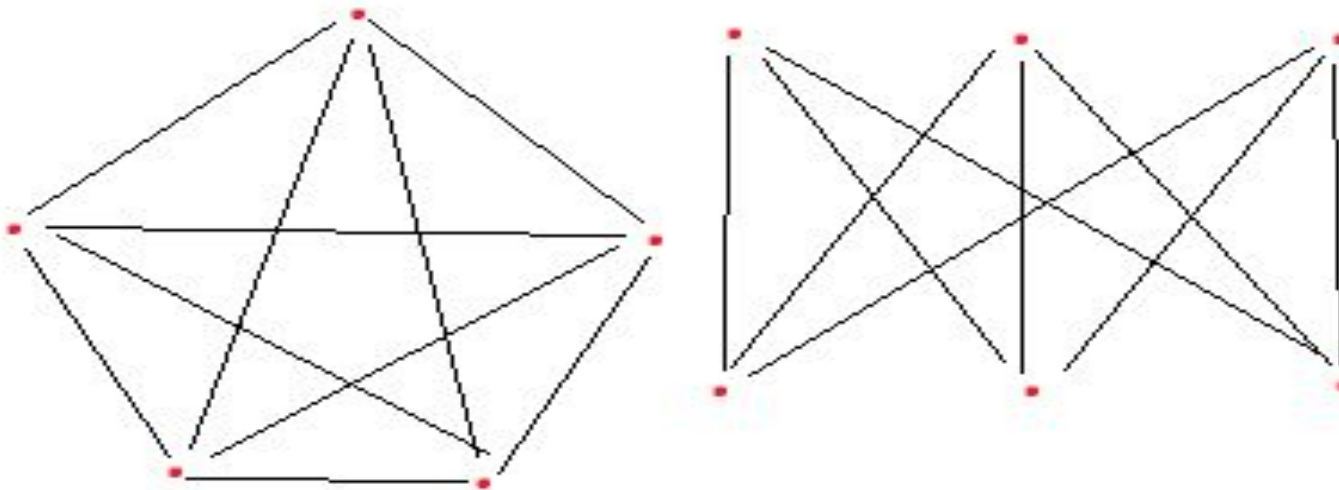
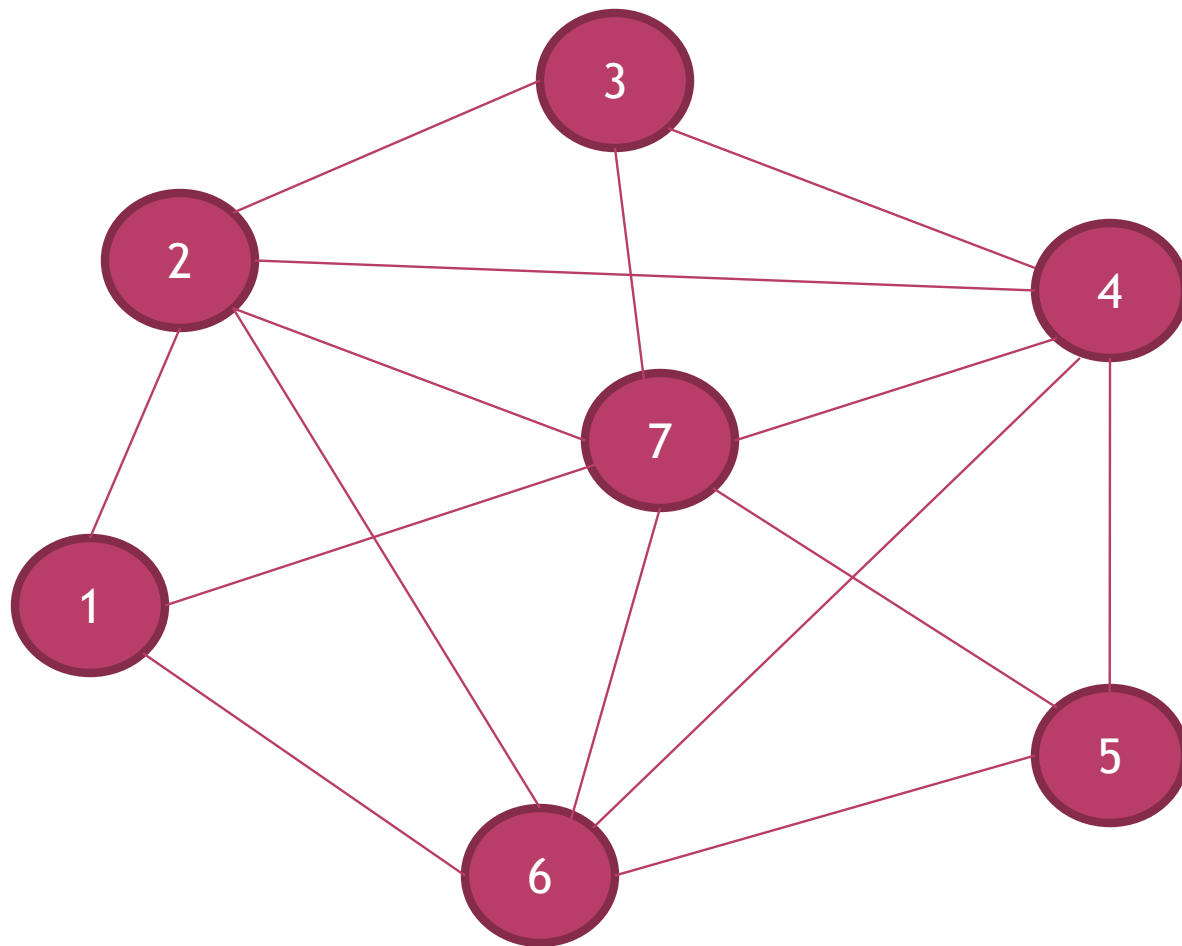


Рис. 6. Такие подграфы - признак непланарности графа

САМОСТОЯТЕЛЬНО ПРОВЕРИТЬ ПЛАНАРНОСТЬ ГРАФА



САМОСТОЯТЕЛЬНО

- Проверить планарность графов, приведенных ниже в персональных заданиях.

ПЕРСОНАЛЬНЫЕ ЗАДАНИЯ 1- 6

0	1	1	1	1
1	0	1	0	0
1	1	0	1	1
1	0	1	0	0
1	0	1	0	0

№ 1

0	1	1	1	0
1	0	1	0	1
1	1	0	0	0
1	0	0	0	1
0	1	0	1	0

№ 2

0	1	0	1	1
1	0	1	0	0
0	1	0	1	0
1	0	1	0	1
1	0	0	1	0

№ 3

0	1	0	1	0
1	0	1	0	1
0	1	0	1	1
1	0	1	0	1
0	1	1	1	0

№ 4

0	0	0	1	1
0	0	1	1	1
0	1	0	1	1
1	1	1	0	0
1	1	1	0	0

№ 5

0	1	1	0	1
1	0	1	0	0
1	1	0	0	1
0	0	0	0	1
1	0	1	1	0

№ 6

ПЕРСОНАЛЬНЫЕ ЗАДАНИЯ 7 - 12

0	1	0	1	1
1	0	1	0	0
0	1	0	1	1
1	0	1	0	1
1	0	1	1	0

№ 7

0	1	0	1	0
1	0	1	0	1
0	1	0	1	0
1	0	1	0	1
0	1	0	1	0

№ 8

0	0	1	1	1
0	0	1	0	0
1	1	0	1	0
1	0	1	0	1
1	0	0	1	0

№ 9

0	1	1	1	0
1	0	1	1	1
1	1	0	1	1
1	1	1	0	1
0	1	1	1	0

№ 10

0	0	1	1	1
0	0	1	0	1
1	1	0	1	1
1	0	1	0	1
1	1	1	1	0

№ 11

0	1	1	0	1
1	0	1	1	0
1	1	0	0	1
0	1	0	0	0
1	0	1	0	0

№ 12

ПЕРСОНАЛЬНЫЕ ЗАДАНИЯ 13 - 18

0	1	0	1	1
1	0	1	0	1
0	1	0	1	1
1	0	1	0	1
1	1	1	1	0

№ 13

0	1	0	1	1
1	0	1	0	1
0	1	0	0	0
1	0	0	0	1
1	1	0	1	0

№ 14

0	1	0	1	1
1	0	1	1	0
0	1	0	1	1
1	1	1	0	1
1	0	1	1	0

№ 15

0	1	0	1	0
1	0	1	1	1
0	1	0	1	1
1	1	1	0	1
0	1	1	1	0

№ 16

0	0	1	1	0
0	0	1	0	1
1	1	0	1	1
1	0	1	0	1
0	1	1	1	0

№ 17

0	1	0	0	1
1	0	1	1	0
0	1	0	1	1
0	1	1	0	1
1	0	1	1	0

№ 18

ПЕРСОНАЛЬНЫЕ ЗАДАНИЯ 19 - 24

0	1	1	1	1
1	0	1	0	0
1	1	0	1	1
1	0	1	0	0
1	0	1	0	0

№ 19

0	1	1	1	0
1	0	1	0	1
1	1	0	0	0
1	0	0	0	1
0	1	0	1	0

№ 20

0	0	0	1	1
0	0	1	0	1
0	1	0	1	0
1	0	1	0	1
1	1	0	1	0

№ 21

0	1	0	1	1
1	0	1	0	0
0	1	0	1	0
1	0	1	0	1
1	1	1	1	0

№ 22

0	1	0	1	1
1	0	1	0	1
0	1	0	1	1
1	0	1	0	0
1	1	1	0	0

№ 23

0	1	0	0	1
1	0	1	1	0
0	1	0	0	1
0	1	0	0	1
1	0	1	1	0

№ 24