

# Революционные движения в Европе и Азии после Первой мировой войны



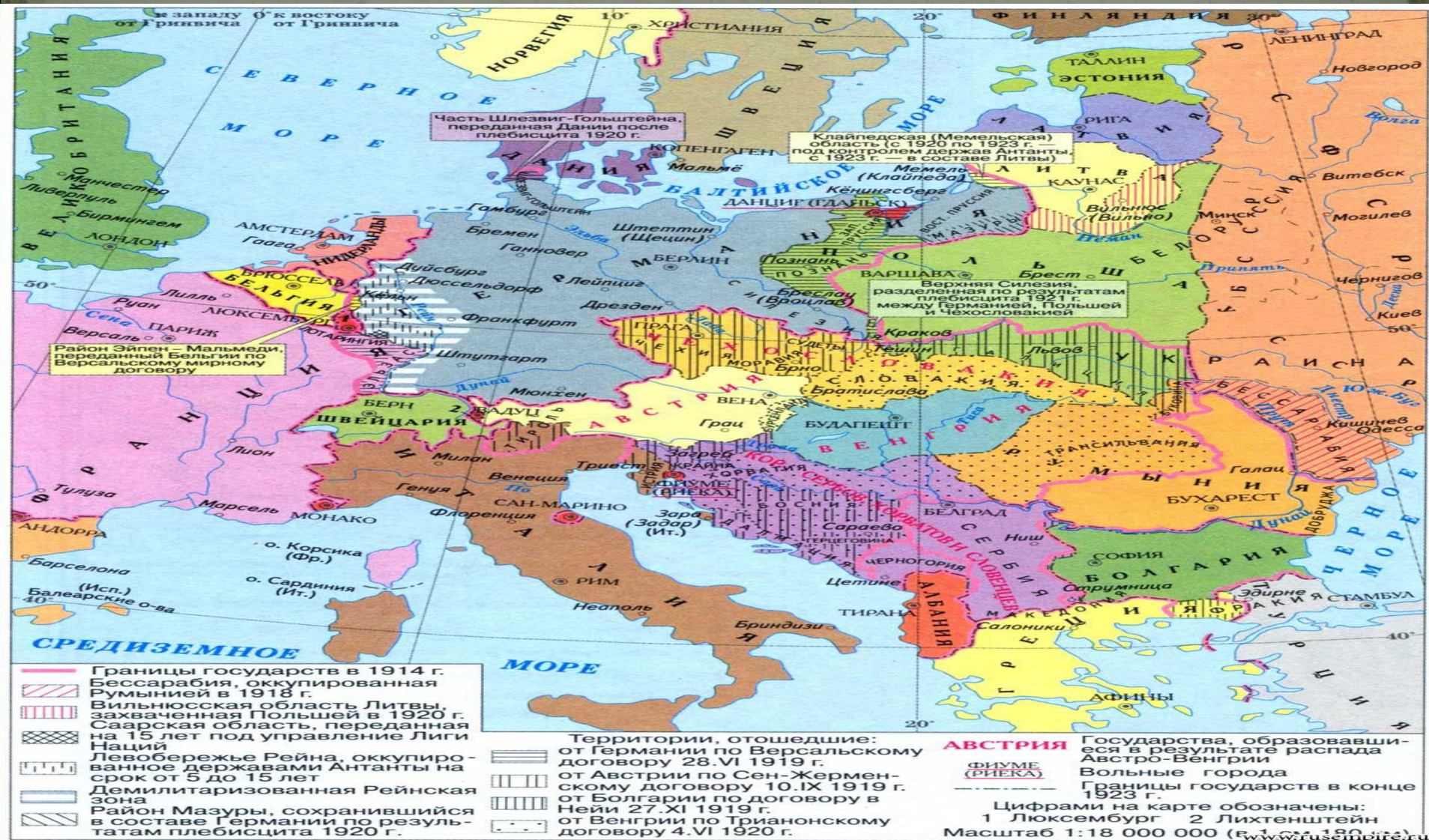
# Домашнее задание

1. Параграф 2 (чтение)
2. Составить таблицу (стр.23 – письменно)
3. Контурная карта №1.





# Одним из результатов Первой мировой войны явился распад Российской, Германской, Австро-Венгерской и Османской империй.





# Советская Россия РСДРП (б)

**26 октября 1917 г.** в России к власти пришла партия большевиков и В.И. Ленин.

Следуя провозглашенному ранее принципу *«права наций на самоопределение вплоть до отделения»*, правительство В. И. Ленина предоставило независимость **Финляндии, Польше, Украине**, странам Прибалтики и Закавказья.



# Революция 1918 г. в Германии

Кайзер Вильгельм II



Президент Фридрих Эбёрт





*Лидеры Коммунистической партии Германии  
(КПГ)*

Роза Люксембург



Карл Либкнехт



# *Революция 1919 г. в Венгрии*

Шандор Гарбаи



Миклош Хорти





# Национально – освободительные движения в государствах Востока. Революции 1920 – х. гг.

Мустафа Кемаль (Ататюрк)  
Турция



Мавзолей Ататюрка  
(«Аныткабир»)



# Иран

Мохаммед Реза – хан Пехлеви




Полный герб Шаха  
Ирана Мохаммеда  
Резы Пехлеви



# Индия

Глава Индийского Национального конгресса (ИНК) –  
Мохандас Карамчанд Ганди («Махатма»)



Махатма Ганди и  
Индира Ганди в  
1924 году






# *Китай*

Чан Кайши



Сунь Ятсен





Мао Цзэдун



**毛泽东同志是当代最伟大的马克思列宁主义者**