



- Назовите имя этого человека?
- Когда он жил? _____
- Чем он прославился?



Александр Македонский
июль 356 до н. э., Пелла, —
13.6.323 до н. э., Вавилон. Один
из величайших полководцев и
государственных деятелей
древнего мира.

■ На какие государства распалась держава Александра Македонского?

Средиземноморье – общее название стран, расположенный по берегам Средиземного моря.



Крупнейшие государства, образовавшиеся на территории державы Александра Македонского после ее распада

Границы державы Александра Македонского в 325 г. до н.э.

В Александрии Египетской

План урока:

1. Распад державы Александра Македонского
2. В александрийском порту
3. На улицах и площадях
4. В александрийском музее

АЛЕКСАНДРИЯ

6

ЕГИПЕТСКОЕ МОРЕ

маяк


Царский дворец

Большой порт

ИУДЕЙСКИЙ КВАРТАЛ

Ипподром

храм Изиды



АЛЕКСАНДРИЯ

К О Е М О Р Е



АЛЕКСАНДРИЯ

6

ЕГИПЕТСКОЕ МОРЕ



Музей – «место где обитают Музы»



- Кто такие музы?
- Сколько их было?
- Назовите их имена?

Музы — греческие богини искусства. Дочери Зевса и богини памяти Мнемосины. Муз было девять и каждая исполняла свои обязанности, покровительствуя определённому виду искусства.

- Каллиопа - муза эпической поэзии,
- Эвтерпа — муза лирической поэзии,
- Эрато — муза любовной поэзии,
- Талия (Фалия) — муза комедии,
- Мельпомена — муза трагедии,
- Терпсихора — муза танца,
- Клио — муза истории,
- Урания — муза астрономии,
- Полигимния (Полимния) — сначала муза танцев, потом пантомимы и гимнов.



АЛЕКСАНДРИЯ

6

ЕГИПЕТСКОЕ МОРЕ



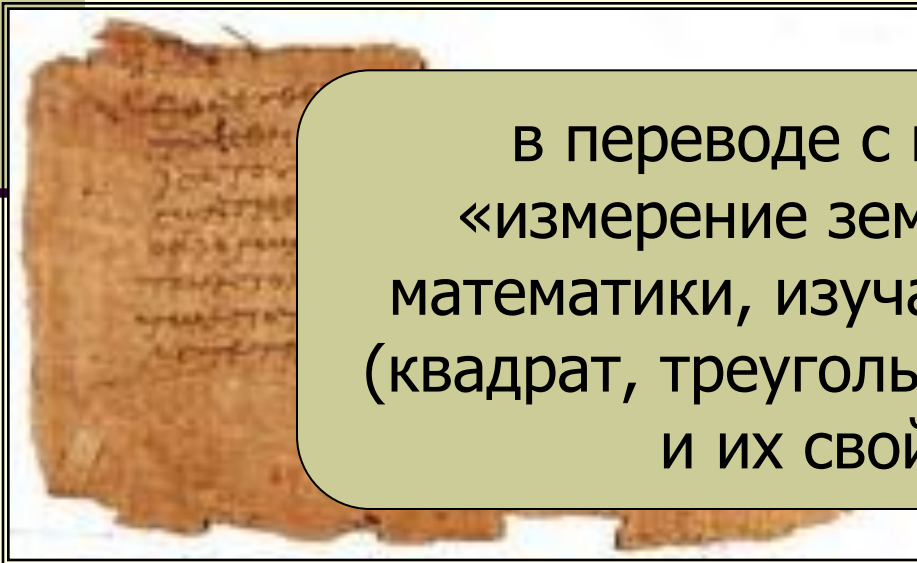
«Государь, к
науке Геометрии
нет царской
дороги!»


ЕВКЛИД

- написал книгу «Начала»
- учебник геометрии на
тысячи лет!




в переводе с греческого
«измерение земли»; раздел
математики, изучающий фигуры
(квадрат, треугольник, круг и др.)
и их свойства.





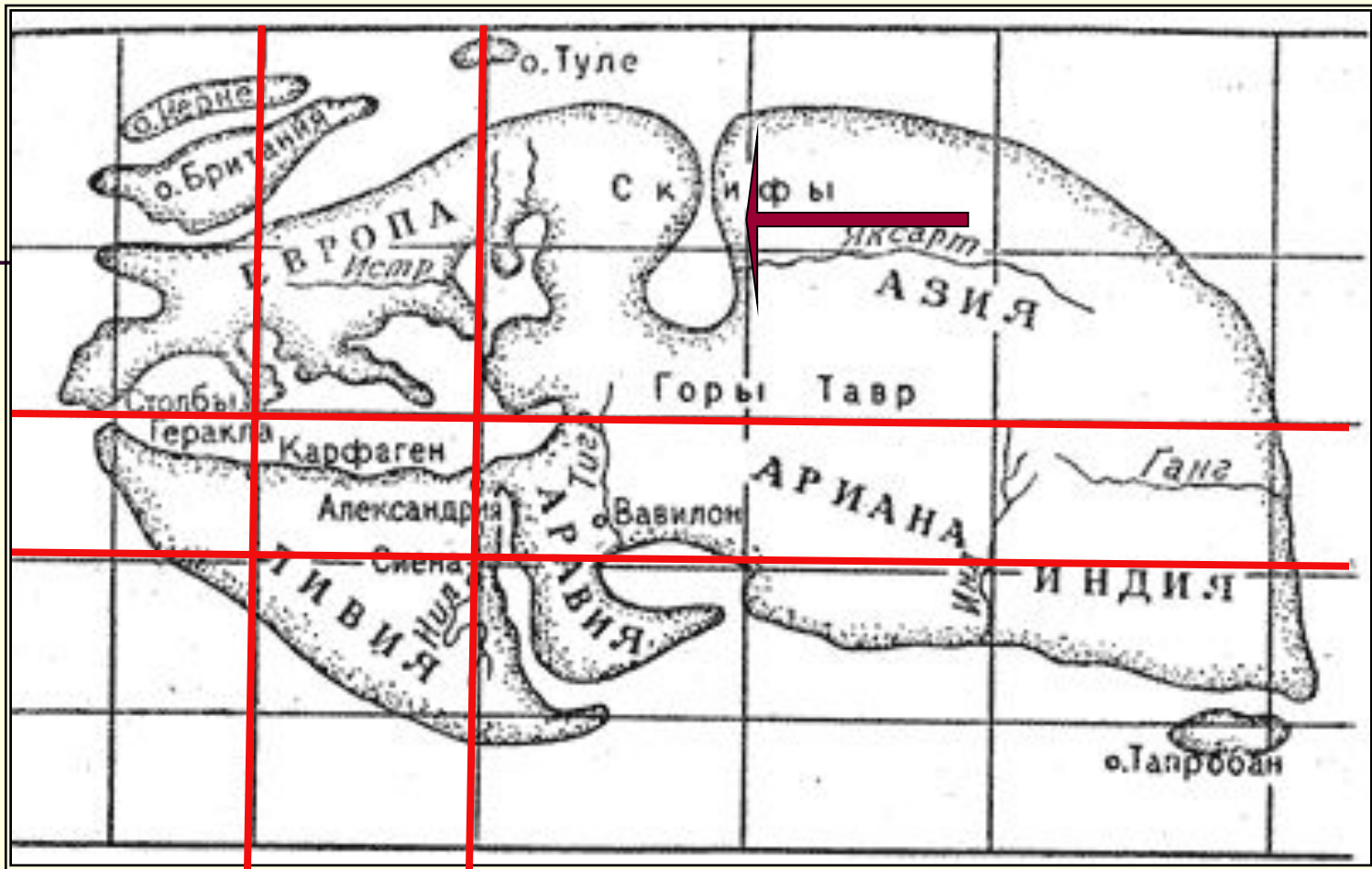
Аристарх Самосский

- сделал предположение, что земля вращается вокруг Солнца.



Эратосфен

- предсказал возможность кругосветных путешествий
- Утверждал, что национальность людей не влияет на их умственные способности



■ Чем эта карта похожа на современные?

Д/З:

П.43, одно из заданий на оранжевом фоне на выбор, на отдельном листе.

Знать имена, даты, основные события из пп. 41-43, будет опрос