

Повторить состав числа 2 и 3

Состав числа 2

$1 + 1 =$
 $2 - 1 =$

$1 + 0 =$
 $2 - 0 =$

$0 + 2 =$
 $1 + 1 =$

Сделай краткую запись и реши задачу

У медвежонка Винни был 1 воздушный шарик. У Пятачка тоже был 1 шарик. Сколько шариков было у обоих героев сказки?

Состав числа 3

$1 + 2 =$
 $3 - 2 =$
 $2 + _ = 3$
 $3 - _ = 2$

$2 + 1 =$
 $3 - 1 =$
 $1 + _ = 3$
 $3 + _ = 3$

$0 + 3 =$
 $3 - 0 =$
 $3 - _ = 1$
 $0 + _ = 3$

Сделай краткую запись и реши задачу

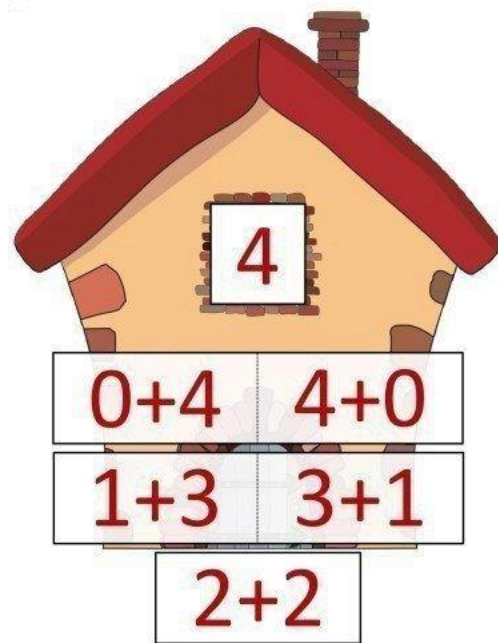
Кот Матроскин приготовил на десерт 3 пирожных, но смог съесть только 2. Сколько пирожных осталось?

Отличная работа!

www.7gy.ru


Здорово получилось. Молодчина!

Состав числа 4



Самостоятельно сделать

Составь число 4 www.7gy.ru



4	
	0
2	
	4
3	

4	
	2
	1
3	
	4

4	
4	
	3
0	
2	

4	
4	
	3
	1
2	

4	
	3
	2
0	
1	

4	
3	
	1
0	
2	

4	
2	
	4
1	
	3

4	
4	
	3
2	
	1

2 + 2 =

4 - 3 =

1 + 3 =

4 - 1 =

0 + 4 =

4 - 4 =

3 + 1 =

4 - 2 =

4 - 0 =

4 - ... = 4

... + 3 = 4

4 - ... = 2

... + 1 = 4

4 - ... = 1

1 + ... = 4

4 - ... = 3

3 + ... = 4



... + 0 = 4

Сделай краткую запись и реши задачу

Дюймовочка съела за день 2 рисовых зернышка, а вечером скушала еще 2. Сколько всего зерен съела девочка за сутки?


Сделай краткую запись и реши задачу

Золушке мачеха приказала перебрать 4 мешка крупы. Девочка перебрала 3 мешка. Сколько мешков ей осталось перебрать?

Браво!
Браво!

www.7gy.ru




Какой раздумный
ребёнок!

$$2+2=4$$




Два мышонка грызли корку,
Два — сырок тащили в норку.
Сколько их у нас в квартире?
Два плюс два — всего четыре.

$$3+1=4$$



Белка шишки собирала,
Собирала и считала,
Забиралась на сосну,
Прибавляла к трём — одну.
Было шишек три сначала,
А теперь четыре стало.

$$3-1=2$$




Кошка в кубики играла,
Кошка кубик потеряла.
Закружилась голова...
Было три — осталось два.



Пели песню две синицы,
Две подружки, две певицы.
Тут одна из них пропала,
Видно, петь она устала.
Здесь подсказка не нужна:
Было две — теперь одна.

$$4 - 1 = 3$$



Четыре гусёнка гуляли в саду,
Один искупаться задумал в пруду.
Решил с головой он под воду нырнуть...
А сколько гусят продолжают свой путь?