

6 апреля

Классная работа

Запиши в строчку результаты вычислений.

$12 - 3 =$

$13 - 4 =$

$7 + 6 =$

$9 + 3 =$

$12 - 4 =$

$11 - 4 =$

$8 + 5 =$

$5 + 6 =$

$13 - 6 =$

$14 - 6 =$

ПРОВЕРКА

6 апреля

Классная работа

9 13 8 13 7 9 12 7 11 8

Учебник с. 101 № 5

Проверь



$$5 + 3 = 8(\text{см})$$



Тема. Увеличение числа на несколько единиц

П.т.с. 67 № 1 Проверь

1.

Увеличь на 6 каждое из чисел и запиши результат.

2	4	5	7	9	0
8	10	11	13	15	6

Тема. Увеличение числа на несколько единиц

П.т.с. 67 № 2 Проверь

2. Под мухомором от дождя спрятались на две мышки больше, чем белым грибом. Сколько мышек под белым грибом?




Решение:

$$3 + 2 = 5 \text{ (м.)}$$

Ответ:

П.т.с. 68 № 3 Проверь

Найди высоту стакана.



На 6 см выше

Решение:

$$7 + 6 = 14 \text{ (см)}$$

Ответ: 14

П.т.с. 68 № 4,5,6 Проверь



Какое из чисел на 5 больше числа 7?

10 11 12 13



Если 9 увеличить на 6, то получится число ...

12 15 14 11

Начерти отрезок, длина которого на 4 см больше длины данного отрезка.



Запомни, как записывается задача нового вида

Учебник с. 100 № 2

-Прочитай.

- Подчеркни данные.

-Найди главные слова.

В террариуме 8 ужей, а черепах на 3 больше. Сколько черепах в террариуме?

Запишем условие.

Задача

Ужесей – 8жс.

Черепах – ? на 3 больше

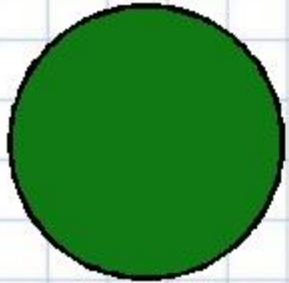
← (+)

$$8 + 3 = 11 \text{ (ч.)}$$

Ответ: 11 черепах в террариуме.


Оцени свою работу

Рефлексия




**Мне все понятно.
Я молодец!**

Д/З. П.т.с. 68 – 69 № 7 - 11



**У меня не всё
получилось, но я
старался!**



**Мне надо быть
внимательнее!**

