

Практикум по исторической географии. Темы 16-20:

Тема 16. Правление Павла I (1796-1801 гг.)

Тема 17. Царствование Александра I в период до Отечественной войны (1801-1811 гг.)

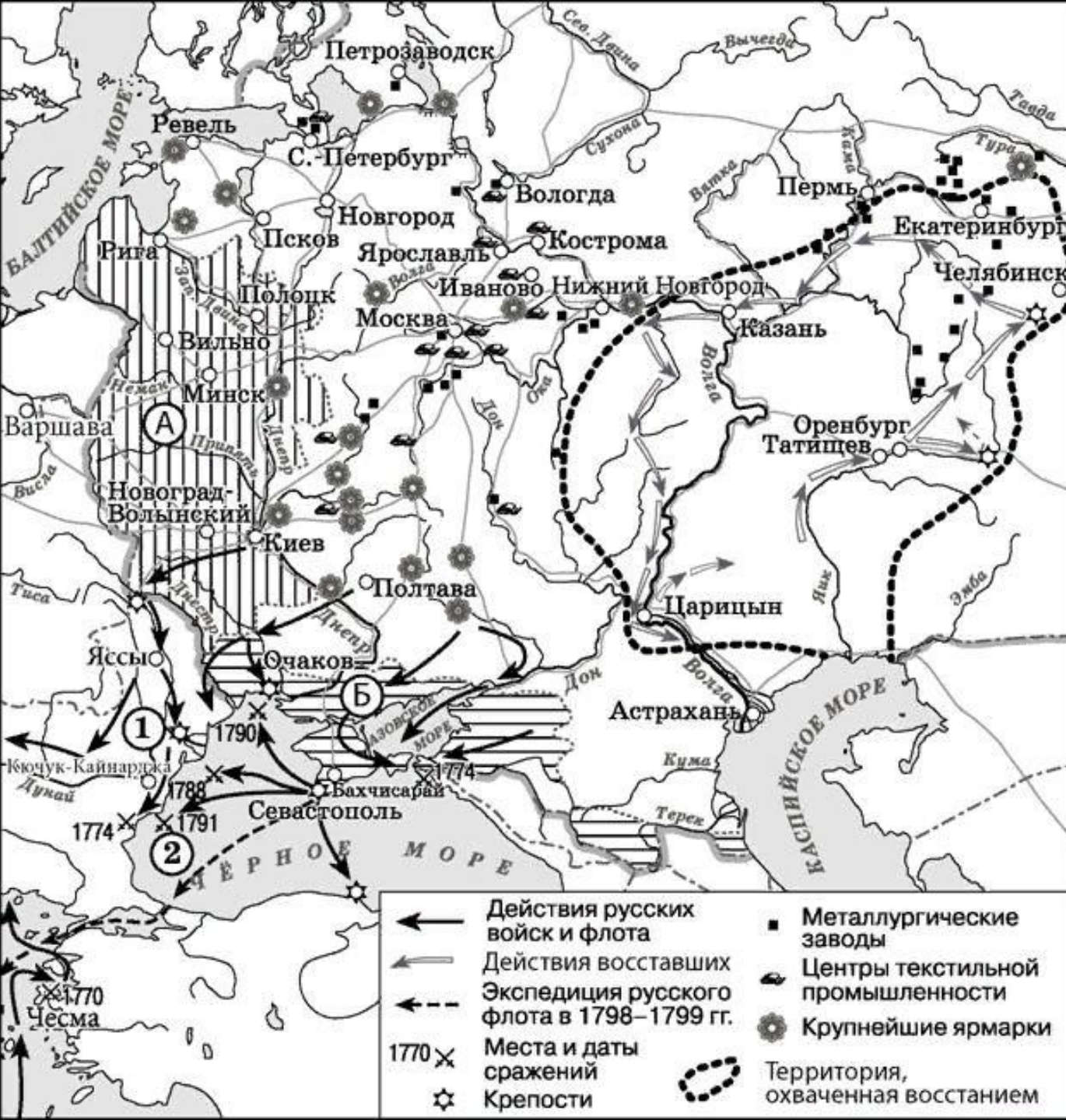
Тема 18. Царствование Александра I в период 1812-1825 гг.

Тема 19. Российская империя в период правления Николая I (1825-1855 гг.)

Тема 20. Российская империя в период правления Александра II (1855-1881 гг.)

Автор разработки: Маховиков Д.В. https://vk.com/d_makhovikov

Сообщество для подготовки к ЕГЭ по истории: <https://vk.com/clubege2019history>



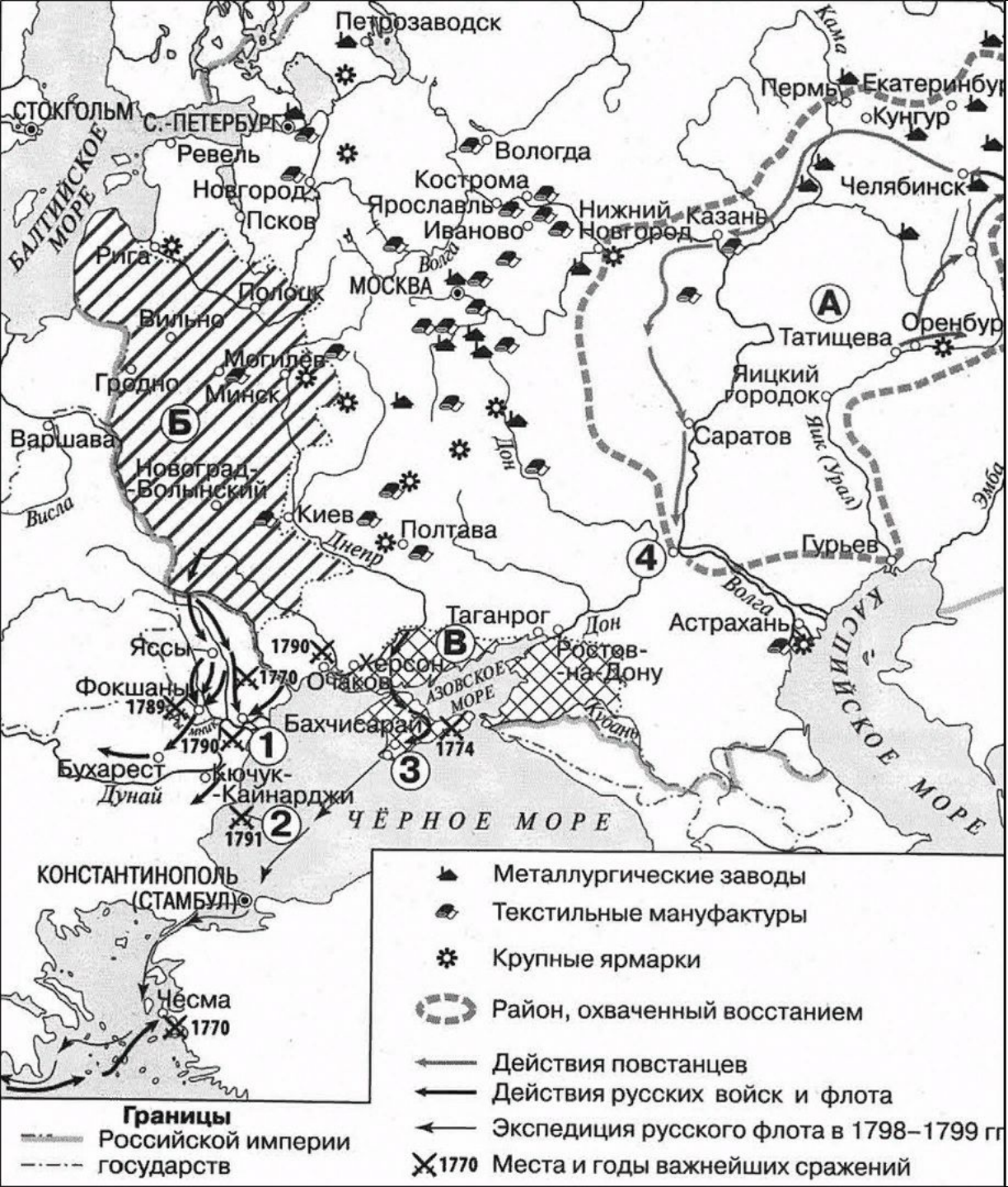
№ 13. Укажите название государства, в состав которого до присоединения к России входила территория, обозначенная на схеме буквой «А».

№ 14. Напишите пропущенную фамилию: «В морском сражении, обозначенном на схеме цифрой "2", российской эскадрой командовал адмирал _____».

№ 15. Напишите пропущенную фамилию: «Большую роль в присоединении к Российской империи и освоении территории, обозначенной на схеме буквой "Б", сыграл видный государственный и военный деятель _____, удостоенный в связи с этим почётного титула князь Таврический».

№ 16. Какие суждения, относящиеся к событиям, обозначенным на схеме, являются верными? Выберите три суждения из шести предложенных.

- 1) На территории народного восстания, обозначенного на схеме, находились металлургические заводы.
- 2) Все обозначенные на схеме сухопутные сражения произошли в ходе одной войны.
- 3) В штурме крепости, обозначенной на схеме цифрой «1», участвовали Александр Суворов и Михаил Кутузов.
- 4) Одна из крупнейших ярмарок, обозначенных на схеме, находилась на берегу Волги.
- 5) Предводителем обозначенного на схеме восстания был казачий атаман Кондратий Булавин.
- 6) Все обозначенные на схеме походы и экспедиции русского флота были предприняты в годы правления одного монарха.



№ 13. Назовите российского монарха, при котором к Российской империи были присоединены территории, обозначенные буквой «Б».

№ 14_1. Укажите фамилию полководца, командовавшего русскими войсками при взятии крепости, обозначенной на схеме цифрой «1».

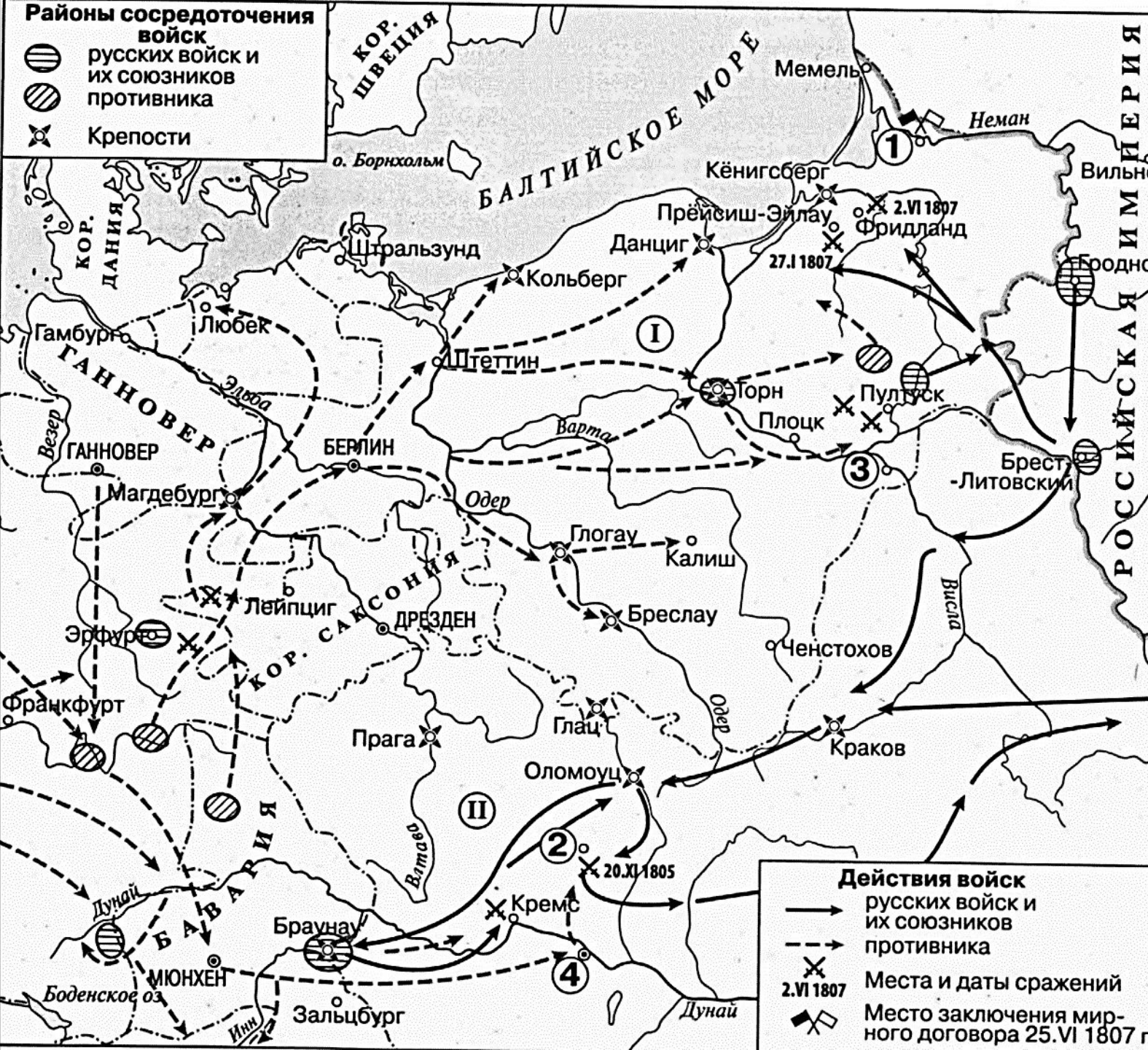
№ 14_2. Заполните пропуск в предложении: «В морском сражении, обозначенном на схеме цифрой «2», российской эскадрой командовал контр-адмирал _____».

№ 15. Укажите название города, обозначенного на схеме цифрой «3».

№ 16. Какие суждения, относящиеся к схеме, являются верными.

Выберите три суждения из десяти предложенных.

- 1) Большую роль в присоединении к Российской империи и освоении территории, обозначенной на схеме буквой «В», сыграл Григорий Потемкин.
- 2) На территории народного восстания, обозначенного на схеме буквой «А», находились металлургические заводы.
- 3) Предводителем обозначенного на схеме восстания был казачий атаман Кондратий Булавин.
- 4) Все обозначенные на схеме походы и экспедиции русского флота были предприняты в годы правления одного монарха.
- 5) На схеме обозначен и подписан город-порт, через который до начала XVIII в. осуществлялась морская торговля со странами Западной Европы.
- 6) Обозначенные на схеме центры текстильной промышленности были сосредоточены на северо-западе страны.
- 7) На схеме обозначены и подписаны реки, по которым проходили важнейшие торговые пути Киевской Руси.
- 8) Территория, обозначенная буквой «Б», до присоединения к Российской империи входила в состав Пруссии.
- 9) Все обозначенные на схеме сухопутные и морские сражения произошли в ходе одной войны.
- 10) Название города, обозначенного на схеме цифрой «4», осталось неизменным до наших дней.



№ 13. Назовите правителя государства – основного противника России и ее союзников в событиях, отраженных на карте.

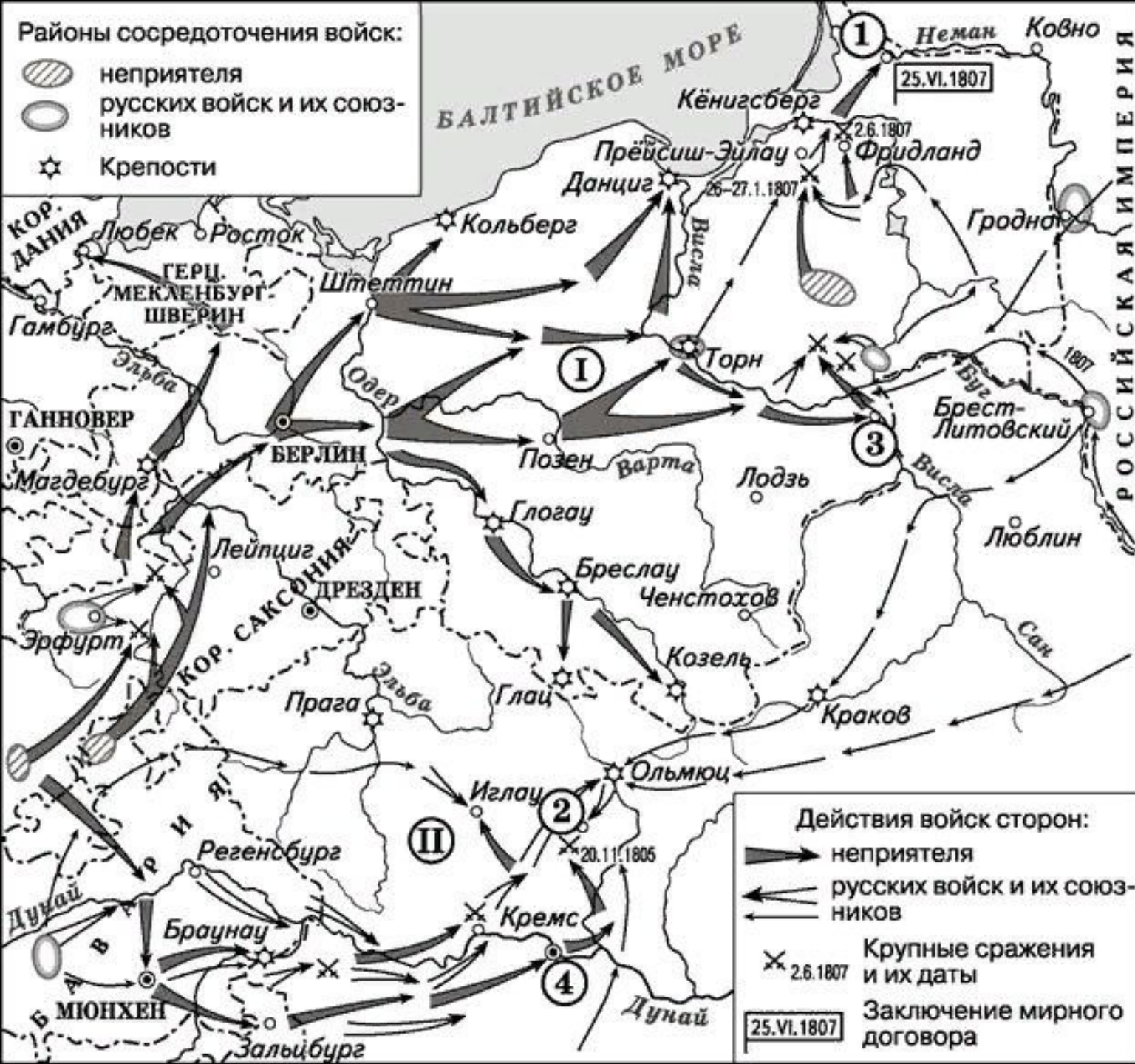
№ 14_1 Укажите название города, обозначенного на схеме цифрой «1».

№ 14_2 Заполните пропуск в предложении: «Общее командование союзной армией в сражении, обозначенном на схеме цифрой «2», осуществлял генерал _____».

№ 15. Назовите русского монарха, в годы правления которого происходили события, обозначенные на схеме.

№ 16. Какие суждения, относящиеся к схеме являются верными? Выберите три суждения из семи предложенных.

- 1) На схеме обозначено место сражения, главным итогом которого стало подписание мирного договора в городе, обозначенном цифрой «1».
- 2) Состав стран-участниц во всех сражениях, обозначенных на схеме, оставался неизменным.
- 3) В период событий, изображенных на схеме, в городе, обозначенном цифрой «4», был подписан международный договор, одним из условий которого было присоединение России к континентальной блокаде Англии.
- 4) Российский император и правители государств, обозначенных на схеме римскими цифрами «I» и «II», в 1880-е гг. заключили Тройственный союз.
- 5) В период событий, отображенных на схеме, город, обозначенный цифрой «3», входил в состав Российской империи.
- 6) На схеме обозначен и подписан город, где был заключен мирный договор, завершивший участие России в Первой мировой войне.
- 7) Государства, обозначенные на схеме римскими цифрами «I» и «II», участвовали в разделах Речи Посполитой.



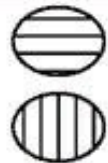
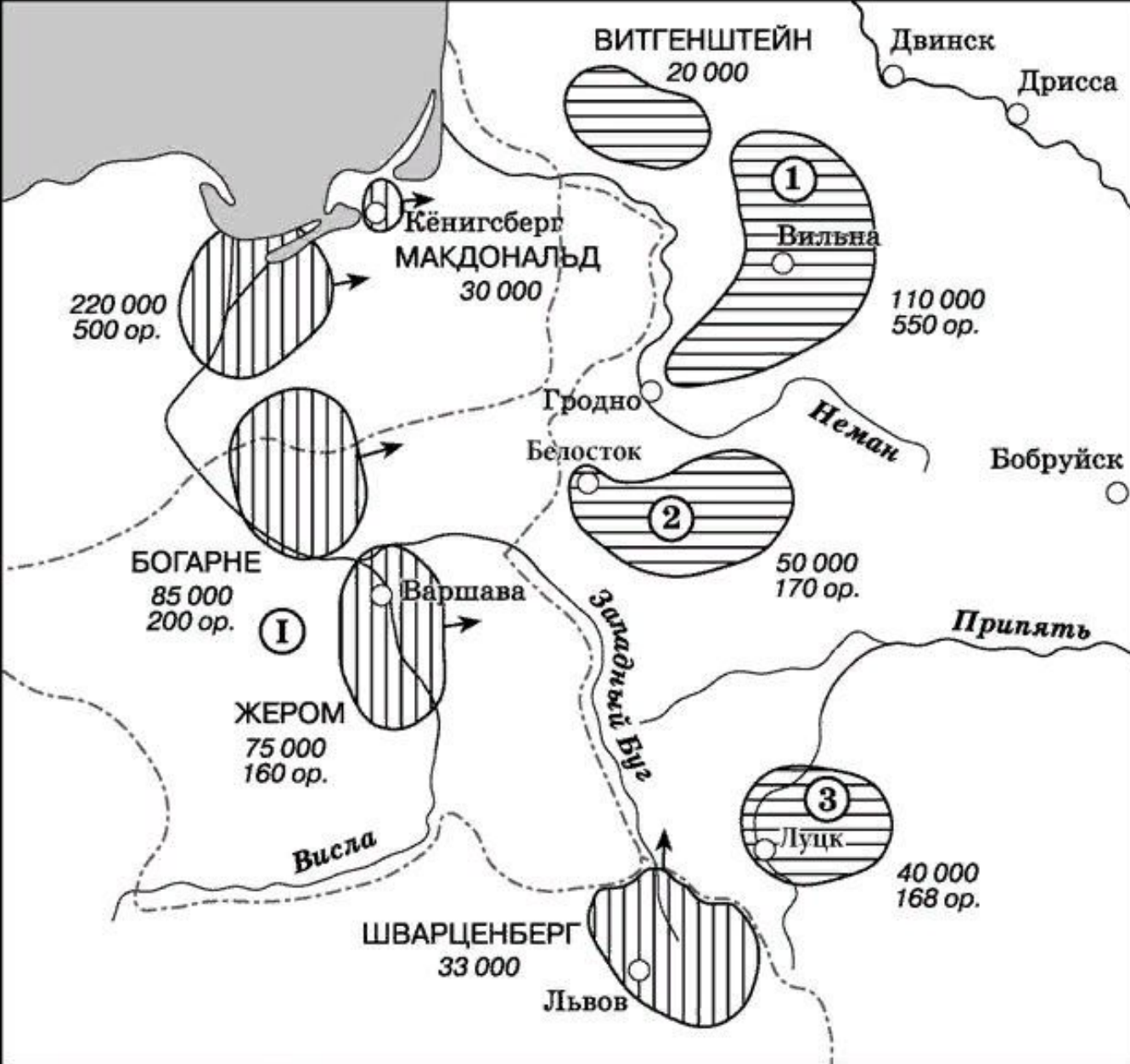
№ 13. Укажите название государства, являвшегося основным противником России и её союзников в событиях, отражённых на схеме.

№ 14. Укажите название населённого пункта, обозначенного на схеме цифрой «2», приобретшего известность благодаря сражению, которое там произошло.

№ 15. Назовите российского императора, в годы правления которого происходили события, обозначенные на схеме.

№ 16. Какие суждения, относящиеся к схеме, являются верными? Выберите три суждения из шести предложенных.

- Общее командование войсками России и её союзников в битве у населённого пункта, обозначенного на схеме цифрой «2», осуществлял А.В. Суворов.
- В период событий, изображённых на схеме, в городе, обозначенном цифрой «4», был подписан международный договор, одним из условий которого было присоединение России к Континентальной блокаде Англии.
- Российский монарх и правители государств, обозначенных на схеме римскими цифрами «I» и «II», подписали акт Священного союза.
- На схеме обозначен город, где был подписан договор, завершивший участие России в Первой мировой войне.
- Город, обозначенный на схеме цифрой «3», накануне Великой Отечественной войны входил в состав СССР.
- Мирный договор в городе, обозначенном на схеме цифрой «1», подписали монархи, носившие императорский титул.



Места расположения русских войск

Места расположения войск противника

№ 13. Укажите век, когда происходили события, отражённые на схеме. Ответ запишите словом.

№ 14. Заполните пропуск в предложении: «Государственное образование, обозначенное римской цифрой "I", в период событий, которые отражены на схеме, называлось Великое герцогство_____».

№ 15. Укажите фамилию командующего русской армией, место расположения которой обозначено на схеме цифрой «2».

№ 16. Какие суждения, относящиеся к схеме, являются верными?

Выберите три суждения из шести предложенных.

- 1) Согласно схеме силы противоборствующих сторон на момент отражённых на ней событий были практически равны.
- 2) Территория, на которой располагалась русская армия, место расположения которой обозначено на схеме цифрой «3», в настоящее время входит в состав Украины.
- 3) Согласно схеме самой крупной из русских армий, расположенных на западной границе, была армия, место расположения которой обозначено цифрой «1».
- 4) На схеме обозначен город, в районе которого в ходе дальнейших действий соединились русские армии, места расположения которых указаны цифрами «1» и «2».
- 5) На схеме обозначен город, который в настоящее время называется Калининград.
- 6) Командующий армией, место расположения которой обозначено цифрой «2», на момент отражённых на схеме событий фактически являлся главнокомандующим русской армией.



№ 13. Заполните пропуск в предложении: «Государство, обозначенное на схеме цифрой «2», было создано по условиям мирного договора, подписанного в городе _____»

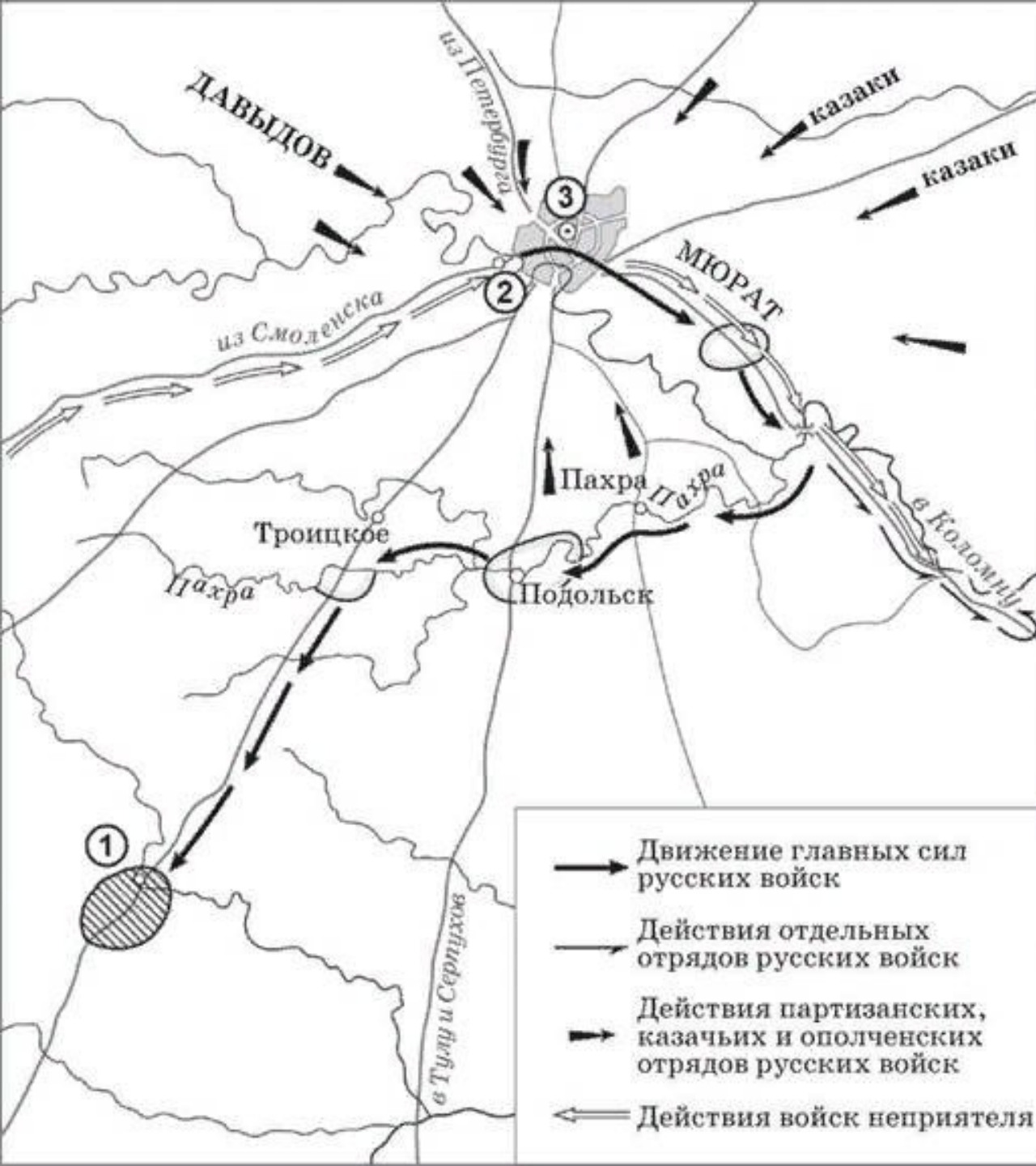
№ 14. Укажите название города, обозначенного на схеме цифрой «1».

№ 15_1. Укажите фамилию русского полководца, командовавшего армией, расположение которой обозначено на схеме римской цифрой «II».

№ 15_2. Заполните пропуск в предложении: «Переход русской армии к населенному пункту, обозначенному на схеме цифрой «4», вошел в историю как _____ маневр.»

№ 16. Какие суждения, относящиеся к схеме, являются верными? Выберите пять суждений из десяти предложенных.

- 1) К началу военных действий, отраженных на схеме, французские войска были сосредоточены на территории одного государства, граничившего с Российской империей.
- 2) На схеме обозначен и подписан населенный пункт, где состоялся военный совет, на котором было принято решение об оставлении Москвы без боя.
- 3) Русской армией, расположение которой обозначено на схеме римской цифрой III, командовал Николай Раевский.
- 4) Михаил Кутузов принял командование русскими войсками накануне сражения, место которого обозначено цифрой «3».
- 5) Участниками событий, обозначенных на схеме, были Василиса Кожина и Герасим Курин.
- 6) В городе, обозначенном цифрой «1», соединились силы трех армий, обозначенных на схеме римскими цифрами «I», «II» и «III».
- 7) На схеме обозначено отступление французской армии из Москвы.
- 8) Государства, обозначенные на схеме цифрами «5» и «6», были союзниками России в событиях, отраженных на схеме.
- 9) На схеме обозначены и подписаны города, вошедшие в состав СССР по итогам Великой отечественной войны.
- 10) На схеме обозначены 5 городов, являвшихся столицами союзных республик, входивших в состав СССР.



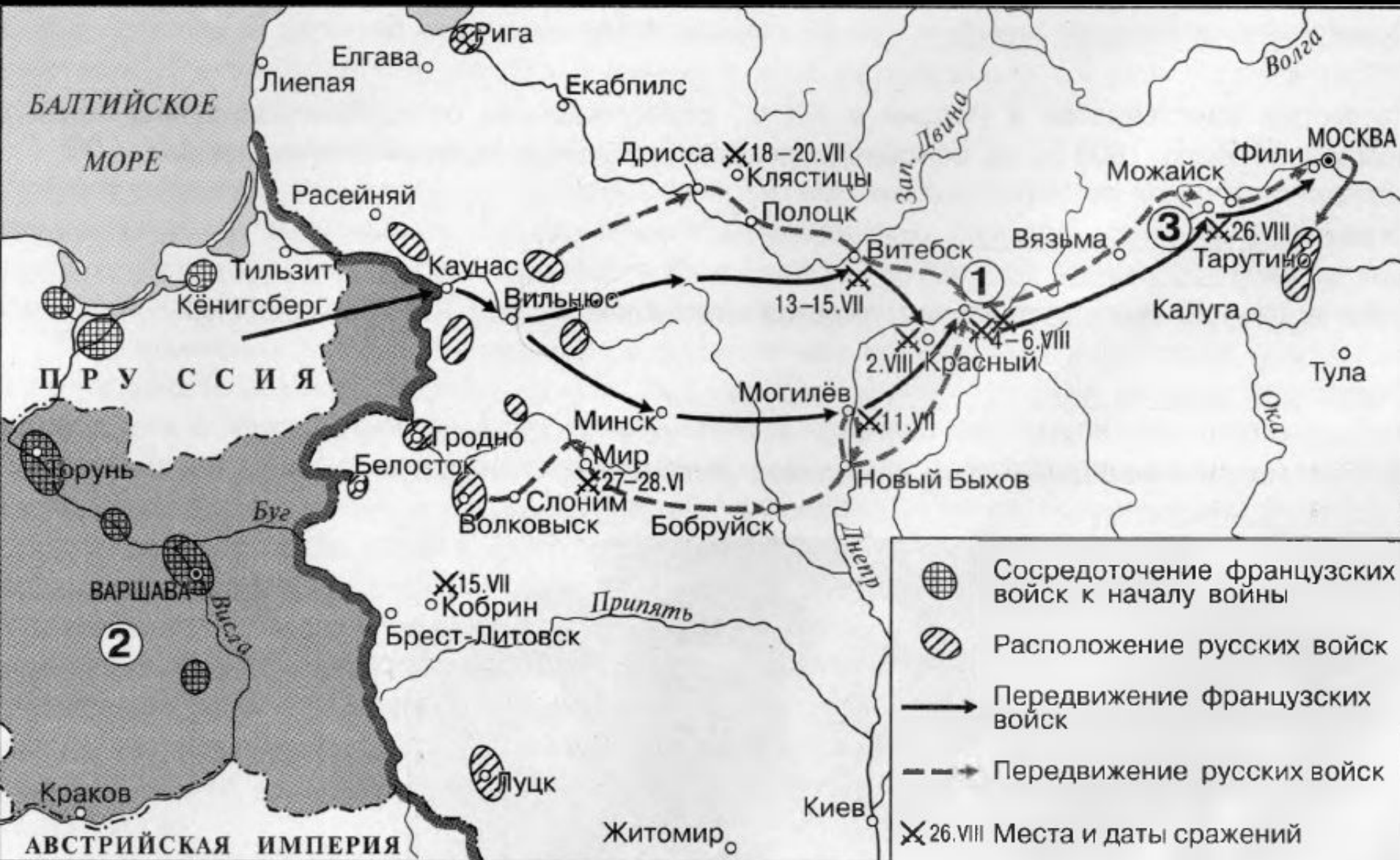
№ 13. Назовите имя главнокомандующего войсками неприятеля в период боевых действий, изображённых на схеме.

№ 14. Напишите название населённого пункта, обозначенного на схеме цифрой «2», где состоялся военный совет, решение которого определило ход дальнейших военных действий.

№ 15. Укажите время года, когда был совершён манёвр главных сил русских войск, обозначенный на схеме.

№ 16. Какие суждения, относящиеся к событиям, обозначенным на схеме, являются верными? Выберите три суждения из шести предложенных.

- 1) В ходе манёвра, обозначенного на схеме, главные силы русских войск переправились через р. Москву.
- 2) Среди участников военных действий, обозначенных на схеме стрелками, был П.И. Багратион.
- 3) В ходе обозначенных на схеме событий главнокомандующим русскими войсками был М.Б. Барклай де Толли.
- 4) Современниками обозначенных на схеме событий были М.М. Сперанский и А.А. Аракчеев.
- 5) Главные силы русских войск находились в районе населённого пункта, обозначенного на схеме цифрой «1», более трёх месяцев.
- 6) Во время данных событий, город, обозначенный на схеме цифрой «3» сильно пострадал от пожара.



№ 13. Укажите год, когда началась война, события которой обозначены на схеме стрелками.

№ 14. Укажите название города, обозначенного на схеме цифрой «1».

№ 15. Укажите название сражения, место которого обозначено на схеме цифрой «3».

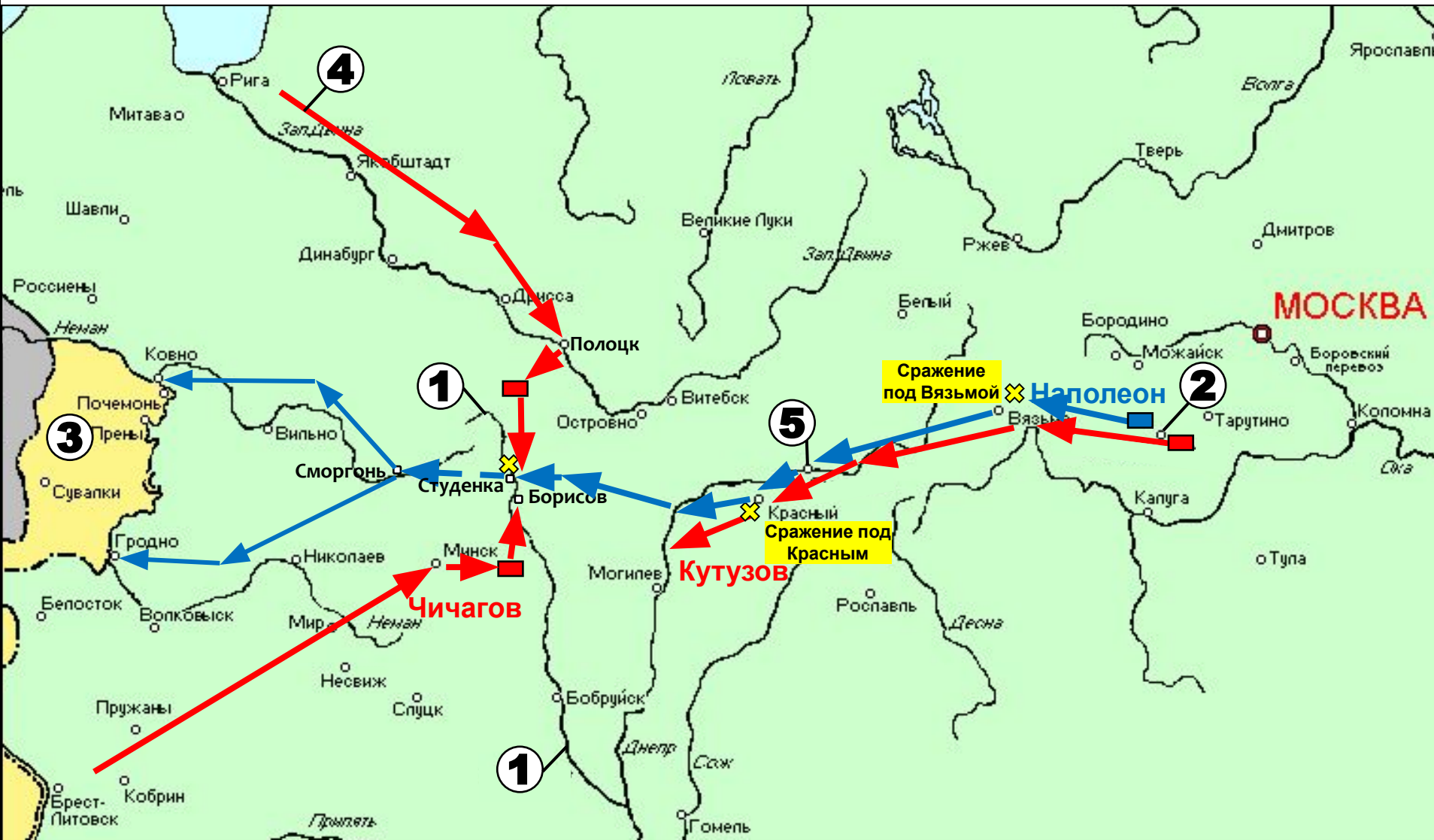
№ 16. Какие суждения, относящиеся к схеме, являются верными? Выберите три суждения из шести предложенных.

- 1) На схеме обозначены территории, которые вошли в состав Российской империи по условиям Фридрихгамского мира.
- 2) Государство, обозначенное на схеме цифрой «2», накануне событий, обозначенных на схеме стрелками, находилось в зависимости от Франции.
- 3) На схеме обозначено сражение на р. Березине.
- 4) На схеме обозначен Тарутинский манёвр русской армии.
- 5) На схеме подписан город, где в 1807 г. был заключён мир между Наполеоном и Александром I.
- 6) Под цифрой «2» на карте отмечено Царство Польское.

№ 13. Запишите год, в который происходили отраженные на карте события.

№ 14. Запишите фамилию военачальника, командовавшего армией, отмеченной на карте цифрой «4».

№ 15. Запишите название реки, отмеченной на карте цифрой «1».



№ 16. Какие суждения, относящиеся к схеме, являются верными? Выберите три суждений из шести предложенных.

- 1) Войска Наполеона сумели форсировать реку под цифрой «1» в ходе событий, отраженных на карте.
- 2) Под цифрой «3» на карте отмечена Речь Посполитая.
- 3) Под цифрой «2» на карте отмечен Малоярославец.
- 4) В событиях, отраженных на карте стрелками, принимал участие Петр Багратион.
- 5) В ходе сражения на реке, отмеченной на карте цифрой «1», Наполеон Бонапарт сдался в плен.
- 6) Государство, отмеченное на карте цифрой «3», возникло в 1807 г.

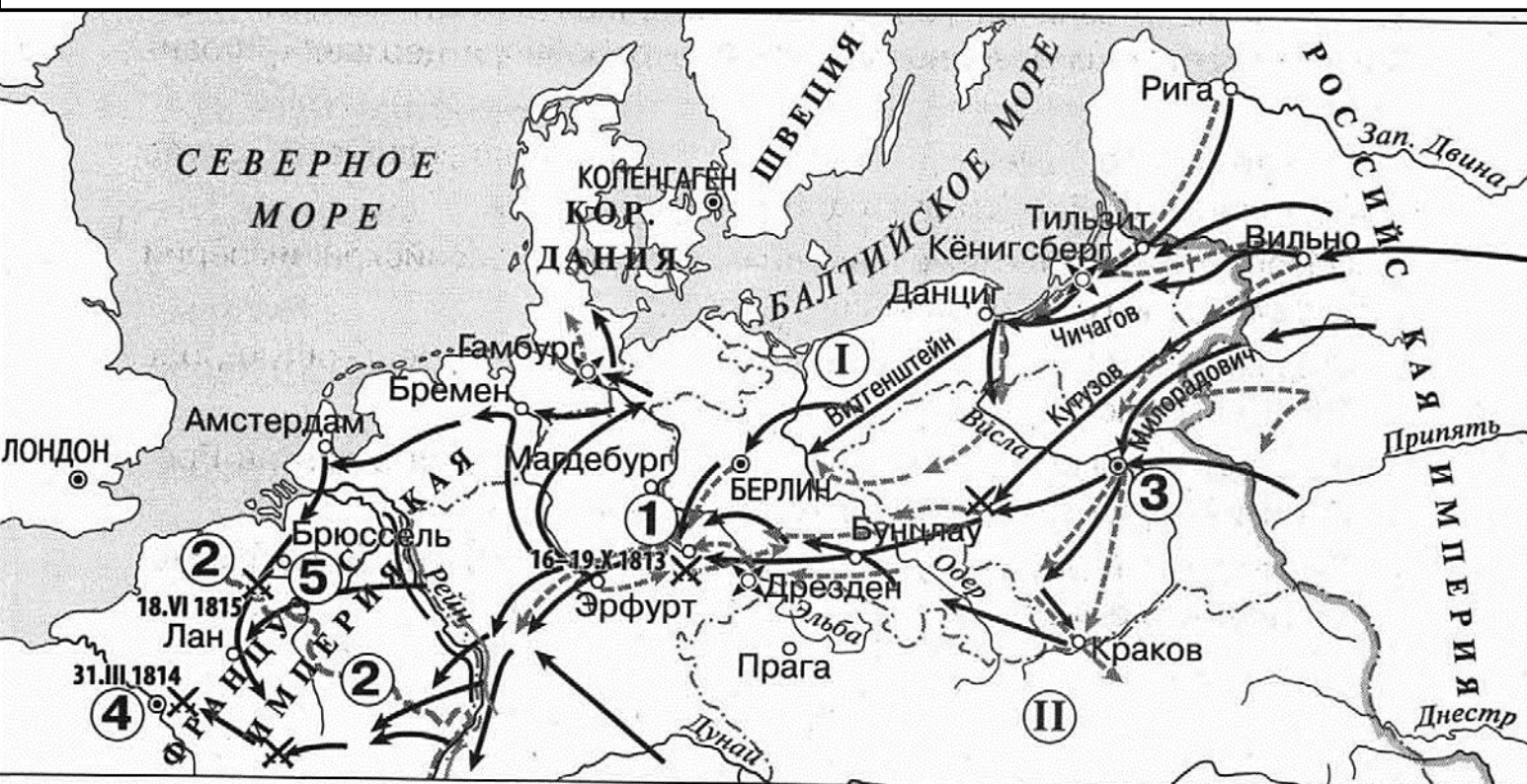
№ 13. Назовите российского императора, в период правления которого произошли события, отраженные на схеме.

№ 14_1. Заполните пропуск в предложении: «Сражение, произошедшее в районе города, обозначенного на схеме цифрой «1», вошло в историю под образным названием «Битва _____»

№ 14_2. Заполните пропуск в предложении: «Одним из последствий событий, отраженных на схеме, стало подписание Российской империей и государствами, обозначенными римскими цифрами «I» и «II», акта _____ союза».

№ 15_1. Заполните пропуск в предложении: «Граница Франции, дважды обозначенная на схеме цифрой «2», была установлена после отречения от престола _____».

№ 15_2. Укажите название города, обозначенного на схеме цифрой «4».



Действия войск

- ← русских и союзных - - - - - противника
- ==== Положение войск сторон к концу 1813 г.

- ⊗ Крепости
- ⊗ Места и даты сражений
- 18.VI 1815
- Граница Российской империи

№ 16. Какие суждения, относящиеся к схеме, являются верными? Выберите четыре суждения из восьми предложенных.

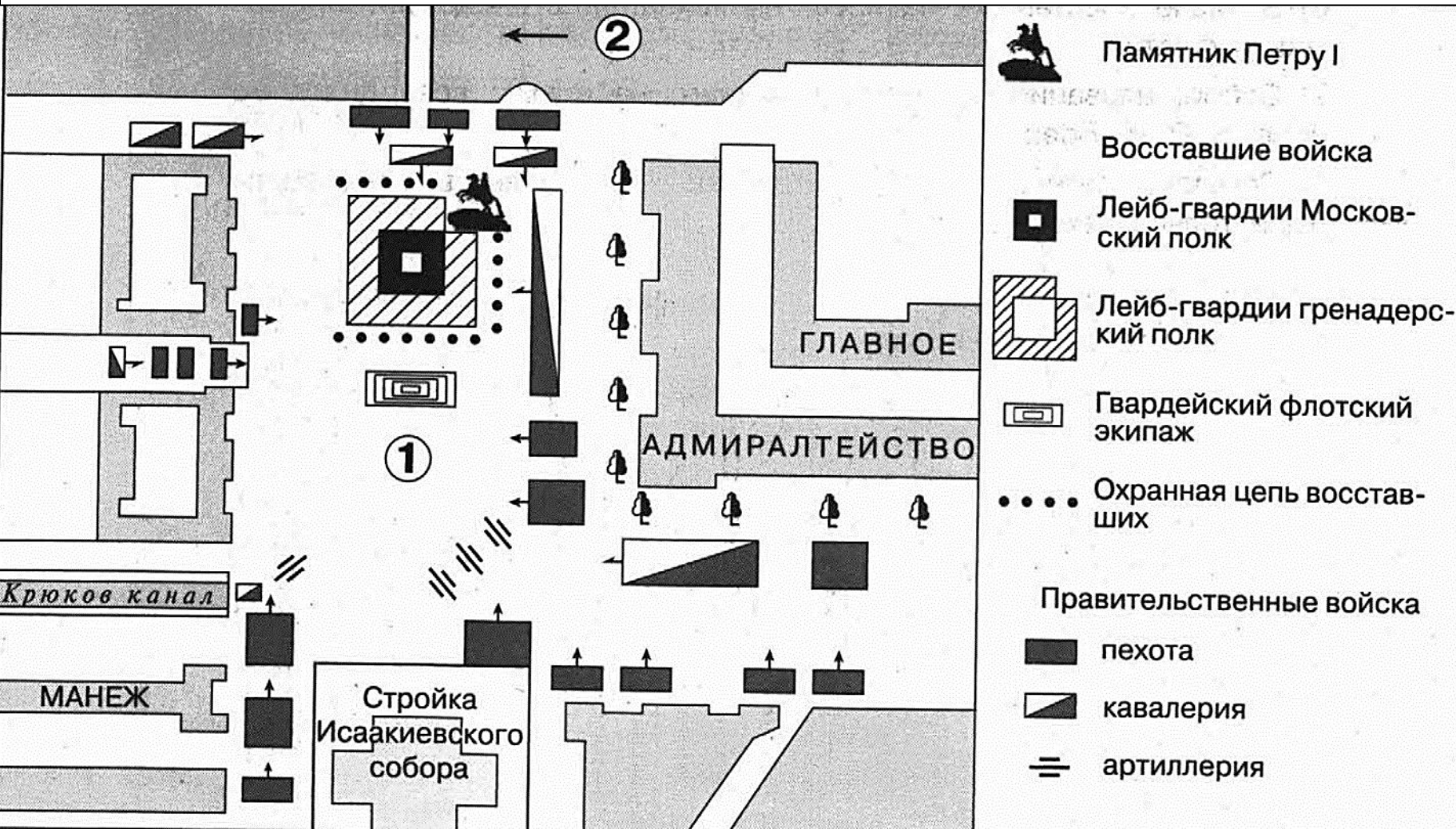
- 1) Все российские военачальники, упомянутые на схеме, участвовали в сражении, обозначенном цифрой «1».
- 2) Один из военачальников, упомянутых на схеме, был участником событий на Сенатской площади в декабре 1825 г.
- 3) На схеме обозначен город, где состоялся международный конгресс, завершивший войны коалиции европейских держав с Францией.
- 4) На схеме обозначены и подписаны города, вошедшие в состав СССР по итогам Второй мировой войны.
- 5) Обозначенная на карте западная граница Российской империи установилась в годы правления Петра I.
- 6) В сражении, обозначенном на схеме цифрой «5», решающую роль сыграла российская армия.
- 7) Город, обозначенный на схеме цифрой «3», входил в состав Российской империи до второго десятилетия XX в.
- 8) Территория Германии в период событий, отраженных на схеме, была раздробленной.

№ 13. Заполните пропуск в предложении: «На схеме отражены события, произошедшие в 18_____ году».

№ 14. Назовите российского императора, в момент вступления на престол которого произошли события, отраженные на схеме.

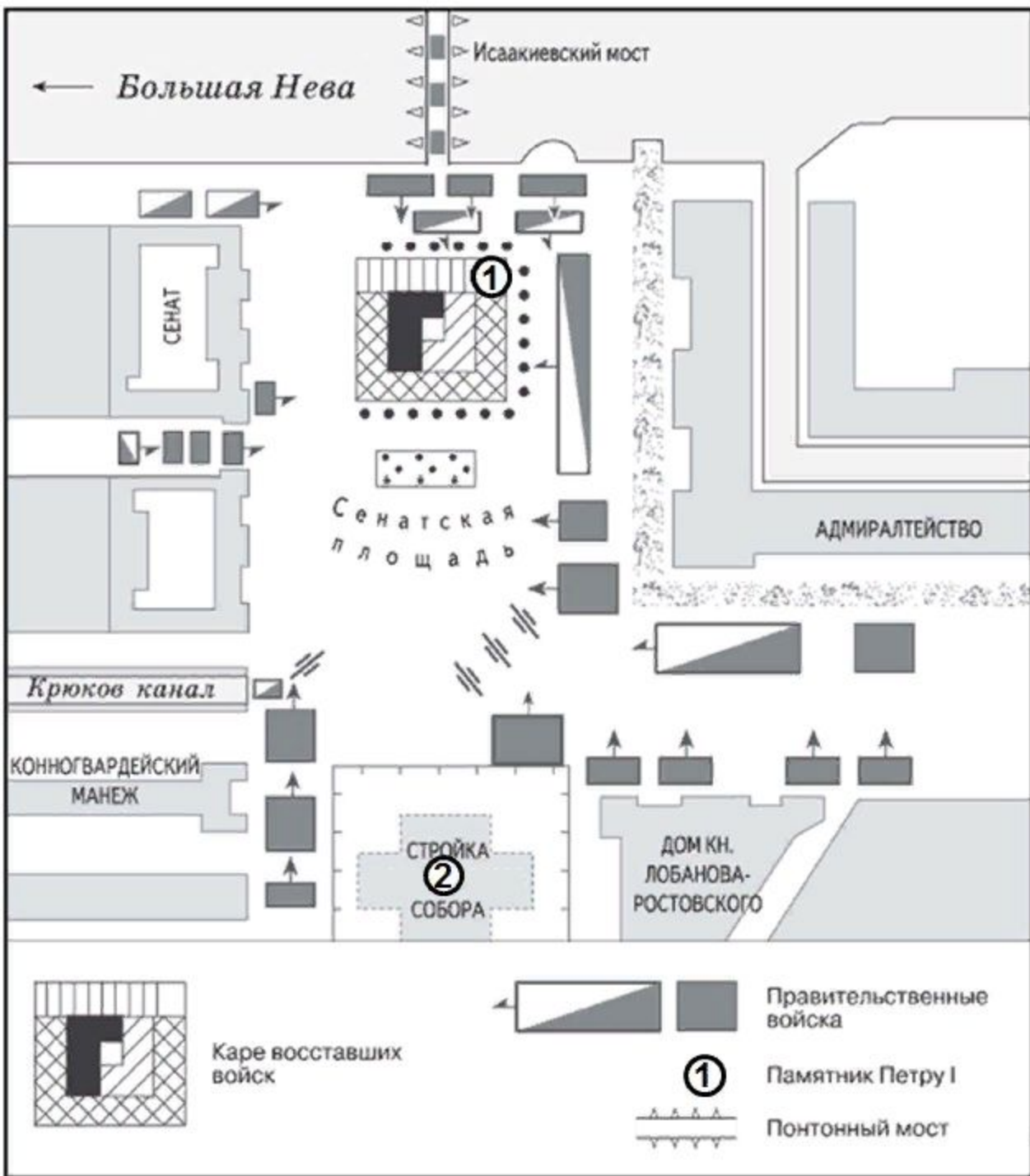
№ 15_1. Напишите название площади, обозначенной на схеме цифрой «1».

№ 15_2. Напишите название реки, обозначенной на схеме цифрой «2».



№ 16. Какие суждения, относящиеся к схеме, являются верными? Выберите шесть суждений из восьми предложенных.

- 1) Согласно легенде схемы, восставшим удалось вывести на площадь представителей трех воинских подразделений.
- 2) Обозначенное на схеме расположение правительственных войск лишало восставших возможности отступления.
- 3) На схеме упомянуто название учреждения, созданного в России в годы правления Петра I.
- 4) В ходе события, отраженного на схеме, был смертельно ранен военный губернатор Петербурга граф Михаил Милорадович.
- 5) На схеме обозначено место расположения скульптурного памятника работы Этьена Фальконе.
- 6) В числе восставших на площади находились представители армии и флота.
- 7) Собор, название которого упомянуто на схеме, возводился по проекту Осипа Бове.
- 8) Согласно легенде схемы, в составе правительственных войск были только пехотные части.



№ 13. Укажите год, когда происходили события, обозначенные на схеме. Ответ запишите словом.

№ 14. Запишите имя императора, чья внезапная смерть спровоцировала события, обозначенные на схеме.

№ 15. Запишите фамилию скульптора, создавшего памятник, отмеченный на карте-схеме цифрой «1»

№ 16. Какие суждения, относящиеся к схеме, являются верными? Выберите три суждения из шести предложенных.

- 1) Восстание, ход которого обозначен на схеме, не увенчалось успехом.
- 2) Одним из непосредственных участников событий, отраженных на схеме, был Андрей Желябов.
- 3) События, отраженные на схеме, происходили в первых числах марта.
- 4) Архитектором собора, стройка которого отмечена на карте цифрой «2», являлся Огюст Монферран.
- 5) В ходе восстания, ход которого отражен на схеме, был убит действующий российский император.
- 6) Памятник, отмеченный на схеме цифрой «1», был возведен во времена правления Екатерины II.



№ 13. Напишите название города, где состоялся конгресс, по решению которого в состав Российской империи вошла территория, обозначенная цифрой «II».

№ 14. Назовите императора, в годы правления которого в состав Российской империи вошла территория, обозначенная на схеме цифрой «I».

№ 15. Назовите императора, в годы правления которого был построен объект, обозначенный на схеме буквой «А».

№ 16. Какие суждения, относящиеся к данной схеме, являются верными? Выберите три суждения из шести предложенных.

- 1) Объект, обозначенный на схеме буквой «А», был первым подобным объектом, построенным в России.
- 2) В подготовке и подписании мирного договора, по которому в состав Российской империи вошла территория, обозначенная на схеме цифрой «IV», участвовал А.С. Грибоедов.
- 3) Территория, обозначенная на схеме цифрой «I», была присоединена к России в результате русско-шведской войны.
- 4) Большинство текстильных предприятий, согласно схеме, находилось в центральном районе страны.
- 5) Присоединение территории, обозначенной на схеме цифрой «III», произошло в 1829 г.
- 6) Промышленное освоение района, в котором, согласно схеме, отмечается наибольшая концентрация металлургических предприятий, началось только в первой половине XIX в.



Территория, присоединённая к России по Туркманчайскому мирному договору



Место подписания Туркманчайского мирного договора

№ 13. Назовите императора, в период правления которого к России была присоединена заштрихованная на схеме территория.

№ 14. Укажите название государства, территория которого обозначена на схеме буквой «А».

№ 15. Назовите государство, в состав которого в настоящий момент входит город, отмеченный на карте цифрой «3».

№ 16. Какие суждения, относящиеся к схеме, являются верными? Выберите три суждений из шести предложенных.

- 1) Город, отмеченный на карте цифрой «1», был присоединен к России в 1556 г.
- 2) Город под цифрой «4» был на некоторое время присоединен к России в результате Персидских походов Петра I.
- 3) В городе под цифрой «4» в 1943 г. состоялась конференция Большой тройки стран-участниц антигитлеровской коалиции.
- 4) Город под цифрой «2» в настоящий момент является столицей Азербайджана.
- 5) В 1907 г. между Российской империей и Великобританией был заключен договор о разграничении сфер влияния в государстве, отмеченном на карте буквой «А»
- 6) Город, отмеченный на карте цифрой «1», в XVI в. был политико-административным центром Казанского ханства.



➔ Ввод русских войск в дунайские княжества Молдавию и Валахию

Положение войск к началу войны и их действия

➔ русских ← турецких

● Сосредоточение в Варне войск союзников и их действия

⊙ Осада городов

⊗ Места сражений

⊗ Крепости

№ 13. Заполните пропуск в предложении: «Морское сражение около города, обозначенного на схеме цифрой «2», произошло в тысяча восемьсот _____ году». Ответ запишите словом (словосочетанием).

№ 14_1. Назовите русского императора, в чье правление завершились обозначенные на схеме события.

№ 14_2. Продолжите предложение: «Город, обозначенный на схеме цифрой «1», стал базой Черноморского военно-морского флота в годы правления Российским государством _____».

№ 15_1. Заполните пропуск в предложении: « В обозначенных на схеме военных действиях против Российского государства выступила коалиция в составе Османской империи, _____ империи, Британской империи, Сардинского королевства».

№ 15_2. Укажите название крепости, обозначенной на схеме цифрой «4».

№ 16. Какие суждения, относящиеся к схеме, являются верными? Выберите пять суждений из десяти предложенных.

- 1) В ходе события, обозначенных на схеме, военные действия велись только на двух фронтах.
- 2) Действия войск, обозначенные на схеме цифрой «3», были направлены на поддержку русской армии.
- 3) Российской эскадрой в сражении у города, обозначенного на схеме цифрой «2», командовал вице-адмирал П.С. Нахимов.
- 4) События, отраженные на схеме, были частью внешнеполитических действий России по решению «восточного вопроса»
- 5) На схеме обозначен город, где был подписан мирный договор, завершивший данную войну.
- 6) Оборона города, обозначенного на схеме цифрой «1», продолжалась более 11 месяцев.
- 7) Город, обозначенный на схеме цифрой «5», впервые вошел в состав Российского государства в XVII в.
- 8) К моменту завершения военных действий, обозначенных на схеме, российская армия находилась вблизи Константинополя (Стамбула).
- 9) В ходе военных действий, обозначенных на схеме, войска противника высадились на территории Российского государства.
- 10) Государство, обозначенного римской цифрой «I», было союзником Российской империи в войне, события которой отражены на схеме.








№ 13. Заполните пропуск в предложении: «Проведение реформы, результаты которой отражены на схеме, началось в тысяча восемьсот _____ году». Ответ запишите словом (сочетанием слов).

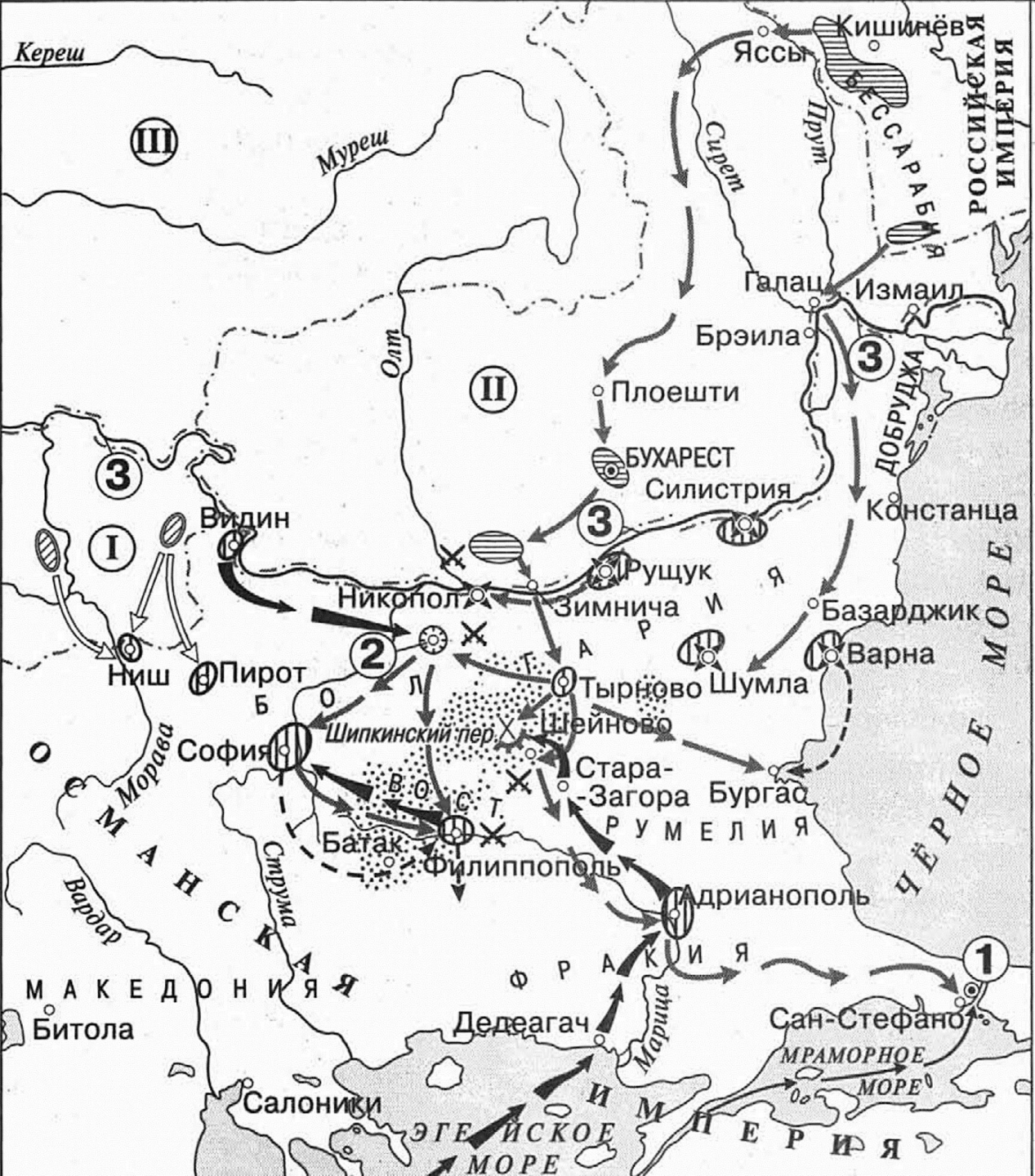
№ 14. Укажите название города, обозначенного на схеме цифрой «2».

№ 15. Заполните пропуск в предложении: «Для составления проекта реформы, результаты которой отражены на карте, были созданы _____ комиссии».

№ 16. Какие суждения, относящиеся к схеме, являются верными? Выберите три суждения из шести предложенных.

- 1) В подготовке реформы, результаты которой отражены на карте, непосредственное участие принимал Н.А. Милютин.
- 2) Территория губернии, отмеченной на карте цифрой «1», вошла в состав России при Екатерине II.
- 3) В городе, отмеченном на карте цифрой «2», 2 марта 1917 г. подписал отречение от власти Николай II.
- 4) Город под цифрой «4» в 1925–1961 гг. носил имя Сталинград.
- 5) В результате отраженной на карте реформы в Саратовской губернии были увеличены крестьянские наделы.
- 6) В результате реформы, отраженной на карте, наделы крестьян Санкт-Петербургской губернии были уменьшены.

	Губернии, в которых крестьянские наделы были уменьшены	САНКТ-ПЕТЕРБУРГ	Столицы государств
	Губернии, в которых крестьянские наделы были увеличены	Москва	Центры губерний и областей
	Районы массовых крестьянских волнений	Севастополь	Прочие населенные пункты
			Границы Российской империи на 1877 г.
			Границы губерний



--- Границы государств к началу войны

• Районы восстания славянских народов в 1875–1878 гг.

Сосредоточение войск к началу войны

русских турецких
 румынских и сербских

Действия войск

русских
 румынских и сербских
 турецких и их отступление
 Осада городов русскими войсками
 Героическая оборона Шипкинского перевала
 Места сражений
 Крепости

Приход английской эскадры в Мраморное море для противодействия усилению России на Балканах

№ 13. Заполните пропуск. «Война, события которой отражены на схеме, началась в 18_____ году.»

№ 14. Назовите императора, в годы правления которого происходили события, отраженные на схеме.

№ 15_1. Напишите название города, обозначенного цифрой «1», в период событий, отраженных на схеме.

№ 15_2. Напишите название реки, трижды обозначенной на схеме цифрой «3».

№ 16. Какие суждения, относящиеся к схеме, являются верными? Выберите пять суждений из восьми предложенных.

- 1) В военных действиях, отраженных на схеме, принимали участие войска только двух государств.
- 2) Одним из руководителей осады и штурма города, обозначенного на схеме цифрой «2», был Михаил Скобелев.
- 3) По итогам войны, события которой отражены на схеме, территории, обозначенные римскими цифрами «I» и «II», получили полную независимость.
- 4) На схеме обозначен и подписан город, где был заключен мирный договор, завершивший данную войну.
- 5) В действиях, обозначенных на схеме, принимали участие только сухопутные войска.
- 6) На схеме обозначен и подписан город, где был заключен мирный договор, по условиям которого окончательно было признано вхождение Крыма в состав Российской империи.
- 7) Государство, обозначенное римской цифрой «III», высказало несогласие с условиями мирного договора, завершившего войну, события которой отражены на схеме.
- 8) С началом военных действий, отраженных на схеме, восстания славянских народов прекратились.

