

ВПР окружающий мир 4 класс

## Задания 8

# Оценка взаимоотношений людей в социальных группах



Работу выполнила  
учитель начальных  
классов  
МОУ СОШ №1 г.  
Камешково  
Курова Т.В.

# Оценка взаимоотношений людей в социальных группах

На фотографиях изображены предметы, с которыми работают представители разных профессий.



Выбери ОДНУ из фотографий и запиши букву, которой она обозначена. Представители какой профессии работают с изображёнными на выбранной фотографии предметами? *Если ты знаешь много профессий, представители которых работают с выбранным(-и) тобой предметом(-ами), назови любую из них.* Какую работу выполняют люди этой профессии? Чем работа людей этой профессии полезна обществу?

1

А)



Б)



В)



На картинке А изображены каска, кисть и валик. Они нужны **маляру**. Он выполняет окраску домов и квартир.

На картинке Б изображена швейная машинка. На ней работает **швея**. Она шьет одежду для людей.

На картинке В изображены реактивы и пробирки. С ними работает **химик**. Он изучает различные вещества и их взаимодействие.

2

А)



Б)



В)



На картинке А изображена пожарная машина. Она нужна **пожарному**. Он тушит пожары.

На картинке Б изображён гончарный круг. На нём работает **гончар**. Он изготавливает посуду.

На картинке В изображен калькулятор. С ним может работать **продавец**. Он продает людям товары и производит расчеты стоимости на калькуляторе.

3

А)



Б)



В)



РЕШУЕГЭ.РФ

На картинке А изображён фотоаппарат. Его использует для работы **фотограф**, чтобы снимать изображения людей или природы. Фотограф делает фотографии интересных людей или событий, чтобы рассказать о них обществу.

На картинке Б изображены лейка, сапоги, перчатки и инструменты. Эти предметы необходимы **садовнику**. Он ухаживает за растениями в садах и парках.

На картинке В изображён самолет. С самолетом связаны такие профессии как **пилот** и **стюардесса**. Пилот перевозит пассажиров в разные города и страны. Стюардесса помогает пассажирам чувствовать себя комфортно во время полёта.

4

А)



Б)



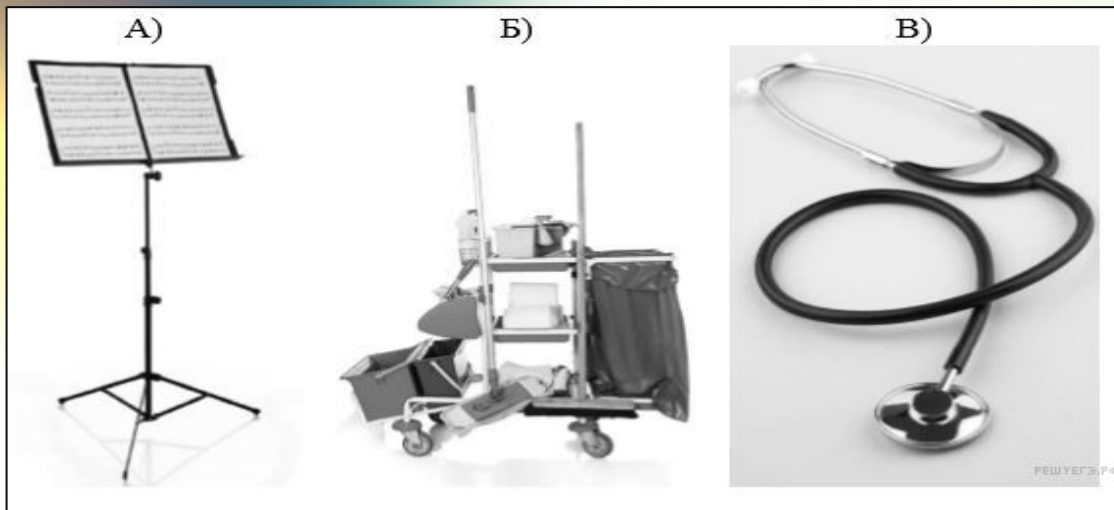
В)



На картинке А изображена грузовая машина. Её использует для работы **дальнобойщик**, чтобы перевозить полезные товары между городами и странами.

На картинке Б изображена посуда. Эти предметы необходимы **повару**. Он готовит еду в школах и других учреждениях.

На картинке В изображена штанга. Её использует **спортсмен**. Он защищает честь страны на олимпиадах и соревнованиях.



На картинке А изображён пюпитр. Его использует для работы **музыкант**. Он играет в оркестре на различных музыкальных и театральных представлениях.

На картинке Б изображены принадлежности для уборки: швабра, мусорный пакет. Эти предметы необходимы **уборщице**. Она поддерживает чистоту в общественных учреждениях.

На картинке В изображён стетоскоп. Его использует **врач**. Он лечит людей от различных заболеваний.

6

А)



Б)



В)



На картинке А изображён термометр. Его использует **врач**. Он лечит людей от различных заболеваний.

На картинке Б изображены краски и кисти. Эти предметы необходимы **художнику**. Он пишет картины.

На картинке В изображён комбайн. Его использует **фермер**. Он выращивает и собирает урожай зерна.



А)



На картинке А изображена теннисная ракетка. Ее используют **теннисисты**. Они защищают честь страны на соревнованиях и олимпиадах.

Б)



На картинке Б изображён микроскоп. Он нужен **врачам**. Они изучают на нём микробы и вирусы.

В)



На картинке В изображён кирпич и строительный инструмент. Они нужны **строителям**. Они строят здания.

8

А)



Б)



В)



На картинке А изображены зубные инструменты. Их используют **стоматологи**. Они лечат людям зубы.

На картинке Б изображены клюшка и шайба. Они нужны **хоккеистам**. Они выступают на соревнованиях по хоккею.

На картинке В изображён телескоп. Он нужен **астроному**. Он изучает звёзды и другие планеты в космосе.

9

А)



На картинке А изображён футбольный мяч. Его используют **футболисты**. Они играют в футбол на соревнованиях.

Б)



На картинке Б изображены строительные инструменты. Они нужны **слесарям и плотникам**. Они чинят мебель, предметы быта.

В)



На картинке В изображён акваланг. Он нужен **аквалангисту**. Он работает под водой.

А)



Б)



В)



На картинке А изображена учебная машина. На ней работает **инструктор по вождению**. Он учит людей водить машину.

На картинке Б изображены строительные инструменты. Они нужны **слесарям и плотникам**. Они чинят мебель, предметы быта.

На картинке В изображена машина для перевозки грузов в магазинах. Она нужна **грузчику**. Он развозит грузы по отделам больших магазинов.

А)



Б)




В)




На картинке А изображена доска и мел. Они нужны **учителю**. Он учит детей в школе.

На картинке Б изображён поезд. На нём работает **машинист**. Он перевозит пассажиров между городами и странами.

На картинке В изображён стол для массажа. Он нужен **массажисту**. Он делает лечебный массаж **людям**.



На картинке А изображены тонометр и стетоскоп. Они нужны **врачу/доктору**. Он выполняет осмотр пациентов с помощью этих приспособлений.



На картинке Б изображено такси. Такси управляет **водитель**. Он возит пассажиров в нужные им места.



На картинке В изображена шахтёрская тележка. С ней работает **шахтёр**. Он добывает полезные ископаемые из земли.

А)



На картинке А изображены фуражка, погоны и рация. Эти предметы использует для работы **полицейский**. Он охраняет порядок.

Б)



На картинке Б изображён судейский молоток. Он нужен **судье**. Он выносит приговоры преступникам.

В)



На картинке В изображён корабль. На нём работают **моряки**. Они ходят в плавания для выполнения различных важных государственных поручений.

Ссылки на интернет-ресурсы

[http://z-walls.ru/mo/18/yakro\\_abstrakciya\\_svetlo\\_1920x1200.jpg](http://z-walls.ru/mo/18/yakro_abstrakciya_svetlo_1920x1200.jpg)

<http://maknika.ru/wp-content/uploads/2014/10/1prevvu.jpg>

*Шаблон выполнен  
учителем иностранного языка  
МОУ СОШ №1 г. Камешково  
Шахториной О. В.*

Источник: Демонстрационная версия ВПР по окружающему миру 4 класс 2018 год.