


Вычитание вида

$$13 - \square$$

8 мая

Классная

работа



Русский язык
«Школа России»



УСТНЫЙ СЧЁТ

$$2 + 2 =$$

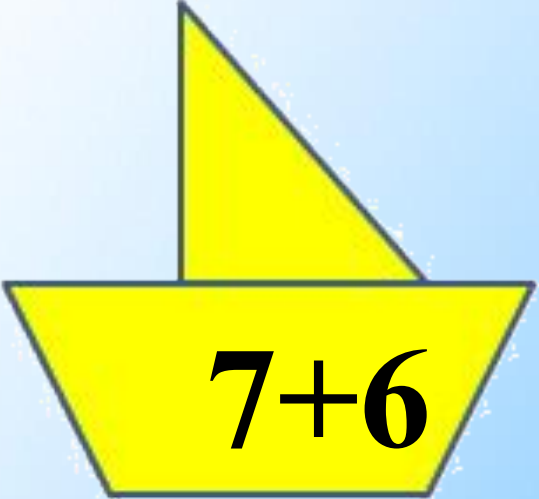
$$6 - 4 =$$




Приведи кораблики к причалу.


13


 $7+5$

 $7+6$

 $8+5$

 $8+4$

 $6+6$

 $9+4$

Реши цепочки примеров. Запиши ответы.

$$8 \overset{12}{+} 4 \overset{15}{+} 3 - 10 =$$

5

$$11 \overset{5}{-} 6 \overset{12}{+} 7 - 3 =$$

9

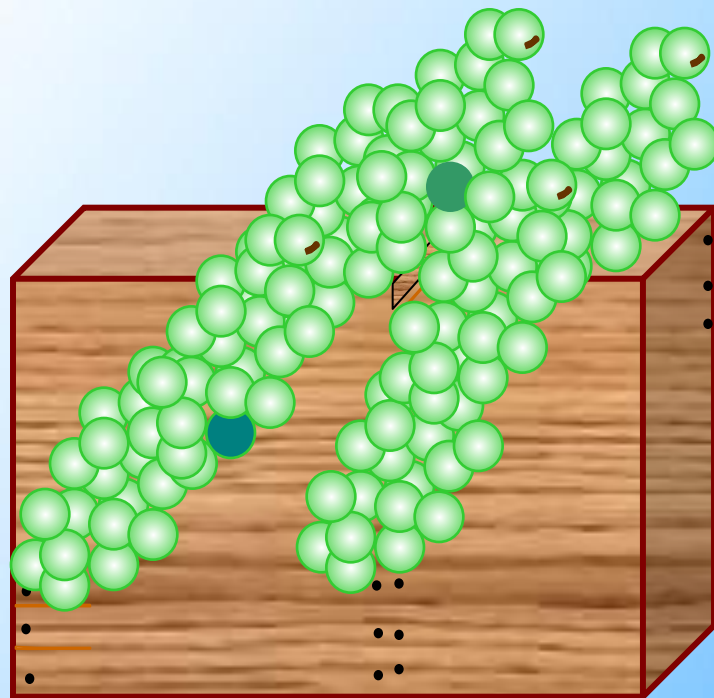
$$12 \overset{4}{-} 8 \overset{1}{-} 3 + 1 =$$

2

Собрали **16** кг винограда. Из **7** кг сделали сок, а **2** кг съели. Сколько кг винограда осталось?

7 кг

$$16 - 7 - 2 = 7$$



В большой корзине **8** кг вишни, а в маленькой **6** кг. Сколько кг вишни в двух корзинах?

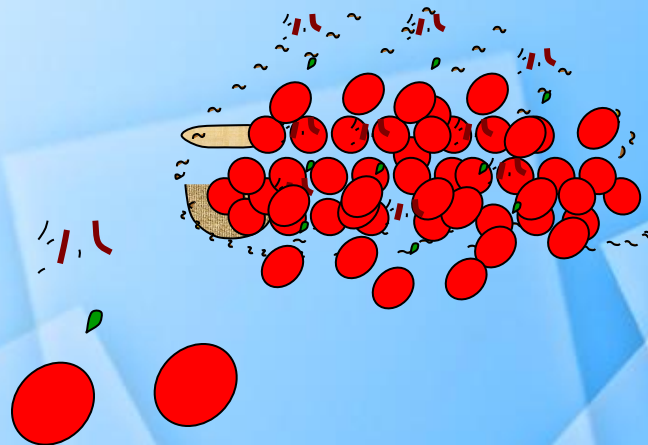
14 кг

$$8 + 6 = 14$$

На сколько кг вишни больше в большой корзине, чем в маленькой?

на 2 кг

$$8 - 6 = 2$$



Вспомни состав числа 13

13

9

8

7

4


5

6

1 способ


НОВЫЙ МАТЕРИАЛ





$$13 - 4$$

$$13 - 3 - 1$$



$$13 - 5$$

$$13 - 3 - 2$$

Заполни
пропуски.

$$13 - 6 = 13 - 3 - \underline{3}$$

$$13 - 7 = 13 - 3 - \underline{4}$$

$$13 - 8 = 13 - 3 - \underline{5}$$

Запомни!

$$13 - 4 = 9$$

$$13 - 5 = 8$$


$$13 - 6 = 7$$

$$13 - 7 = 6$$

$$13 - 8 = 5$$

$$13 - 9 = 4$$

РАБОТА ПО УЧЕБНИКУ



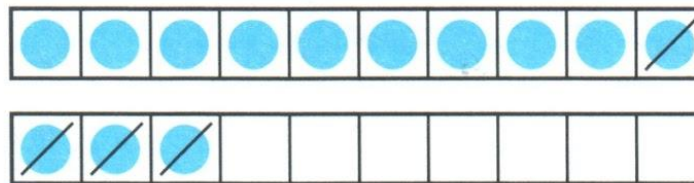
Стр. 84

$13 - \square$



Объясни, как из числа 13 вычесть 4.

13	
4	
5	
6	



$$\begin{array}{r} 13 - 4 \\ \hline 13 - 3 - 1 \end{array}$$

Вычисли и запомни.

$13 - 4$

$13 - 5$

$13 - 6$

$13 - 9$

$13 - 8$

$13 - 7$

Запиши и реши

1. $12 - 4$ $12 - 9$ $11 - 4$ $11 - 2 + 9$
 $12 - 5$ $12 - 6$ $11 - 5$ $7 + 6 - 3$
 $12 - 7$ $12 - 3$ $11 - 7$ $19 - 9 - 0$

2. Составь по кратким записям задачи и реши их. **Устно**

У Вали — 10
У Лиды — на 2 ... меньше.
Всего — ... ?

Было — 8
Съели — 5
Осталось — ... ?

Запиши и реши

5. $17 \bigcirc 10 + 7$
 $19 \bigcirc 20 - 1$

$1 \text{ дм } 2 \text{ см } \bigcirc 13 \text{ см}$
 $1 \text{ дм } 5 \text{ см } \bigcirc 20 \text{ см}$

4. Катя составила 6 примеров с ответом 8, а Валя — 10 таких примеров. На сколько больше примеров составила Валя, чем Катя?