

МАТЕМАТИКА

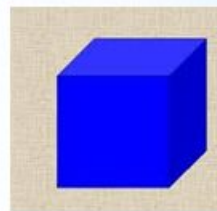
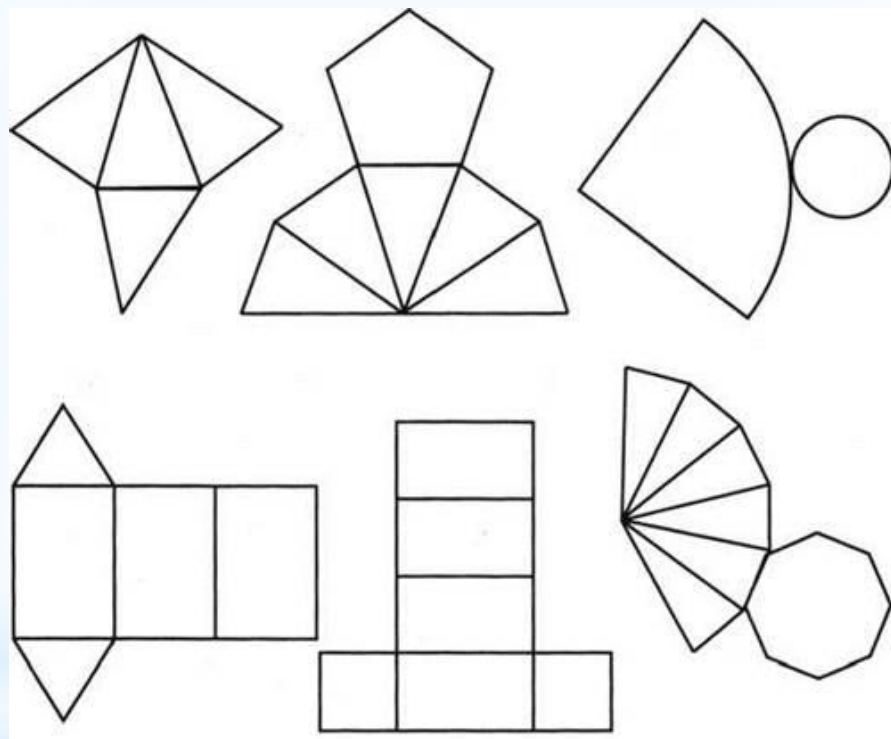
Многогранники.
Развертки поверхностей
геометрических тел.

математика

4 класс



Цель: научиться распознавать развертки различных геометрических тел.





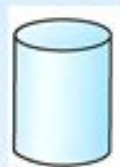
Ребята!

Отгадайте загадки.

Будьте внимательны!

Если отгадаете неверно,
то придётся отгадывать с самого начала.

Удачи!




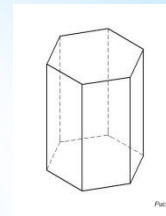
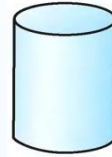
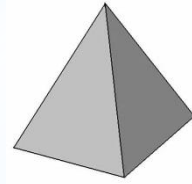

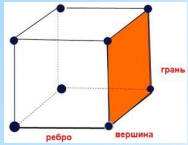
Я фигура – хоть куда,
Очень ровная всегда,
Все углы во мне равны
И четыре стороны.

Кубик – мой любимый брат,
Потому что я....

пирамида

квадрат

куб

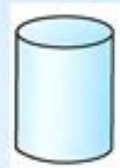
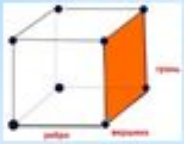


Как его нам не вертеть
Равных граней ровно шесть.
С ним в лото сыграть мы сможем,
Только будем осторожны:
Он не ласков и не груб
Потому что это...

куб

шар

конус



Вновь беремся мы за дело,
Изучаем снова тело:
Может мячиком он стать
И немного полетать.
Очень круглый, не овал.
Догадались? Это...

куб

призма

шар

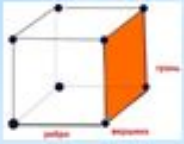


Египтяне их сложили
И так ловко смастерили,
Что стоят они веками.
Догадайтесь, дети, сами
Что же это за тела,
Где вершина всем видна?
Догадались? Из-за вида
Всем известна...

шар

призма

пирамида

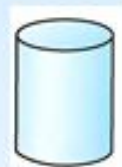


Это, вроде бы, ведро,
Но совсем другое дно:
Не кружок, а треугольник
Или даже шестиугольник.
Очень тело уж капризно,
Потому что это...

призма

конус

цилиндр



Присмотрись, стоит ведро -
Сверху крышка, снизу дно.

Два кружка соединили

И фигуру получили.

Как же тело называть?

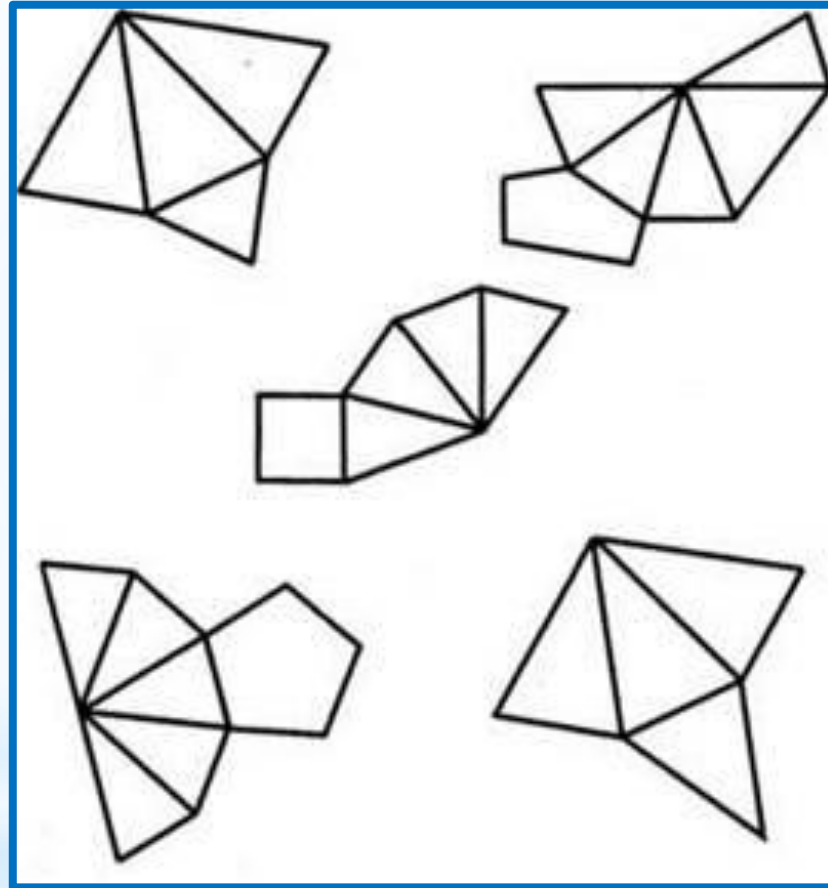
Надо быстро отгадать.

куб

цилиндр

шар

На чертеже развертки поверхностей фигур.
Попробуйте определить какие это фигуры.

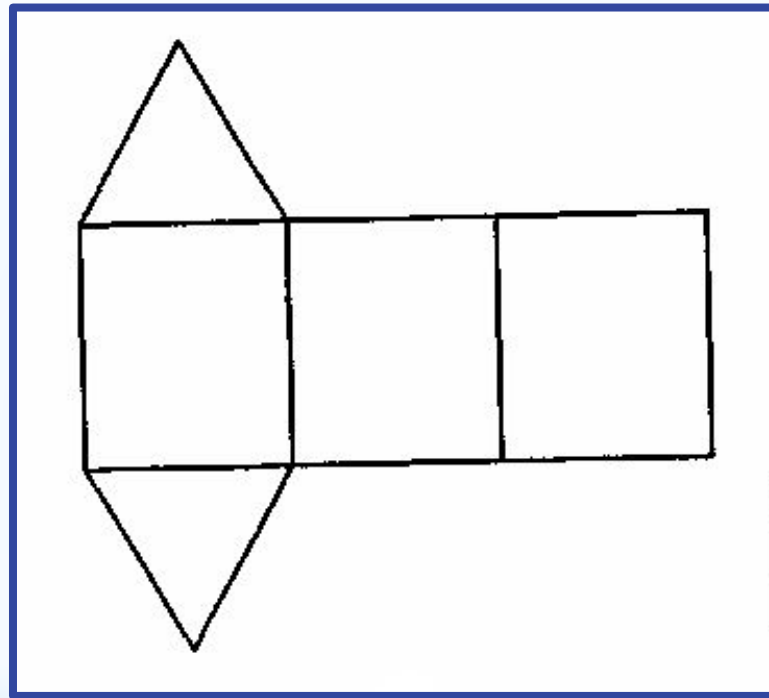


конусы

призмы

пирамиды

На чертеже развертка поверхности фигуры.
Попробуйте определить какая это фигура.

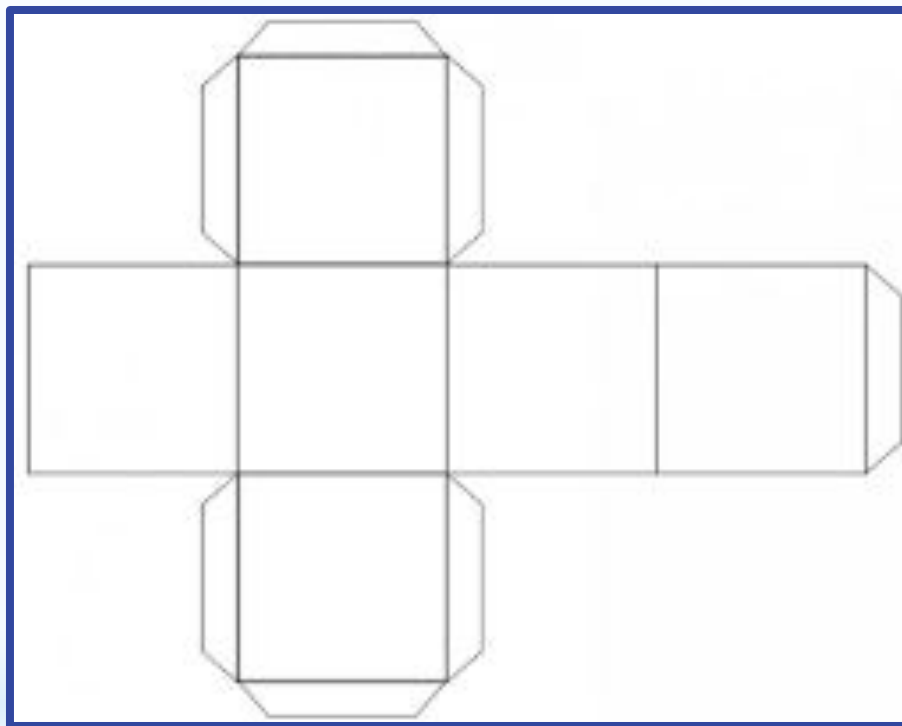


призма

куб

пирамида

На чертеже развертка поверхности фигуры.
Попробуйте определить какая это фигура.

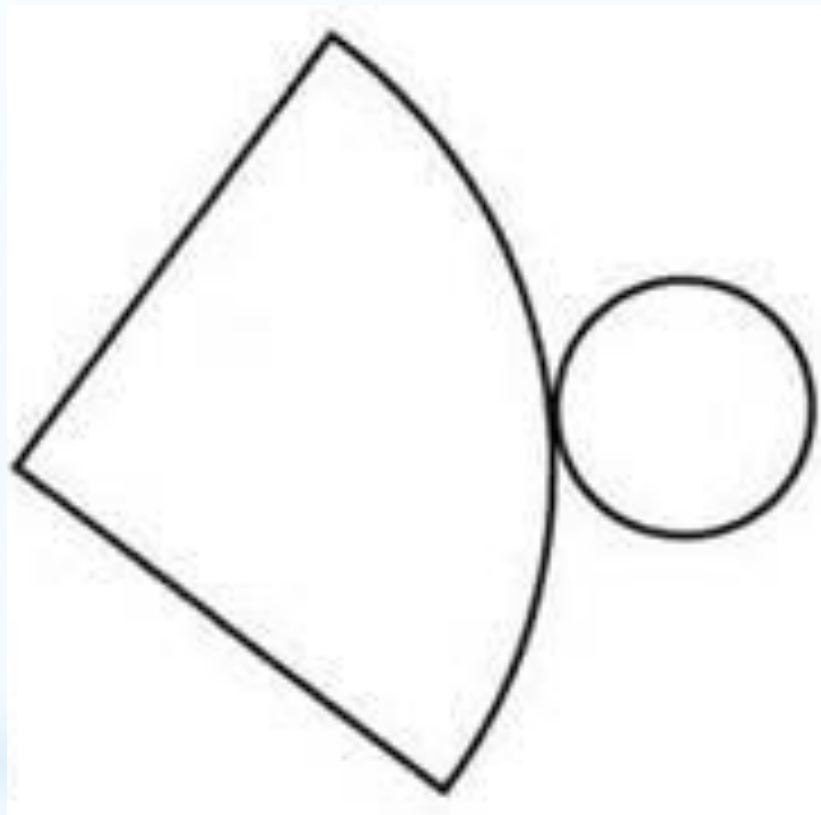


призма

куб

квадрат

На чертеже развертка поверхности фигуры.
Попробуйте определить какая это фигура.

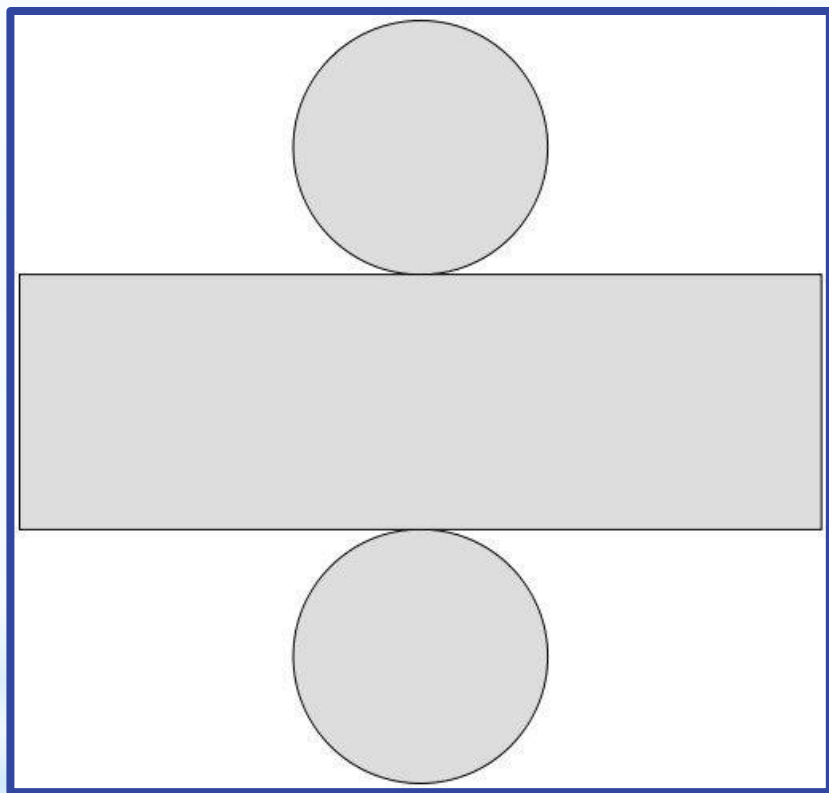


пирамида

шар

конус

На чертеже развертка поверхности фигуры.
Попробуйте определить какая это фигура.



конус

шар

цилиндр



Молодцы!



Подумай!

Начни сначала

Распечатайте развёртки. Подпишите на развёртке какая это фигура, вырежьте и склейте.

