



Число и цифра 4






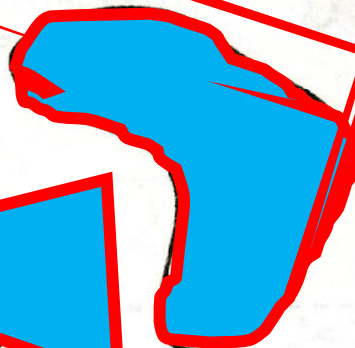
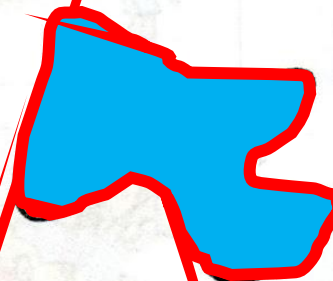


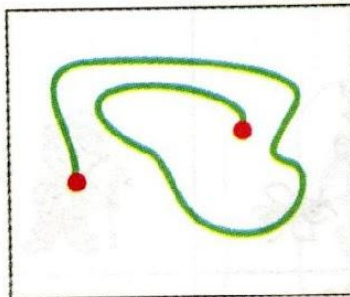
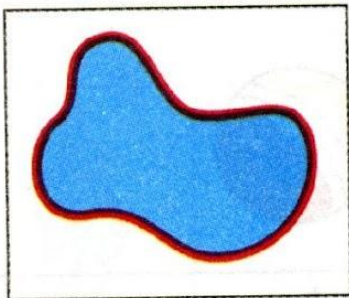
1

Начерти дорожку, по которой идёт Винни-Пух, красным карандашом, а ослик Иа-Иа — зелёным. Кто из друзей путешествует по замкнутой линии, а кто нет?



2


Обведи линии и раскрась области по образцу в рамках:




3

Зачеркни ненужные цифры:

		
1	2	3

		
1	2	3

		
1	2	3

		
1	2	3

4 Дорисуй и допиши. Назови части и целое.

$$\begin{array}{|c|} \hline \text{м} \\ \hline \end{array} \begin{array}{|c|} \hline \text{л} \\ \hline \end{array} + \begin{array}{|c|} \hline \text{ц} \\ \hline \end{array} = \begin{array}{|c|} \hline \text{м} \\ \hline \end{array} \begin{array}{|c|} \hline \text{л} \\ \hline \end{array} \begin{array}{|c|} \hline \text{ц} \\ \hline \end{array} \quad 2 + 1 = 3$$

$$\begin{array}{|c|} \hline \text{ц} \\ \hline \end{array} + \begin{array}{|c|} \hline \text{м} \\ \hline \end{array} \begin{array}{|c|} \hline \text{л} \\ \hline \end{array} = \begin{array}{|c|} \hline \text{м} \\ \hline \end{array} \begin{array}{|c|} \hline \text{л} \\ \hline \end{array} \begin{array}{|c|} \hline \text{ц} \\ \hline \end{array} \quad 1 + 2 = 3$$

$$\begin{array}{|c|} \hline \text{м} \\ \hline \end{array} \begin{array}{|c|} \hline \text{л} \\ \hline \end{array} \begin{array}{|c|} \hline \text{ц} \\ \hline \end{array} - \begin{array}{|c|} \hline \text{ц} \\ \hline \end{array} \begin{array}{|c|} \hline \text{л} \\ \hline \end{array} = \begin{array}{|c|} \hline \text{м} \\ \hline \end{array} \quad 3 - 2 = 1$$

$$\begin{array}{|c|} \hline \text{м} \\ \hline \end{array} \begin{array}{|c|} \hline \text{л} \\ \hline \end{array} \begin{array}{|c|} \hline \text{ц} \\ \hline \end{array} - \begin{array}{|c|} \hline \text{м} \\ \hline \end{array} = \begin{array}{|c|} \hline \text{ц} \\ \hline \end{array} \begin{array}{|c|} \hline \text{л} \\ \hline \end{array} \quad 3 - 1 = 2$$

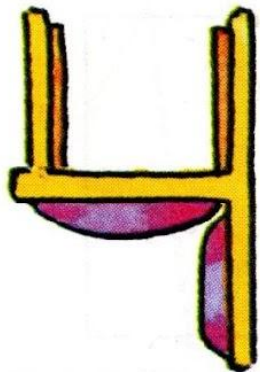
1

1

2

3

4






*За тремя идут четыре,
Острый локоть оттопыря.*

С. Маршак

*Стоитри — четыре это стци,
Который я перевернул.*


Т. Вьеру



Какой четвёртый день недели?

Какой четвёртый месяц года?

Какие праздники или радостные события были у тебя в этом месяце?



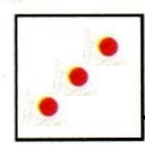
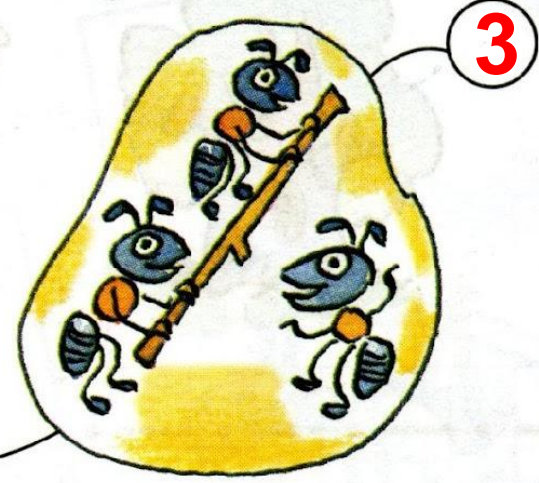
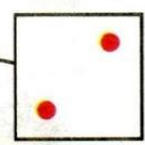



Вот четвёрка. Не сложна
В написании она.
Слева - угол впереди,
Справа линию веди.




Есть ещё короче путь:
Надо стул перевернуть.
Слева - ножка, справа – спинка.
Очень точная картинка

2

Понаблюдай: что надо поместить в кружок и в квадрат?
Сделай записи.




3 Раскрась цифру 4 и дорисуй картинку:



4

Разбей группу фигур сначала по цвету, а затем по форме и по размеру.



5

Игра «Четвёртый лишний».

