
Число і цифра 3. Написання цифри 3. Склад числа 3. Порівняння предметів


Виконала:
студентка першого курсу
факультету психології
групи ДК-15-1
Корзунова Надія Дмитрівна

Дніпропетровськ 2015

Цифра і число 3



На травиці біля хати
Метушаться цуценята.
Двоє білих, наче сніг,
Одне чорне. Скільки всіх?



Скільки всього квітів
посаджено у
горщики?



Як складається число три?

З яких цифр складається цифра 3?



Кого на малюнку три?




Кого на малюнку три?




Скільки всього тварин? Хто стоїть першим? Хто стоїть останнім? Хто стоїть під номером 2? Назвіть сусідів їжачка. Хто стоїть поруч із зеброю? Хто стоїть ліворуч жирафа? Хто є найвищим? Хто є найнижчим?



1



2



3

Порівняти кількість предметів.



3

2



1

2













3

3

Робота з індивідуальними картками (для кожної дитини особисто)

Розфарбувати кожну третю кульку.



Робота з індивідуальними картками (для кожної дитини особисто)

Поєднати малюнок з цифрою.



1



2



3



Закріплення вивченого на уроці
Вирішити.

