



# Урок - путешествие В КОСМОС


Математика  
1 класс

Подготовила учитель МОУ г.  
Горловки «Школа №73»  
Пенкина Н.И.

# 12 апреля день КОСМОНАВТИКИ

12 апреля 1961 года советский космонавт Юрий Алексеевич Гагарин первым в мире облетел земной шар на космическом корабле «Восток» за 108 минут.



A decorative graphic in the top right corner featuring three stars: a yellow one, a dark blue one, and a light blue one. Below the stars are several white diagonal lines of varying lengths, creating a sense of motion or a stylized arrow pointing towards the bottom right.

**Сложение с  
переходом через десяток  
+2, +3**



**НАЗОВИ ЧИСЛА ОТ 20 ДО 1 И  
ЗАПУСТИ РАКЕТУ**



- ▶ 10 – это 6 и ?
- ▶ 9 – это 4 и ?
- ▶ 8 – это 3 и ?
- ▶ 7 – это 5 и ?
- ▶ 10 – это 1 и ?
- ▶ 9 – это 6 и ?
- ▶ 3 – это 1 и ?
- ▶ 10 – это 8 и ?

# МАТЕМАТИЧЕСКИЙ ДИКТАНТ



# Меркурий

$$\underline{9+2=11}$$

$$9+1+1=11$$

*Новая тема*

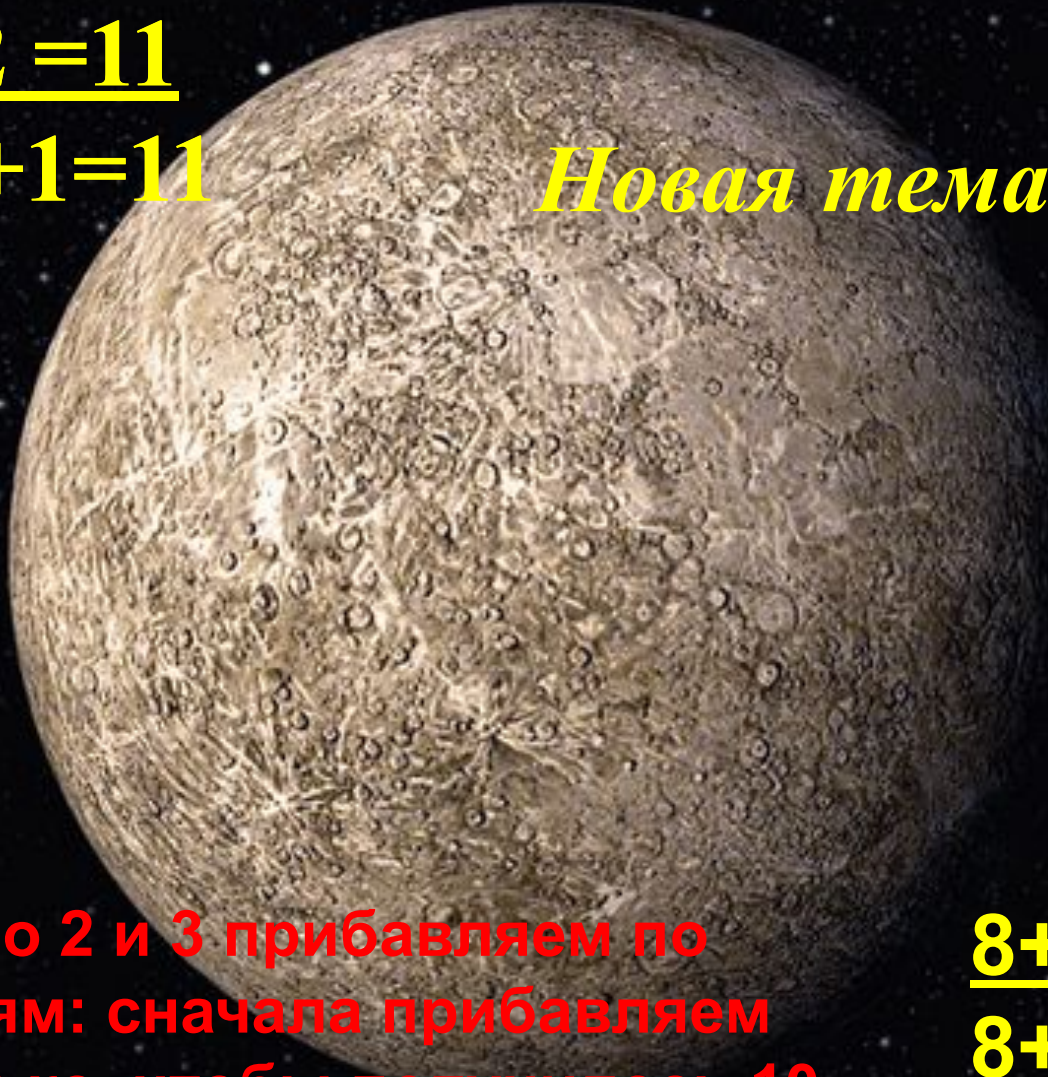
$$\underline{9+3=12}$$

$$9+1+2=12$$

Число 2 и 3 прибавляем по частям: сначала прибавляем столько, чтобы получилось 10, а потом оставшуюся часть

$$\underline{8+3=11}$$

$$8+2+1=11$$







**Венера**

**ЗАПОМНИ!**

$$9+2=11$$

$$9+3=12$$

$$8+3=11$$



# ФИЗКУЛЬТМИНУТКА





# Юпитер



Устное решение задач

По краткой записи  
составь и реши задачу

Коля - 9 звёзд

Слава - ? на 3 звезды больше

# Письменное решение задачи

The background of the slide is a composite image. On the left, the rings of Saturn are visible, extending from the top left towards the center. In the middle, a large planet with vibrant, swirling colors of green, blue, and orange is shown. On the right, a dark, rocky landscape with jagged peaks is visible against a starry night sky.

**В КОНКУРСЕ РИСУНКОВ ПРИНЯЛО  
УЧАСТИЕ 8 ДЕВОЧЕК, А МАЛЬЧИКОВ НА  
5 МЕНЬШЕ. СКОЛЬКО ВСЕГО ДЕТЕЙ  
ПРИНЯЛО УЧАСТИЕ В КОНКУРСЕ?**



# Проверь решение задачи



1)  $8 - 5 = 3$  (м.)




2)  $8 + 3 = 11$  (д.)

**Ответ: 11 детей приняло участие в конкурсе.**



Задача на смекалку


Разбей фигуры на две группы



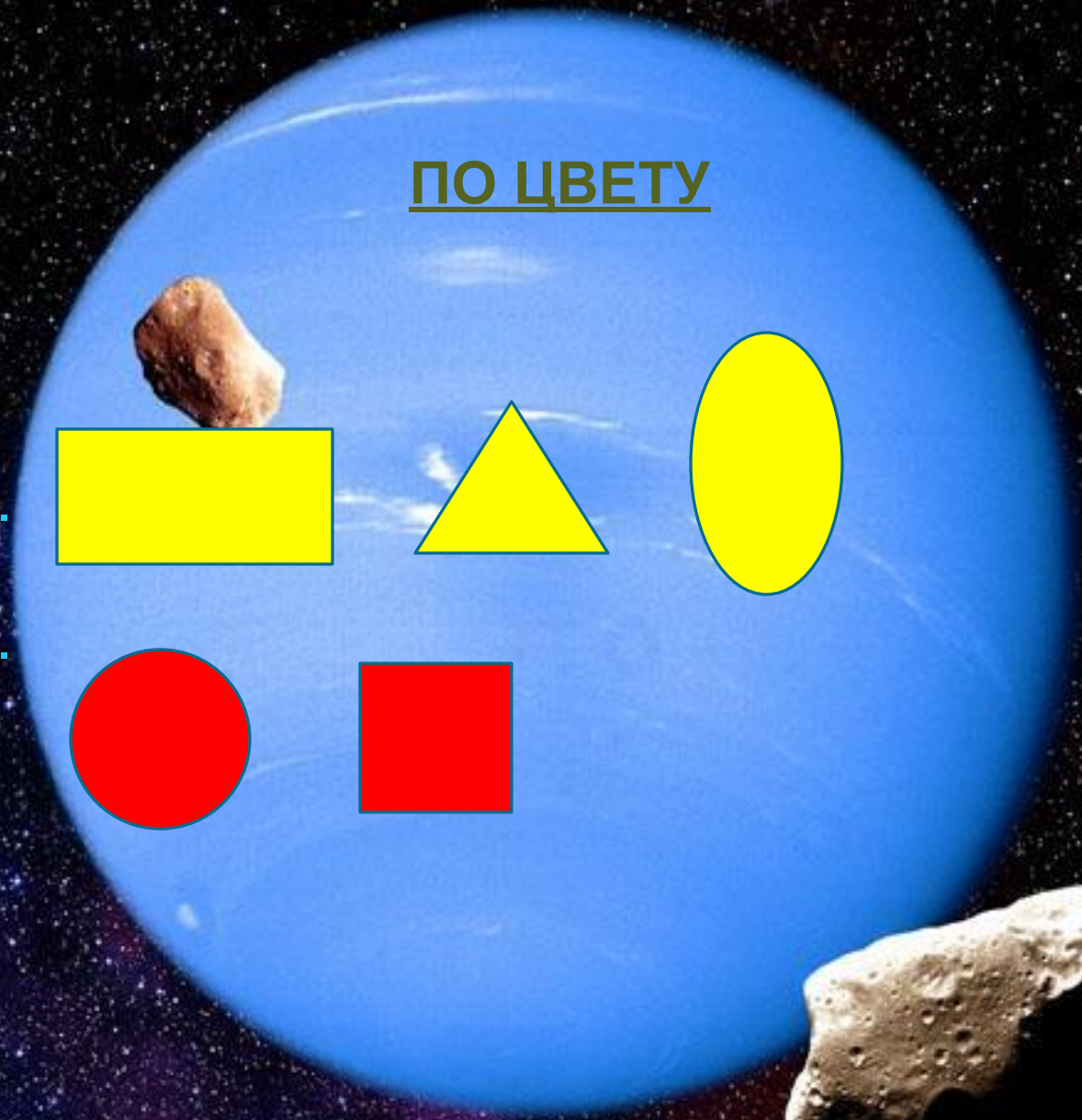




ΠΟ ΧΒΕΤΥ

1.



2.






ПО НАЛИЧИЮ УГЛОВ

1.



2.





# Земля

A satellite view of the Earth from space, showing the Americas and surrounding oceans. The Earth is centered in the frame, with the Americas visible in the center. The oceans are a deep blue, and the continents are green and brown. The background is a dark, starry space.

## Итог урока

1. Что вам понравилось на уроке?
2. Для чего мы изучили таблицу сложения однозначных чисел с переходом через десяток?

Спасибо за урок!

