




ЗАКОНЫ ВАВИЛОНСКОГО ЦАРСТВА






ОПРЕДЕЛЯЕМ ПРОБЛЕМУ



ПРЕДМЕТ	МЕЖДУРЕЧЬЕ	ЕГИПЕТ
Колесо	IV тыс. до н.э.	III тыс. до н.э.
Гончарный круг	Ок. 3500 г. до н.э.	Ок. 3000 г. до н.э.
Бронза	III тыс. до н.э.	II тыс. до н.э.
Колесница	Ок. 2000 г. до н.э.	Ок. 1700 г. до н.э.

- Внимательно рассмотри таблицу. Какие выводы можно сделать?
- Какой возникает вопрос? Сравни его с авторским.





ОПРЕДЕЛЯЕМ ПРОБЛЕМУ




ВАША ФОРМУЛИРОВКА ПРОБЛЕМЫ
МОЖЕТ НЕ СОВПАДАТЬ С
АВТОРСКОЙ. ПОЖАЛУЙСТА,
ВЫБЕРИТЕ В КЛАССЕ ТУ
ФОРМУЛИРОВКУ, КОТОРАЯ ВАМ
НАИБОЛЕЕ ИНТЕРЕСНА!





ВСПОМИНАЕМ ТО, ЧТО ЗНАЕМ




● Объясни значения слов: цивилизация (два значения), государство, народ, закон, соседская община, граждане. (Словарь)

● Назови достижения жителей Древнего Междуречья. (§ 12)





ВСПОМИНАЕМ ТО, ЧТО ЗНАЕМ



Возникновение

Особенности

Разделение

Необходимый уровень. С помощью цвета распредели перечисленные признаки по соответствующим группам.

Повышенный уровень. Впиши по одному недостающему признаку для данных понятий.


управлением

государства

**Цивилизация
(как степень развития)**

**Цивилизация
(как общность людей)**






ОТКРЫВАЕМ НОВЫЕ ЗНАНИЯ




**1. ПЕРЕКРЁСТОК ЗАПАДНОЙ
АЗИИ**

**2. ЗАКОНЫ «СИЯЮЩЕЙ
СПРАВЕДЛИВОСТИ»**





ПЕРЕКРЁСТОК ЗАПАДНОЙ АЗИИ




• Чем можно объяснить быстрое развитие Междуречья и всей Западной Азии?





ПЕРЕКРЁСТОК ЗАПАДНОЙ АЗИИ




Необходимый уровень. С помощью карты на с. 79 ответь на вопросы:

1. Что жители Междуречья должны были покупать у соседей по Западной Азии?
2. Что жители Междуречья могли продавать соседям по Западной Азии?





ПЕРЕКРЁСТОК ЗАПАДНОЙ АЗИИ



Повышенный уровень. С помощью карты на с. 79 ответь на вопросы:


1. Где находились центры расселения семитских племён, индоевропейских племён?
2. Какие типы хозяйственной деятельности были освоены семитскими и индоевропейскими племенами?




в X в. до н.э.
Зависимые от Египта земли
Торговые пути
Смотри также условные знаки на с. 6




ОСОБЫЙ ПУТЬ ФИНИКИЙЦЕВ





ОСОБЫЙ ПУТЬ ФИНИКИЙЦЕВ



● Исходя из названия, сформулируй главный вопрос к материалу.

● Найди отличия финикийцев от других жителей Западной Азии.




Финикийские корабли в Египте. Современный рисунок




Стеклянные сосуды финикийцев




ЗАКОНЫ «СИЯЮЩЕЙ СПРАВЕДЛИВОСТИ»



 Чем ваши представления (людей XXI века) о справедливости и равенстве людей совпадают с представлениями вавилонского царя Хаммурапи, а в чём - нет? Сделайте вывод по проблеме урока.



ЗАКОНЫ «СИЯЮЩЕЙ СПРАВЕДЛИВОСТИ»




Повышенный уровень. Прочитай статьи законов Хаммурапи, запиши своё мнение: в чём твои представления (человека XXI века) о справедливости и равенстве людей совпадают с представлениями вавилонского царя, а в чём — нет?

Позиция (мнение)	Я считаю, что _____ _____ _____.	Но, с другой стороны, _____ _____.
Аргумент(ы)	потому что _____ _____ _____.	потому что _____ _____ _____.






ЗАКОНЫ «СИЯЮЩЕЙ СПРАВЕДЛИВОСТИ»



Повышенный уровень. Оцени справедливость этих законов с точки зрения свободных вавилонян — современников Хаммурапи.

Позиция	Я считаю, что _____ _____
Аргумент(ы)	потому что _____ _____ _____ _____





ОТКРЫВАЕМ НОВЫЕ ЗНАНИЯ




**ПРИ ЦАРЕ ХАММУРАПИ
ВАВИЛОНСКОЕ ЦАРСТВО
СТАЛО САМОЙ СИЛЬНОЙ И
РАЗВИТОЙ ДЕРЖАВОЙ
ЗАПАДНОЙ АЗИИ.**






ПРИМЕНЯЕМ НОВЫЕ ЗНАНИЯ




необходимый уровень. Что могли перевозить финикийцы по важнейшим морским торговым путям?





ПРИМЕНЯЕМ НОВЫЕ ЗНАНИЯ



Повышенный уровень. Какой путь нужно было проделать финикийским кораблям от города Тир до оловянных рудников?