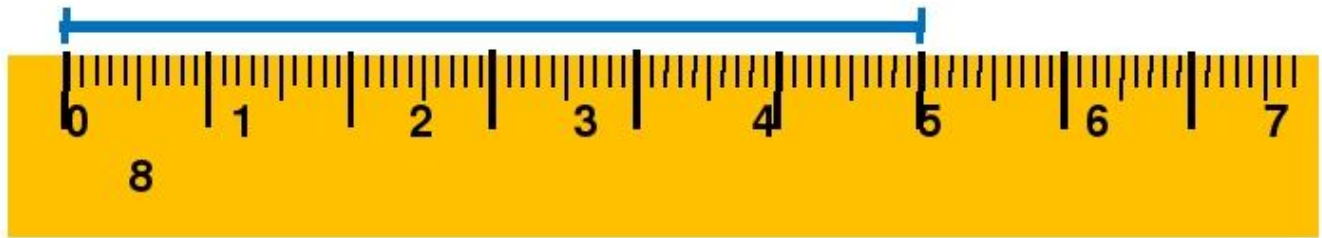




# Как правильно измерить длину линии



# Измеряем отрезки



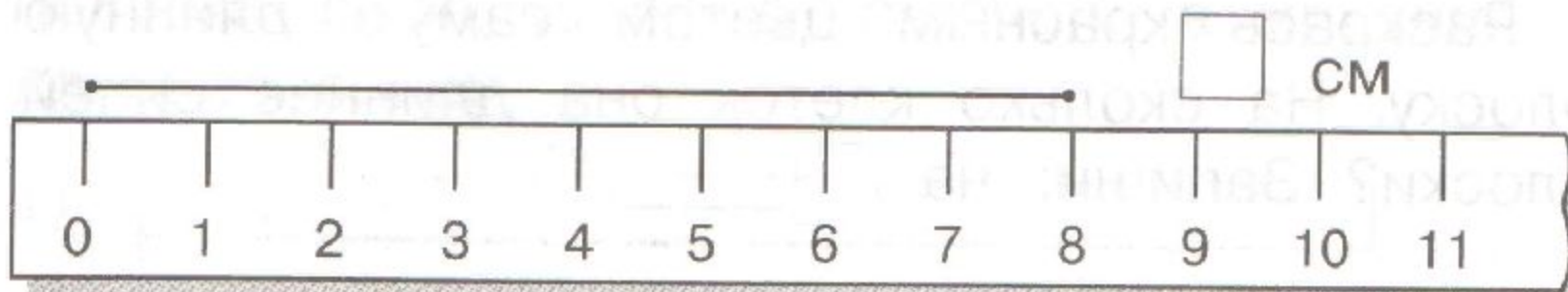
**1 сантиметр**

**1 см**

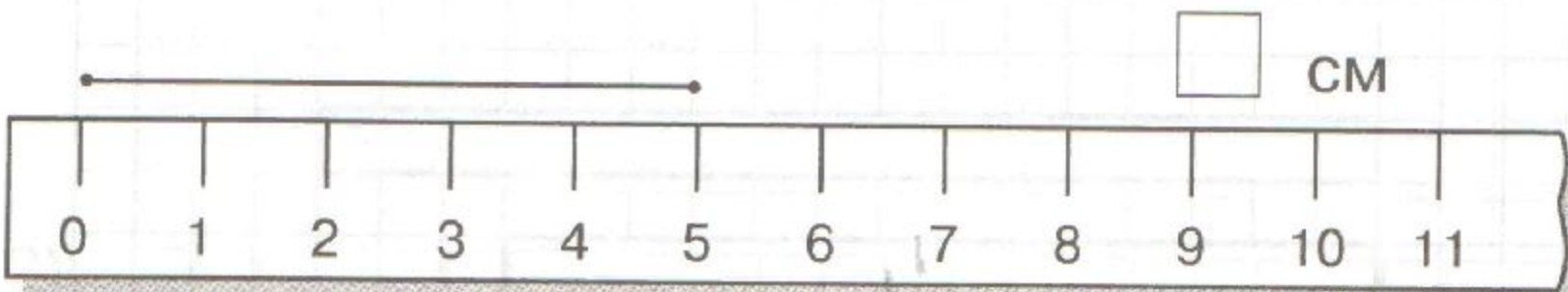
# Измерение длины отрезка. Сантиметр

1) Измерь и запиши длину каждого отрезка.

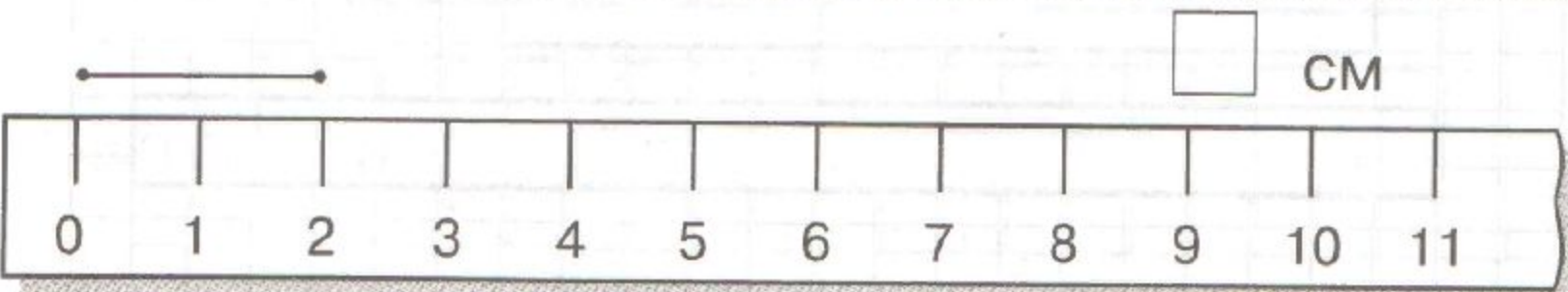
1



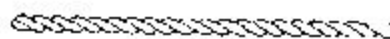
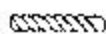
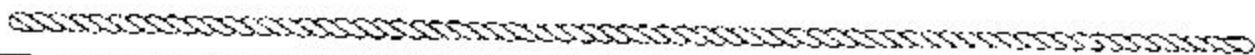
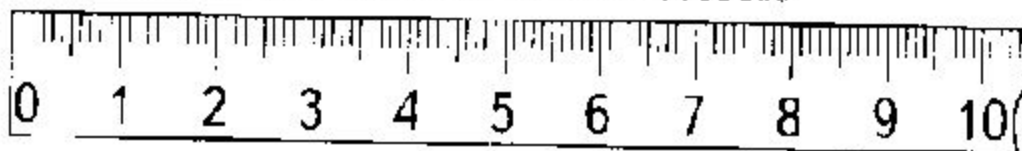
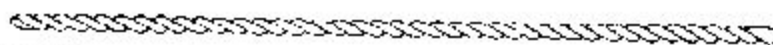

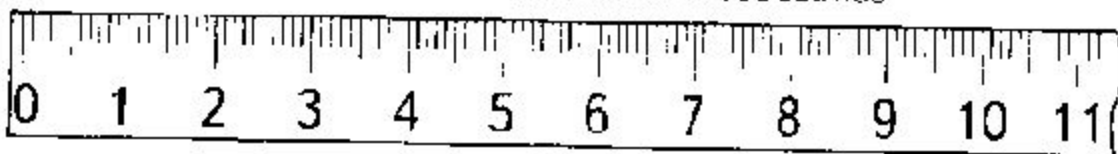
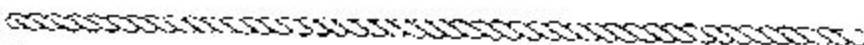
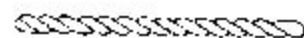
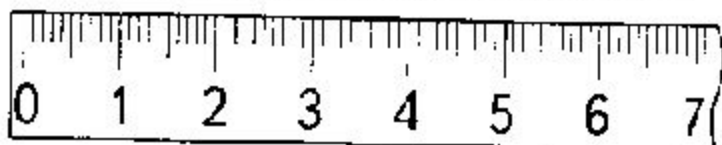
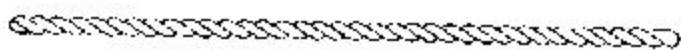
2




3



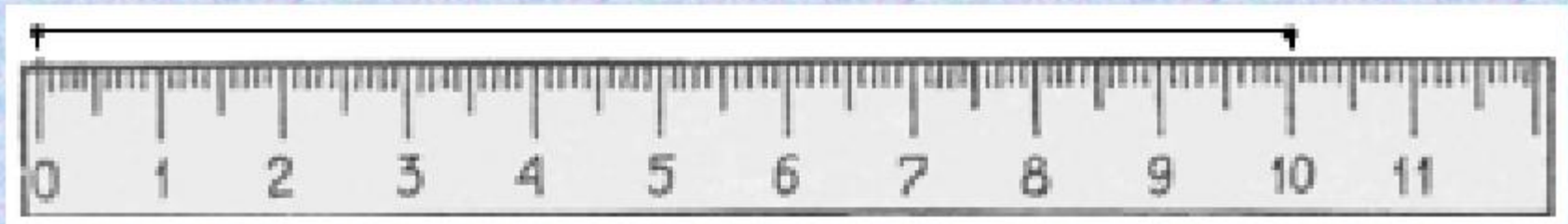
Назови длину каждой верёвочки в сантиметрах.



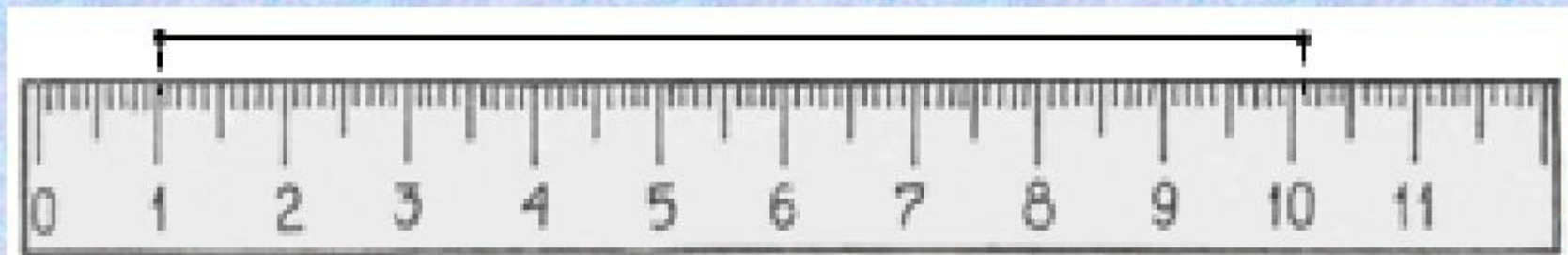


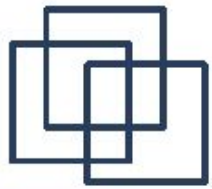
Сравните отрезки. Какова длина каждого отрезка? На сколько сантиметров верхний отрезок короче среднего?

• **Маша:**



**Миша:**





# Задачи в стихах

---

Шесть весёлых медвежат  
За малиной в лес спешат,  
Но один малыш устал,  
От товарищей отстал.  
А теперь ответ найди  
Сколько мишек впереди?








# Задачи в стихах

---

Два щенка – баловника, бегают, резвятся,  
К шалунишкам три дружка  
С громким лаем мчатся!  
Вместе будет веселей.  
Сколько будет всех друзей?





# День рождения Ежа.

Вот задумал ёж друзей  
Пригласить на юбилей.  
Пригласил двух медвежат,  
Трёх зайчат и трёх бельчат.  
Посчитайте, поскорей,  
Сколько у ежа гостей?



5

8

7



# Белка-мастерица



Ай да белка-мастерица!  
Вяжет деткам рукавицы.  
Извязала три клубка,  
Два лежат ещё пока.  
У кого ответ готов,  
Сколько у неё клубков?



4

1

5




# Яблочки

Яблоки в саду поспели,  
Мы отведать их успели  
Пять румяных, наливных,  
Два с кислинкой.  
Сколько их?

7

8

3



*Рассмотри рисунок и расскажи, как измеряют длину отрезка с помощью линейки.*

- Как прилагают линейку к отрезку для измерения отрезка?*
- Как располагаются линейка и отрезок?*
- Где на линейке можно увидеть длину отрезка?*

