

Демо ВПР 2021

Окружающий мир.

4 класс.

ЧАСТЬ 2



Задание 7.

Часть 2

Рассмотри знаки, изображённые на рисунках, и ответь на вопросы.


А



Б



В



Задание 7.1.

**7.1. Какой из этих знаков можно встретить в музее?
Какое правило отражает этот знак?**


А



Б




В



7.1. В помощь ученику


- **Рассмотри внимательно** знаки, изображенные в задании.
- **Найди дорожный знак.** Вспомни, что он обозначает?
- **Рассмотри два других знака.**
- **Найди знакомые образы** в этих знаках. Подумай, **какую информацию** они передают.



Задание 7.1.

ПРОВЕРКА

- Какой из этих знаков можно встретить в музее?
 - Какое правило отражает этот знак?



Ответ:

- Б
- Фотосъёмка запрещена

ВСПОМНИМ ДРУГИЕ ЗНАКИ




Знаки на дороге



Идут дорожные работы.



Подземный переход.



Въезд запрещён.



Движение пешеходов запрещено.



Знаки в лесу, парке, заповеднике



Нельзя вредить животным.



По газонам не ходить!



Ловить бабочек на данной территории запрещено.



Знаки в музее, театре,

библиотеке



Входить с едой и напитками не разрешается.



Фотографировать со вспышкой запрещено!



Соблюдайте тишину.



Задание 8.

8. На фотографиях изображены предметы, с которыми работают представители разных профессий.

Выбери ОДНУ из фотографий и запиши букву, которой она обозначена.

А)



Б)




В)



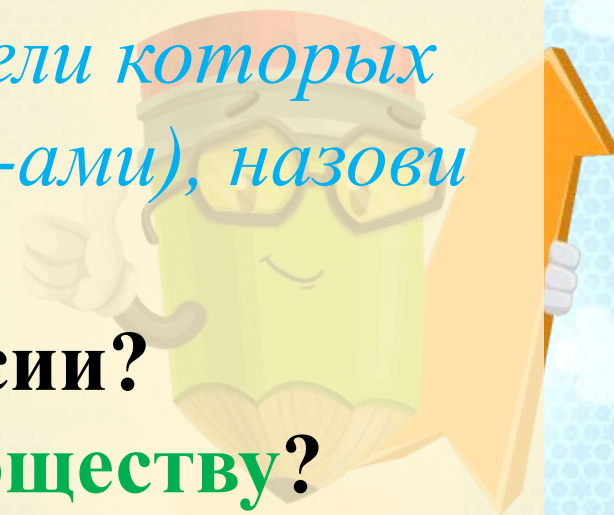
Выбранная фотография:



Задание 8.



- **Представители какой профессии** работают с изображёнными на выбранной фотографии предметами? *Если ты знаешь много профессий, представители которых работают с выбранным(-и) тобой предметом(-ами), назови любую из них.*
- **Какую работу выполняют** люди этой профессии?
- **Чем работа людей этой профессии полезна обществу?**



Задание 8. ПРОВЕРКА



- На картинке А изображены кирка, фонарик с аккумулятором, каска.

- **Представители какой профессии** работают с изображёнными на выбранной фотографии предметами?

- Они нужны шахтёру.

- **Какую работу выполняют** люди этой профессии?

- Он добывает полезные ископаемые из недр земли.

- **Чем работа людей этой профессии полезна обществу?**

- Эти полезные ископаемые —служат человеку. После обработки они превращаются в необходимые вещи, которые создают уют, обогревают, кормят, перевозят.

Задание 8. ПРОВЕРКА



• На рисунке Б изображена швейная машинка.

• Представители какой профессии работают с изображёнными на выбранной фотографии предметами?


• Какую работу выполняют люди этой профессии?

• Чем работа людей этой профессии полезна обществу?

• Этот предмет относится к профессии швеи.

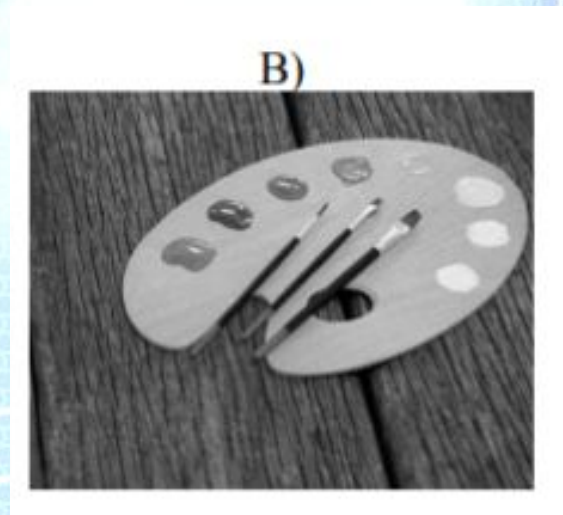
• Швея занимается тем, что шьёт и ремонтирует одежду другим людям.

• Работа швеи помогает обществу одеваться и меняться.



Задание 8. ПРОВЕРКА

• На рисунке В изображены краски, палитра, кисти.



• Представители какой профессии работают с изображёнными на выбранной фотографии предметами?

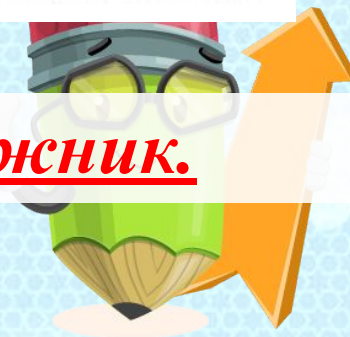
• Их использует художник.

• Какую работу выполняют люди этой профессии?

• Он пишет картины.

• Чем работа людей этой профессии полезна обществу?

• Благодаря художникам мы замечаем прекрасное, любимся картинами.



**ВОЗМОЖЕН
ДРУГОЙ
ВАРИАНТ
ЗАДАНИЯ 8**



Это лишь часть презентации.

Весь документ можно посмотреть на Ютуб канале, пройдя по ссылке

(скопируйте ссылку и вставьте в адресную строку)

<https://youtu.be/lv3seApfbyE>

