



Достижения древних Египтян.

Повторители на обобщающий урок

Игра «Тайна 6 пирамид»

правила игры

1

Выберите пирамиду, на каждую загадку 1 попытка

2

Разгадай 5 загадок и получи 5 Анхов

3

Нажав на кнопку все, вы заканчиваете игру.

Не забудь сосчитать сколько знаков Анх ты получил!

Выберите 1 любую пирамиду
и нажмите на нее.



Все!



Выбери номер загадки!
(на каждую загадку у тебя 1 попытка)

№1

№2


№3

№4

№5

Пирамида №1

Загадка №1. Разгадай ребус.



Мумия

Саркофа
г

Пирамида


Фреска

Храм

Амулет

Пирамида №1

Загадка №2. С каким богом олицетворяли животное, изображенное на картинке?



Себек

Анубис

Тефнут

Ра

Тот

Апис

Пирамида №1

Загадка №3. Какой слой населения Древнего Египта изображен на фреске?



Земледельцы

Ремесленники

Фараоны

Вельможи

Рабы

Писцы

Пирамида №1

Загадка №4. Что изображено на картинке (какое изобретение)?



Папирус

Часы

Письменные принадлежности

Цифры

Колесница

Шадуф

Пирамида №1

Загадка №5. Что вы знаете о этой статуэтке?



Изображе
ние бога
Хепри

Изображе
ние писца
Кай

Изображение
Царицы
Нефертити

Изображе
ние богини
Баст

Изображение
царицы
Хетепхерс 2

изображе
ние бога
мумификаци
и

Все!



Выбери номер загадки!
(на каждую загадку у тебя 1 попытка)

№1

№2


№3

№4

№5

Пирамида №2

Загадка №1. Разгадай ребус.



Мумия

Саркофа
г

Пирамида


Фреска

Храм

Амулет

Пирамида №2

Загадка №2. С каким богом олицетворяли животное, изображенное на картинке?



Себек

Анубис

Тефнут


Ра

Тот

Апис

Пирамида №2

Загадка №3. Какой слой населения Древнего Египта изображен на фреске?



Земледельцы

Ремесленники

Фараоны


Вельможи

Рабы

Писцы

Пирамида №2

Загадка №4. Что изображено на картинке (какое изобретение)?



Папирус

Часы

Письменные принадлежности

Цифры

Колесница

Шадуф

Пирамида №2

Загадка №5. Что вы знаете о этой статуэтке?



Изображе
ние бога
Хепри

Изображе
ние писца
Кай

Изображение
Царицы
Нефертити

Изображе
ние богини
Баст

Изображение
царицы
Хетепхерс 2

Изображе
ние бога
мумификаци
и

Все!



Выбери номер загадки!
(на каждую загадку у тебя 1 попытка)

№1

№2

№3

№4

№5

Пирамида №3

Загадка №1. Разгадай ребус.



Мумия

Саркофа
г

Пирамида


Фреска

Храм

Амулет

Пирамида №3

Загадка №2. С каким богом олицетворяли животное, изображенное на картинке?



Себек

Анубис

Тэфнут


Ра

Тот

Апис

Пирамида №3

Загадка №3. Какой слой населения Древнего Египта изображен на фреске?



Земледельцы

Ремесленники

Фараоны

Вельможи

Рабы

Писцы

Пирамида №3

Загадка №4. Что изображено на картинке (какое изобретение)?



Папирус

Часы

Письменные принадлежности

Цифры

Колесница

Шадуф

Пирамида №3

Загадка №5. Что вы знаете о этой статуэтке?



Изображение бога Хепри

Изображение писца Каи

Изображение Царицы Нефертити

Изображение богини Баст

Изображение царицы Хетепхерс 2

Изображение бога мумификации

Все!



Выбери номер загадки!
(на каждую загадку у тебя 1 попытка)

№1

№2

№3

№4

№5

Пирамида №4

Загадка №1. Разгадай ребус.



+



Мумия

Саркофа
г

Пирамида


Фреска

Храм

Амулет

Пирамида №4

Загадка №2. С каким богом олицетворяли животное, изображенное на картинке?



Себек

Анубис

Тэфнут


Ра

Тот

Апис

Пирамида №4

Загадка №3. Какой слой населения Древнего Египта изображен на фреске?



Земледельцы

Ремесленники

Фараоны

Вельможи

Рабы

Писцы

Пирамида №4

Загадка №4. Что изображено на картинке (какое изобретение)?



Папирус

Часы

Письменные принадлежности

Цифры

Колесница

Шадуф

Пирамида №4

Загадка №5. Что вы знаете о этой статуэтке?



Изображе
ние бога
Хепри

Изображе
ние писца
Кай

Изображение
Царицы
Нефертити

Изображе
ние богини
Баст

Изображение
царицы
Хетепхерс 2

изображе
ние бога
мумификаци

Все!



Выбери номер загадки!
(на каждую загадку у тебя 1 попытка)

№1

№2

№3

№4

№5

Пирамида №5

Загадка №1. Разгадай ребус.



Мумия

Саркофа
г

Пирамида

Фреска

Храм

Амулет

Пирамида №5

Загадка №2. С каким богом
олицетворяли животное,
изображенное на рисунке?



Себек

Анубис

Тефнут

Ра

Тот

Апис

Пирамида №5

Загадка №3. Какой слой населения Древнего Египта изображен на фреске



Земледельцы

Ремесленники

Фараоны

Вельможи

Рабы

Писцы

Пирамида №5

Загадка №4. Что изображено на картинке (какое изобретение)?



Папирус

Часы

Письменные принадлежности

Цифры

Колесница

Шадуф

Пирамида №5

Загадка №5. Что вы знаете о этой статуэтке?



Изображе
ние бога
Хепри

Изображе
ние писца
Кай

Изображение
Царицы
Нефертити

Изображе
ние богини
Баст

Изображение
царицы
Хетепхерс 2

изображе
ние бога
мумификаци
и

Все!



Выбери номер загадки!

(на каждую загадку у тебя 1 попытка)

№1

№2

№3

№4

№5

Пирамида №6

Загадка №1. Разгадай ребус.



Мумия

Саркофа
г

Пирамида

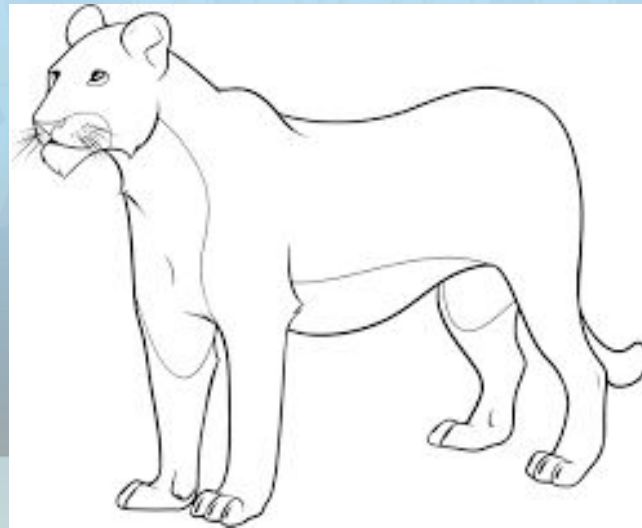
Фреска

Храм

Амулет

Пирамида №6

Загадка №2. С каким богом олицетворяли животное, изображенное на картинке?



Себек

Анубис

Тэфнут

Ра

Тот

Апис

Пирамида №6

Загадка №3. Какой слой населения Древнего Египта изображен на фреске



Земледельцы

Ремесленники

Фараоны

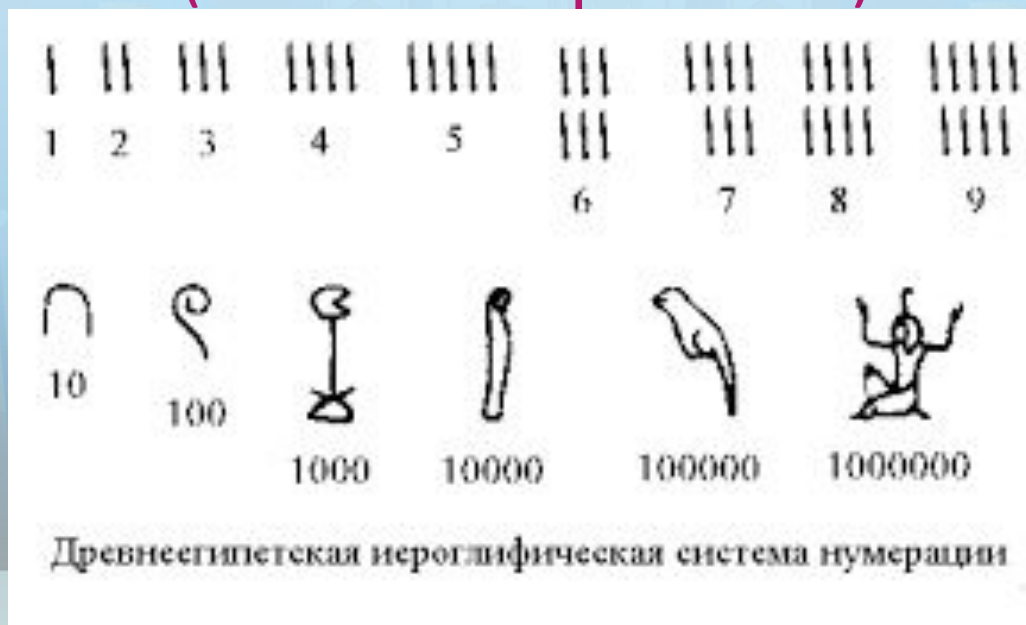
Вельможи

Рабы

Писцы

Пирамида №6

Загадка №4. Что изображено на картинке (какое изобретение)?



Папирус

Часы

Письменные принадлежности

Цифры

Колесница

Шадуф

Пирамида №6

Загадка №5. Что вы знаете о этой статуэтке?



Изображение бога Хепри

Изображение писца Каи

Изображение Царицы Нефертити

Изображение богини Баст

Изображение царицы Хетепхерс 2

Изображение бога мумификации

Правильно!
Твоя
награда!

(нажми на свою пирамиду)



Неправильн

о

Очень

жаль:(

(нажми на свою пирамиду)



Подсчитай
количество
Анхов



5

4

3-1



Фараон!

Вельможа!

Простой египтянин!