

Копейский городской округ



Знатоки Правил дорожного движения

движения



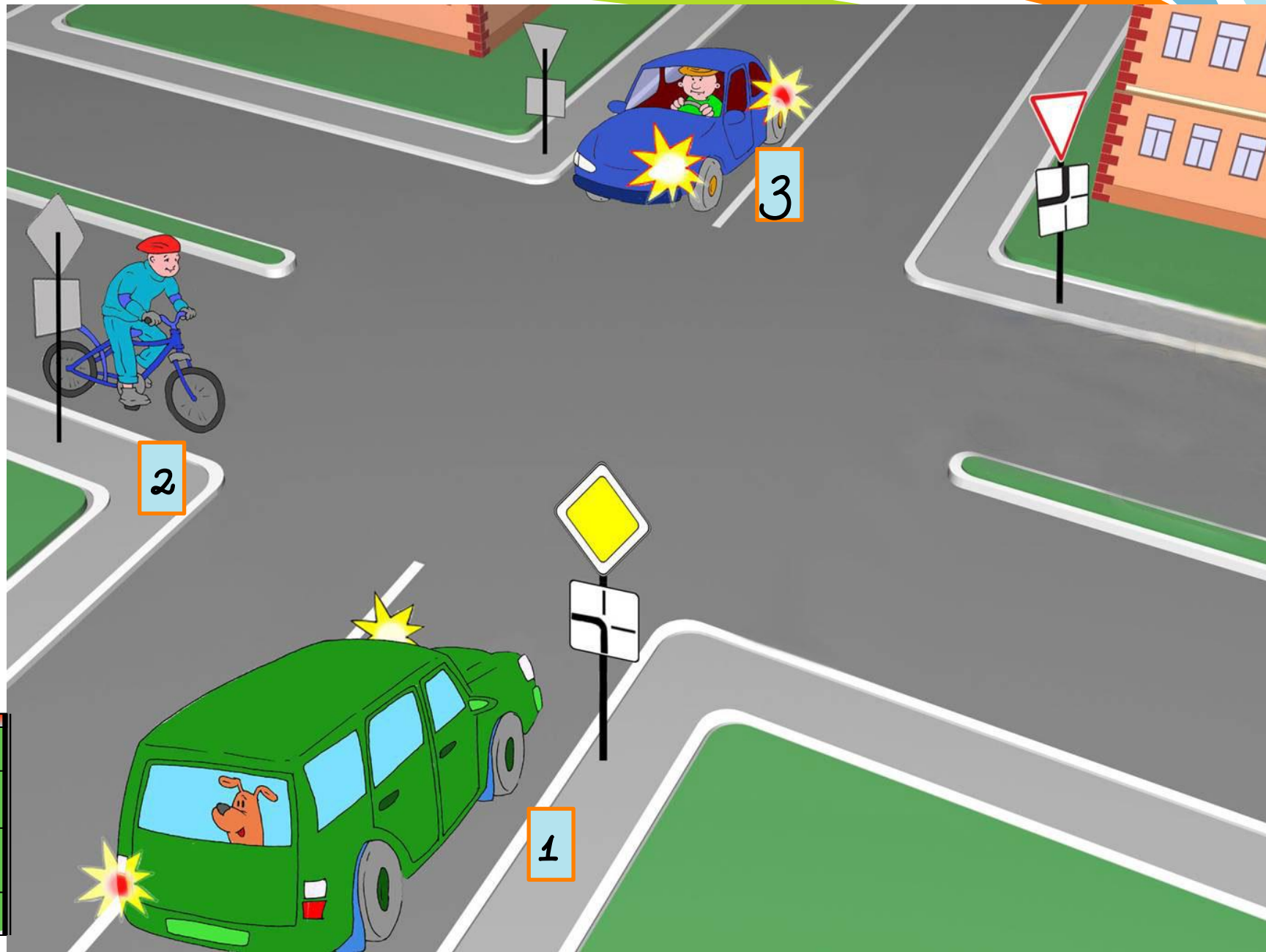
Копейский городской округ

Знатоки Правил дорожного движения

вопрос 1

Картинку вы увидите на 25
секунд

Определите очередность проезда перекрестка



25

0

2

3

1



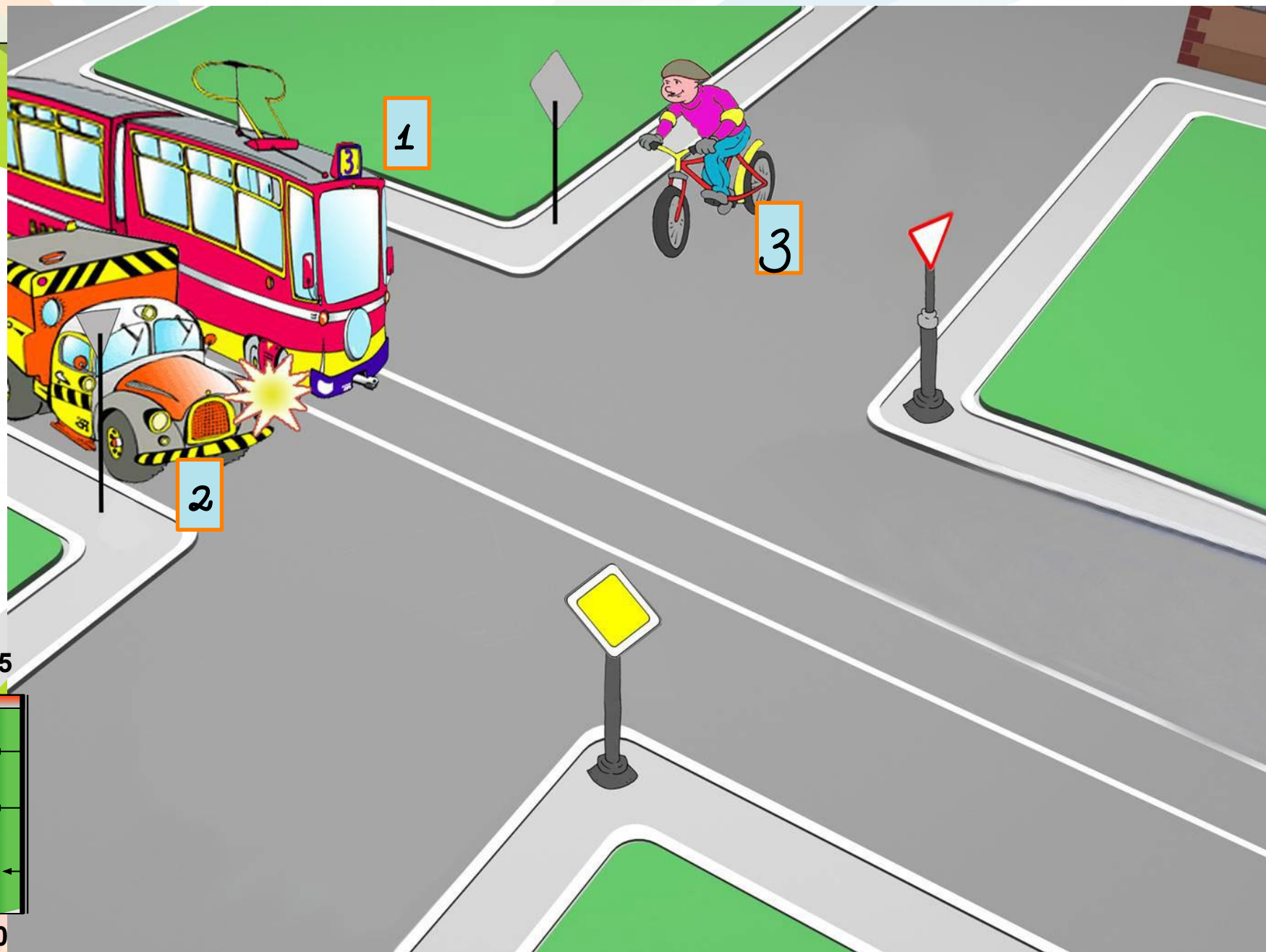
Копейский городской округ

**Знатоки
Правил дорожного
движения**

вопрос 2

Картинку вы увидите на 25
секунд

Определите очередность проезда перекрестка



25

0



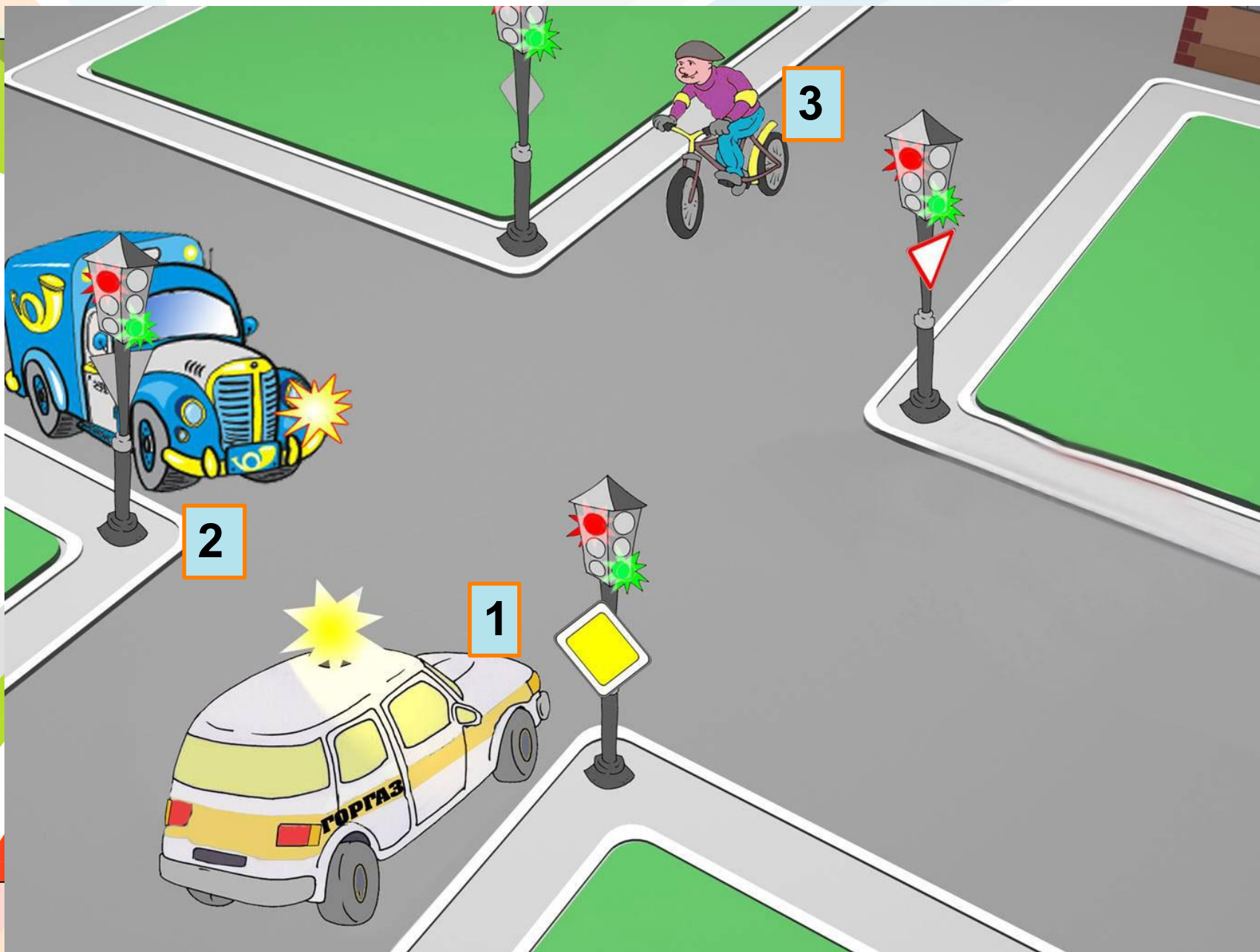
Копейский городской округ

**Знатоки
Правил дорожного
движения**

вопрос 3

Картинку вы увидите на 25
секунд

Кто и в каком порядке может проехать перекрёсток?



010

25

0



Копейский городской округ

Знатоки Правил дорожного движения


вопрос 4

Картинку вы увидите на 25
секунд

Кто и в каком порядке может проехать перекрёсток?



25



0



Копейский городской округ

**Знатоки
Правил дорожного
движения**

вопрос 5

Картинку вы увидите на 25
секунд

Определите очередность проезда перекрестка





Копейский городской округ

Знатоки Правил дорожного движения

вопрос 6

Картинку вы увидите на 25
секунд

Кто и в каком порядке может проехать перекрёсток?



1

3

2

25

0



Копейский городской округ

Знатоки Правил дорожного движения

вопрос 7

Картинку вы увидите на 25
секунд

Определите порядок проезда перекрестка



1



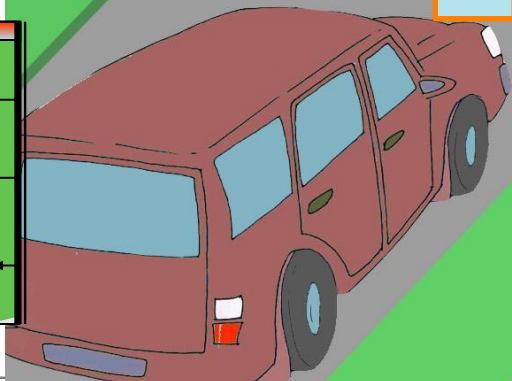
2

3

25



0






Копейский городской округ

Знатоки Правил дорожного движения

вопрос 8

Картинку вы увидите на 25
секунд

Определите порядок проезда перекрестка






Копейский городской округ

Знатоки Правил дорожного движения

вопрос 9

Фотографию вы увидите на 20
секунд,
блоки вы увидите на 10 секунд

ВНИМАТЕЛЬНО ПОСМОТРИТЕ НА ФОТОГРАФИЮ



Выпишите 2 лишних фрагмента



А

Б

В

Г



Копейский городской округ

Знатоки Правил дорожного движения

вопрос 10

Фотографию вы увидите на 20
секунд,
блоки вы увидите на 10 секунд

ВНИМАТЕЛЬНО ПОСМОТРИТЕ НА ФОТОГРАФИЮ



20

0

Выпишите 2 лишних фрагмента



10
←
←
←
←
0

А

Б

В

Г




Копейский городской округ

Знатоки Правил дорожного движения

вопрос 11

Картинку вы увидите на 25
секунд


Распределите дорожные знаки по группам



1




2



3



4





Копейский городской округ

**Знатоки
Правил дорожного
движения**

вопрос 12

Картинку вы увидите на 25
секунд

Распределите дорожные знаки по группам




1



2



3



4



Копейский городской округ

Знатоки Правил дорожного движения

вопрос 13

Картинку вы увидите на 25
секунд

Распределите дорожные знаки по группам



1




2



3



4





Копейский городской округ

Знатоки Правил дорожного движения

вопрос 14

Картинку вы увидите на 25
секунд

Распределите дорожные знаки по группам



1




2



3



4





Копейский городской округ

**Знатоки
Правил дорожного
движения**

вопрос 15

Картинку вы увидите на 25
секунд


Выписать картинку с нарушением ПДД



1



2






Копейский городской округ

Знатоки Правил дорожного движения

вопрос 16

Картинку вы увидите на 25
секунд

Выписать картинку с нарушением ПДД





Копейский городской округ

Знатоки Правил дорожного движения

вопрос 17

Картинку вы увидите на 25
секунд

Выписать картинку с нарушением ПДД





Копейский городской округ

**Знатоки
Правил дорожного
движения**

вопрос 18

Картинку вы увидите на 25
секунд

Выписать картинку с нарушением ПДД

1



2



25



0







Копейский городской округ

Знатоки Правил дорожного движения

вопрос 19

Картинку вы увидите на 25
секунд

Выписать картинку с нарушением ПДД





Копейский городской округ

Знатоки Правил дорожного движения

вопрос 20

Картинку вы увидите на 25
секунд

Выписать картинку с нарушением ПДД


1



2



25



0

Копейский городской округ



Знатоки Правил дорожного движения

движения