

Урок 15

Отечественная война 1812 года



**Проверяем домашнее
задание**

Тест

1. В начале 19 века в России в результате заговора был убит император Павел Петрович. В США в том же веке был убит президент Линкольн. Укажите важные последствия этих событий для России и США. При изложении аргументов обязательно используйте исторические факты. Ответ запишите в следующем виде.

Последствия для России: _____

Последствия для США: _____

Тест

2. Какие из перечисленных события происходили в правление Александра Первого?

1. Создание государственной Думы
2. Создание Верховного тайного совета.
3. Создание Государственного совета.
4. Созыв Уложенной комиссии.
5. Замена коллегий министерствами.
6. Создание военных поселений.

Тест 3

Пётр I	Завершение ордынского владычества на Руси
Александр I	Подписание Ништадтского мира
Екатерина II	Разделы Речи Посполитой
Иван IV	Сражение под Аустерлицем
	Присоединение к России Казанского ханства

Тест

4. Приведите не менее трёх причин того, что подписание Тильзитского мира вызвало недовольство различных слоёв русского общества.

Тест

5. Используя знания по истории России, раскройте смысл понятия «Государственный совет». Приведите один исторический факт, конкретизирующий данное понятие применительно к истории России. Приведённый факт не должен содержаться в данном Вами определении понятия.

- 6. А) царь Иван IV**
- Б) царь Алексей Михайлович**
- В) император Пётр I**
- Г) император Павел I**

- 1) А. М. Курбский**
- 2) А. Д. Меншиков**
- 3) Н. И. Панин**
- 4) А. Я. Ордин-Нащокин**
- 5) П. А. Столыпин**

7. В начале царствования Александра I одним из ближайших его сотрудников оказался М. М. Сперанский. Однако в марте 1812 г. Сперанский был лишён всех постов и отправлен в ссылку. Укажите три любых причины этой опалы.

Причины первоначальных неудач



Численность армий (600 и 200 тысяч)
Наличие авторитетного командующего
Наличие чёткого плана





КОР. ПРУССИЯ



Развертывание войск ополчения

Июнь

Нападение Наполеона на Россию

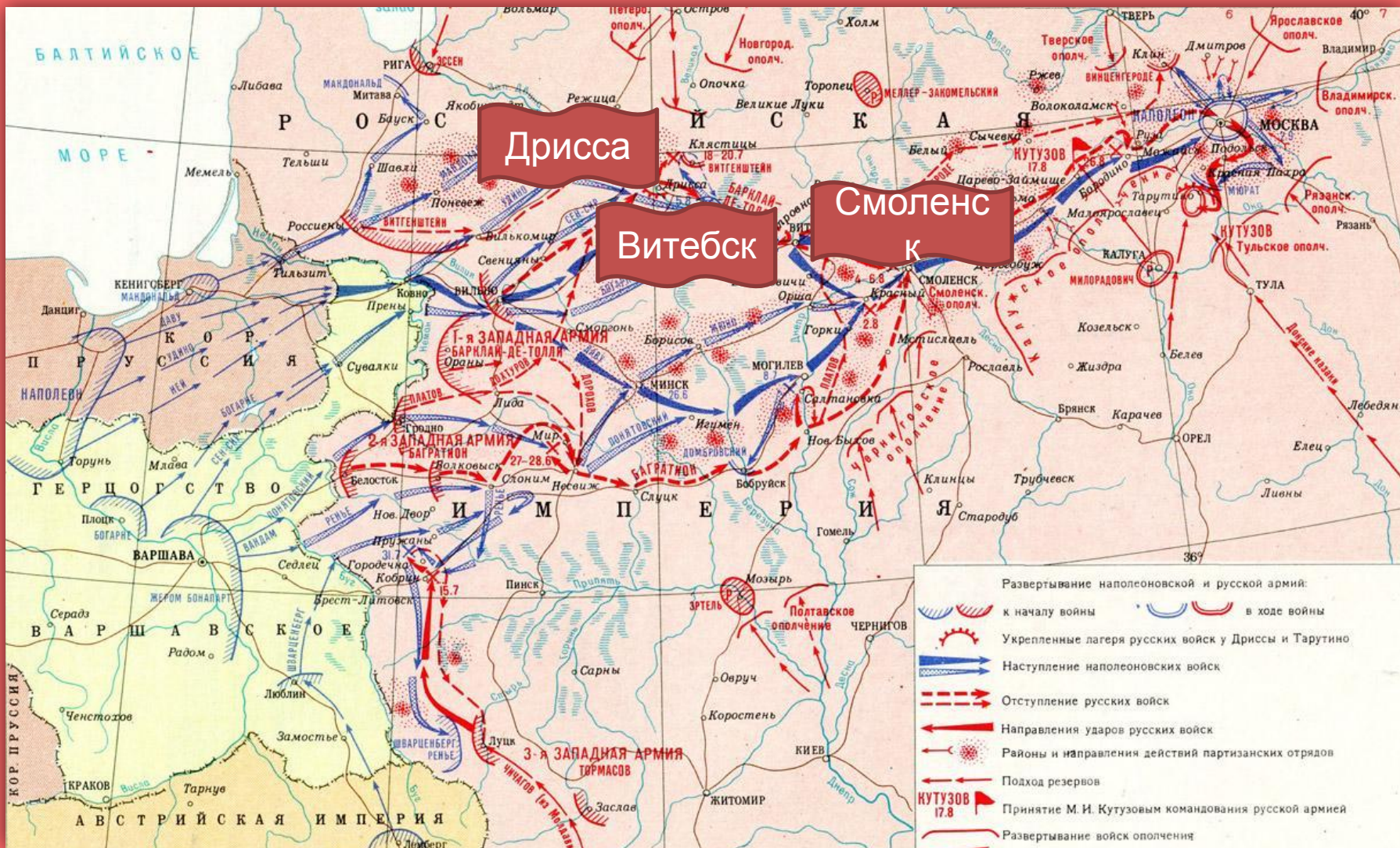


План Барклая

Соединить Первую и Вторую армии

**В арьергардных боях изменить
соотношение сил**





Август
Т


Смоленское сражение





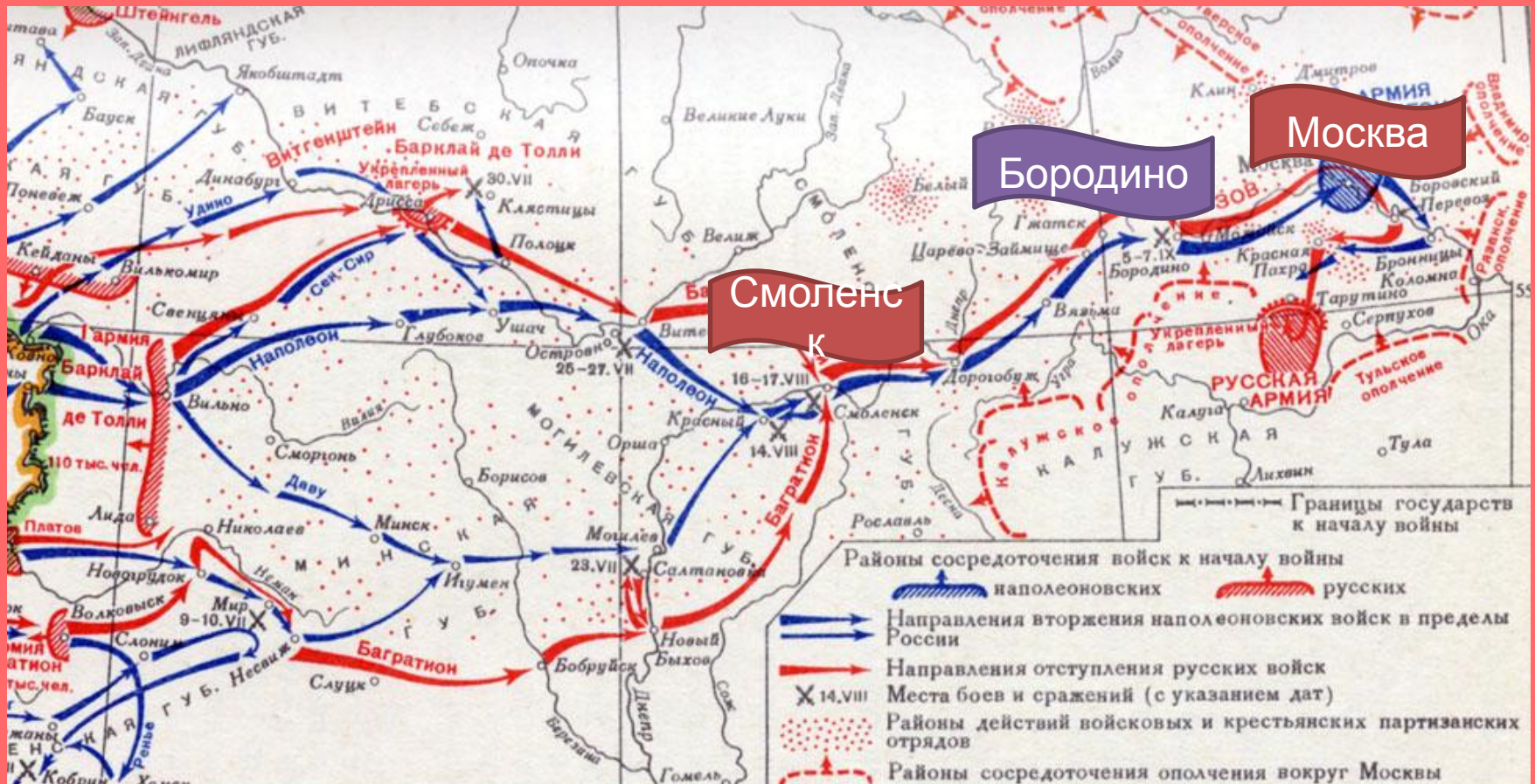
**Авгус
т**

Назначение Кутузова главнокомандующим



26
август
а

Бородинская битва



Расстановка войск



24

август

а

Бой за Шевардинский редут





26

август

а

Ранение Багратиона



2 этап. Батарея Раевского



3 этап. Контрнаступление русской



Окончание битвы



Кутузов и Наполеон





1
сентябр
я

Военный совет в Филях

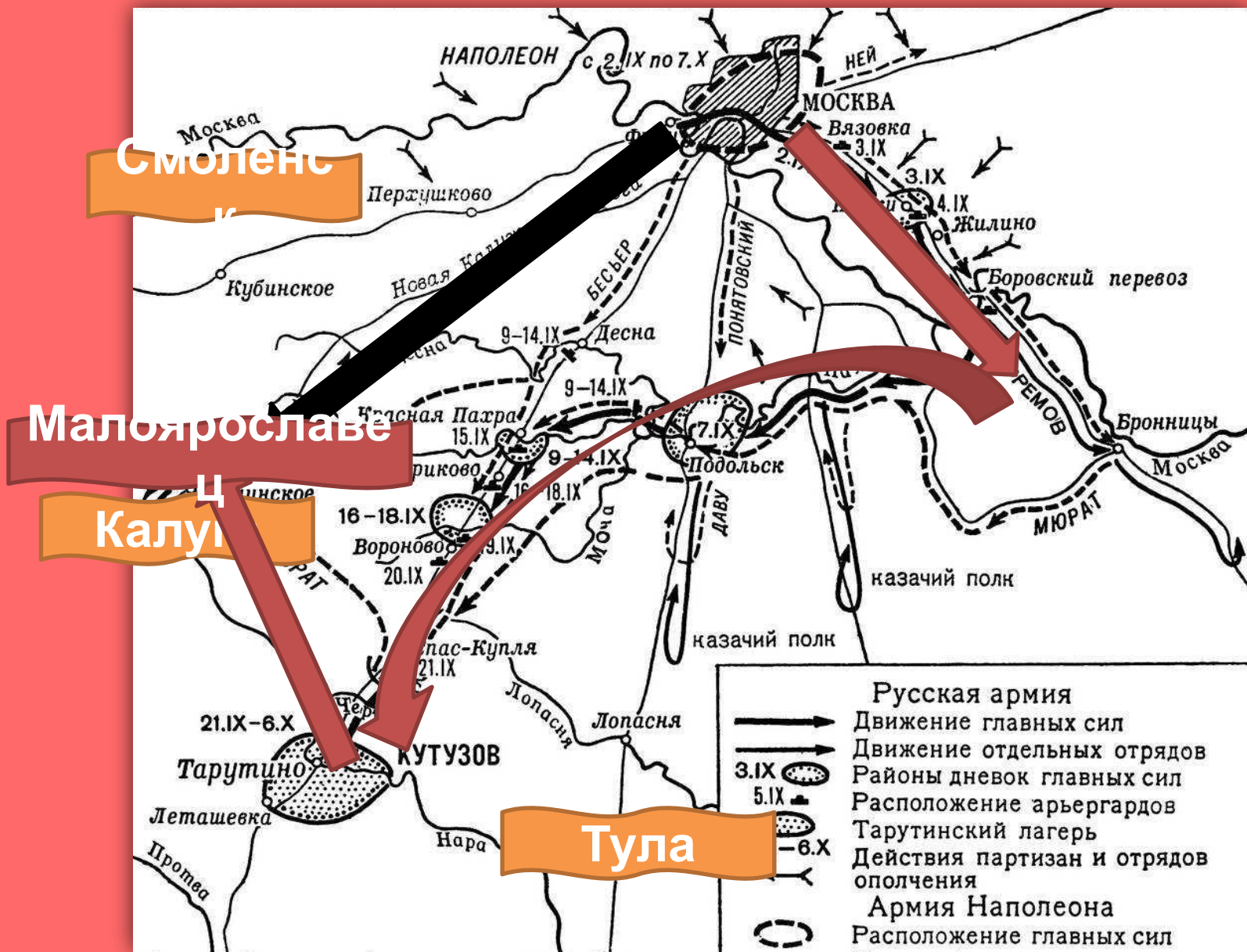


Сентябрь

Французы в Москве



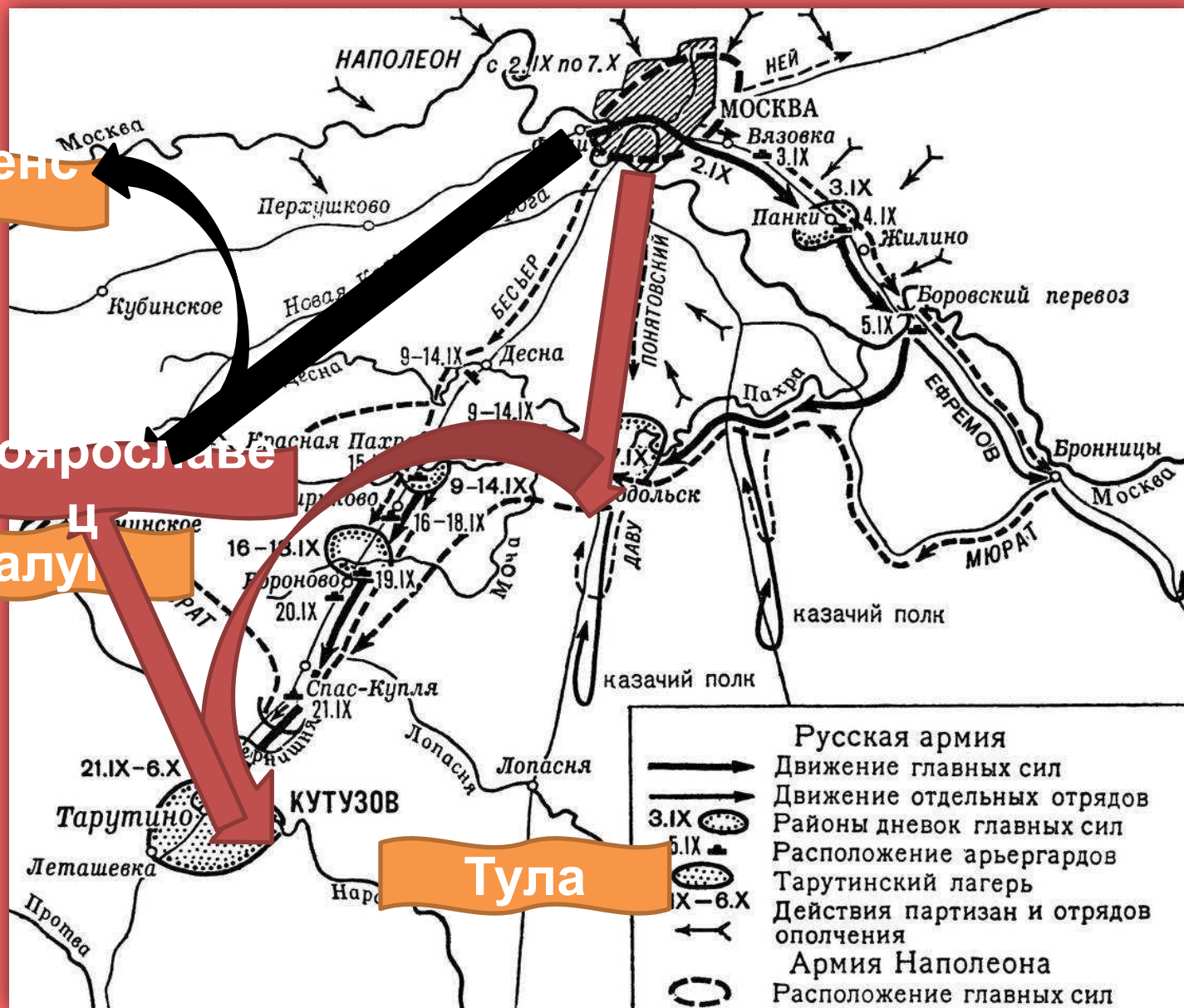
Тарутинский манёвр



Сражение при Малоярославце



Тарутинский манёвр



Смоленск

Малоярославцы

Калуга

Тула

Партизанское движение



Василиса Кожина и Денис Давыдов



Бегство Наполеона из России



Декабрь
ь

Переправа через
Березину



Давайте повторим!

Практикум

Какие события из перечисленных ниже относятся к Отечественной войне 1812 г.?

- 1) Смоленское сражение**
- 2) бои за Малоярославец**
- 3) Тильзитский мир**
- 4) пожар Москвы**
- 5) сражение под Аустерлицем**
- 6) совет в Филях**

**Какие из перечисленных ниже имён
связаны с Отечественной войной
1812 г.?**

- 1) М. Д. Скобелев**
- 2) П. С. Нахимов**
- 3) П. И. Румянцев**
- 4) Н. Н. Раевский**
- 5) А. М. Горчаков**
- 6) Д. В. Давыдов**

Какие из перечисленных событий относятся к Отечественной войне 1812 г.?

- 1) Смоленское сражение**
- 2) оборона Севастополя**
- 3) бой под Малоярославцем**
- 4) Чесменское сражение**
- 5) оборона Шипки**
- 6) Тарутинский марш-манёвр**



**Какие населённые пункты
 обозначены цифрами 1, 2 и 3?**



1) Участниками войны, события которой изображены на данной схеме, были А. В. Суворов и П. А. Румянцев.

2) В начале военных действий, изображённых на схеме, неприятель обладал большим численным превосходством.

3) Общее командование войсками, действия которых обозначены чёрными стрелками, осуществлял Н. Н. Раевский.

4) Перемещение войск в пункт, обозначенный цифрой «2», получило название «Тарутинский манёвр».

5) Участниками движения, районы действия которого обозначены точками, были Д. В. Давыдов и А. Н. Сеславин.

6) Войсками, действия которых обозначены серыми стрелками, командовал король Карл XII.

Укажите, о каких двух сражениях идёт речь. Укажите любое сражение данной войны, помимо двух, которые упоминались в данных текстах. Приведите одно любое суждение, которым автор второго отрывка характеризует свое отношение к России.

А) «...я поручил г. Милорадовичу занять с войсками 1-й армии следующую позицию: правое крыло 6-го корпуса должно было опираться на высоты при деревне Горки; направление первой линии находилось в прямой линии от сей точки к деревне Семёновской. Я донёс о всех сих мерах князю Кутузову; он объявил мне свою благодарность, всё одобрил и уведомил меня, что приедет в мой лагерь для ожидания рассвета и возобновления сражения... Но в полночь получил я предписание, по коему обеим армиям следовало отступить за Можайск»

Б) «Первые дни нашего марша дали нам представление печальной страны, на завоевание которой мы шли: много лесов и редкие селения, не могшие по бедности прокормить две армии, особенно нашу [более, чем пятисоттысячную], каждый день вступающую в местность, уже истощенную русской армией, которая, отступая, уничтожала и жгла за собой все средства жизни.

...зачастую наша лёгкая кавалерия с остервенением шла в атаку только с целью упреждения сожжения тех мест, которые русская армия должна была оставить.

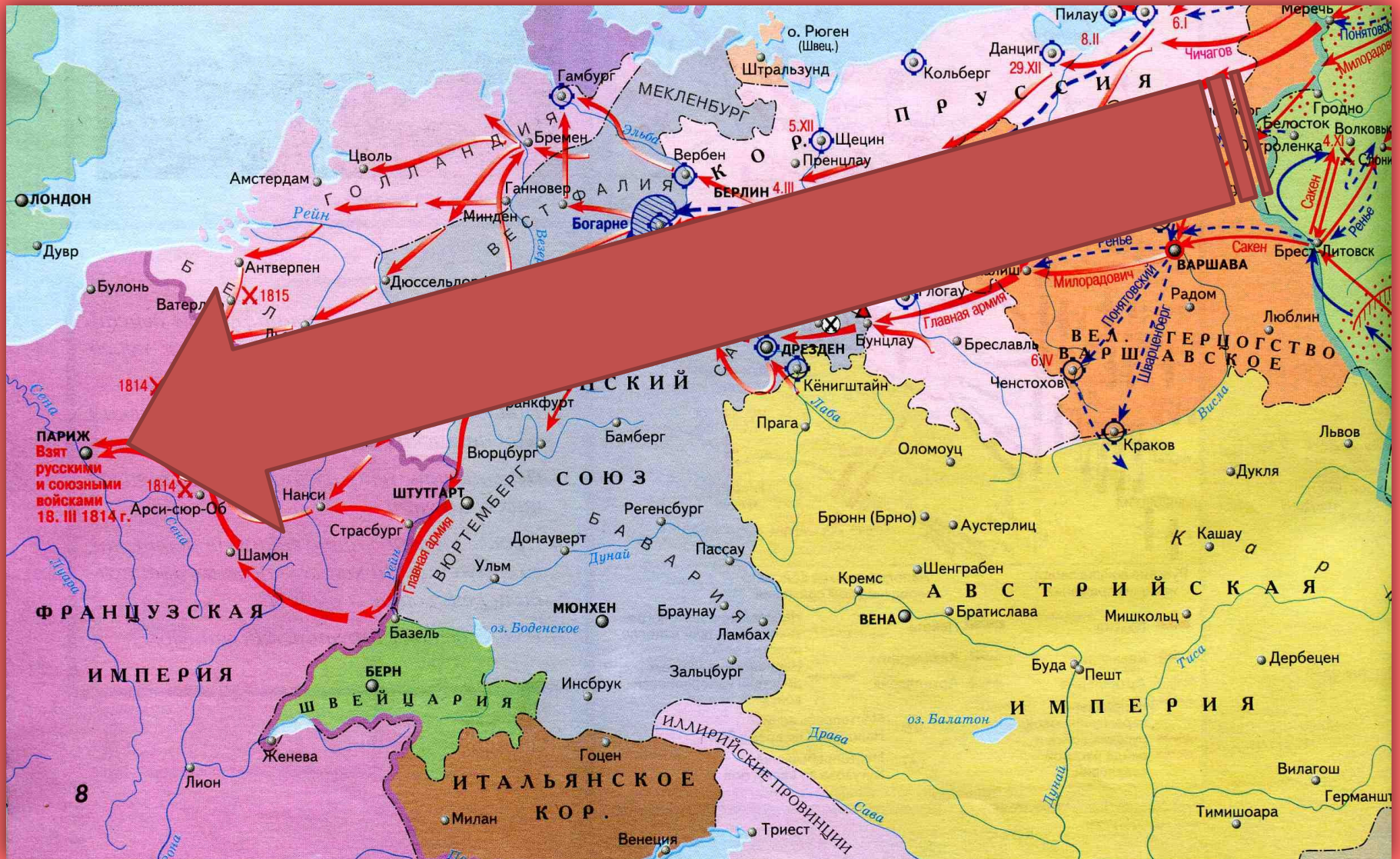
...Чем более продвигались мы вперёд, тем усерднее русские жгли всё за собою, уничтожая не только деревни, но и города и всё то, что находилось по сторонам дороги.

Наконец мы подошли к Смоленску

Заграничный поход русской армии. 1813 - 1814



6 Антинаполеоновская коалиция



1814 – битва народов при Лейпциге




Казанский собор



Март 1814 – русские войска в Париже




Наполеон на острове Эльба



«100 дней» и «Ватерлоо»



Венский конгресс



Der große Wiener Friedens-Congress zur Wiederherstellung von Freiheit und Recht in Europa.

1. Kaiser Franz, 2. Kaiser Alexander, 3. König v. Preußen, 4. Lord Castlereagh, für England, 5. König v. Dänemark, 6. König v. Bayern, 7. König v. Württemberg, 8. Churfürst v. Sardinien, 9. Herzog v. Braunschweig, 10. Talleyrand, für Frankreich, 11. Mediatrische Fürsten und Staatsmänner, 12. Die Gerechtigkeit.

Nürnberg bei D. Camp.

Венский конгресс

Священный союз

- для отражения агрессии
- для подавления революций.
- Герцогство Варшавское в составе России.



Der große Wiener Friedens-Congress zur Wiederherstellung von Freiheit und Recht in Europa

1 Kaiser Franz 2 Kaiser Alexander 3 König v. Preußen 4 Lord Castlereagh für England 5 König v. Dänemark 6 König v. Bayern 7 König v. Württemberg 8 Großfürst v. Rußland 9 Herzog v. Braunschweig 10 Talleyrand für Frankreich 11 Metternich für Österreich 12 Die Verechtigten

Antiquar. Anstalt Leipzig

Давайте повторим!

Практикум

А) «Изборник»

Б) «Сказание о Мамаевом побоище»

В) картина «Утро стрелецкой казни»

Г) опера «Война и мир»

1) Произведение написано в год убийства Александра II.

2) Третья по древности древнерусская рукописная книга.

3) Автор — Феофан Прокопович.

4) Памятник древнерусской литературы, созданный в первой четверти XV в.

5) Произведение написано И. И. Шишкиным.

6) Автор — С. С. Прокофьев.



Напишите пропущенное словосочетание.

Объединение правителей ведущих европейских держав, созданное после наполеоновских войн для поддержания мира в Европе, укрепления монархического строя и подавления революционных выступлений, называлось _____.

Расставьте по порядку:

1. Битва при Лейпциге
2. Начало Венского конгресса
3. Дарование Герцогству Варшавскому конституции и сейма
4. Сражение при Ватерлоо
5. Тарутинский манёвр

Что из этого является решениями Венского конгресса:

1. Признание Великого княжества Финляндского в составе России
2. Создание Союза Спасения
3. Решение о совместном подавлении агрессии
4. 4 раздел Польши
5. Создание 4 антинаполеоновской коалиции
6. Создание «Священного союза»

**Приступайте к
выполнению домашнего
задания!**

Спасибо за внимание!

До новых встреч!

