

# Тема. Случаи сложения


...+2 . ...+3

Определи , как зовут каждую девочку.

**Оля**      **Таня**      **Катя**      **Оля**



Это Таня и Оля.



Это Оля и Катя.

# Сравни.

$12 < 20$

$10 > 9$

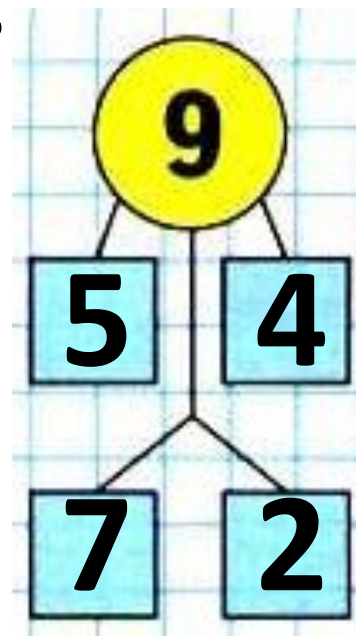
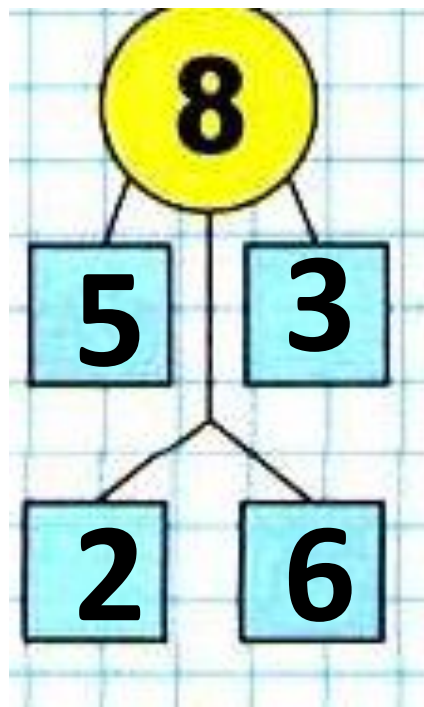
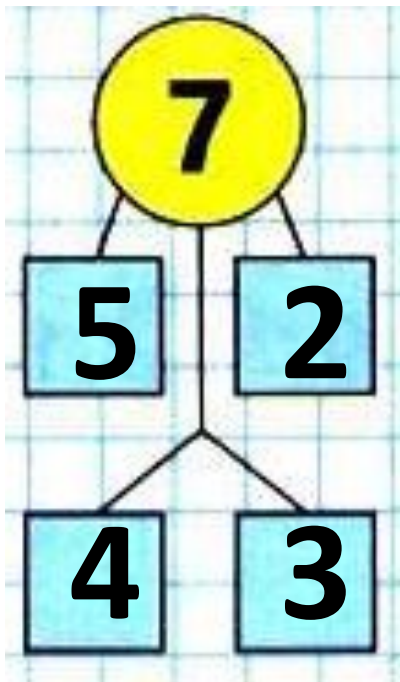
$1 \text{ дм} > 9 \text{ см}$

$12 \text{ см} > 1 \text{ дм}$

$7 > 4$

$0 < 1$

Вспомни.



Изучение

нового материала

Подумай ,как к 9+2.

Рассуждай так : сколько нужно прибавить сначала , чтобы получили 10. Сколько потом ?Рассмотри рисунок на стр.66.

$$\begin{array}{r} 9 + 2 = 11 \\ \hline 9 + 1 + 1 \end{array}$$

Рассуждай так же , вычисли.

$$9 + 3 = 12$$

$$9 + 1 + \boxed{2}$$

Рассуждай так же ,вычисли.

$$\begin{array}{r} 8 + 3 = 11 \\ \hline 8 + 2 + \boxed{1} \end{array}$$



**Запомни!**

$$9 + 2 = 11$$

$$9 + 3 = 12$$

$$8 + 3 = 11$$

# Реши примеры №1

$8 - 5 - 2$

$10 - 7 - 2$

$10 - 8 - 2$

$0 + 9 - 8$

$8 + 2 - 4$

$6 + 0 - 5$

$8 - 6 + 10$

$7 - 5 + 10$

$9 - 7 + 10$

**1**

**1**

**12**

**1**

**6**

**12**

**0**

**1**

**12**

Зина купила 6 тетрадей в клетку, а тетрадей в линейку на 2 меньше. Сколько всего тетрадей купила Зина?

К. – 6 т.

Л. - ?, на 2т. меньше

1)  $6 - 2 = 4$ (т.) в линейку.

2)  $6 + 4 = 10$ (т.)

Ответ: 10 тетрадей купила Зина.

## Задача 3

В большом ведре помещается 10 л воды, а в маленьком — 4 л. Сколько всего ... ?

$$10+4=14(\text{л})$$

**Ответ: 14 л воды всего в 2 вёдрах.**

## Задача 4

Мама собрала 16 кг яблок. Из 6 кг яблок она сварила варенье. Сколько ... ?

$$16 - 6 = 10 \text{ (кг)}$$

**Ответ: 10 кг яблок осталось.**