

Қош келдіңіздер!





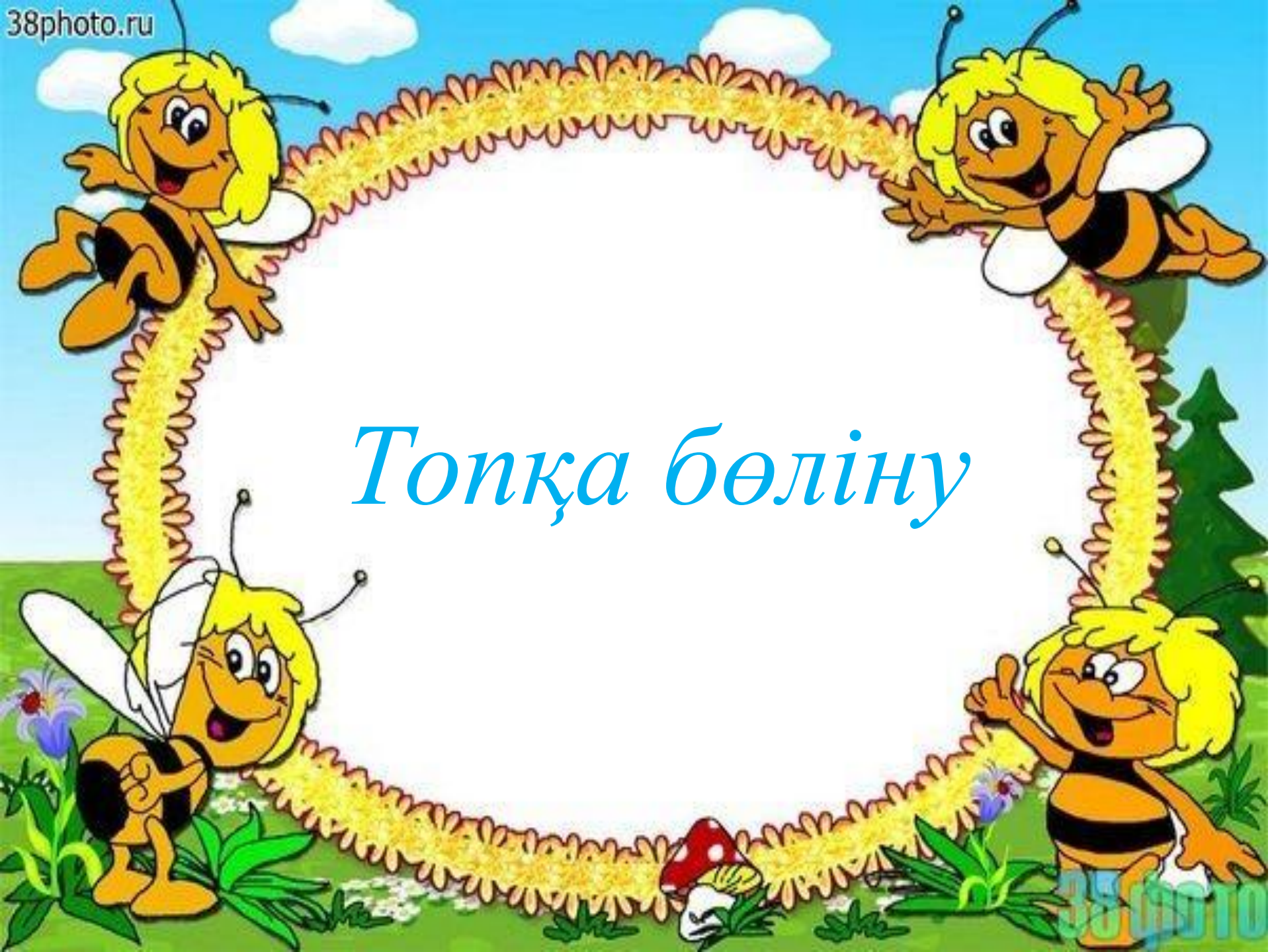
Психологиялық дайындық:

Әрбір адам- досым, сыныптасым.


Әрбір ісің -тірлік, тірек, адамдық

Әрбір сөзің- шындық, бірлік, адалдық

Әрбір сабақ- үйрену, оқу, іздену



Топқа бөліну

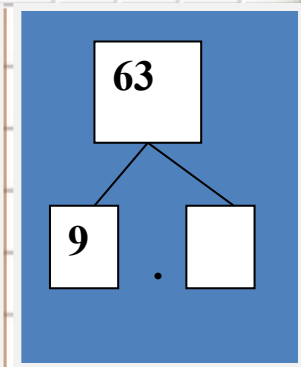
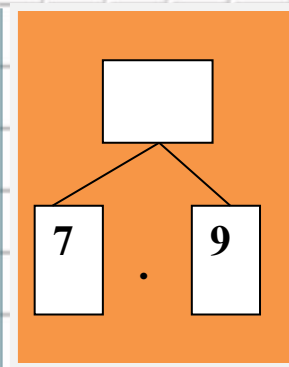
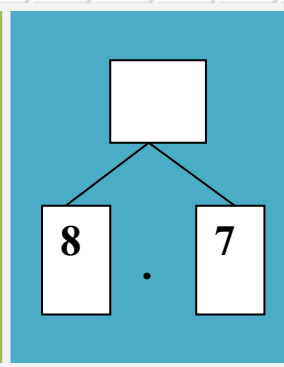
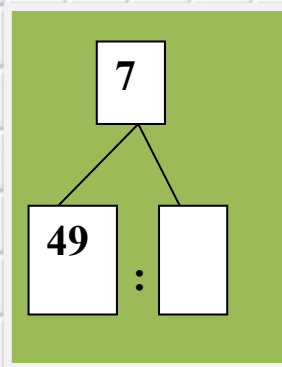
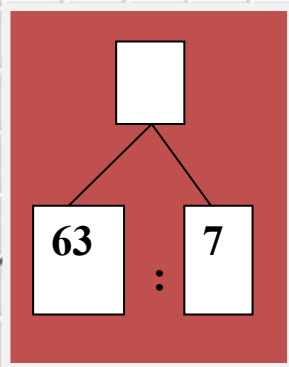
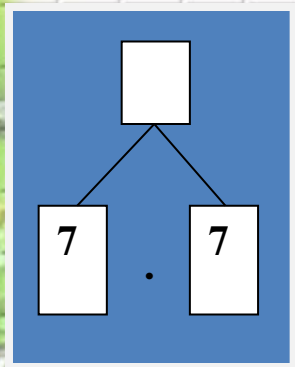


Сабақтың тақырыбы:
**7 – ге көбейту және
бөлу кестесі**

Постермен жұмыс



Бос тор көзде тұруға тиісті санды жаз





№ 6 жұптық жұмыс



«Кім жылдам?» ойыны

$$\square \cdot 7 = 2 \cdot 6 + 2$$

$$56 : \square = 4 \cdot 2$$

$$5 \cdot 9 + 18 = 9 \cdot \square$$





Сергіту сәті

Кім жылдам?

Логикалық есептерді
шешейік

№8 өздік жұмысы



№ 9 Қайсысы көбірек ауданды
былғаған?



Қалдықпен бөлуді орында және тексер

1 топ

$43:6=$

$10:7=$

$26:7=$

2 топ

$47:6=$

$8:7=$

$23:7=$

3 топ

$44:6=$

$11:7=$

$29:7=$

4 топ

$49:6=$

$12:7=$

$30:7=$

5 топ

$9:7=$

$22:7=$

$50:6=$





№ 12.

7 –ге көбейту және бөлу кестесін пайдаланып, нәтижесін ата:

$$7 \cdot 7 =$$

$$7 \cdot 4 =$$

$$3 \cdot 7 =$$

$$56 : 7 =$$

$$8 \cdot 7 =$$

$$28 : 7 =$$

$$7 \cdot 6 =$$

$$7 \cdot 9 =$$

$$14 : 7 =$$

$$2 \cdot 7 =$$

$$5 \cdot 7 =$$

$$7 \cdot 6 =$$



Рефлексия





Үйге: № 11 сеп Көбейту кестесін жаттау





***НАЗАРЛАРЫҢЫЗҒА
РАХМЕТ!!!***