


**УСТНЫЙ СЧЁТ №**

*105*

1.

**Объём прямоугольного  
параллелепипеда равен  $195 \text{ см}^3$ .  
Длина равна  $13 \text{ см}$ , ширина  $3 \text{ см}$ .  
Вычисли высоту прямоугольного  
параллелепипеда.**




**2.**

**Ребро куба равно 9 см.**

**Вычисли**

**площадь поверхности куба.**



3.

Четверть какого числа равна  
произведению чисел 13 и 8?

\_\_\_\_\_ 13x8

4.


**Фотограф сделал сначала  $\frac{4}{7}$  всех фотографий, потом треть оставшихся фотографий и затем 12 последних. Сколько всего фотографий сделал фотограф?**

$\frac{4}{7}$

$\frac{1}{3}$

остатка

12





**5.**

**Шмель летит 5 метров в секунду. Какое расстояние пролетит шмель за  $\frac{3}{4}$  мин?**



**6.**

**Из прямоугольника, длина которого 17 клеточек, а ширина 2 клеточки, составили два квадрата. Сколько клеточек пошло на больший из квадратов.**

|                      |          |          |          |           |           |           |           |           |           |            |
|----------------------|----------|----------|----------|-----------|-----------|-----------|-----------|-----------|-----------|------------|
| <b>n</b>             | <b>1</b> | <b>2</b> | <b>3</b> | <b>4</b>  | <b>5</b>  | <b>6</b>  | <b>7</b>  | <b>8</b>  | <b>9</b>  | <b>10</b>  |
| <b>n<sup>2</sup></b> | <b>1</b> | <b>4</b> | <b>9</b> | <b>16</b> | <b>25</b> | <b>36</b> | <b>49</b> | <b>64</b> | <b>81</b> | <b>100</b> |

7.

**Мама вышла из дома в 20 минут третьего. Полчаса была в магазине, треть часа – на почте, полтора часа – в парикмахерской, да ещё 35 мин разговаривала с подругой, которую встретила у самого дома. Во сколько вернулась мама домой?**





8.


В классе 28 учеников.

Английский язык изучают

26 учеников, немецкий –

18.

Сколько учащихся  
изучают оба языка?



**9.**

**Сумма трёх последовательных  
чисел  
равна 78. Запиши меньшее число.**

**10.**

**Вася первую задачу  
решал треть часа,  
вторую – четверть часа,  
а третью – 25 мин.**

**Сколько минут в  
среднем ушло у Васи на  
решение одной задачи?**



## **УСТНЫЙ СЧЁТ 105.**

**1. 5 см**

**2. 486 см<sup>2</sup>**

**3. 416**

**4. 42**

**5. 225 м**

**6. 25 кл.**

**7. 17 ч 15 мин**

**8. 16 уч.**

**9. 25**

**10. 20 мин**

**МОЛОДЦЫ!**