



УСТНЫЙ СЧЁТ К уроку

Вычислите удобным способом.

$$235 + 180 + 45 +$$

473

$$375 + 186 + 114 +$$

70

$$13 + 50 + 60 +$$

36

$$237 =$$

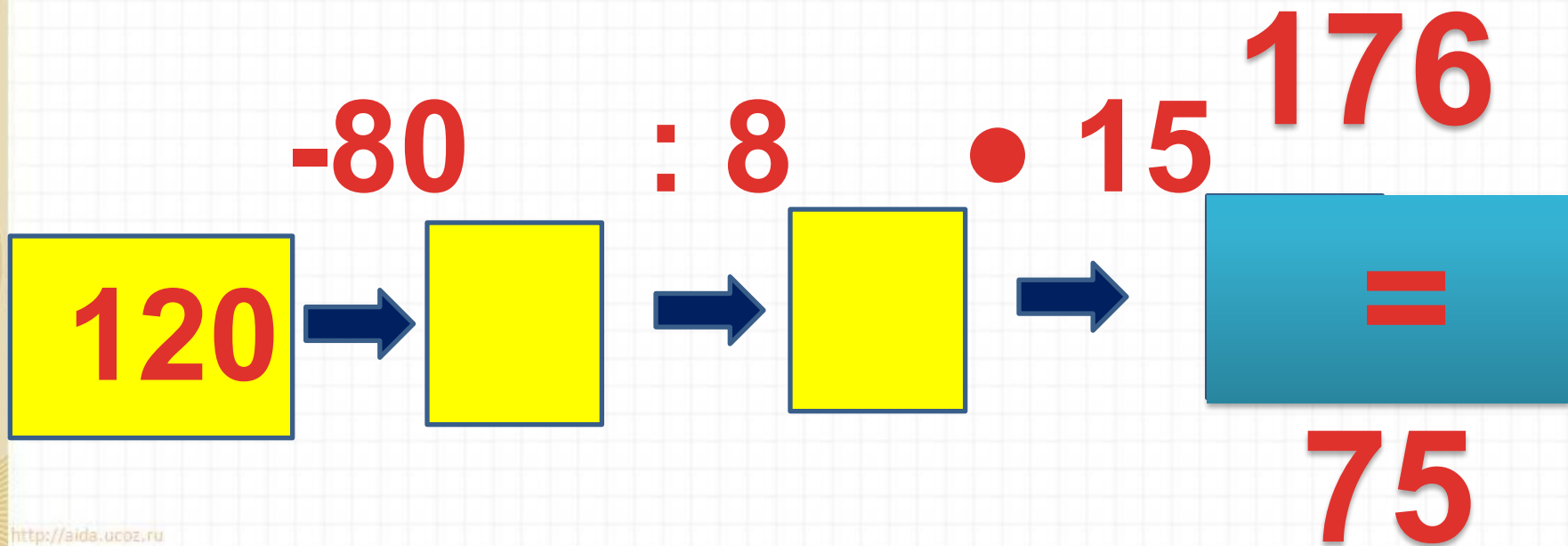
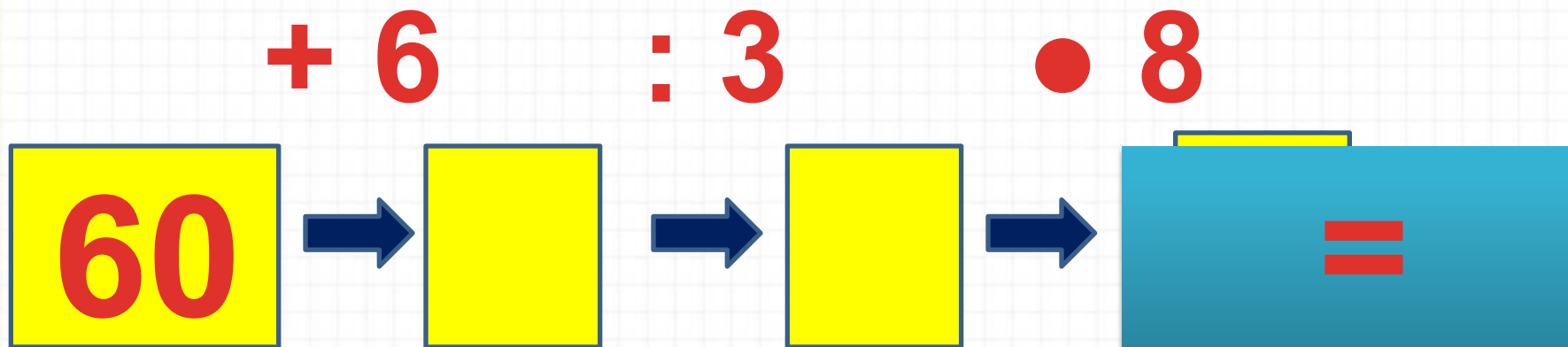
0

Расположите числа в порядке возрастания.

598 670 127 568 300
531 467 989 345 98

Подчеркните числа, в которых 5 сотен.

Сосчитайте цепочку примеров.



Найдите площадь прямоугольника.




4 см

9 см

$$S = 36^2$$

Старому дубу **120 лет**. Молодой дубок
моложе его в **10 раз**. На сколько лет
старый дуб старше?



на 108

лет

В роще было **400** деревьев. В том числе **130** лип, **145** дубков, а остальные берёзы. Сколько было в роще берёз?



125

берёза

Турист сначала прошёл **20 км** пешком, а потом проехал расстояние в **10 раз** большее на велосипеде. Сколько всего км прошёл и проехал турист?



220 км

Задание на смекалку



На майках **25** спортсменов написали их порядковые номера. Каких номеров больше – чётных или нечётных и на сколько?



Чётных номеров 12,
нечётных
на 1 больше, их 13.

Математический диктант.

1. Запишите число, в котором **7** единиц первого разряда и столько же единиц третьего разряда.
2. Чему равно вычитаемое, если уменьшаемое **680**, а разность **300**?
3. Во сколько раз **560** больше, чем **7**?
4. Увеличьте **360** в **2** раза.
5. Чему равно делимое, если делитель **10**, а частное **30**?
6. На сколько **190** больше **10**?
7. Уменьшите **360** в **60** раз.
8. Из **1000** вычтите сумму чисел **460** и **40**.
9. Увеличьте **140** в **5** раз.
10. На сколько самое большое двузначное число меньше, чем самое большое трёхзначное число?

Проверьте ответы.

**707, 380, 80, 720, 300,
на 180, 6, 500,
700, на 900**