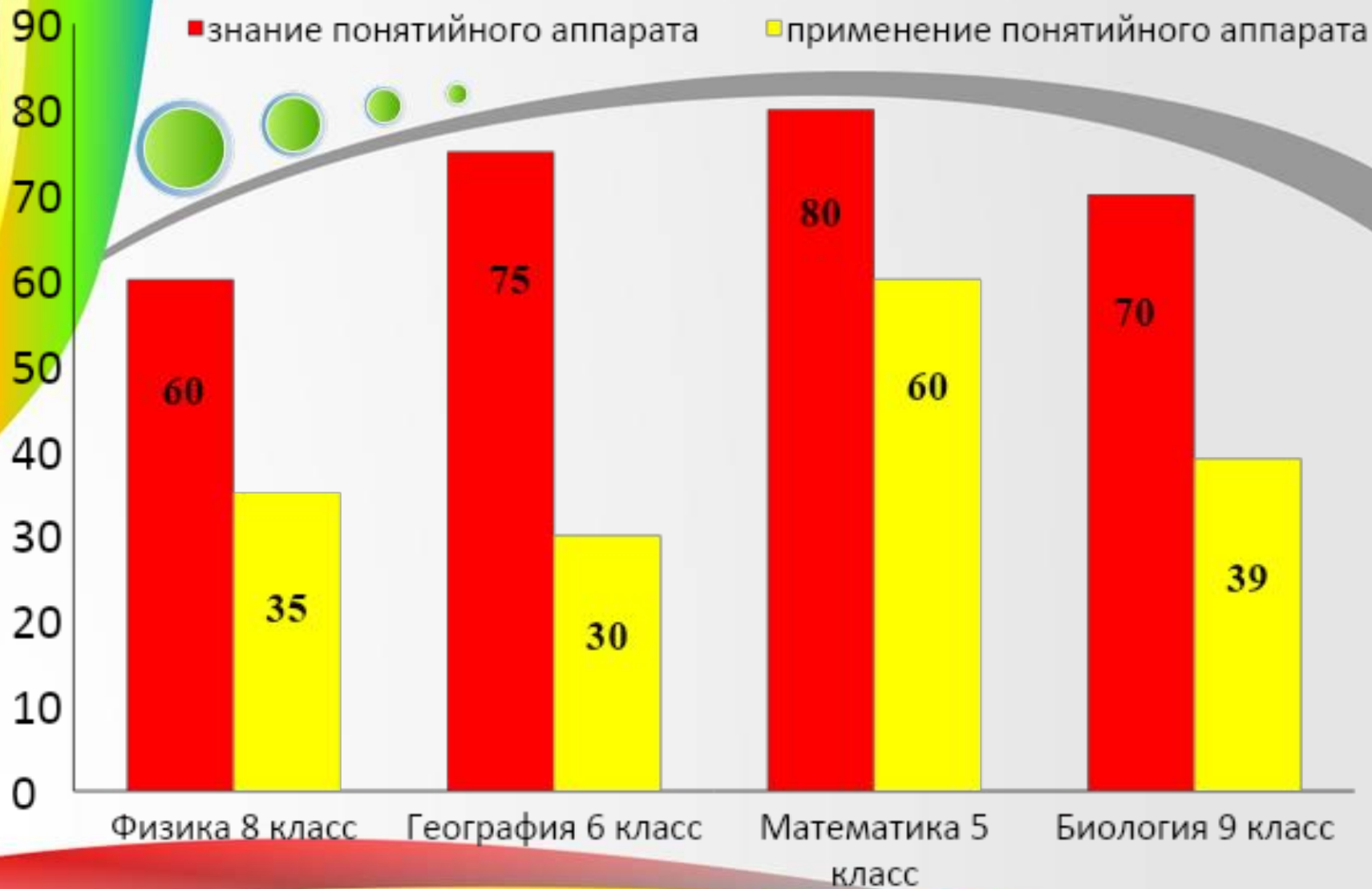


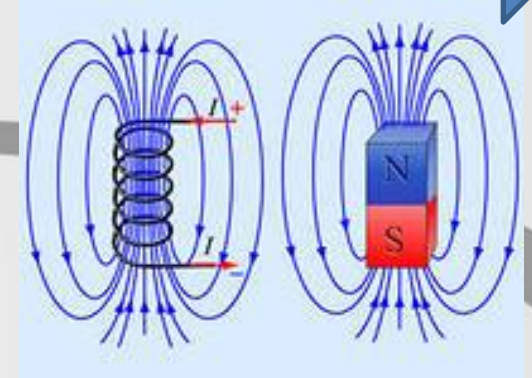
Формирование основ культуры безопасности жизнедеятельности школьников на основе метапредметных результатов обучения



Преподаватель-организатор ОБЖ
Тимофеева Людмила Борисовна, стаж работы 3 года

МЕТАПРЕДМЕТНЫЕ РЕЗУЛЬТАТЫ


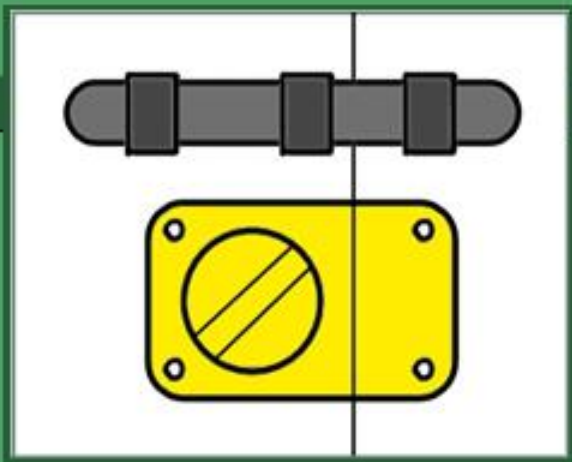




Физика

**Назовите
последовательность
действий, если Ваш дом
попал в зону радиоактивного
заражения**





Математика

**При помощи своих
биометрических данных
определите размер
подходящего Вам
противогаза марки ГП-5.**





Размер определяют по данным двух измерений головы:

- 1. по замкнутой линии, проходящей через макушку, подбородок и щеки;**
- 2. по линии, соединяющей отверстия ушей и проходящей через надбровные дуги.**





Сумма измерений, сантиметров	Размер шлем-маски
До 92	0
От 92 до 95.5	1
От 95.5 до 99	2
От 99 до 102.5	3
Более 102.5	4



Химия

**Перечислите Ваши
действия после выхода
из зоны химического
заражения.**



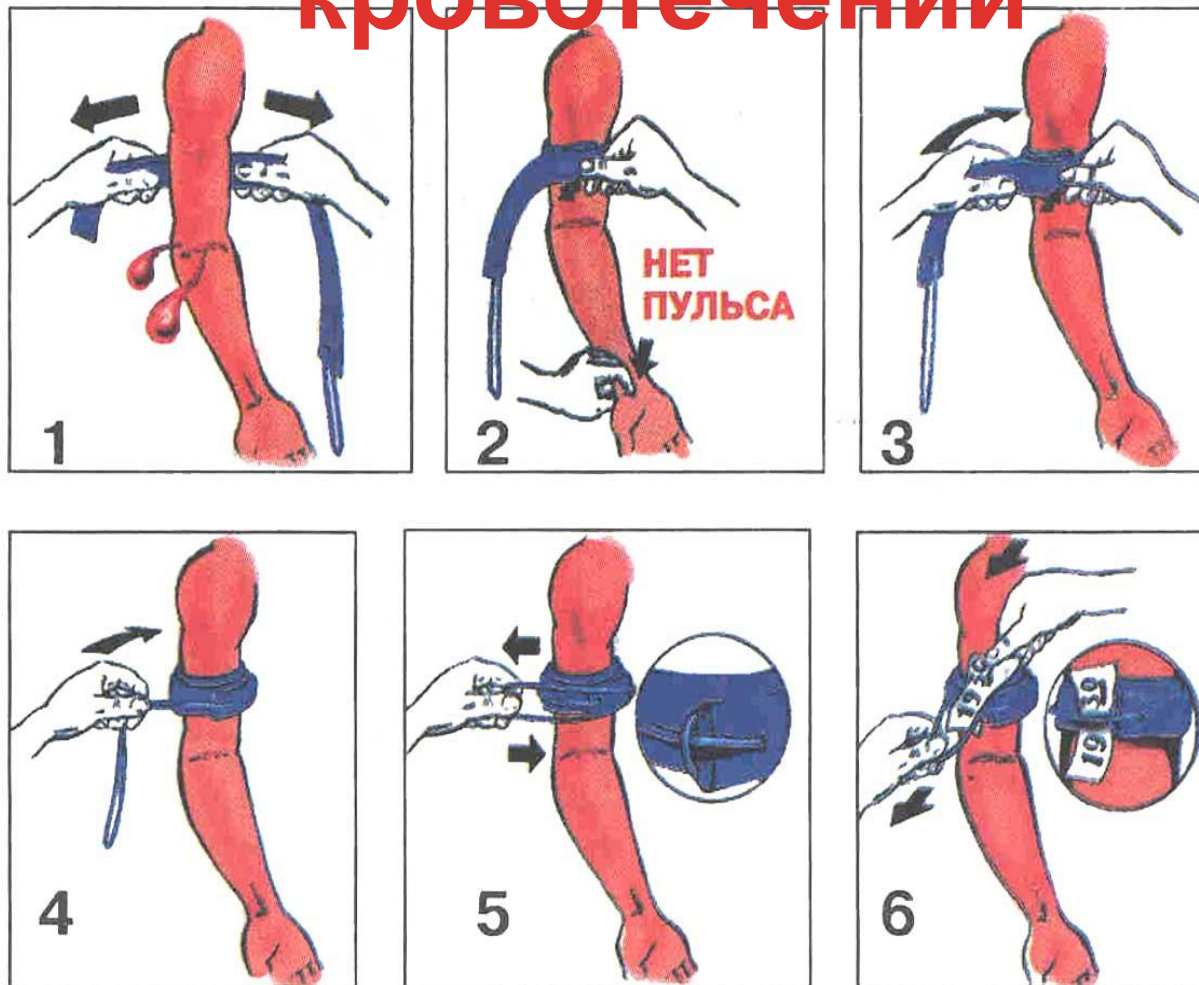


Биология

**Пострадавший с
артериальным
кровотечением плечевой
артерии кричит от боли.
Окажите первую
медицинскую помощь.**



Первая помощь при артериальном кровотечении



География

**Определите по
компасу азимут
направления на
ориентир
возвращения (дорога).**

дорога



Азимут – угол между направлением на север и направлением на ориентир (дорога, направление движения в лес)

дорога



Информатика

Трудная
дорога
детства



Спасибо за внимание

