



Интерактивная игра

«Сложение и вычитание. Числа от 1 до 10»

Часть 6

Математика

1 класс

УМК любой

Автор : Фокина Лидия Петровна,
учитель начальных классов МКОУ «СОШ ст.

Евсино»

Искитимского района Новосибирской
области

2017





Ребята!


Случилась беда. Моих друзей заколдовали. Но вы спасёте их, если правильно выполните задания.

Желаю удачи!






Сколько получится,
если число 5 уменьшить
на 2?






Из 1 десятка вычитите
3 единицы





Найдите сумму
чисел 5 и 2







Первое слагаемое 3,
сумма равна 6. Чему
равно второе
слагаемое?





Число 4 увеличьте
на 6





Длина первого отрезка
10 см, второго 7 см. На
сколько см длина
первого отрезка
больше второго?






Найдите пропущенное
число: $8 - 4 = \dots$






Продолжите
высказывание:
10 – это 7 и ...






У Юры было 6 кубиков,
а у Миши на 2 кубика
меньше. Сколько
кубиков у Миши?





Я задумала число. К
нему прибавила
столько же
и получила 8. Какое
число я задумала?





Спасибо за помощь!





Информационные ИСТОЧНИКИ

Алимпиева М. Н., Векшина Т. В. Математические диктанты.

1 класс. М.: ВАКО, 2017

Цветы

Зверята-школьники

Художница

Звуковые файлы записаны и обработаны в программе Audacity

