

# МАТЕМАТИКА

Подготовительная группа «Пчёлка»



Ребята! Злые кот  
Базилио и лиса Алиса  
хитростью отобрали  
ключик, который я нес  
Папе Карло. Чтобы его  
вернуть надо выполнить  
задание. Помогите  
мне!


# ЗАДАНИЕ 1

- 1) Вспомни порядковый счёт от 1 до 10 и обратно.
- 2) Назови соседей чисел 3,5,7,9
  - -2-3-4, 4-5-6, 6-7-8, 8-9-10.
- 3) угадай число, живущее между числами 5 и 7, 4 и 6, 9 и 7,5 и 3.
  - 5-6-7 4-5-6 9-8-7 5-4-3
- 4) назови предыдущее число чисел 3,6,8.
  - 2-3 5-6 7-8
- 5) Назови последующее число чисел 2,5,9
  - 2-3 5-6 9-10



# ЗАДАНИЕ 1.

- 6) Сколько ушей у двух кошек?  
• 4
- 7) Сколько глаз у светофора?  
• 3
- 8) Сколько пальцев на одной руке?  
• 5
- 9) Сколько солнышек на небе ночью?  
• 0
- 10) Сколько месяцев в году?  
• 12





## ЗАДАНИЕ 2.

- Для этого задания подготовьте карандаши **красного, жёлтого, зелёного, синего и оранжевого** цветов.
- Возьмите лист бумаги и нарисуйте на нём геометрические фигуры в разных частях листочка:
- В середине листа нарисуйте **жёлтый** круг.
- В правом верхнем углу расположите **красный** квадрат.
- В левом нижнем углу расположите **зелёный** квадрат.
- В правом нижнем углу расположите **оранжевый** прямоугольник.
- В левом верхнем углу **синий** квадрат.

# А ТЕПЕРЬ ПОВТОРИМ ЧАСТИ ЗАДАЧИ.

- Условие задачи это  
То, что уже известно.  
Вопрос задачи это  
То что нужно найти.  
Решение задачи это  
То, как мы ищем ответ.  
Ответ задачи это  
То, что получилось.



# А ТЕПЕРЬ ПОРЕШАЕМ ЗАДАЧКИ!

- Пять ворон на крышу сели, две ещё к ним прилетели.

Отвечайте быстро смело! Сколько всех их прилетело?

1) Что известно в задаче?

Что 5 ворон сидело, 2 прилетели.

2) Какой вопрос в задаче?


Сколько всего птиц?

3) Как будем решать?

$$5+2=7$$

4) Ответ:

Всего прилетели 7 птиц.





# А ТЕПЕРЬ ПОРЕШАЕМ ЗАДАЧКИ!

• Шесть весёлых медвежат, за малиной в лес спешат, но один малыш устал, от товарищей отстал. А теперь ответ найди. Сколько мишек впереди?

1) Что известно в задаче?

Что 6 медвежат было, 1 отстал.

2) Какой вопрос в задаче?

Сколько мишек ушли вперёд?

3) Как будем решать?

$$6 - 1 = 5$$

4) Ответ

5 мишек ушли вперёд.





# МИНУТКА ДЛЯ ОТДЫХА

- Любопытная Варвара  
Смотрит влево,  
Смотрит вправо,  
Смотрит вверх,  
Смотрит вниз,  
Чуть присела на карниз,  
А потом свалилась вниз!



# ГРАФИЧЕСКИЙ ДИКТАНТ «КЛЮЧИК»

- Отступите 5 клеток сверху и 3 клетки вправо. Поставьте точку на углу квадратика.

8 кл. вправо

2 кл. наверх

4 вправо

5 вниз

4 влево

2 наверх

4 влево

3 вниз

1 влево

1 наверх

1 влево

1 вниз

1 влево

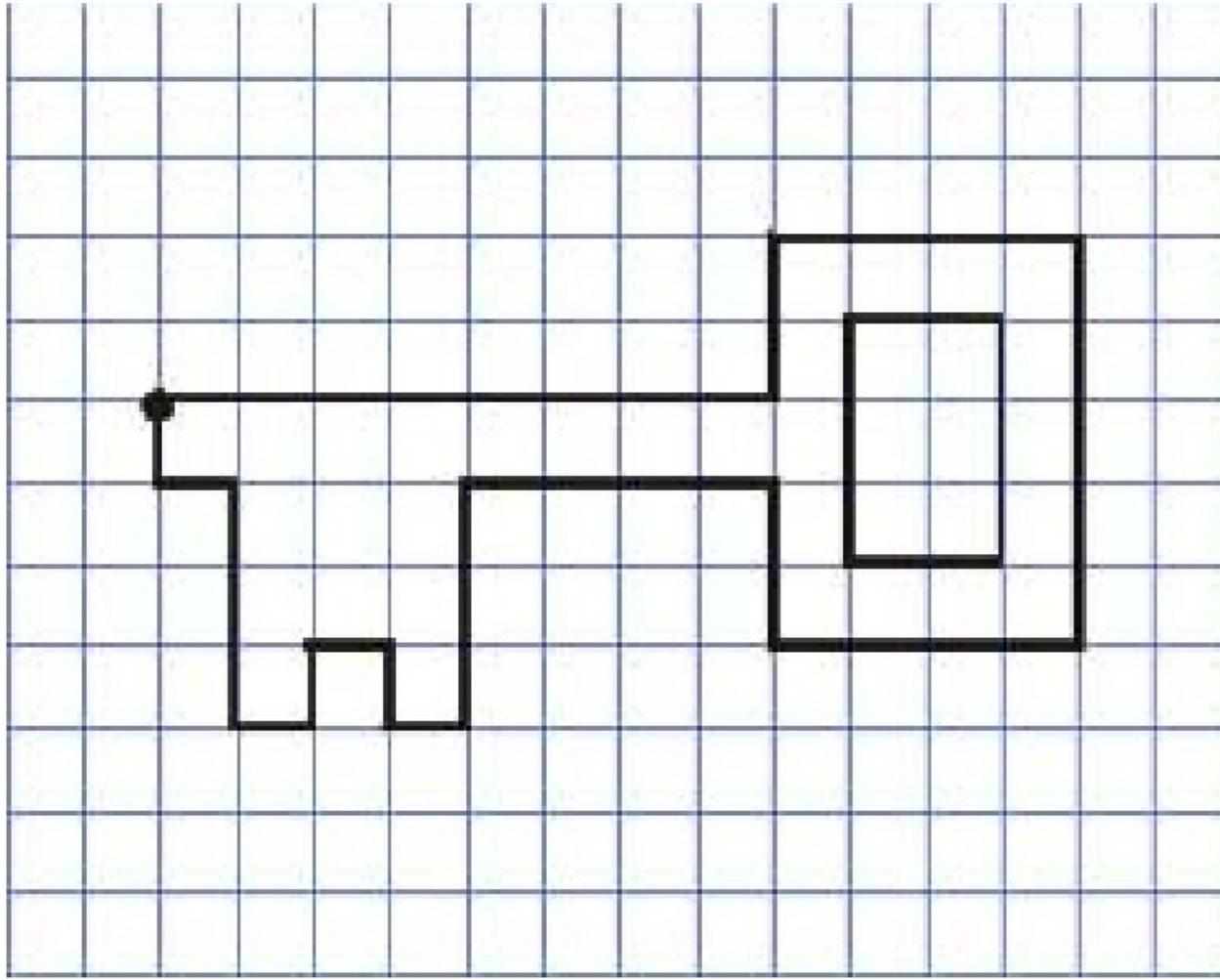
3 наверх

1 влево

1 наверх



ПРОВЕРЬ, ПРАВИЛЬНО ЛИ ПОЛУЧИЛСЯ  
КЛЮЧИК И ДОРИСУЙ ОТВЕРСТИЕ.



СПАСИБО РЕБЯТА! ВЫ ПОМОГЛИ  
ВЕРНУТЬ КЛЮЧИК И ТЕПЕРЬ МЫ  
СМОЖЕМ ОТКРЫТЬ ЗАВЕТНУЮ ДВЕРЬ!

www.gif-animator.com - UNREGISTERED

