

## Практикум по исторической географии. Темы 1-5:

**Тема 1.** Формирование государства у восточных славян. Первые русские князья.

Период ...-980 гг.

**Тема 2.** Расцвет Киевской Руси в период 980-1093 годов.

**Тема 3.** Переход Руси к раздробленности. Княжества раздробленной Руси.

Период 1093-1237 годов.

**Тема 4.** Нашествие Батыя и становление ордынского ига. Период 1237-1304 гг.

**Тема 5.** Возвышение Московского княжества в эпоху ордынской зависимости.

Период 1304-1462 гг.

---

Автор разработки: Маховиков Д.В. [https://vk.com/d\\_makhovikov](https://vk.com/d_makhovikov)

Сообщество для подготовки к ЕГЭ по истории: <https://vk.com/clubege2019history>



№ 13. Укажите название города, отмеченного на карте цифрой «5»

№ 14. Укажите название реки, отмеченной на карте цифрой «2»

№ 15. Укажите название восточнославянского племенного союза, центром которого в IX веке был город, отмеченный на карте цифрой «4»

№ 16. Какие суждения, относящиеся к событиям, обозначенным на схеме, являются верными? Выберите три суждения из шести предложенных.

- 1) Согласно «Повести временных лет», в городе под цифрой «5» в 862-м году княжили Аскольд и Дир.
- 2) В городе под цифрой «3» был подписан первый известный исторической науке письменный договор Русского государства.
- 3) Князь Рюрик никогда не княжил в городе, отмеченном на карте цифрой «4»
- 4) Город под цифрой «4» в настоящий момент входит в состав Российской Федерации.
- 5) Город под цифрой «3» в настоящее время входит в состав Турецкой республики.
- 6) Согласно «Повести временных лет», в город под цифрой «5» был призван княжить варяг Трувор.



№ 13. Укажите век, когда произошли события, обозначенные на схеме стрелками. Ответ запишите словом.

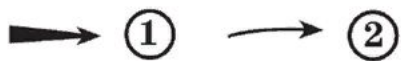
№ 14. Укажите имя князя, походы которого обозначены в легенде схемы цифрой «1».

№ 15. Укажите название торгового пути, обозначенного на схеме цифрой «3».

№ 16. Какие суждения, относящиеся к исторической ситуации, обозначенной на схеме, являются верными? Выберите три суждения из шести предложенных.

- 1) Цифрой «5» на схеме обозначен город Новгород.
- 2) В ходе событий, обозначенных на схеме стрелками, русское войско взяло город Перемышль.
- 3) В городе, обозначенном на схеме цифрой «6», согласно Повести временных лет принял крещение киевский князь Владимир.
- 4) На схеме обозначен политико-административный центр восточнославянского племенного союза древлян.
- 5) Цифрой «4» на схеме обозначена столица Волжской Булгарии.
- 6) Киевский князь Олег совершил поход, обозначенный в легенде схемы цифрой «2».

Походы русских князей



----- Границы государств

..... Союзы славянских племён, соседние с ними племена и племенные объединения





№ 13. Укажите имя князя, который взял город под цифрой «5» в ходе событий, отраженных на карте.

№ 14. Напишите название города под цифрой «3».

№ 15. Напишите название города, обозначенного на схеме цифрой «4».

№ 16. Какие суждения, относящиеся к событиям, обозначенным на схеме, являются верными?

Выберите три суждения из шести предложенных. 1)

Территория, где в ходе событий, отраженных на карте, находился город под цифрой «3», сейчас входит в состав Российской Федерации.

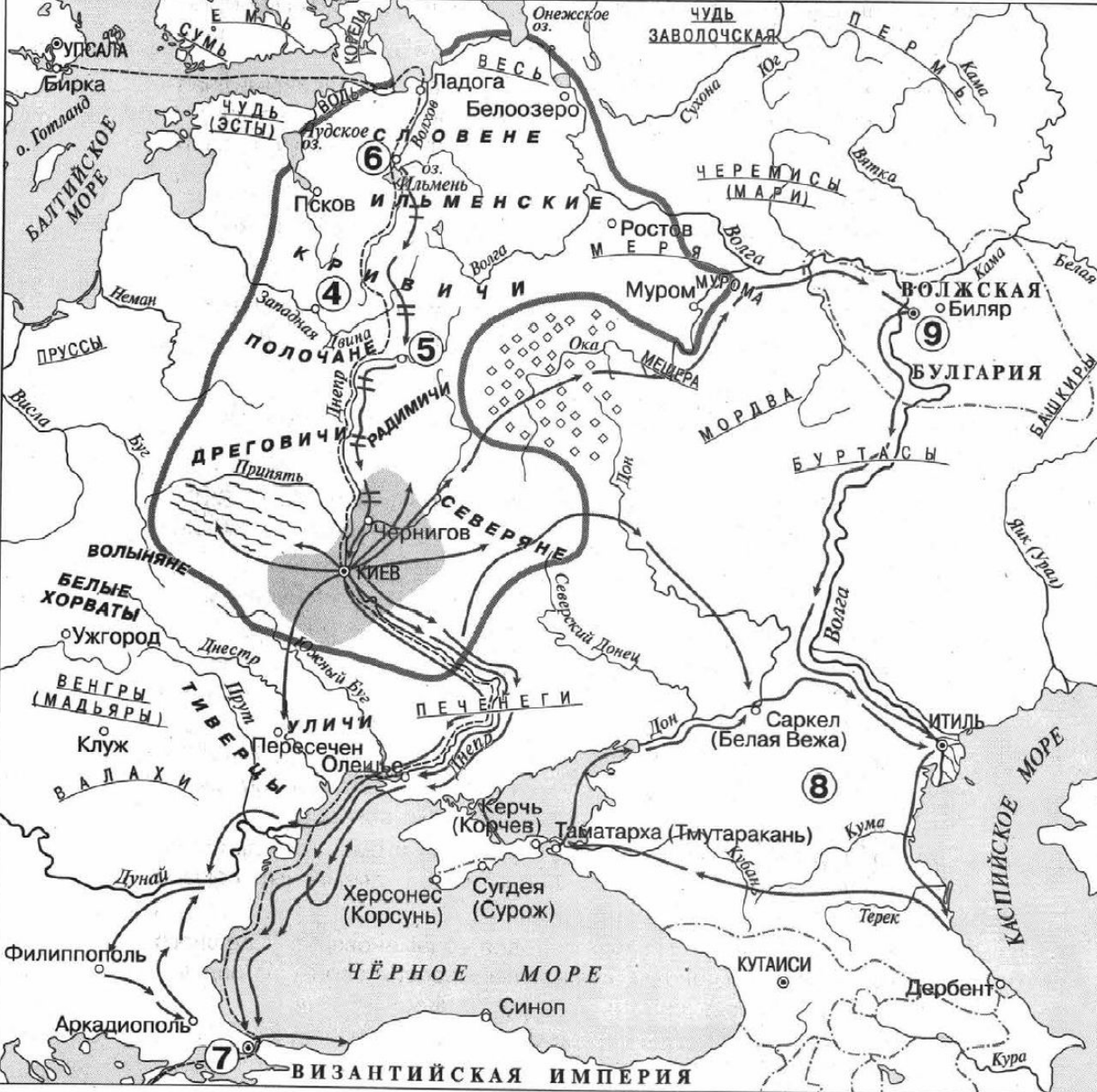
2) На месте города, отмеченного на карте цифрой «5», сейчас находится Волгоград.

3) Князь, чьи походы отмечены на карте стрелками, погиб в ходе междоусобной войны со своими братьями.

4) Князь, чьи походы отмечены на карте стрелками, принес на русские земли христианство.

5) На карте отражены события X века.

6) Князь, чьи походы отмечены на карте стрелками, являлся сыном княгини Ольги.



**уличи** Племенные объединения восточных славян в IX–X вв.

**эсты** Соседние племена и племенные объединения

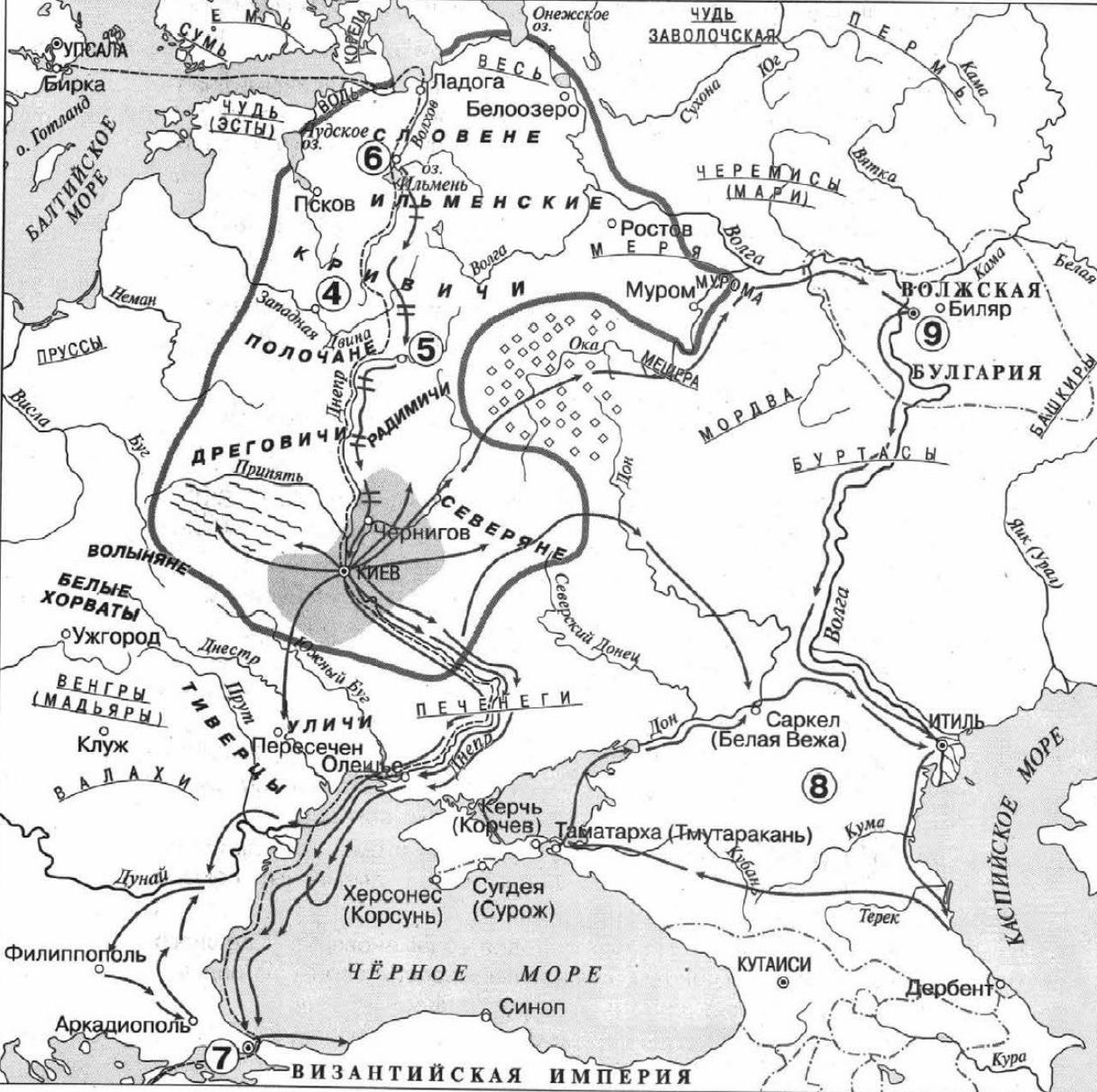
**1** **2** **3**

○ Граница Древнерусского государства

← Направления военных походов дружин древнерусских князей

--- Торговый путь

- № 13. Заполните пропуск в предложении: «На схеме обозначена граница Древнерусского государства в начале \_\_\_\_\_ века». Ответ запишите словом.
- № 14\_1 Укажите название восточнославянского племенного союза, территория расселения которого обозначена в легенде схемы цифрой «3».
- № 14\_2 Укажите название города, обозначенного на схеме цифрой «6».
- № 15\_1 Назовите государство, разгромленное в результате отмеченных на схеме походов, территория которого обозначена цифрой «8».
- № 15\_2 Укажите название города, обозначенного на схеме цифрой «9».
- № 16. Какие суждения, относящиеся к схеме, являются верными? Выберите четыре суждения из предложенных.
- 1) Согласно Повести временных лет, в городе под цифрой «4» в конце IX в. княжил варяг Синеус.
  - 2) На схеме обозначена и подписана территория расселения кочевых племен, в столкновении с которыми погиб князь Святослав Игоревич.
  - 3) На схеме обозначен и подписан город, в бухте которого в 1853 г. русская эскадра Черноморского флота под командованием вице-адмирала Павла Нахимова разгромила турецкую эскадру.
  - 4) Упадок торговли по пути, обозначенному на схеме, стал одной из предпосылок объединения восточнославянских племенных союзов в единое Древнерусское государство.
  - 5) Согласно Повести временных лет, для ознаменования успешного завершения похода киевский князь Олег повесил свой щит над воротами города, обозначенного на схеме цифрой «7».
  - 6) Все походы, обозначенные на схеме стрелками произошли в периода правления в Киеве одного и того же князя.
  - 7) Цифрой «2» в легенде схемы обозначена территория расселения восточнославянского племенного союза.
  - 8) Согласно Повести временных лет, город, обозначенный на схеме цифрой «5», был основан киевским князем в первой половине XI в.



уличи Племенные объединения восточных славян в IX–X вв.

эсты Соседние племена и племенные объединения

①

②

③

○ Граница Древнерусского государства

← Направления военных походов дружин древнерусских князей

--- Торговый путь

- № 13. Заполните пропуск в предложении: «На схеме обозначена граница Древнерусского государства в начале \_\_\_\_\_ века». Ответ запишите словом.
- № 14\_1 Укажите название восточнославянского племенного союза, территория расселения которого обозначена в легенде схемы цифрой «3».
- № 14\_2 Укажите название города, обозначенного на схеме цифрой «6».
- № 15\_1 Назовите государство, разгромленное в результате отмеченных на схеме походов, территория которого обозначена цифрой «8».
- № 15\_2 Укажите название города, обозначенного на схеме цифрой «9».
- № 16. Какие суждения, относящиеся к схеме, являются верными? Выберите четыре суждения из восьми предложенных.
- 1) Согласно Повести временных лет, в городе под цифрой «4» в конце IX в. княжил варяг Синеус.
  - 2) На схеме обозначена и подписана территория расселения кочевых племен, в столкновении с которыми погиб князь Святослав Игоревич.
  - 3) На схеме обозначен и подписан город, в бухте которого в 1853 г. русская эскадра Черноморского флота под командованием вице-адмирала Павла Нахимова разгромила турецкую эскадру.
  - 4) Упадок торговли по пути, обозначенному на схеме, стал одной из предпосылок объединения восточнославянских племенных союзов в единое Древнерусское государство.
  - 5) Согласно Повести временных лет, для ознаменования успешного завершения похода киевский князь Олег повесил свой щит над воротами города, обозначенного на схеме цифрой «7».
  - 6) Все походы, обозначенные на схеме стрелками произошли в периода правления в Киеве одного и того же князя.
  - 7) Цифрой «2» в легенде схемы обозначена территория расселения восточнославянского племенного союза.
  - 8) Согласно Повести временных лет, город, обозначенный на схеме цифрой «5», был основан киевским князем в первой половине XI в.



№ 13. Укажите год, когда возникло государство, границы которого обозначены в легенде схемы.

№ 14\_1. Укажите название города, обозначенного на схеме цифрой «2».

№ 14\_2. Укажите название племенного союза, место расселения которого обозначено фоном, подписанным в легенде схемы цифрой «1».

№ 15. Укажите название торгового пути, обозначенного на схеме.

№ 16. Какие суждения, относящиеся к данной схеме, являются верными, а какие – нет?

1) На схеме обозначено название города, ставшего столицей государства, границы которого обозначены в легенде схемы.

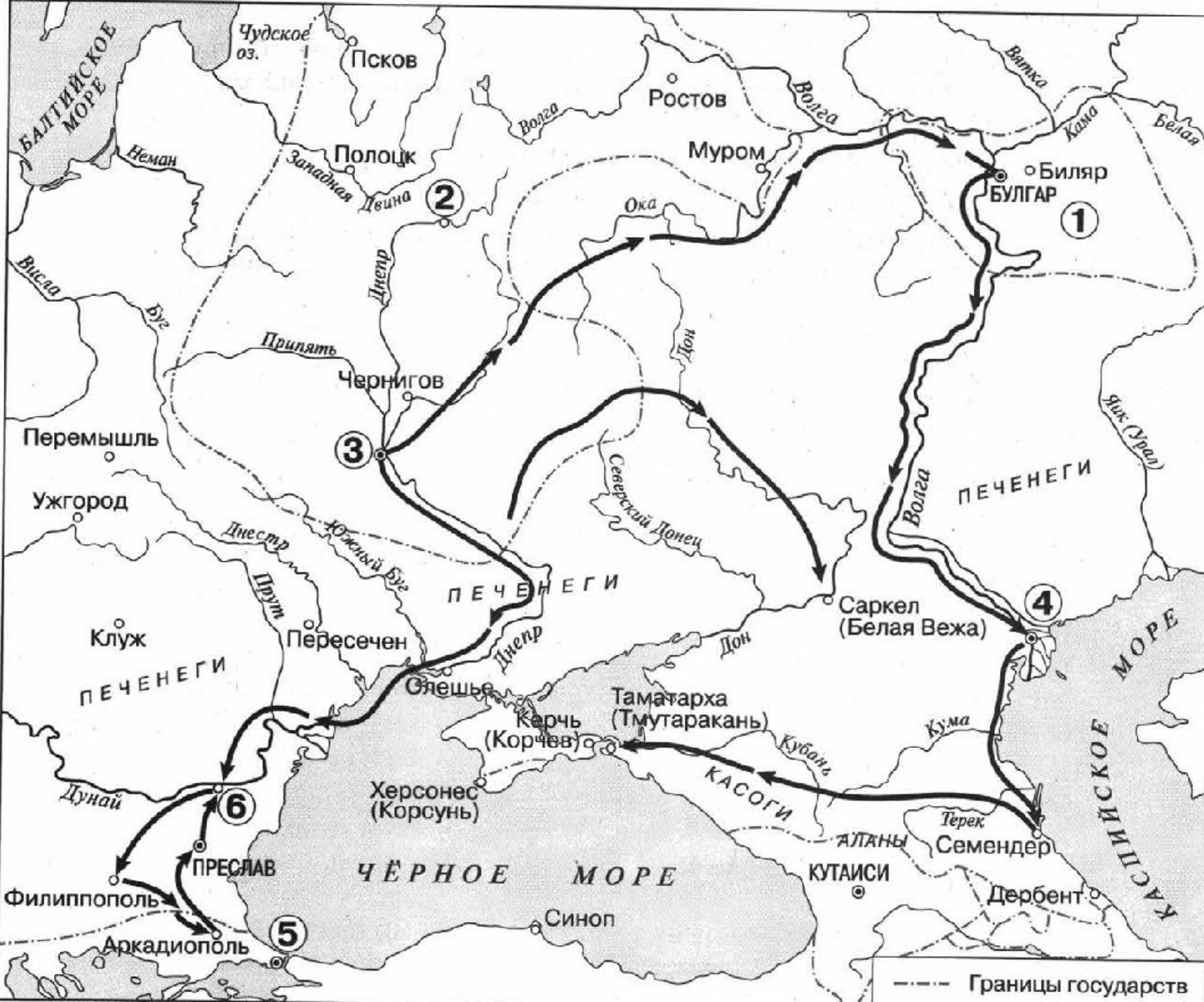
2) Город, обозначенный на схеме цифрой «3», был основан древнерусскими князьями.

3) На схеме обозначено государство, прекратившее своё существование в результате походов, обозначенных на схеме стрелками.

4) В результате походов, которые обозначены на схеме, Волжская Булгария вошла в состав государства, границы которого обозначены в легенде схемы.

5) В состав государства, границы которого обозначены в легенде схемы, вошли территории, населённые финно-угорскими племенами





№ 13. Укажите век, к которому относятся события, обозначенные на схеме стрелками.

Ответ запишите словом.

№ 14\_1. Назовите город, обозначенный на схеме цифрой «3».

№ 14\_2. Назовите киевского князя, совершившего обозначенные на схеме походы.

№ 15. Назовите государство, столица которого обозначена на схеме цифрой «5».

№ 16. Какие суждения, относящиеся к схеме, являются верными? Выберите три суждения из шести предложенных.

- 1) Цифрой «1» на схеме обозначен Хазарский каганат.
- 2) На схеме обозначен и подписан город – племенной центр ильменских словен.
- 3) Цифрой «2» на схеме обозначен город, в непосредственной близости от которого в ходе народного восстания в 945 г. погиб князь Игорь Рюрикович.
- 4) Город Итиль обозначен на схеме цифрой «4».
- 5) Город Доростол обозначен на схеме цифрой «6».
- 6) Киевский князь Владимир Святославович, согласно летописным данным, принял крещение в городе, обозначенном и подписанном на схеме.



№ 13. Укажите название города, обозначенного на схеме цифрой «1».

№ 14. Укажите название восточнославянского племенного союза, жившего в районе, обозначенном на схеме цифрой «3».

№ 15. Укажите название реки, дважды обозначенной на схеме цифрой «4».

№ 16. Какие суждения, относящиеся к исторической ситуации, обозначенной на схеме, являются верными? Выберите три суждения из шести предложенных.

- 1) Киевский князь Игорь погиб во время восстания восточнославянского племенного союза, название которого указано на данной схеме.
- 2) Цифрой «7» на схеме обозначен город Рига.
- 3) Цифрой «6» в легенде схемы обозначены направления походов киевского князя Святослава.
- 4) Город, обозначенный на схеме цифрой «7», расположен в том месте, где теперь находится Санкт-Петербург.
- 5) Военные походы, обозначенные на карте цифрой «6», произошли после крещения Руси.
- 6) Город под цифрой «7» в настоящий момент не входит в состав Российской Федерации.



— Граница Древнерусского государства в начале XIII в.

..... Границы русских княжеств

БИЛЯР Столицы государств

Галич Центры русских княжеств и земель

← Поход князя Игоря Святославича в 1185 г.

----- Важнейшие торговые пути

----- Границы соседних государств

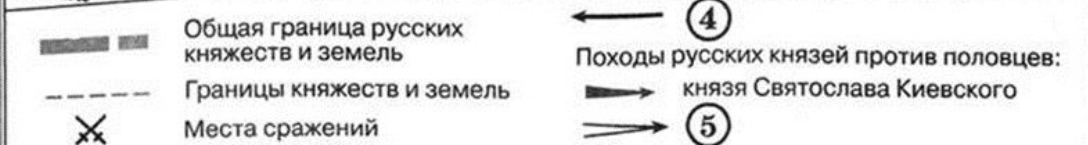
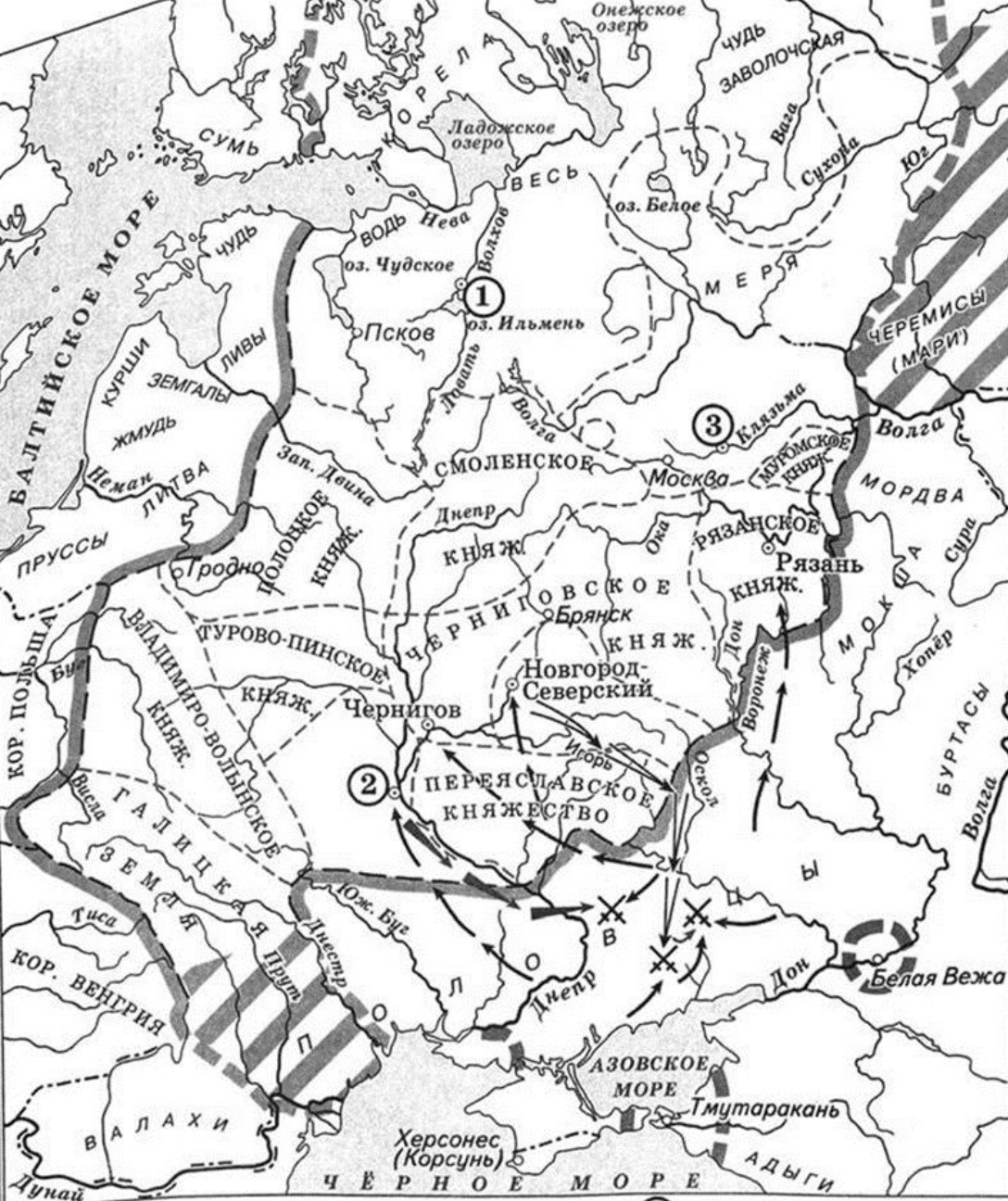
**№ 13. Укажите название города, обозначенного на схеме цифрой «1».**

**№ 14. Укажите название народа, поход против которого обозначен в легенде схемы.**

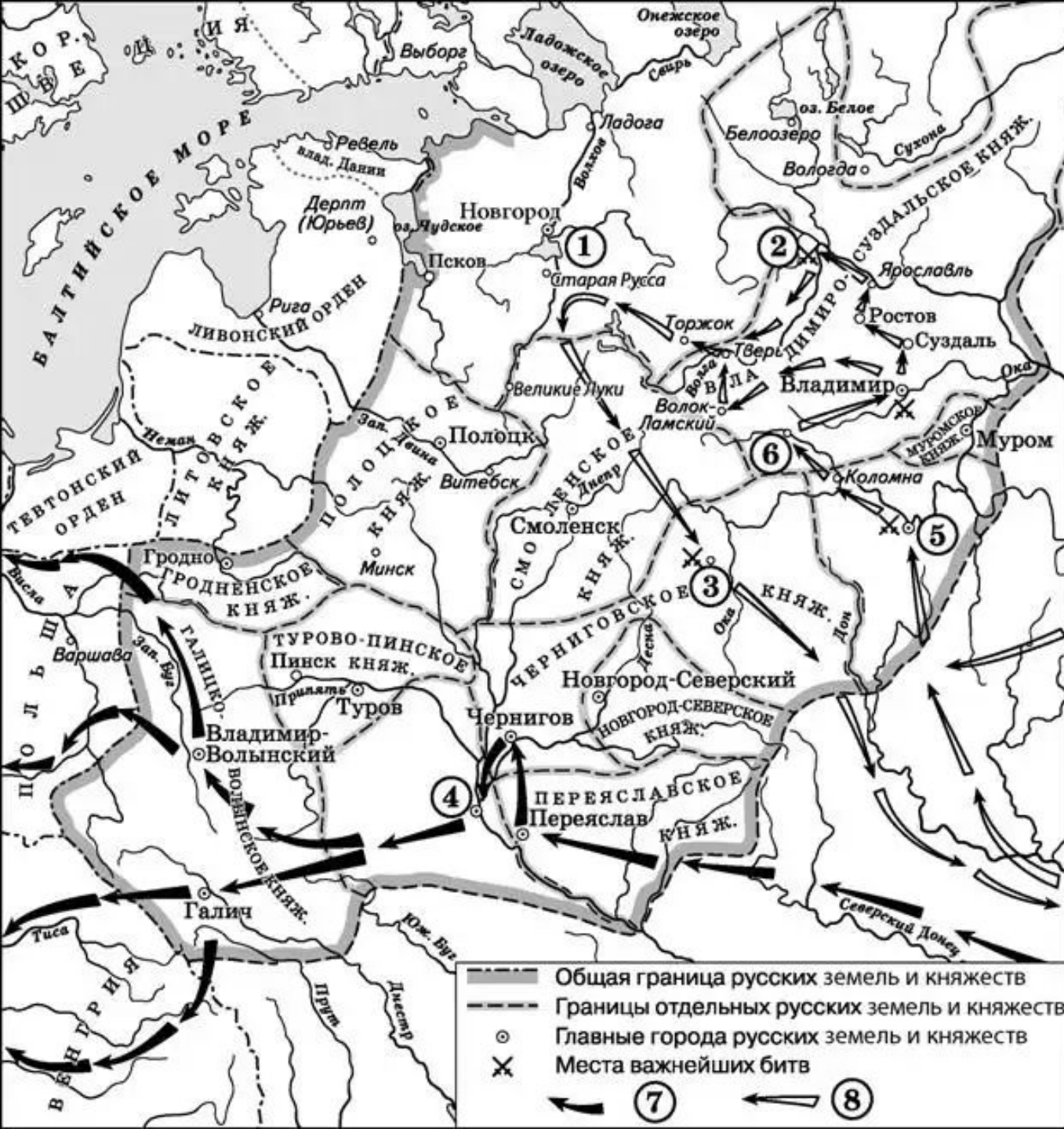
**№ 15. Укажите название государства, которое являлось ближайшим восточным соседом Руси в первой четверти XIII в.**

**№ 16. Какие суждения, относящиеся к данному изображению, являются верными, а какие – нет?**

- 1) Среди княжеств и земель, изображённых на схеме, наибольшим по площади было Киевское княжество.
- 2) В период раздробленности Древнерусского государства р. Дон и Волга служили торговыми путями.
- 3) Город, обозначенный на схеме цифрой «1», был основан Андреем Боголюбским.
- 4) В результате похода, обозначенного на схеме, князь, руководивший походом, увеличил территорию своего княжества.
- 5) В XII в. продолжалась борьба князей за право править в городе, обозначенном на схеме цифрой «2»



- № 13. Укажите век, когда был совершён поход, обозначенный в легенде схемы цифрой «5». Ответ напишите словом.
- № 14. Напишите название города, обозначенного на схеме цифрой «1».
- № 15. Укажите название кочевого народа, который совершал набеги на русские земли, обозначенные в легенде схемы цифрой «4».
- № 16. Какие суждения, относящиеся к событиям, обозначенным на схеме, являются верными? Выберите три суждения из шести предложенных.
- 1) Цифрой «2» на схеме обозначен город, который был столицей Древнерусского государства.
  - 2) В период, к которому относится данная схема, город Гродно входил в состав Владимиро-Волынского княжества.
  - 3) Кочевники, походы которых обозначены на схеме, не совершали набегов на территорию Переяславского княжества.
  - 4) На схеме обозначен город, в котором крестился князь Владимир Святославич.
  - 5) В период, к которому относится данная схема, Москва входила в состав Смоленского княжества.
  - 6) Андрей Боголюбский перенёс столицу Владимиро-Суздальского княжества в город, обозначенный на схеме цифрой «3».



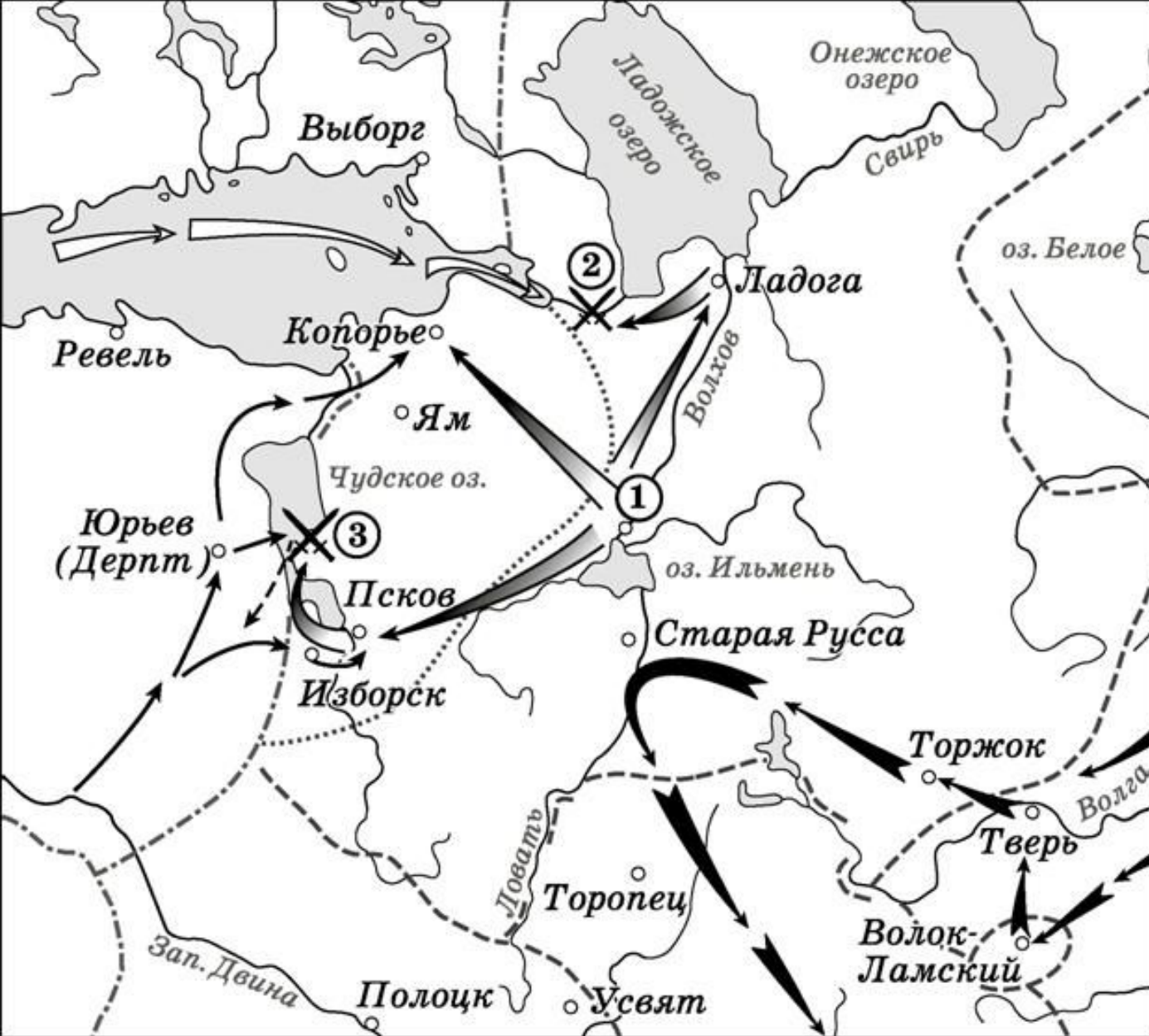
№ 13. Укажите век, когда произошли события, обозначенные на схеме стрелками. Ответ запишите словом.

№ 14. Укажите название города, обозначенного на схеме цифрой «3».

№ 15. Назовите главнокомандующего, руководившего походом по направлению, обозначенному в легенде схемы цифрой «7».

№ 16. Какие суждения, относящиеся к событиям, обозначенным на схеме, являются верными? Выберите три суждения из шести предложенных.

- 1) Первое летописное упоминание о городе, обозначенном на схеме цифрой «6», относится к 1147 г..
- 2) Цифрой «5» на схеме обозначена Рязань.
- 3) Стрелками, обозначенными в легенде схемы цифрой «8», показаны действия монгольских войск.
- 4) Цифрой «2» на схеме обозначена река Калка.
- 5) Боярин Евпатий Коловрат, прославившийся своей храбростью, был родом из города, обозначенного на схеме цифрой «4».
- 6) Цифрой «1» на схеме обозначен водный объект, по которому в годы Великой Отечественной войны проходила Дорога жизни.



Действия войск противника

← Действия русских войск

✕ Места сражений

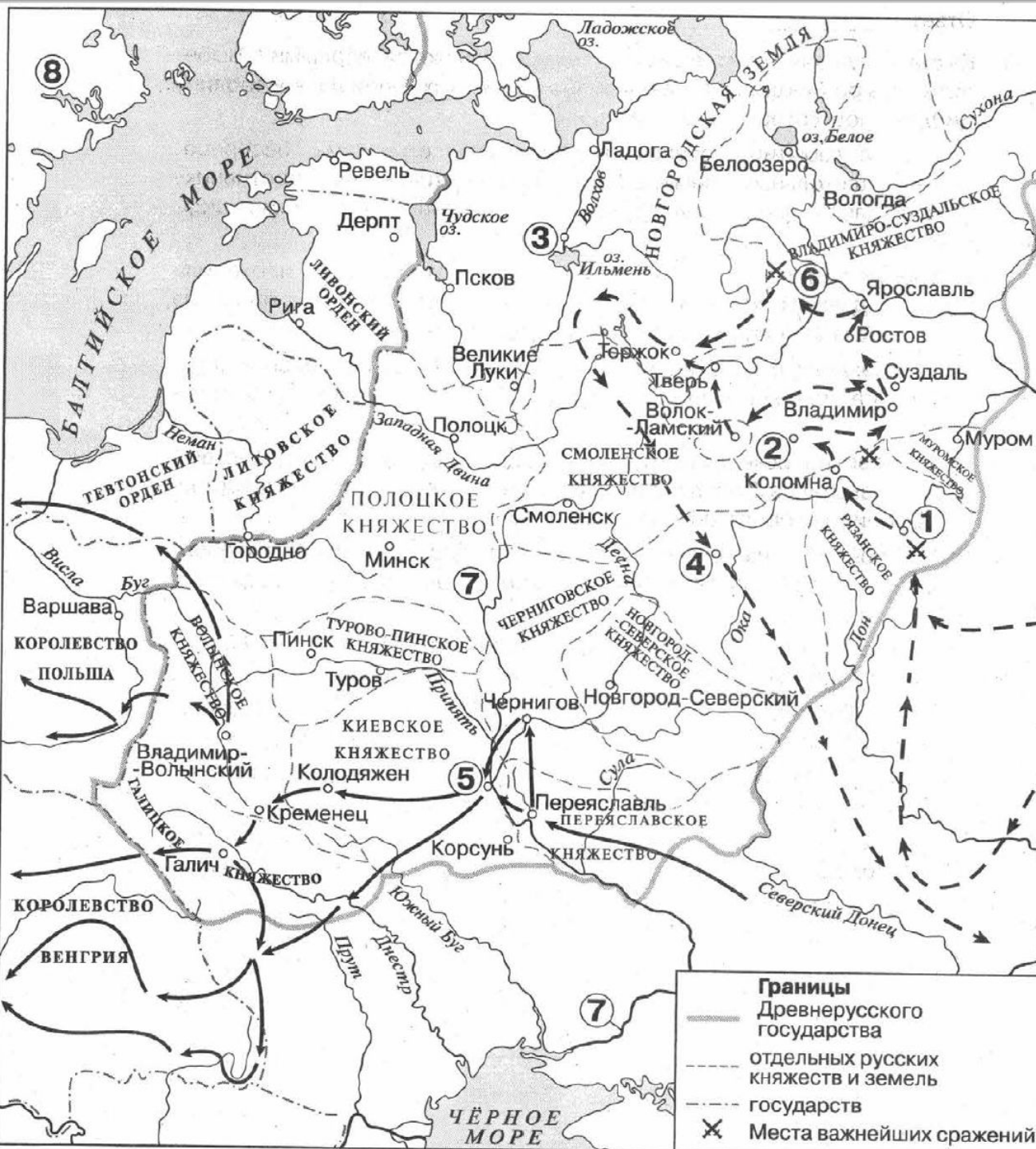
№ 13. Назовите военачальника, возглавившего поход по направлению, обозначенному в легенде схемы цифрой «4».

№ 14. Назовите русского полководца, под руководством которого совершены походы, обозначенные на схеме.

№ 15. Назовите государство, войска которого совершили поход, обозначенный в легенде схемы цифрой «5».

№ 16. Какие суждения, относящиеся к данной схеме, являются верными? Выберите три суждения из шести предложенных.

- 1) В сражении, обозначенном на схеме цифрой «3», русские войска потерпели поражение.
- 2) Цифрой «2» на схеме обозначено сражение, произошедшее зимой.
- 3) В период, к которому относится схема, высшим органом управления в городе, обозначенном на схеме цифрой «1», являлось народное собрание.
- 4) Раньше других походов, обозначенных на схеме стрелками, произошёл поход войска, направление движения которого обозначено в легенде схемы цифрой «6».
- 5) На схеме обозначен и подписан город, который в XIV в. являлся основным в Северо-Восточной Руси соперником Москвы в борьбе за роль центра объединения русских земель.
- 6) На схеме обозначено и подписано озеро, по которому в годы Великой Отечественной войны проходила Дорога жизни.



№ 13. Укажите век, к которому относятся события, обозначенные на схеме стрелками. Ответ запишите словом.

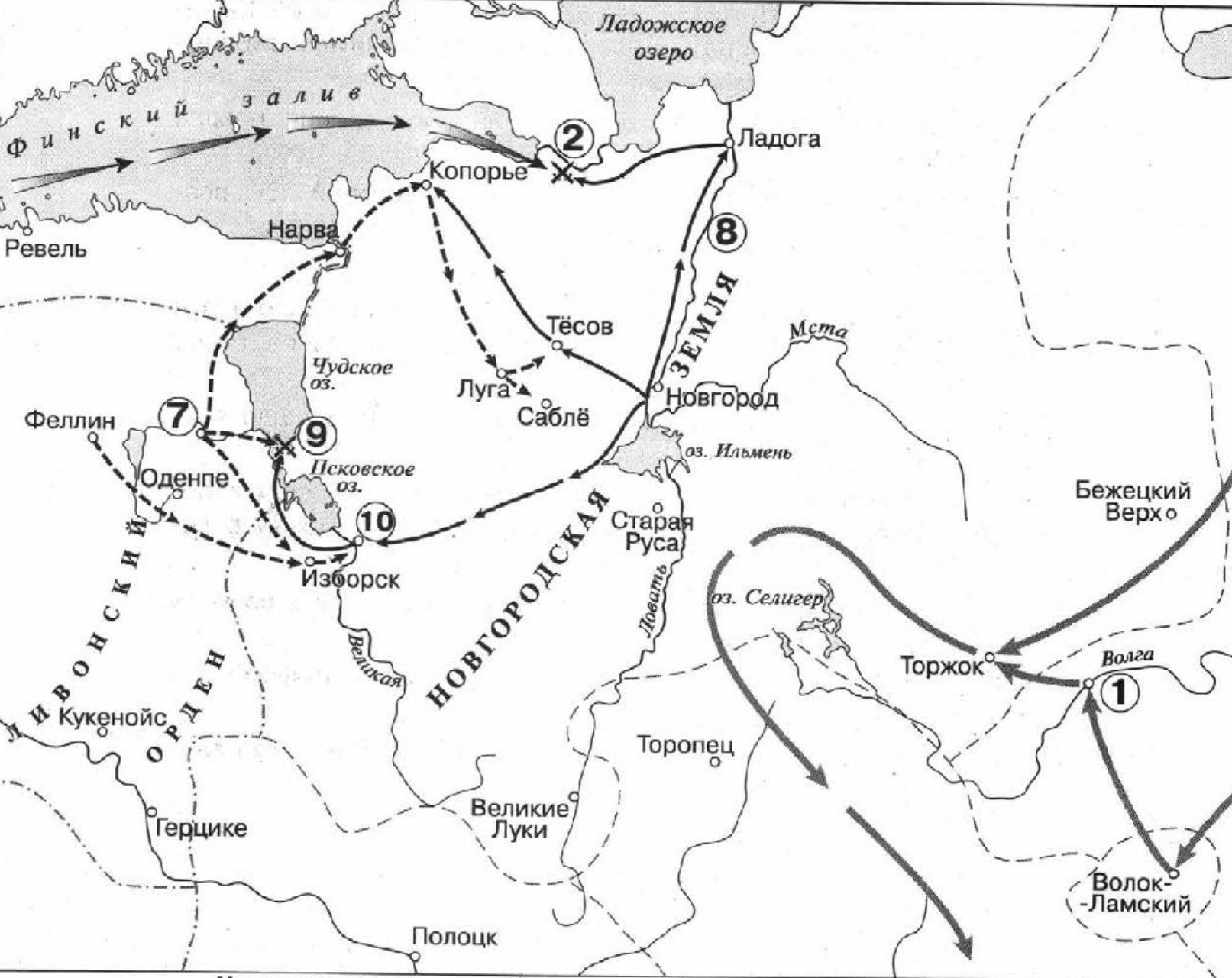
№ 14. Назовите город, обозначенный на схеме цифрой «3».

№ 15\_1. Назовите главнокомандующего войском, совершившего поход, обозначенный на карте пунктирными стрелками.

№ 15\_2. Назовите время года, когда состоялось сражение, место которого обозначено на схеме цифрой «6».

№ 16. Какие суждения, относящиеся к схеме, являются верными? Выберите четыре суждения из девяти предложенных.

- 1) В ходе событий, обозначенных на схеме стрелками, беспрецедентно длительным семинедельным сопротивлением противнику прославились защитники города, обозначенного на схеме цифрой «2».
- 2) Упадок торговли по пути, значительная часть которого проходила по реке, дважды обозначенной на схеме цифрой «7», стал одной из причин начала политической раздробленности на Руси.
- 3) В одной из средневековых исторических повестей рассказывается о подвигах русского богатыря Евпатия Коловрата – выходца из города, обозначенного на схеме цифрой «4».
- 4) В битве на реке Неве русским воинам под предводительством князя Александра Ярославича противостояло войско из государства, территория которого обозначена на схеме цифрой «8».
- 5) Цифрой «5» на схеме обозначен город, обороной которого (в ходе событий, обозначенных на схеме стрелками) руководил воевода Дмитр.
- 6) Цифрой «1» на схеме обозначено место, где погиб великий князь владимирский Юрий Всеволодович.
- 7) Поход, обозначенный на схеме сплошными стрелками, состоялся раньше похода, обозначенного пунктирными стрелками.
- 8) На схеме подписаны государства, образовавшие в результате заключения унии в XVI в. Речь Посполитую.
- 9) В результате походов, обозначенных на схеме, завоевателями был взят город Полоцк.

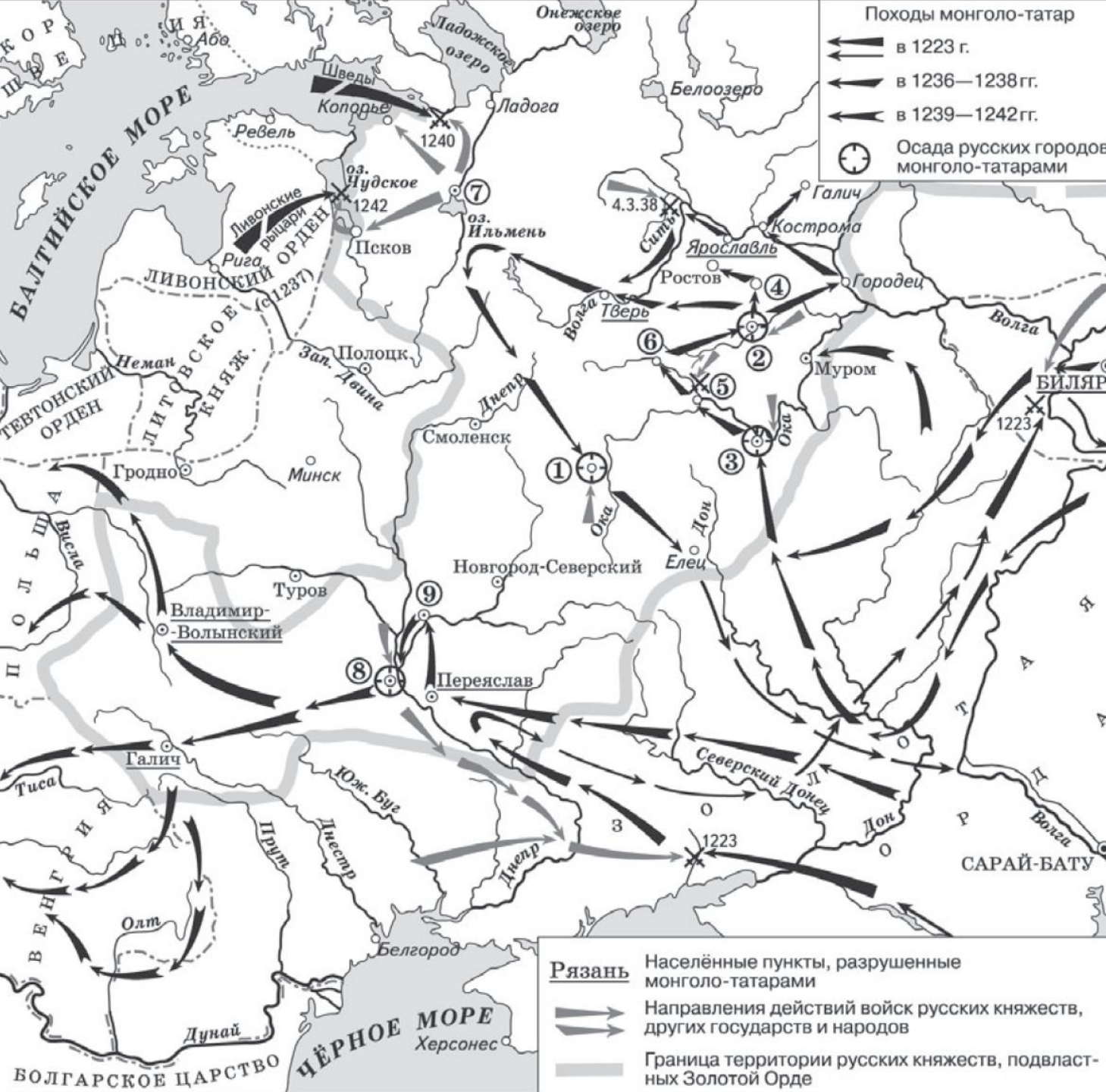


**Направления походов**

← 3	← 5	X Места сражений
← 4	← 6	

- № 13. Укажите век, когда произошли события, обозначенные на схеме стрелками.
- № 14\_1. Назовите князя, командовавшего русскими войсками в походах, обозначенных в легенде схемы цифрой «5».
- № 14\_2. Укажите название сражения, обозначенного на схеме цифрой «2».
- № 15\_1. Заполните пропуск в предложении: «Цифрой «7» на схеме обозначен город, основанный киевским князем в первой половине \_\_\_\_\_ века». Ответ запишите словом.
- № 15\_2. Укажите название города, обозначенного на схеме цифрой «1».
- № 16. Какие суждения, относящиеся к схеме, являются верными? Выберите пять суждений из девяти предложенных.
- 1) Цифрой «4» в легенде схемы обозначено направление похода шведских войск.
  - 2) Поход войск, обозначенных в легенде схемы цифрой «3», возглавлял Мамай.
  - 3) Числом «10» на схеме обозначен город Псков.
  - 4) Сражение, обозначенное на схеме цифрой «2», произошло в том же году, когда монгольскими завоевателями был захвачен город Киев.
  - 5) Сражение, обозначенное на схеме цифрой «9», произошло весной.
  - 6) На схеме обозначен и подписан город, первым из русских городов встретивший войско противника, поход которого указан в легенде схемы цифрой «3».
  - 7) Цифрой «8» на схеме обозначена река, по которой в древности проходил торговый путь «из варяг в греки».
  - 8) Войском, поход которого обозначен в легенде схемы цифрой «6», командовал Карл XII.
  - 9) В ходе обозначенных на схеме походов завоевателями был взят Торжок.





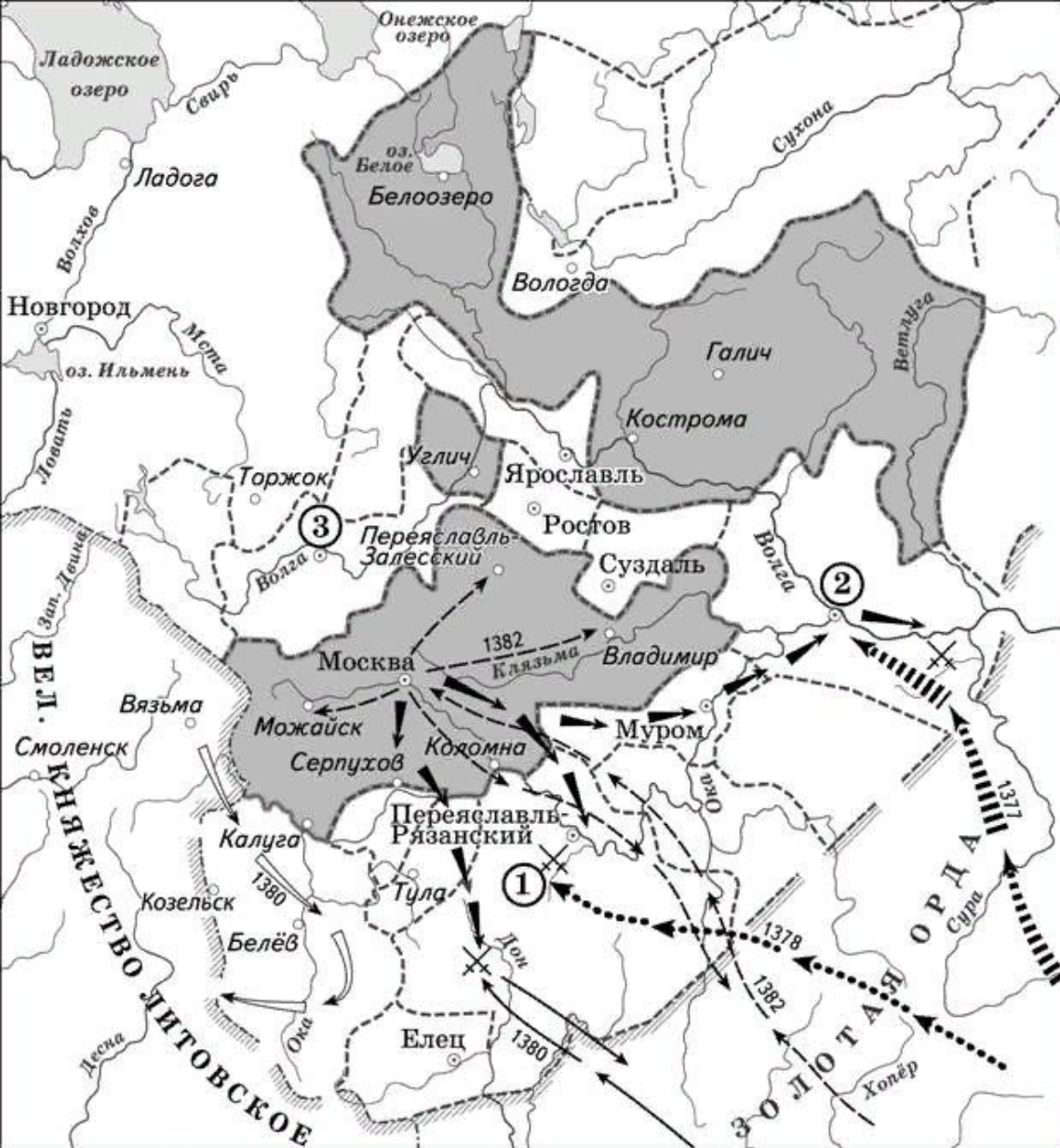
№ 13. Напишите название города, который в течение семи недель отражал штурм монголов.

№ 14. Напишите название реки, на берегах которой произошла первая встреча русских войск с монголами.

№ 15. Напишите название города, который планировали подчинить себе шведы в 1240 г.

№ 16. Какие суждения, относящиеся к событиям, обозначенным на схеме, являются верными? Выберите три суждения из шести предложенных.

- 1) В городе, обозначенном на схеме цифрой «5», в ходе сражения была разрушена церковь Богородицы (Десятинная).
- 2) В битве, произошедшей в 1223 г., русско-половецкое войско потерпело поражение от монголов.
- 3) Город, обозначенный на схеме цифрой «8», первым из русских городов подвергся нападению монголов.
- 4) Участником двух сражений, показанных на схеме, был Александр Невский.
- 5) Цифрой «6» на схеме обозначен город, который не был захвачен Батыем.
- 6) Цифрой «5» на схеме обозначен город, возле которого произошло сражение владимирского войска с монголами.



№ 13. Заполните пропуск в предложении: «Город, обозначенный на схеме цифрой "3", вошёл в состав Московского княжества во второй половине \_\_\_\_\_ века». Ответ запишите словом.

№ 14. Укажите название реки, на которой произошло сражение, обозначенное на схеме цифрой «1».

№ 15. Назовите военачальника, поход которого обозначен в легенде схемы цифрой «4».

№ 16. Какие суждения, относящиеся к схеме, являются верными? Выберите три суждения из шести предложенных.

- 1) События, обозначенные на схеме стрелками, произошли в период, когда московский престол занимал Иван Калита.
- 2) В результате набега, обозначенного в легенде схемы цифрой «6», русские земли были вынуждены возобновить ежегодную выплату дани Орде.
- 3) Военный поход литовских войск, обозначенный в легенде схемы цифрой «7», возглавлял князь Гедимин.
- 4) На схеме обозначен и подписан город – центр племенного союза полян.
- 5) Цифрой «2» на схеме обозначен город – центр формирования народного ополчения, освободившего Москву от польско-литовских интервентов в начале XVII в.
- 6) На схеме обозначен и подписан город – центр земли, где в период, к которому относятся события, обозначенные на схеме стрелками, существовала республиканская форма правления.





- Территория Московского княжества
- Общая граница княжеств и земель Северо-Восточной Руси
- Границы русских княжеств и земель
- Набеги Золотой Орды на русские земли во второй половине XIV в.
- Походы литовских войск на русские земли во второй половине XIV в.
- Походы московских и союзных князей во второй половине XIV в.
- Территория Верховских княжеств, находившихся попеременно во владении Литовского и Московского княжеств
- 1 Псковская земля (независима от Новгорода с 1348 г.)
- X 1380 Места и годы важнейших сражений

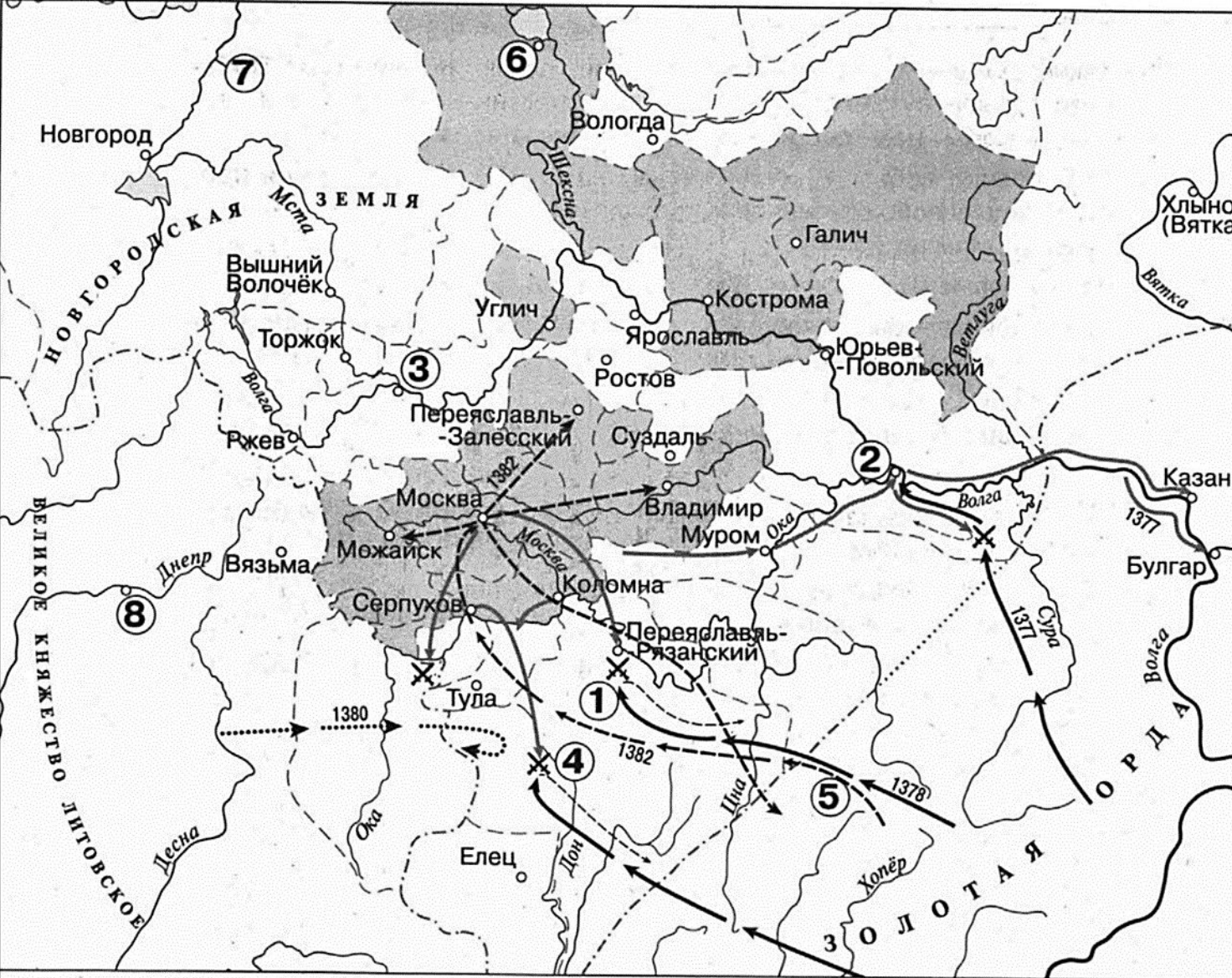
**№ 13.** Назовите век, в который земли Северо-Восточной Руси попали в зависимость от государства, находящегося к юго-востоку от ее границ.

**№ 14.** Укажите название княжества, обозначенного на схеме цифрой «2».

**№ 15.** Укажите имя полководца, поход которого на Русь обозначен на схеме цифрой «3».

**№ 16.** Какие суждения, относящиеся к схеме, являются верными? Выберите три суждения из шести предложенных.

- 1) В результате похода, обозначенного на схеме цифрой «3», Москва была захвачена ординцами.
- 2) На схеме показано, что Тверское княжество вошло в состав Великого Московского княжества.
- 3) На территории княжества, обозначенного на схеме цифрой «2», произошла крупнейшая битва с ординцами, в которой победили русские войска.
- 4) В результате похода литовских князей, обозначенного на схеме, Смоленская земля вошла в состав Великого княжества Литовского.
- 5) На схеме обозначен город, который был столицей Древнерусского государства в период его образования.
- 6) Полководец, совершивший поход, отмеченный на карте цифрой «3», являлся ханом Золотой орды.



№ 13. Назовите московского князя, который командовал русскими войсками в сражении, обозначенном на схеме цифрой «4».

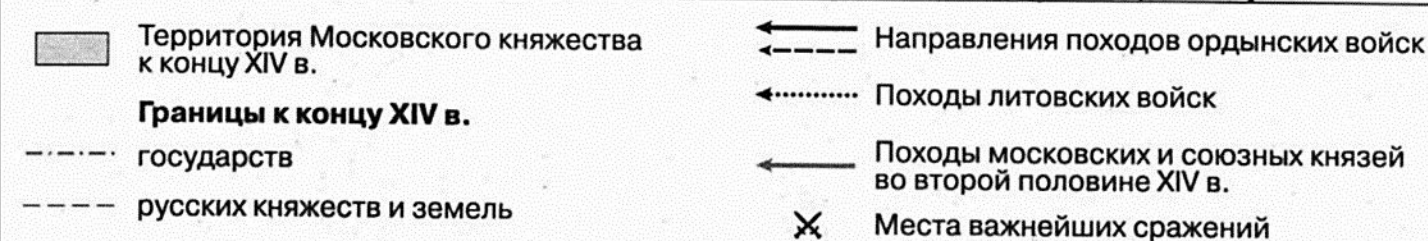
№ 14. Укажите название битвы, обозначенной на схеме цифрой «1».

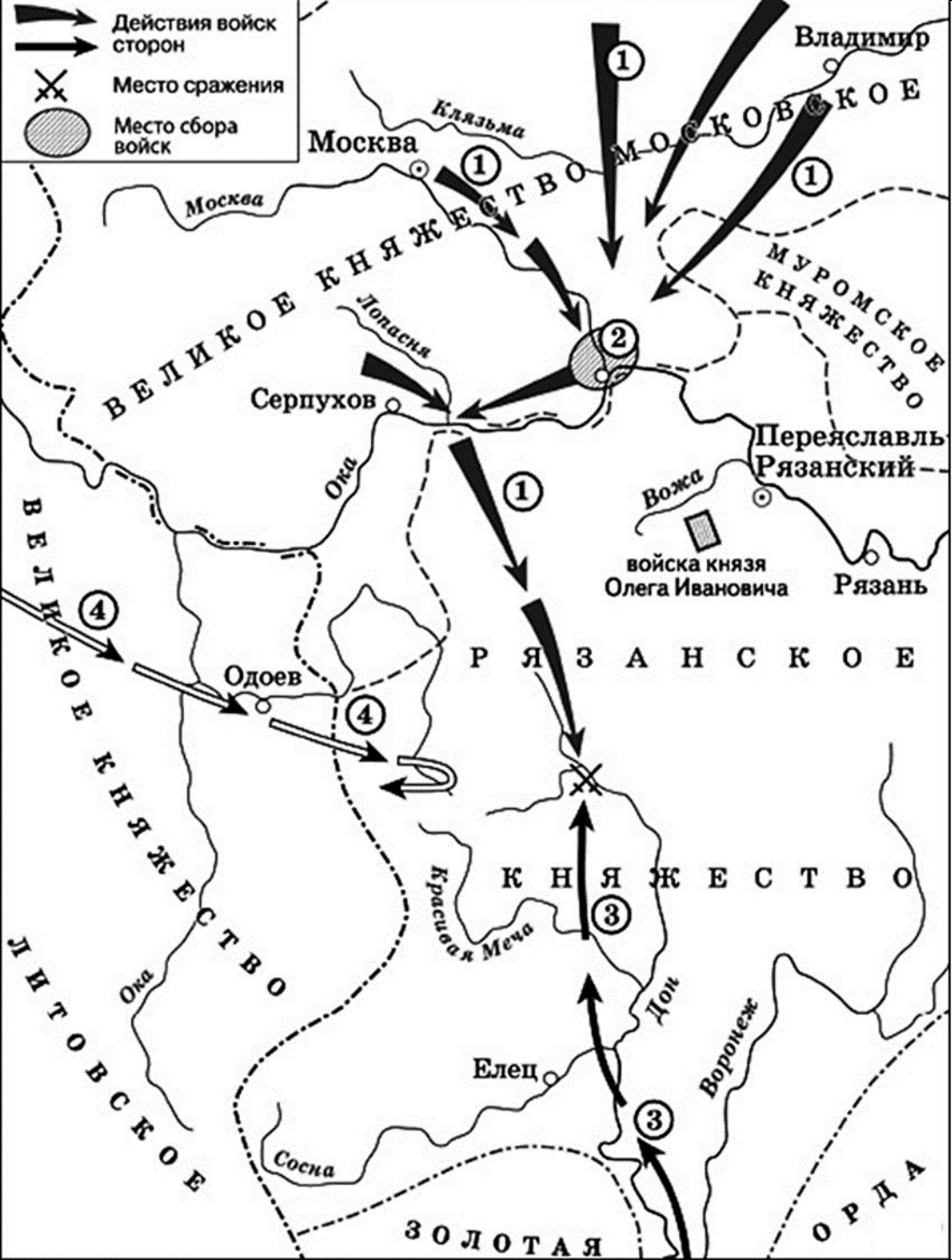
№ 15\_1. Назовите хана – предводителя похода ордынских войск, обозначенного на схеме цифрой «5».

№ 15\_2. Укажите название реки, обозначенной на схеме цифрой «7».

№ 16. Какие суждения, относящиеся к схеме, являются верными? Выберите пять суждений из восьми предложенных.

- 1) Цифрой «8» на схеме обозначен город – племенной центр кривичей.
- 2) В походах русских войск, обозначенных на схеме стрелками, принимали участие стрелецкие полки.
- 3) На схеме обозначена и подписана река, по которой в древности проходил торговый путь, связывавший Русь со странами Арабского Востока и Персией.
- 4) Согласно Повести временных лет, в городе, обозначенном на схеме цифрой «6», в 860-х гг. княжил варяг Синеус.
- 5) Цифрой «3» на схеме обозначен город, который в XIV в. соперничал с Москвой в борьбе за роль центра объединения северо-восточных русских земель.
- 6) Действиями литовских войск, поход которых обозначен на схеме стрелками, руководил князь Гедимин.
- 7) На схеме обозначен и подписан город, где в конце XVII в. был построен первый русский флот.
- 8) К концу XIV в. Вязьма входила в состав Великого княжества Литовского.





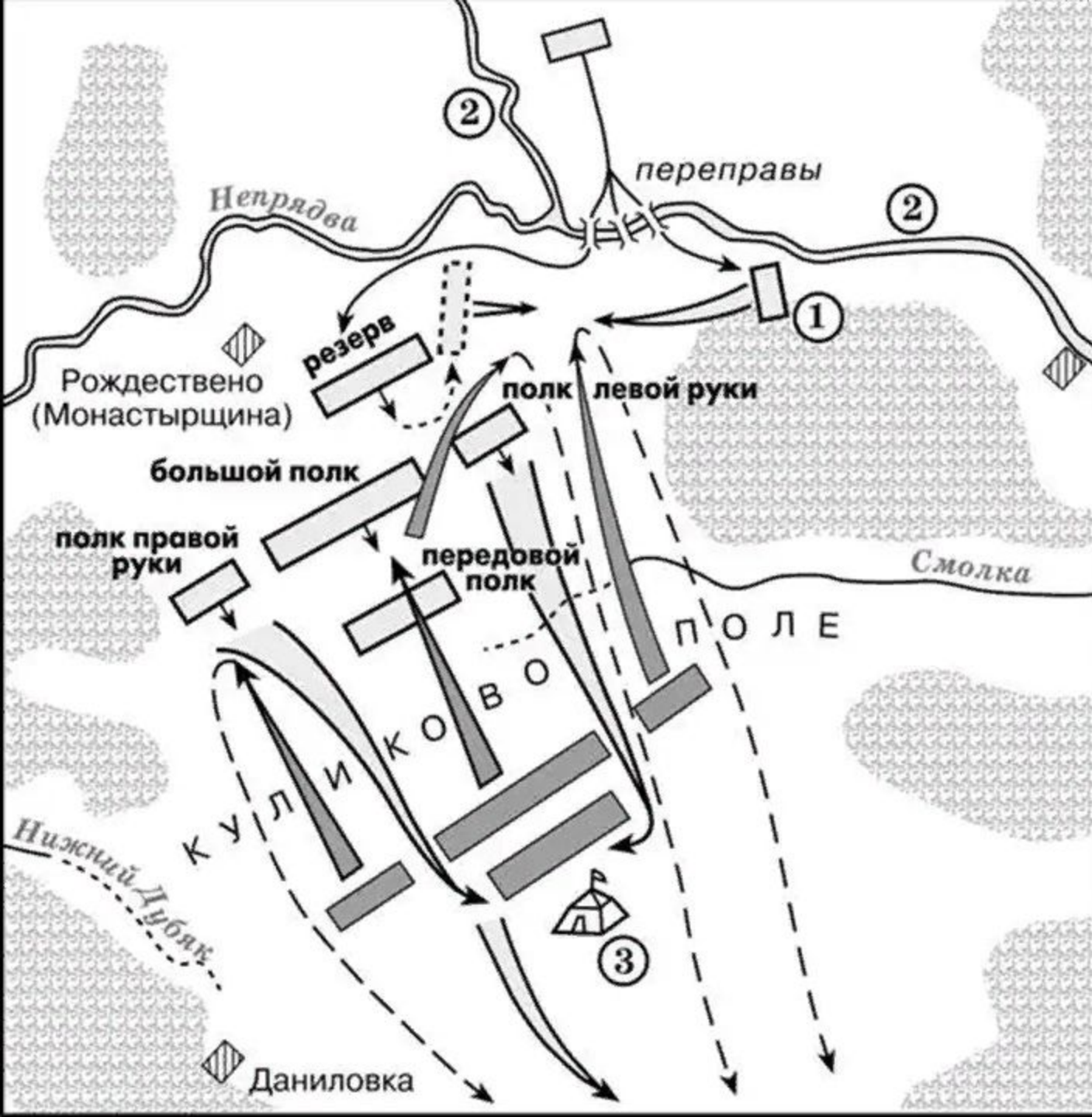
№ 13. Укажите век, к которому относятся события, обозначенные на схеме. Ответ напишите словом.

№ 14. Укажите название города, обозначенного на схеме цифрой «2».

№ 15. Укажите полководца, возглавившего поход, направление которого обозначено на схеме цифрой «3».

№ 16. Какие суждения, относящиеся к исторической ситуации, обозначенной на схеме, являются верными? Выберите три суждения из шести предложенных.

- 1) Действиями войск, направление движения которых обозначено на схеме цифрой «1», руководил князь – основатель династии московских князей.
- 2) Цифрой «4» на схеме обозначено направление движения войск под руководством литовского князя Ягайло.
- 3) В результате сражения, обозначенного на схеме, на Руси было окончательно ликвидировано ордынское владычество.
- 4) В сражении, обозначенном на схеме, на стороне русских войск принимали участие войска рязанского князя.
- 5) В период правления князя, руководившего действиями войск, обозначенных на схеме цифрой «1», были возведены белокаменные стены Московского Кремля.
- 6) На схеме обозначена река, по названию которой было дано прозвище московскому князю, руководившему действиями русских войск, обозначенных на схеме цифрой «1».



№ 13. Заполните пропуск в предложении: «Битва, представленная на схеме, состоялась в тысяча триста \_\_\_\_\_ году» (ответ напишите словом или словосочетанием).

№ 14. Напишите название полка, обозначенного на схеме цифрой «1».

№ 15. Назовите командующего русскими войсками в битве, представленной на схеме.

№ 16. Какие суждения, относящиеся к битве, представленной на схеме, являются верными? Выберите три суждения из шести предложенных.

- 1) Готовясь к этой битве, русские войска переправились через реку, обозначенную на схеме цифрой «2».
- 2) По преданию, на эту битву русского князя благословил Сергей Радонежский.
- 3) Цифрой «3» на схеме обозначен стан хана Ахмата.
- 4) Основной удар ордынцы направили на русский полк правой руки и потеснили его к реке Нижний Дубяк.
- 5) После победы в этой битве князь получил в народе прозвание (почётное имя), образованное от названия реки, которая обозначена на схеме цифрой «2».
- 6) После этой битвы Русь никогда не платила дани Золотой Орде.



✕ Места сражений

- - - Изначальная граница территории государства

— Граница государства после расширения

№ 13. Заполните пропуск в предложении: «Обозначенное цифрой «1» на схеме государство достигло наибольших территориальных пределов в первой половине \_\_\_\_\_ века».

№ 14. Напишите название битвы, обозначенной на схеме цифрой «2».

№ 15. Напишите имя князя, при котором государство, обозначенное на схеме, достигло своего наивысшего могущества и расширилось до показанных границ.

№ 16. Какие суждения, относящиеся к исторической ситуации, обозначенной на схеме, являются верными? Выберите три суждения из шести предложенных.

- 1) Государство, обозначенное на карте цифрой «1», было создано в XIII веке балтскими племенами.
- 2) Обозначенное на карте государство в XVI веке заключило унию с королевством, отмеченном цифрой «3».
- 3) На территории обозначенного на схеме государства начала формироваться белорусская и украинская народности.
- 4) В битве, обозначенной на схеме цифрой «2», прославились своей храбростью воины из Тверской земли.
- 5) Под цифрой «3» на карте обозначен Тевтонский орден
- 6) Современником сражения, отмеченного на карте цифрой «2», был Дмитрий Донской.