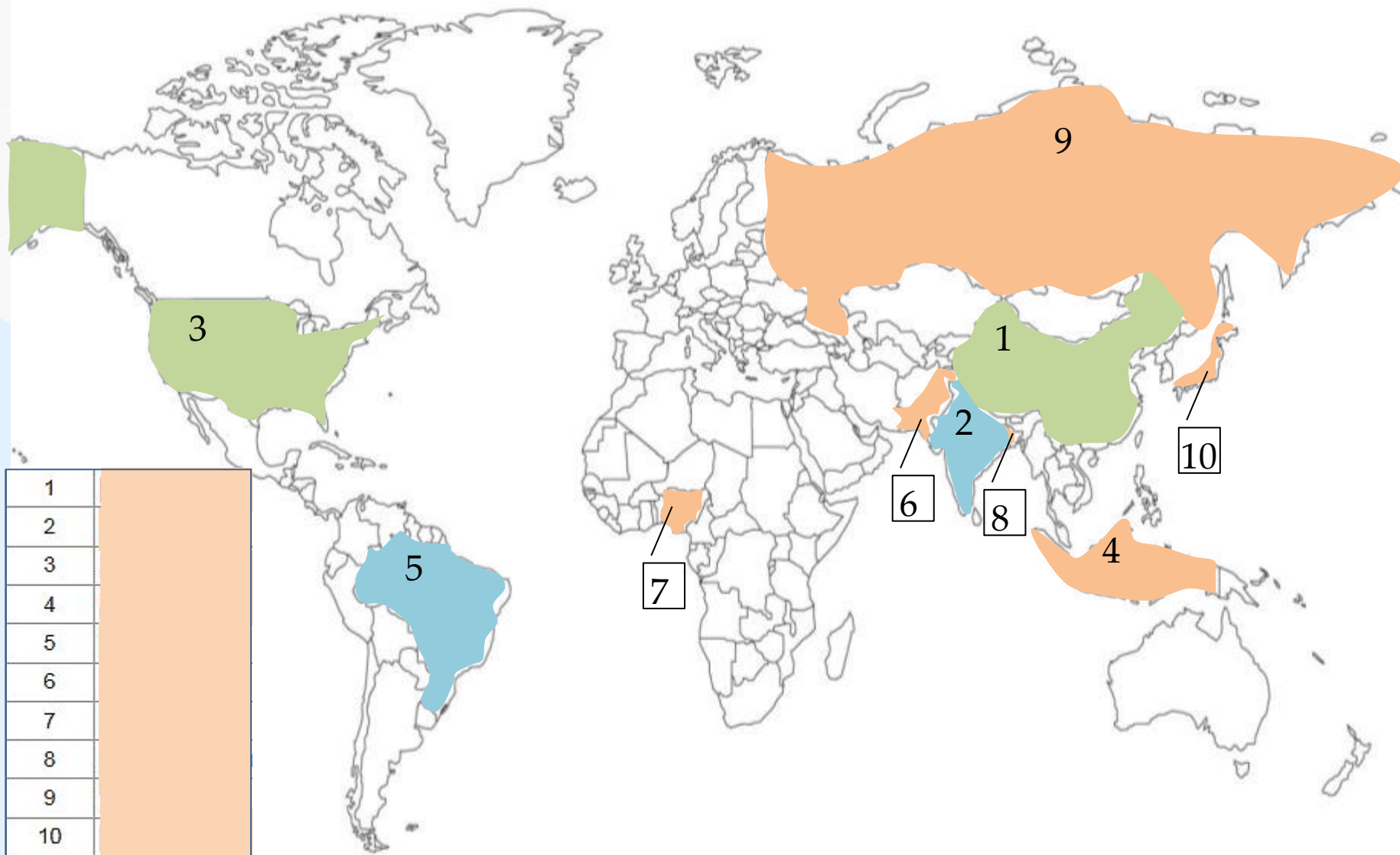




Политическая карта мира (сборник интерактивных заданий)

- 1 Страны - лидеры по площади
- 2 Экономически высоко развитые
- 3 Развивающиеся страны
- 4 Страны с монархической формой правления
- 5 Страны с федеративным территориальным устройством
- 6 Бывшее колониальное устройство
- 7 Международные организации
- 8 Страны-члены ОПЕК
- 9 Тестовые задания
- 10 Итоговые задания



1	
2	
3	
4	
5	
6	
7	
8	
9	
10	

На карте выделены страны-лидеры по

«Большая семерка»

США

Япония

ФРГ

Франция

Великобритания

Италия

Канада

Менее крупные страны Западной Европы

Нидерланды

Норвегия

Бельгия

Испания

Австрия

Финляндия

Швейцария

Внеевропейские страны (переселенческие колонии)

Австралия

ЮАР

Израиль

Новая Зеландия

Великобритания

Австралия

Норвегия

Бельгия

США

ЮАР

Испания

Италия

Швейцария

Новая Зеландия

Франция

Израиль

ФРГ

Япония

Австрия

Нидерланды

Канада

Финляндия

Распределите экономически высоко развитые страны по подгруппам

Ключевые страны

1. Индия – Нью-Дели

2. Бразилия - Бразилиа

3. Мексика - Мехико

4. Китай - Пекин



Распределите развивающиеся страны по подгруппам

Новые индустриальные страны

Нефтеэкспортирующие страны

Республика Корея

Сингапур

Индонезия

Таиланд

Малайзия

Филиппины

Объединенные Арабские
Эмираты ОАЭ

Бруней

Саудовская Аравия

Ливия

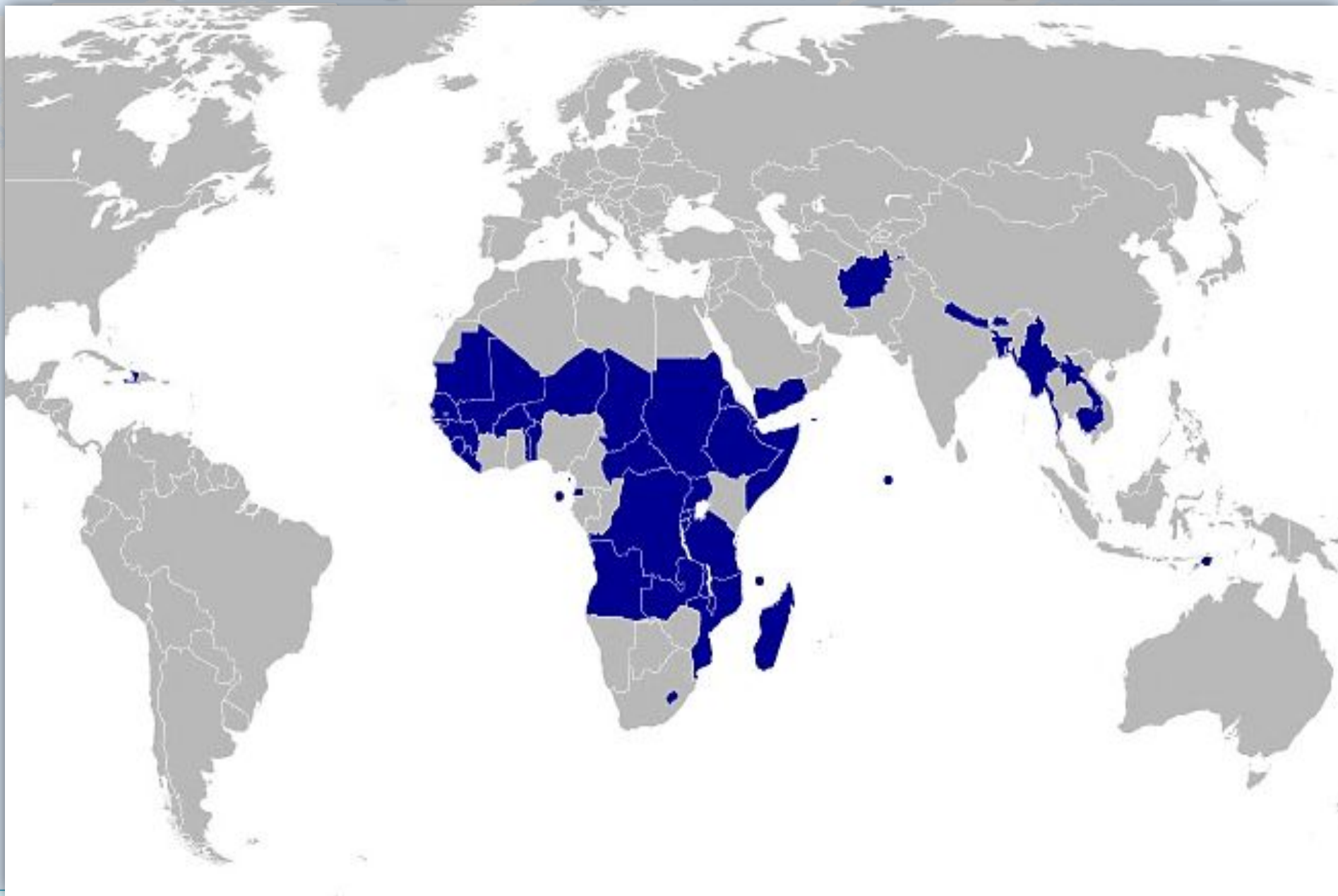
Кувейт

Катар

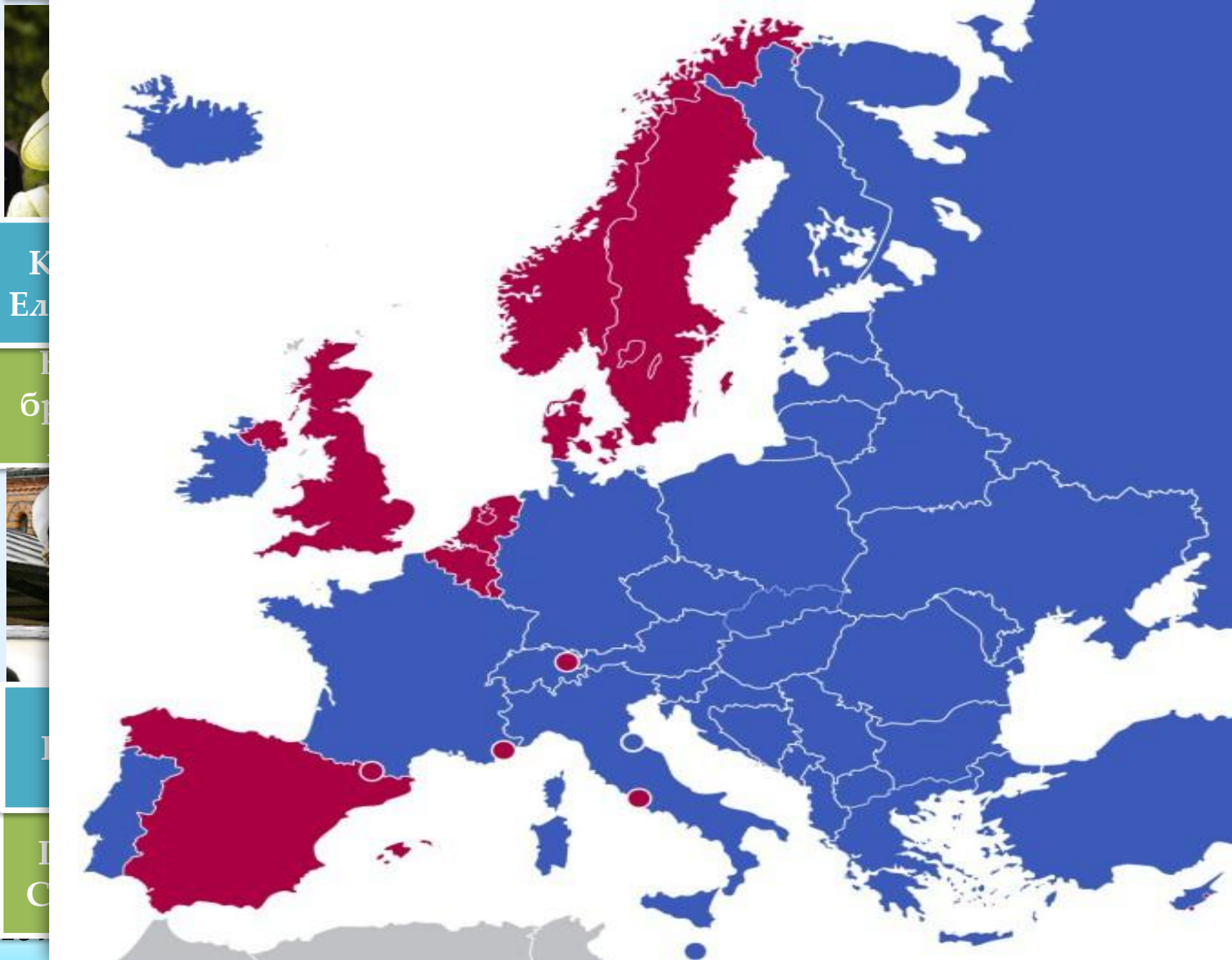


Распределите развивающиеся страны по подгруппам





Определите страны из группы наиболее отсталых государств мира



К
Ел

б

Г

Г
С



V

Я -

И

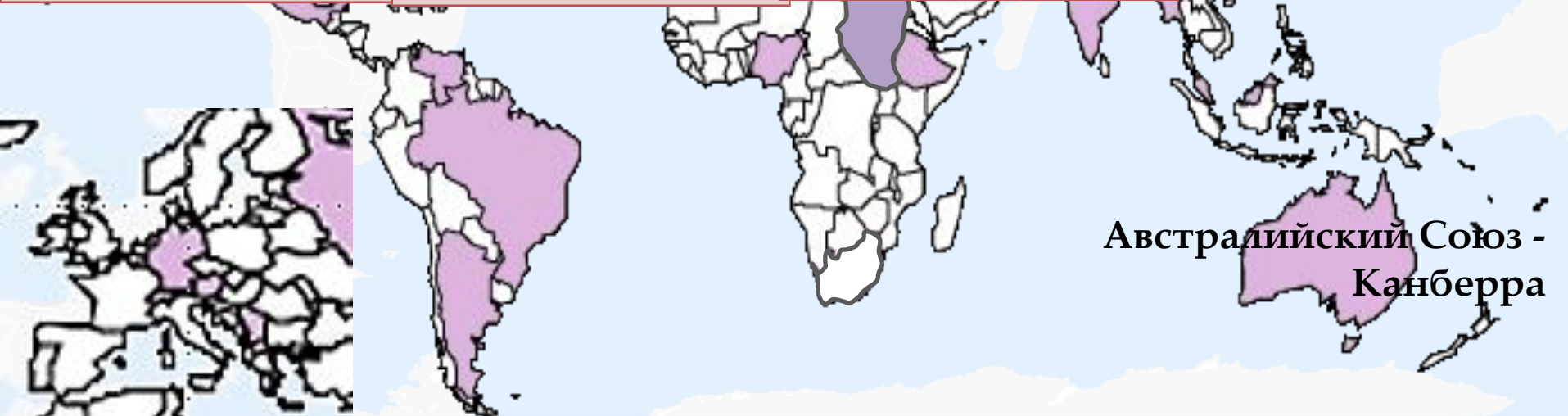


➔ *Марокко-Рабат*

➔ *Свазиленд-Мбабане*
➔ *Лесото -Масеру*

Определите страны Азии и Африки с монархической формой правления

Европа	Азия	Америка	Африка
Австрия - Вена	Индия – Нью-Дели	Америка	Нигерия - Абуджа
Босния и Герцеговина – Сараево	Ирак - Багдад	Аргентина – Буэнос-Айрес	Судан - Хартум
Бельгия – Брюссель	Малайзия – Куала-Лумпур	Бразилия – Бразилиа	Южный Судан - Джуба
Германия - Берлин	Мьянма - Янгон	Венесуэла - Каракас	Эфиопия – Адисс-Абеба
Сербия - Белград	Пакистан - Исламабад	Канада - Оттава	
Швейцария - Берн	ОАЭ – Абу-Даби	Мексика - Мехико	
Россия - Москва	Непал - Катманду	США - Вашингтон	



Австралийский Союз - Канберра

На карте выделены страны

карты

Колонии в Африке

Колонии Франции

Колонии Португалии

Колонии Великобритании

Колонии Испании

Колонии Испании

Определите государство и колонией какой страны оно являлось?



Страны — члены
Европейского союза
- ЕС



ГВ

-

ОБ

ООН

НАТО

СНГ

АСЕАН

ЛАИ

ЕС

1

2

3

4

5

6

7

8

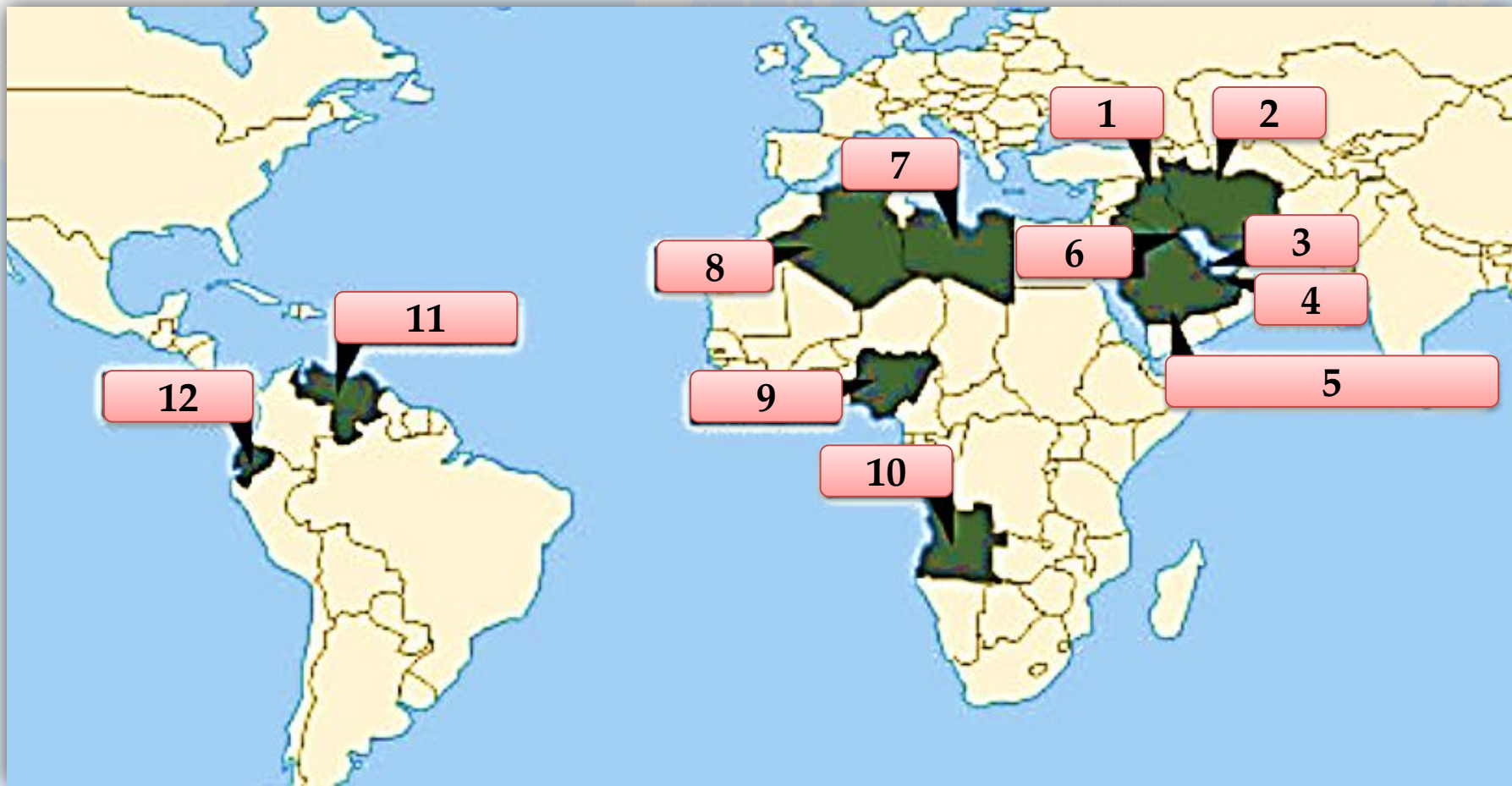
9

10


11

12

С
Т
О
Л
И
Ц
Ы



На карте выделены страны-члены



1

2

3

4

5

6

7

8

9

10

11

12

13

14

15

16

17

18

19

20

21

22

23

24

1	4			6	3			11	1			16	3			21	4		
2	4			7	4			12	2			17	1			22	1		
3	2			8	1			13	2			18	4			23	4		
4	3			9	2			14	3			19	3			24	3		
5	2			10	4			15	3			20	3			25			

10 . Какая страна вышла из состава ОПЕК в 2008 году?

А



Б



В



Г



1. АВГБ
2. БВАГ
3. Б
4. Г
5. В
6. АГД
7. АВЕ
8. БГД
9. Б
10. А

ОТВЕТ

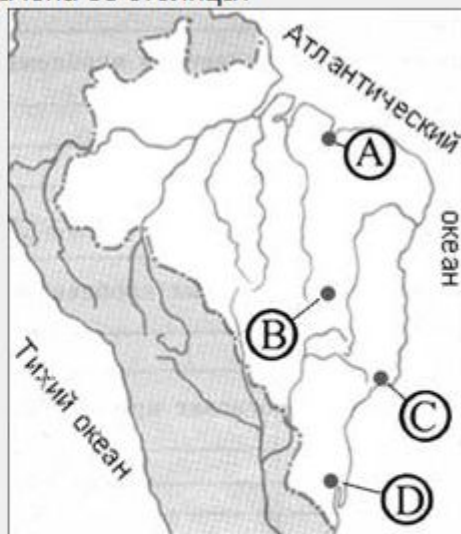
А

Выполните итоговые задания

проверка



Какой буквой на приведённой картосхеме Бразилии обозначена её столица?



- 1) A
- 2) B
- 3) C
- 4) D

ОТВЕТ





Задание №0B2DB4

Наибольшая численность населения – в

- 1) Канаде
- 2) США
- 3) Мексике
- 4) Бразилии

ОТВЕТ

Задание №75A3C1

Наибольшая численность населения в

- 1) США
- 2) Индонезии
- 3) Японии
- 4) Бразилии

ОТВЕТ

Задание №8B1787

Какая из перечисленных стран является крупнейшей по численности населения?

- 1) Великобритания
- 2) Индонезия
- 3) Италия
- 4) Германия

ОТВЕТ



Задание №21F419

Для какой из перечисленных стран характерна структура ВВП, показанная на диаграмме?

Доля отдельных секторов экономики в ВВП

- 1) Пакистан
- 2) Монголия
- 3) Вьетнам
- 4) Норвегия

ОТВЕТ

Задание №2AF5CE

Для какой из перечисленных стран характерна постиндустриальная структура хозяйства?

- 1) Япония
- 2) Эфиопия
- 3) Лаос
- 4) Ангола

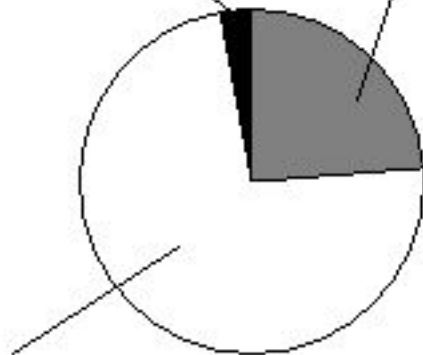
ОТВЕТ

Задание №4E18B9

Для какой из перечисленных стран характерна структура ВВП, показанная на диаграмме?

Доля отдельных секторов экономики в ВВП

сельское хозяйство 3% промышленность 24%



непроизводственная сфера 73%

- 1) Швеция
- 2) Эфиопия
- 3) Сомали
- 4) Непал

ОТВЕТ



Задание №684581

Для какой страны характерна структура ВВП, показанная на диаграмме?

Доля отдельных секторов экономики в ВВП



- 1) Индия
- 2) Лаос
- 3) Нигерия
- 4) Австрия

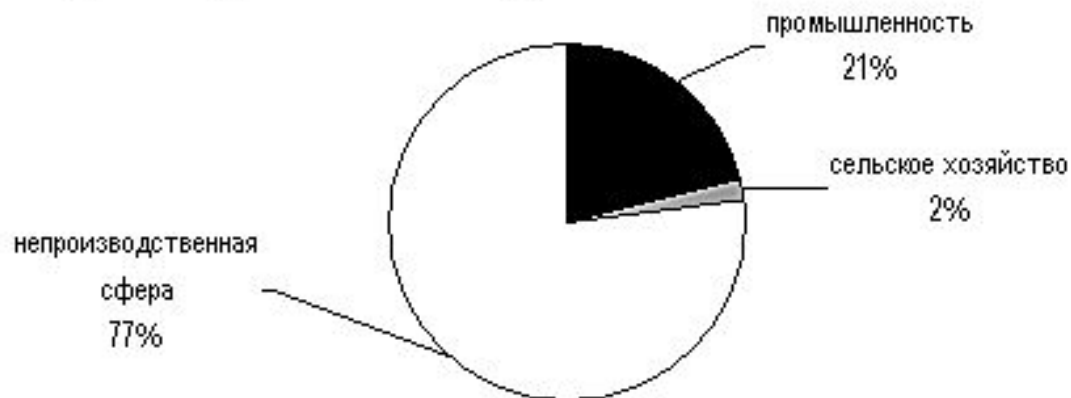
ОТВЕТ



Задание №7A2645

Для какой страны характерна структура ВВП, показанная на диаграмме?

Доля отдельных секторов экономики в ВВП



- 1) Камбоджа
- 2) Танзания
- 3) Индия
- 4) Великобритания

ответ



Задание №2B1777

Для какой из перечисленных стран характерна постиндустриальная структура хозяйства?

- 1) Эфиопия
- 2) Австралия
- 3) Нигерия
- 4) Индонезия

ОТВЕТ

Задание №4CFBFA

Для какой из перечисленных стран характерна структура ВВП, показанная на диаграмме?

Доля отдельных секторов экономики в ВВП



- 1) Эфиопия
- 2) Афганистан
- 3) Италия
- 4) Нигерия

ОТВЕТ



Задание №563356

Определите страну по её краткому описанию.

Обладает выгодным экономико-географическим положением: граничит с высокоразвитой страной, имеет выход к двум океанам; столица – один из самых древних городов Америки; на территории страны сохранились очаги древней цивилизации; имеются крупные запасы руд цветных металлов, велика добыча нефти; достаточно высокий уровень развития экономики позволяет ее характеризовать как «ключевую» в группе развивающихся стран.

Мексика

ответ



Задание №35030D

Установите соответствие между страной и ее столицей.

Запишите в таблицу цифры, соответствующие выбранным ответам.

СТРАНА

- А) Индонезия
- Б) Малайзия
- В) Таиланд

СТОЛИЦА

- 1) Бангкок
- 2) Джакарта
- 3) Куала-Лумпур
- 4) Дакка

ОТВЕТ

А	Б	В
2	3	1



Задание №1F5F58

В какой из перечисленных стран ВВП на душу населения **наименьший**?

- 1) Алжир
- 2) Венесуэла
- 3) Португалия
- 4) Эфиопия

ОТВЕТ

Задание №710F33

В какой из перечисленных стран доля неграмотных в общей численности населения старше 15 лет наибольшая?

- 1) Португалия
- 2) Афганистан
- 3) Аргентина
- 4) Китай

ОТВЕТ

Задание №AEDB39

В какой из перечисленных стран доля детей в возрастной структуре населения наибольшая?

- 1) Франция
- 2) США
- 3) Эфиопия
- 4) Греция

ОТВЕТ



Задание №AEF074

Какая из перечисленных стран по форме правления является конституционной монархией?

- 1) Испания
- 2) Франция
- 3) Саудовская Аравия
- 4) Оман

ОТВЕТ

Задание №4B488A

Монархия как форма правления сохранилось в

- 1) Италии, Пакистане, Египте
- 2) Алжире, Финляндии, Сирии
- 3) Франции, Португалии, Индии
- 4) Испании, Норвегии, Великобритании

ОТВЕТ

Задание №4CE771

Монархиями являются

- 1) Австрия и Греция
- 2) Ирландия и Финляндия
- 3) Италия и Франция
- 4) Испания и Бельгия

ОТВЕТ

Задание №D4333D

Какое из перечисленных государств по форме правления является республикой?

- 1) Швеция
- 2) Монако
- 3) Норвегия
- 4) Финляндия

ОТВЕТ



Задание №73361E

Какая из перечисленных стран является абсолютной монархией?

- 1) Нидерланды
- 2) Норвегия
- 3) Саудовская Аравия
- 4) Япония

ОТВЕТ

Задание №8B3B80

По форме правления монархией в Африке является государство

- 1) Египет
- 2) Марокко
- 3) Нигерия
- 4) Намибия

ОТВЕТ

Задание №F12D02

Выберите из предложенного списка три страны, которые являются конституционными монархиями.

- 1) Испания
- 2) Саудовская Аравия
- 3) Норвегия
- 4) Оман
- 5) Швеция
- 6) Ватикан

ОТВЕТ

Задание №6EE497

Какие три из перечисленных стран по форме правления являются монархиями?

- 1) Великобритания
- 2) Бразилия
- 3) Бруней
- 4) Польша
- 5) Марокко
- 6) Египет

ОТВЕТ



Задание №30FEE8

Какое из перечисленных государств по форме правления является монархией?

- 1) Португалия
- 2) Италия
- 3) Австрия
- 4) Япония

ответ

Задание №C31E6B

Определите страну по ее краткому описанию.

Это африканское государство, бывшее в прошлом колонией Франции и Испании, сейчас является конституционной монархией. Страна типично однонациональная – 99% ее населения составляют арабы. На ее территории находится крупное месторождение фосфоритов, которые экспортируются.

Марокко

ответ

Задание №C529FU

Определите страну по её краткому описанию.

ответ

Эта азиатская страна по форме правления является конституционной монархией. Территория страны омывается водами морей Индийского и Тихого океанов. Рельеф территории гористый. Климатические условия позволяют собирать урожай основных сельскохозяйственных культур несколько раз в год. Более 40% экономически активного населения занято в сельском хозяйстве. Страна является одним из крупных производителей и экспортёров риса. Религией большинства верующих является буддизм. В этой стране активно развивается международный туризм.

Малайзия



Задание №2E6C52

Какое из перечисленных государств по типу административно-территориального устройства является федерацией?

- 1) Китай
- 2) США
- 3) Франция
- 4) Япония

ОТВЕТ

Задание №B86BCD

Унитарной республикой является

- 1) Италия
- 2) Россия
- 3) Швейцария
- 4) Канада

ОТВЕТ

Задание №EBC044

Какая из перечисленных стран по форме административно-территориального устройства является унитарным государством?

- 1) Германия
- 2) Франция
- 3) Бельгия
- 4) Швейцария

ОТВЕТ

Задание №E4559B

Выберите из предложенного списка три страны с федеративной формой административно-территориального устройства.

- 1) Франция
- 2) Бразилия
- 3) Италия
- 4) США
- 5) Испания
- 6) Бельгия

ОТВЕТ



Задание №2590F2

Венесуэл

Определите страну по ее краткому описанию.

Эта латиноамериканская страна была в прошлом испанской колонией. На ее территории находится крупнейшее озеро материка и высочайший в мире водопад. Богатые недра, обширные леса, полноводные реки создают хорошие предпосылки для развития ее экономики, основой которой является нефтяная промышленность.

а
ОТВЕТ

Задание №2AC819

Кипр

Определите страну по её краткому описанию.

Это островное государство расположено в восточной части моря, омывающего побережье трех частей света. В прошлом эта страна являлась британской колонией. Она входит в первую десятку стран мира по размерам торгового флота. Одна из главных статей экспорта страны – цитрусовые. Здесь активно действуют международные банки. Страна привлекает большое количество туристов.

ОТВЕТ

Задание №4A79A3

Аргентин

Определите страну по ее краткому описанию.

Это вторая по размерам территории страна на материке. В течение трех веков оставалась испанской колонией. Ее природа богата и разнообразна. Страна расположена в трех климатических поясах. Основное богатство – плодородные почвы, которые в сочетании с мягким климатом на большей части территории страны способствовали развитию здесь зернового хозяйства и мясного скотоводства. Столица – крупный морской порт и главный промышленный центр страны.

а
ОТВЕТ



Задание №С31Е6В

Марокко

Определите страну по ее краткому описанию.

Это африканское государство, бывшее в прошлом колонией Франции и Испании, сейчас является конституционной монархией. Страна типично однонациональная – 99% ее населения составляют арабы. На ее территории находится крупное месторождение фосфоритов, которые экспортируются.

ответ

Задание №F7163A

Венесуэл

Определите страну по ее краткому описанию.

Эта страна относится к числу развивающихся. В прошлом эта республика была колонией Испании. Особенностью её ЭГП является положение на важных морских и воздушных путях, связывающих страны Южной Америки с США, Мексикой и другими странами Карибского бассейна. Она обладает разнообразными полезными ископаемыми: запасами нефти, газа, руд черных и цветных металлов; является членом ОПЕК.

ответ



Задание №D1C5C0

Швейцария

ОТВЕТ

Определите страну по ее краткому описанию.

Небольшое государство в сердце Европы, не входящее в состав Европейского Союза, обладает значительным экономическим потенциалом, несмотря на отсутствие полезных ископаемых и ограниченность сельхозугодий (80% территории занимают горы). Многонациональное население характеризуется высоким уровнем жизни. Столица - не самый крупный город в стране. В этой стране находится европейская штаб-квартира Организации Объединенных Наций, членом которой она является с недавних пор (2002 г.)

Задание №701173

Мексика

ОТВЕТ

Определите страну по ее краткому описанию.

Эта развивающаяся страна по типу административно-территориального устройства является федерацией. Она входит в состав двух региональных интеграционных группировок: НАФТА и ЛАИ. Примерно 75% населения страны – городские жители. Вокруг её столицы сформировалась одна из крупнейших агломераций мира. В экономике страны значительное место занимает туризм.



Задание №A947F8

Определите страну по её краткому описанию.

Швейцар

[ответ](#)

Это европейское государство отличается многонациональным составом населения. Оно входит в число наиболее экономически развитых стран мира. Ведущие отрасли промышленности: машиностроение (производство электротехники, точных приборов и часов), химическая, фармацевтическая (продукция которой составляет 1/3 экспорта страны) и пищевая промышленность. Лишь 1/3 территории страны пригодна для сельскохозяйственного использования. Страна не является членом таких международных организаций, как ЕС и НАТО.

ия

Задание №16BC41

Определите страну по её краткому описанию.

Индонези

[ответ](#)

Эта страна-архипелаг относится к числу развивающихся стран, по форме правления является республикой. Она входит в первую десятку стран мира по численности населения, обладает разнообразными природными ресурсами и имеет многоотраслевую экономику. Страна является одним из лидеров региональной интеграционной группировки стран – АСЕАН.

я



Задание №05CE0C

Определите страну по её краткому описанию.

Нигерия

[ответ](#)

Эта развивающаяся страна имеет наибольшую численность населения на континенте, в западной части которого она расположена. Её столица не самый крупный по числу жителей город страны. Доля городского населения составляет около 50%. Основное природное богатство – нефть. Страна является членом ОПЕК.

Задание №82AA84

Определите страну по её краткому описанию.

Египет

[ответ](#)

Эта африканская страна арабского мира относится к числу крупных в своем регионе. Она расположена в области пустынного климата, но имеет развитое сельское хозяйство. Хлопок – важная статья её экспорта. Она обладает разнообразными минеральными ресурсами, включая нефть, но не является членом ОПЕК. Разнообразные рекреационные ресурсы, уникальные памятники древней цивилизации и тёплое море сделали её популярной у туристов всего мира.

Задание №8EA157

Определите страну по её краткому описанию.

Алжир

[ответ](#)

Территория этой африканской страны пересекается нулевым меридианом. Северная прибрежная часть страны, где проживает более 95% всего населения, расположена в субтропическом поясе, остальная – в тропическом. Запасы нефти и природного газа составляют её основное богатство. Страна входит в состав ОПЕК.



Ресурсы

[http://www.clipartheaven.com/clipart/education & schools/classroom & activities/globe & maps.gif](http://www.clipartheaven.com/clipart/education_&_schools/classroom_&_activities/globe_&_maps.gif) - клипарт

http://wiki.alternatehistory.com/lib/exe/fetch.php/blank_map_directory/newworldmap.png - карта фона

http://free.bridal-shower-themes.com/img/b/l/blank-map-of-the-world-printable_1.jpg - контурная карта

http://ic.pics.livejournal.com/noliquid/15884531/27613/27613_original.png - контурная карта РФ

<http://opengia.ru/subjects/geography-11/topics/1> - открытый банк заданий ФИПИ

[http://upload.wikimedia.org/wikipedia/commons/thumb/2/26/Least Developed Countries map.svg/940px-Least Developed Countries map.svg.png](http://upload.wikimedia.org/wikipedia/commons/thumb/2/26/Least_Developed_Countries_map.svg/940px-Least_Developed_Countries_map.svg.png) - карта отсталых стран

http://i.enc-dic.com/dic/colier/images/lm_bangl.jpg - карта Бангладеш

[http://upload.wikimedia.org/wikipedia/commons/thumb/f/fe/Haiti %28orthographic projection%29.svg/550px-Haiti %28orthographic projection%29.svg.png](http://upload.wikimedia.org/wikipedia/commons/thumb/f/fe/Haiti_%28orthographic_projection%29.svg/550px-Haiti_%28orthographic_projection%29.svg.png) – карта Гаити

http://dic.academic.ru/pictures/enc_colier/lm_ethio.jpg - карта Эфиопии

[http://ru.wikipedia.org/wiki/%D1%EE%EC%E0%EB%E8#mediaviewer/%D0%A4%D0%B0%D0%B9%D0%BB:Somalia \(orthographic projection\).svg](http://ru.wikipedia.org/wiki/%D1%EE%EC%E0%EB%E8#mediaviewer/%D0%A4%D0%B0%D0%B9%D0%BB:Somalia_(orthographic_projection).svg) – карта Сомали

http://tur-atlas.com/uploads/posts/2009-06/thumbs/1243847990_12.jpg - карта Афганистана

http://ostranah.ru/media/maps/oman_map.gif - карта Йемена

[http://upload.wikimedia.org/wikipedia/commons/thumb/8/88/Niger %28orthographic projection%29.svg/550px-Niger %28orthographic projection%29.svg.png](http://upload.wikimedia.org/wikipedia/commons/thumb/8/88/Niger_%28orthographic_projection%29.svg/550px-Niger_%28orthographic_projection%29.svg.png) – карта Нигера

[http://upload.wikimedia.org/wikipedia/commons/thumb/8/8b/Mali %28orthographic projection%29.svg/550px-Mali %28orthographic projection%29.svg.png](http://upload.wikimedia.org/wikipedia/commons/thumb/8/8b/Mali_%28orthographic_projection%29.svg/550px-Mali_%28orthographic_projection%29.svg.png) – карта Мали

[http://upload.wikimedia.org/wikipedia/commons/thumb/4/46/Chad %28orthographic projection%29.svg/550px-Chad %28orthographic projection%29.svg.png](http://upload.wikimedia.org/wikipedia/commons/thumb/4/46/Chad_%28orthographic_projection%29.svg/550px-Chad_%28orthographic_projection%29.svg.png) – карта Чад

[http://upload.wikimedia.org/wikipedia/commons/thumb/d/d4/Nepal %28orthographic projection%29.svg/541px-Nepal %28orthographic projection%29.svg.png](http://upload.wikimedia.org/wikipedia/commons/thumb/d/d4/Nepal_%28orthographic_projection%29.svg/541px-Nepal_%28orthographic_projection%29.svg.png) – карта Непала

[http://upload.wikimedia.org/wikipedia/commons/thumb/8/84/Mozambique %28orthographic projection%29.svg/550px-Mozambique %28orthographic projection%29.svg.png](http://upload.wikimedia.org/wikipedia/commons/thumb/8/84/Mozambique_%28orthographic_projection%29.svg/550px-Mozambique_%28orthographic_projection%29.svg.png) – карта Мозамбик

Ресурсы

http://upload.wikimedia.org/wikipedia/commons/thumb/5/5f/Elizabeth_II_greets_NASA_GSFC_employees%2C_May_8%2C_2007_edit.jpg/253px-Elizabeth_II_greets_NASA_GSFC_employees%2C_May_8%2C_2007_edit.jpg - Елизавета II

http://upload.wikimedia.org/wikipedia/commons/thumb/3/3d/Willem-Alexander_%28Royal_Wedding_in_Stockholm%2C_2010%29_cropped.jpg/240px-Willem-Alexander_%28Royal_Wedding_in_Stockholm%2C_2010%29_cropped.jpg – Виллем-Александр

http://upload.wikimedia.org/wikipedia/commons/thumb/e/e5/Drottning_Margrethe_av_Danmark.jpg/233px-Drottning_Margrethe_av_Danmark.jpg - Маргрете II

http://upload.wikimedia.org/wikipedia/commons/thumb/7/7b/Prince_Philippe_of_Belgium%2C_Duke_of_Brabant_cropped.jpg/263px-Prince_Philippe_of_Belgium%2C_Duke_of_Brabant_cropped.jpg – Филипп

http://upload.wikimedia.org/wikipedia/commons/thumb/d/d1/Harald_V_of_Norway_in_Slovenia_in_2011_%28crop%29.jpg/266px-Harald_V_of_Norway_in_Slovenia_in_2011_%28crop%29.jpg – Харальд V

http://upload.wikimedia.org/wikipedia/commons/thumb/f/f9/Carl_XVI_Gustaf.jpg/280px-Carl_XVI_Gustaf.jpg - Карл XVI Густав

http://upload.wikimedia.org/wikipedia/commons/thumb/4/49/Felipe_VI%2C_King_of_Spain.jpg/275px-Felipe_VI%2C_King_of_Spain.jpg - Филипп VI

http://upload.wikimedia.org/wikipedia/commons/thumb/f/fd/Henri_of_Luxembourg_%282009%29.jpg/233px-Henri_of_Luxembourg_%282009%29.jpg – Анри (Генрих)

http://upload.wikimedia.org/wikipedia/commons/thumb/f/f5/F%C3%BCrst_Hans-Adam_II._von_und_zu_Liechtenstein.jpg/262px-F%C3%BCrst_Hans-Adam_II._von_und_zu_Liechtenstein.jpg - Ханс-Адам II

http://upload.wikimedia.org/wikipedia/commons/thumb/5/5a/Albert_II%2C_Prince_of_Monaco.jpg/300px-Albert_II%2C_Prince_of_Monaco.jpg - Альбер II

http://www.afromberg.narod.ru/exam_10/federation_1.gif - карта федераций

<http://mapinmap.ru/wp-content/uploads/2014/03/image37-652x660.jpg> - карта монархий Европы

http://upload.wikimedia.org/wikipedia/commons/e/e6/Monarchies_of_the_world.PNG - карта монархий

Ресурсы

<http://900igr.net/datai/geografija/Narod-Afriki/0025-050-Kolonialnoe-proshloe.jpg> - карта колоний Африки

http://knowhistory.ru/uploads/posts/2013-11/1384139034_vladiya_evropi_1910.jpg - карта колоний

<http://sputnikpogrom.com/wp-content/uploads/2014/01/france.png> - колонии Франции

http://upload.wikimedia.org/wikipedia/commons/thumb/7/7e/Portugal_Imp%C3%A9rio_total.png/520px-Portugal_Imp%C3%A9rio_total.png – колонии Португалии

<http://img21.imageshack.us/img21/5945/britishempire.jpg> - колонии Британии

[http://upload.wikimedia.org/wikipedia/commons/thumb/a/a2/Spanish_speakers_in_the_Americas_\(orthographic_projection\).svg/550px-Spanish_speakers_in_the_Americas_\(orthographic_projection\).svg.png](http://upload.wikimedia.org/wikipedia/commons/thumb/a/a2/Spanish_speakers_in_the_Americas_(orthographic_projection).svg/550px-Spanish_speakers_in_the_Americas_(orthographic_projection).svg.png) – колонии

Испании

<http://30yroldfreshman.files.wordpress.com/2010/08/question.jpg?w=500> – клипарт вопросительный знак

<http://www.vse-strani-mira.ru/images/stories/picture/brazi.jpg> - карта Бразилии

http://aksakal.info/uploads/posts/2012-08/1344464041_74.jpg - карта Алжира

http://dic.academic.ru/pictures/enc_colier/lm_egypt.jpg - карта Египта

http://dic.academic.ru/pictures/enc_colier/lm_india.jpg - карта Индии

http://dic.academic.ru/pictures/enc_colier/lm_argen.jpg - карта Аргентины

http://historic-cities.ru/UserFiles/Image/82473/lm_nigri.gif - карта Нигерии

http://historic-cities.ru/UserFiles/Image/82464/lm_mozam.gif - карта Мозамбик

http://dic.academic.ru/pictures/enc_colier/lm_vietn.jpg - карта Вьетнама

<http://school.xvatit.com/images/2/28/%D0%9B%D0%B0%D1%82%D0%B0%D0%BC%D0%B5%D1%80%D0%B8%D0%BA1.jpg> – карта Парагвая

http://dic.academic.ru/pictures/enc_colier/lm_angol.jpg - карта Анголы

http://dic.academic.ru/pictures/enc_colier/lm_chad.jpg - карта Чада

http://www.panasia.ru/pics/pic_2005527_18mn55s15mls928.jpg - карта Кубы

http://upload.wikimedia.org/wikipedia/commons/thumb/5/56/NATO_affiliations_in_Europe.svg/897px-NATO_affiliations_in_Europe.svg.png - карта стран НАТО

<http://www.cvm.qc.ca/pitlamon/images/ASEAN-carte2010.jpg> - карта АСЕАН

<http://cdn4.img22.ria.ru/images/57869/05/578690595.jpg> - карта ОПЕК

Ресурсы

<http://topmira.com/goroda-strany/item/39-samye-bolshie-strany-mira> - карты Китая, Канады, Казахстана, Бразилии

<http://www.freeclipartnow.com/d/20963-1/Africa-large.jpg> - Африка

http://xn--gerstplane-ceb.com/cms/images/sonstige/1350327355_hZLxLThe8C_kl.jpg - Европа

<http://www.clker.com/cliparts/M/9/Y/u/6/P/southeast-asia-hi.png> - Азия

<http://www.clker.com/cliparts/C/C/d/6/O/q/grey-americas-hi.png> - Америка