

Вычитание из чисел 8 и 9. Состав чисел 8,9.

Урок № 79

УСТНЫЙ СЧЁТ

$$2 + 2 =$$

$$6 - 4 =$$





**Если из целого вычесть часть,
то получится другая часть.**

Заполни таблицу.



слагаемое	5			2	6
слагаемое		3	5		3
сумма	7	9	8	6	

Лене 9 лет, а сестре 2 года. На сколько лет Лена старше сестры?



на 7 лет старше

$$9 - 2 = 7$$



После того как Коля съел 3 конфеты, у него осталось 5. Сколько конфет было у Коли?



$$3 + 5 = 8$$

8



НОВЫЙ МАТЕРИАЛ





	1	2	3	4	5	6	7	8
8	7	6	5	4	3	2	1	0



	1	2	3	4	5	6	7	8
9	8	7	6	5	4	3	2	1

Вставь пропущенные числа.



$$\begin{array}{r} 9 - \boxed{} = 5 \\ 9 - \boxed{} = 7 \\ 8 - \boxed{} = 4 \\ 8 - \boxed{} = 6 \end{array}$$



$$9 - 2 - 3 + 1 =$$

5

$$8 - 4 - 3 + 5 =$$

6



$$9 - 4 - 2 + 0 =$$

3

$$8 - 3 + 2 + 1 =$$

8

РАБОТА ПО УЧЕБНИКУ



Будем учиться вычитать различные числа из чисел 8 и 9.

8	
7	1
6	2
3	5
4	4

$8 - 7 = 1$

$8 - 6 = \square$

$8 - 5 = \square$

$8 - 4 = \square$

9	
8	1
7	2
	6
4	

$9 - 8 = \square$

$9 - 7 = \square$

$9 - 6 = \square$

$9 - 5 = \square$

1. $9 - 6$
 $8 - 5$

$6 - 4$
 $7 - 3$

$8 - 6$
 $9 - 8$

$10 - 3 + 2$
 $10 - 4 + 3$

2.

Уменьши на 4:						
6	8	5	7	10	9	4

Увеличь на 2:				
7	5	8	6	0

3.

1) В одной книге 6 сказок, а в другой — на 2 сказки меньше. Сколько ... ?

2) В одной книге 6 сказок, а в другой — 4 сказки. Сколько всего сказок в этих двух книгах?

4. 1) У Васи было



Он купил 3 тетради.
Сколько тетрадей ста-
ло у Васи?

2) У Ани было



Она подарила 2 мат-
рёшки. Сколько матрё-
шек осталось у Ани?

5. Начерти любой четырёхугольник и проведи
в нём 2 отрезка так, чтобы получилось
8 треугольников.



▶ $8 - 5 = \square$

$8 - 2 = \square$

$9 - 3 = \square$

$9 - \square = 1$

РАБОТА В ТЕТРАДИ



$8 - \square$














$9 - \square$

- 1 У школы растут 5 лип и 4 берёзы. Сколько всего ... ?

Answer:

На сколько больше ... , чем ... ?

Answer:

2  **8** |      
     

3

$7 -$	$= 2$	$9 -$	$= 3$	$10 -$	$= 8$
$8 -$	$= 6$	$7 -$	$= 4$	$10 -$	$= 1$

- 1** На пруду плавали 4 утки и 8 гусей. На берег вышли 3 утки и столько же гусей. Сколько уток и сколько гусей осталось в воде?

Answer: *Ответ:*

Answer: *Ответ:*

2

$3 + 7 =$	$1 + 8 =$	$10 - 3 =$
$2 + 6 =$	$9 - 5 =$	$10 - 6 =$

3

$5 - 4 = 1$	$8 - 5 = 3$
-------------	-------------

±

$6 - 3 = 1$	$2 - 7 = 3$	$2 - 2 = 0$
-------------	-------------	-------------



конец