




Географические координаты



Содержание:

1. Ответы теста

5. Географическая долгота

2. Первое послание

6. Географические координаты

3. Географическая широта

7. Домашнее задание

4. Второе послание

8. Проверка задания

9. Задание для закрепления



ОТВЕТЫ:

1 вариант:

1. А
2. Б
3. В
4. Б
5. В

2 вариант:

1. А
2. Б
3. А
4. Б
5. В

3 вариант:

1. Б
2. А
3. А
4. А
5. В

4 вариант:


1. В
2. Б
3. Б
4. В
5. Б




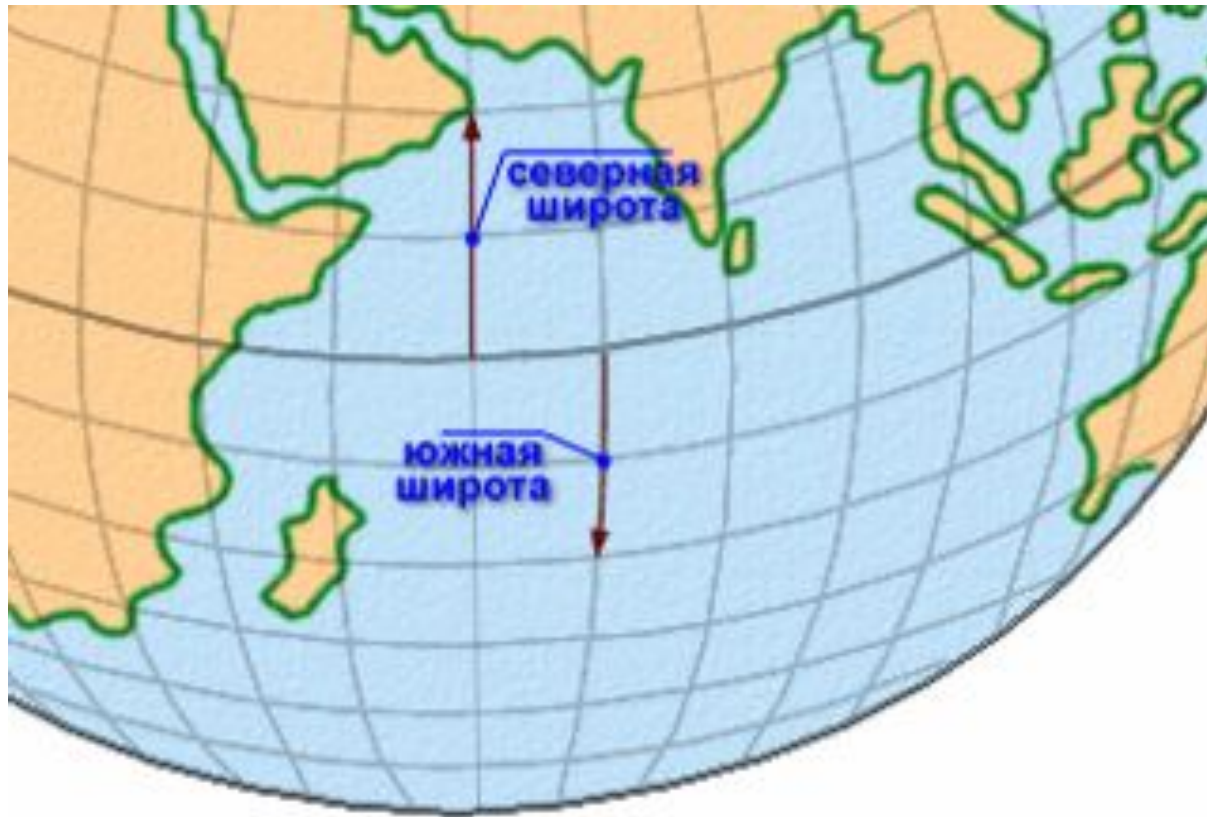


SOS!!!

Тому, кому попадет это послание...Экипаж шхуны «Вечерняя звезда» потерпел крушение в Тихом океане. Капитану и двум матросам удалось спастись на острове...Ищите: 27 градусов южной широты.....





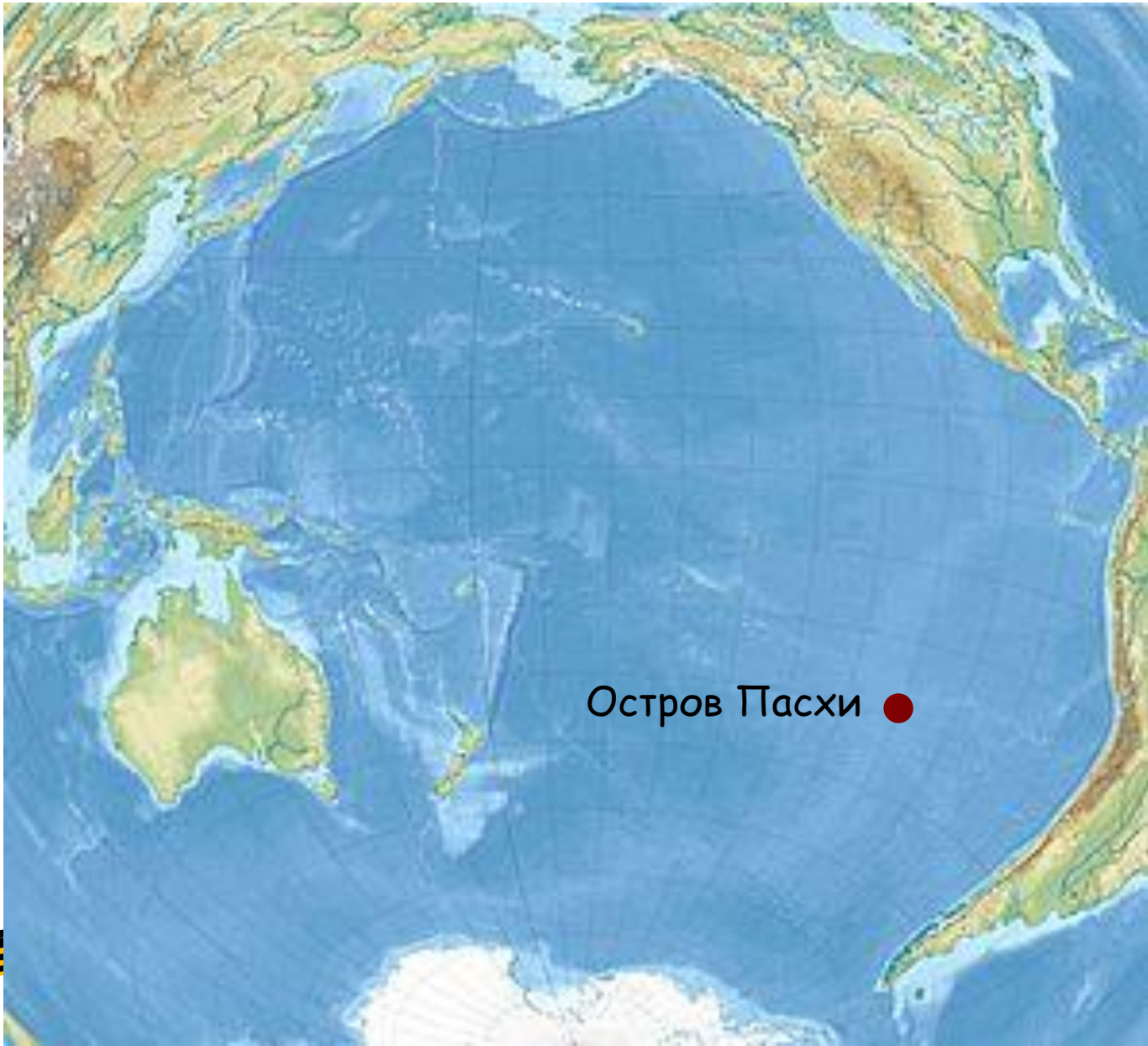
Географическая широта



SOS!!!

Тому, кому попадет это послание. ...Экипаж шхуны «Вечерняя звезда» потерпел крушение в Тихом океане. Капитану и двум матросам удалось спастись...Ищите:.....109 градуса западной долготы...






Остров Пасхи ●





**Географические
координаты** - это числа, с
помощью которых указывают
местоположение объекта на
Земле и карте




32 ° с.ш. 15 ° в.д. -
Триполи



30 ° с.ш. 32 ° в.д.

- Каир




14 ° с.ш. 34 ° в.д. --

Хартум



Задание:

1. Возьмите карточку с заданием
2. Внимательно прочитайте текст задание
3. Найдите указанные объекты
4. Нанесите их на контурную карту
5. Соедините одной линией, чтобы получился маршрут



РЕФЛЕКСИЯ

НА УРОКЕ

- Я узнал...
- Я научился...
- Мне понравилось...
- Я затруднялся...
- Моё настроение...



Домашнее задание:

- 1) Параграф 13, пункт 3.
- 2) Придумать свой маршрут путешествия, отметив его на контурной карте, при этом отметить не менее 5 городов, через которые он проходит, их названия и координаты.

