

# ГИА - 2012

**Открытый банк заданий  
по математике.**

## **Задача №2**

**Каратанова Марина Николаевна  
МОУ СОШ №256 городского округа ЗАТО  
г.Фокино Приморского края**

**Задание 2  
(№  
206053)**

На диаграмме показано распределение питательных веществ в **МОЛОЧНОМ шоколаде**.

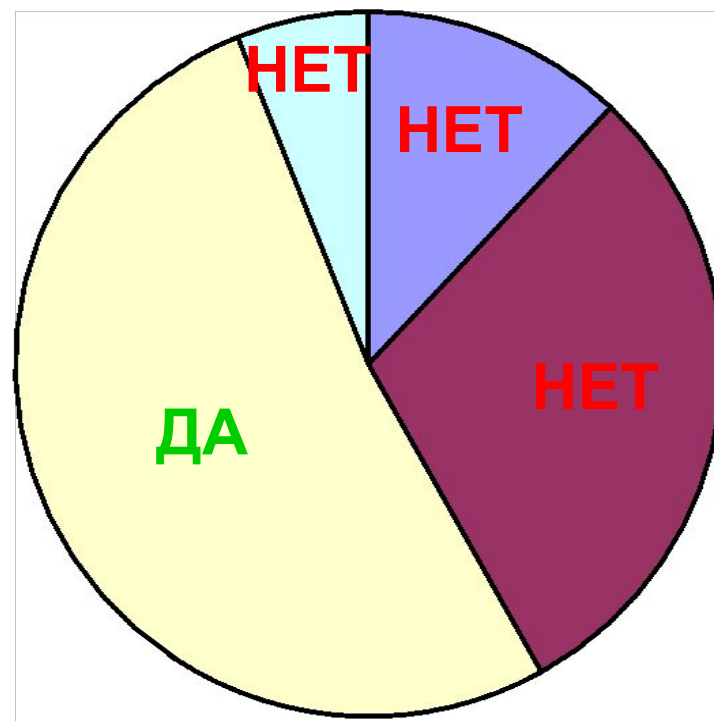
Определите по диаграмме, содержание каких веществ преобладает.

**Белки**

**Жиры**

**Углеводы**

**Прочее**



К прочему относятся вода, витамины и минеральные вещества.

**Задание 2  
(№  
206055)**

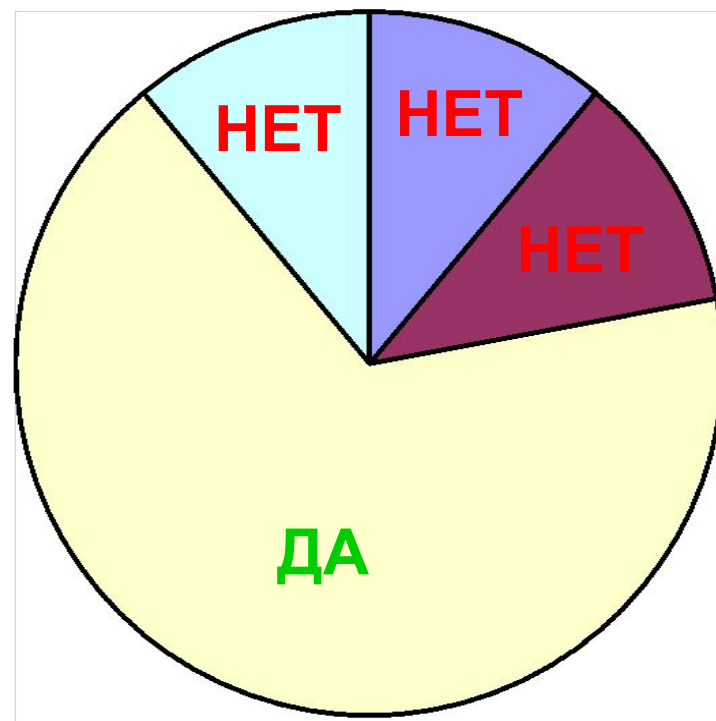
На диаграмме показано распределение питательных веществ в **сливочных сухарях**.  
Определите по диаграмме, содержание каких веществ преобладает.

**Белки**

**Жиры**

**Углеводы**

**Прочее**



К прочему относятся вода, витамины и минеральные вещества.

**Задание 2  
(№  
206057)**

На диаграмме показано распределение питательных веществ в **творожных сырках**.  
Определите по диаграмме, содержание каких веществ преобладает.

**Белки**

**Жиры**

**Углеводы**

**Прочее**

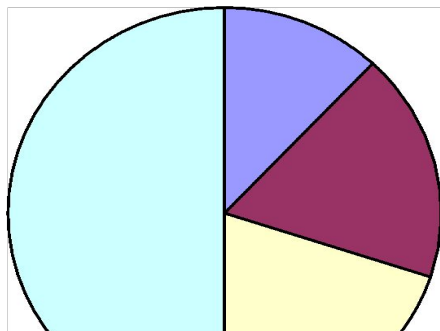


К прочему относятся вода, витамины и минеральные вещества.

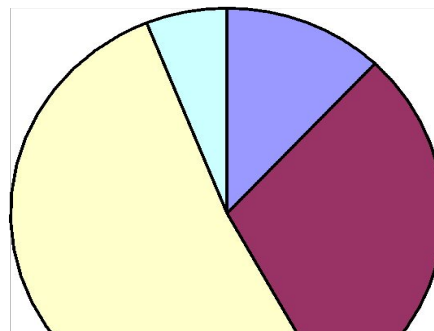
**Задание 2  
(№  
206119)**

На диаграмме показано распределение питательных веществ в некоторых продуктах. Определите по диаграмме, в каком продукте содержание жиров наибольшее.

**Сырки**

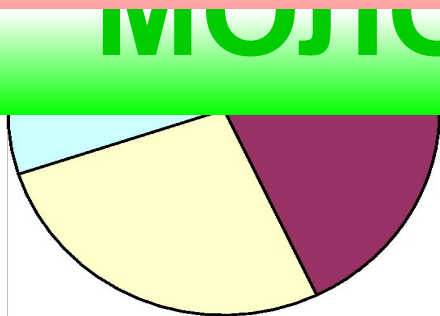


**Шоколад**

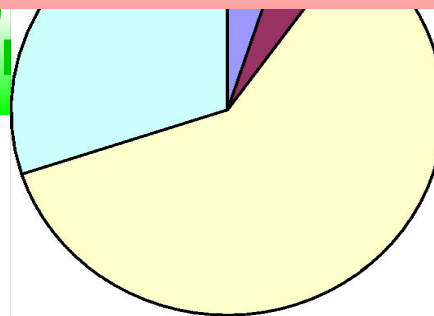


**Подумай!**

**Какао**



**Сгущёнка**



 - углеводы

 - жиры

 - белки

 - прочее

**Задание 2  
(№  
206177)**


На диаграмме показано распределение питательных веществ в **твороге**.  
Определите по диаграмме, в каких пределах находится содержание **жиров**.

5 – 15%

15 – 25%

25 – 35%

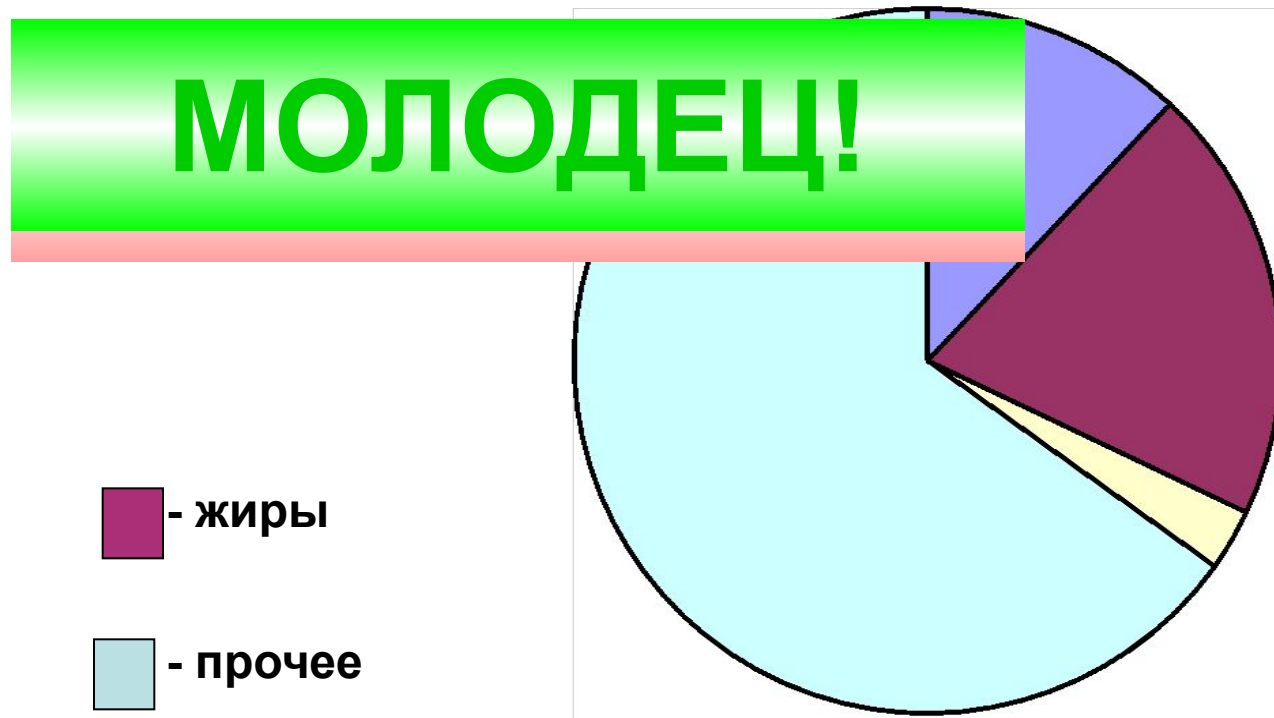
35 – 45%

 - белки

 - жиры

 - углеводы

 - прочее



К прочему относятся вода, витамины и минеральные вещества.

**Задание 2  
(№  
206061)**

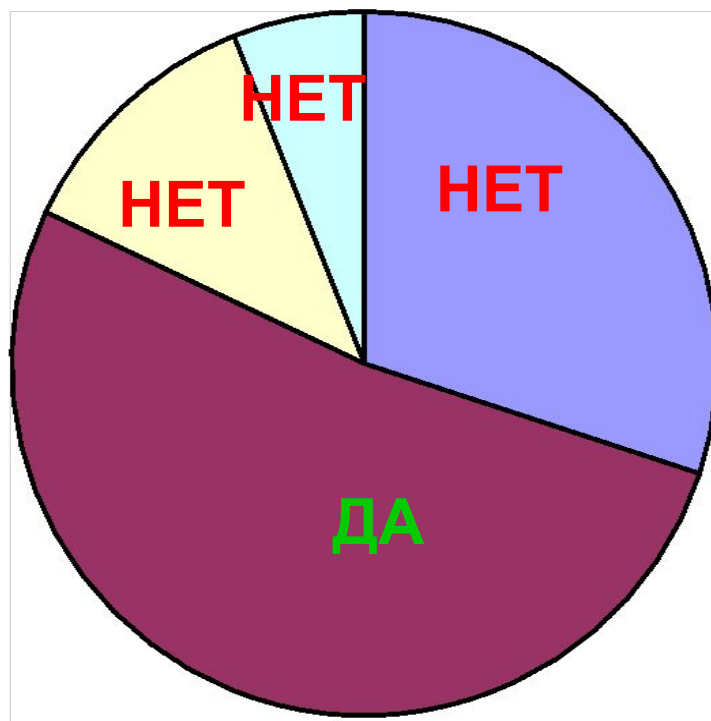
На диаграмме показан возрастной состав населения **Индонезии**.  
Определите по диаграмме, население какого возраста преобладает.

**0 – 14 лет**

**15 – 50 лет**

**50 – 64 года**

**65 лет и более**



**Задание 2  
(№  
206063)**

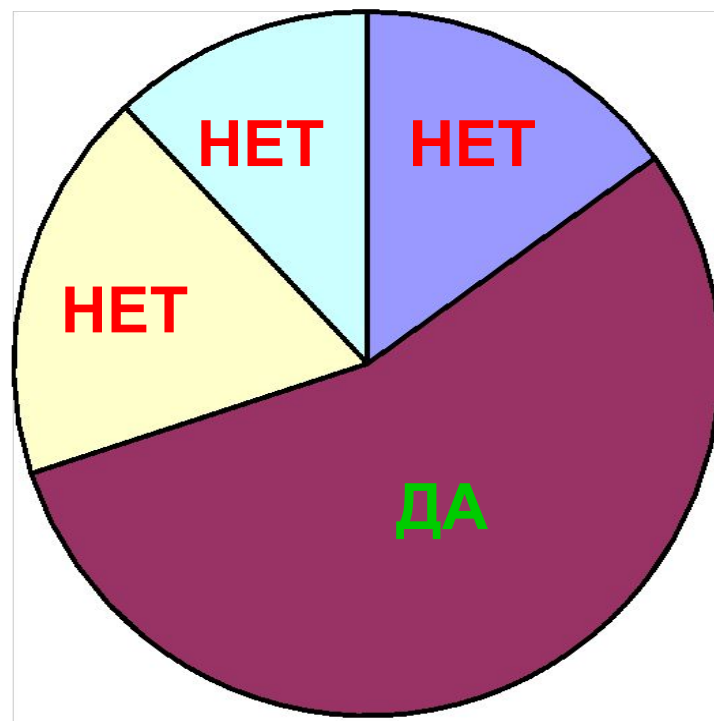
На диаграмме показан возрастной состав населения **России**.  
Определите по диаграмме, население какого возраста преобладает.

**0 – 14 лет**

**15 – 50 лет**

**50 – 64 года**

**65 лет и более**

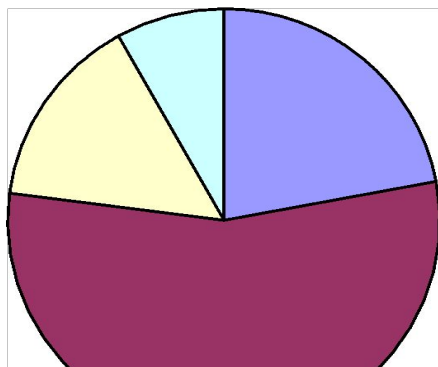




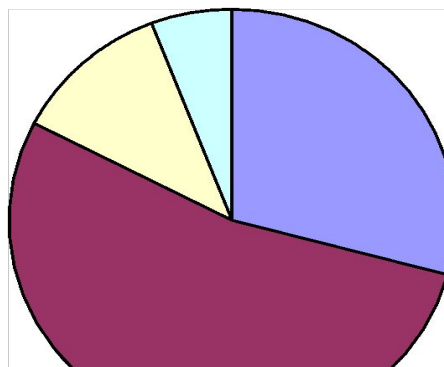
**Задание 2  
(№  
206133)**

На диаграммах показаны возрастные составы населения некоторых стран. Определите по диаграмме, в какой из стран доля населения **0-14 лет** наибольшая.

Китай

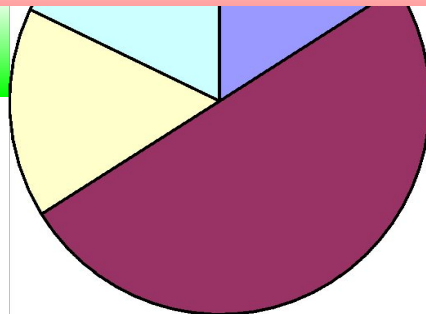


Индонезия




**Подумай!**

Япония



Россия



■ - 0 – 14 лет

■ - 15 – 50 лет

■ - 50 – 64 года

■ - 65 и более

**Задание 2  
(№  
206067)**

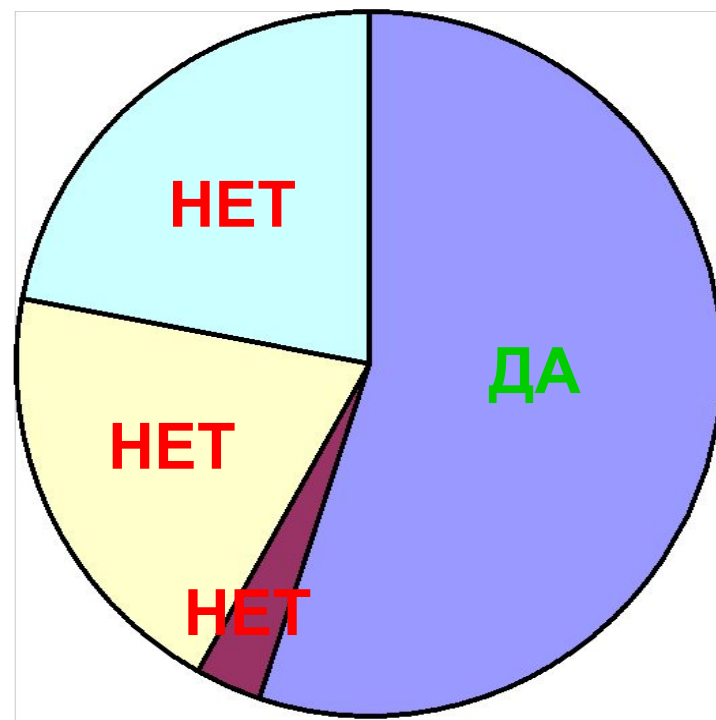
На диаграмме показан религиозный состав населения **США**.  
Определите по диаграмме,  
какая из религиозных групп преобладает.

**Протестанты**

**Мусульмане**

**Католики**

**Прочие**



**Задание 2  
(№  
206069)**

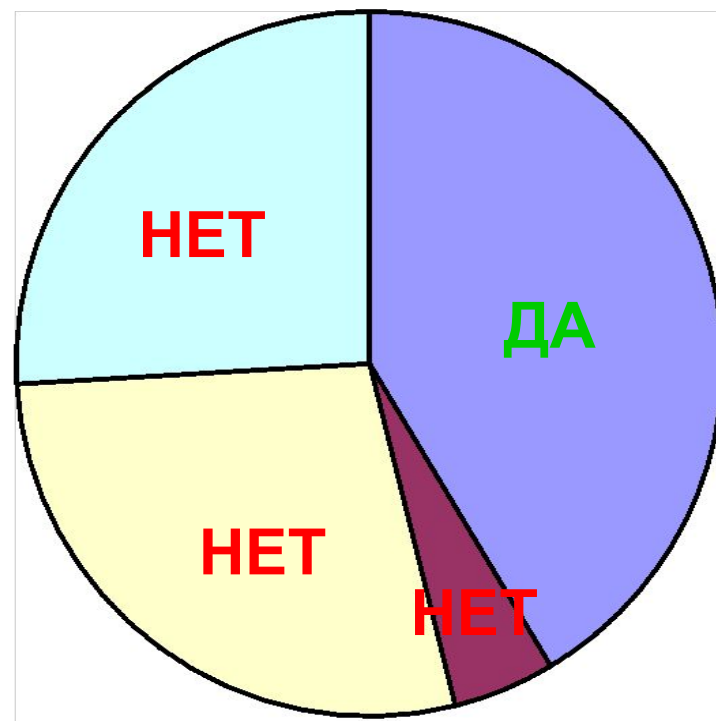
На диаграмме показан религиозный состав населения **Великобритании**. Определите по диаграмме, какая из религиозных групп преобладает.

**Протестанты**

**Мусульмане**

**Католики**

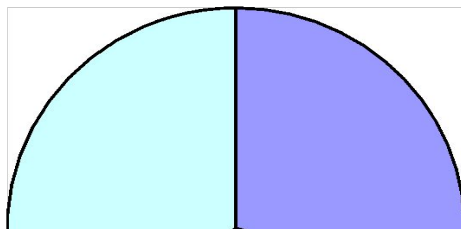
**Прочие**



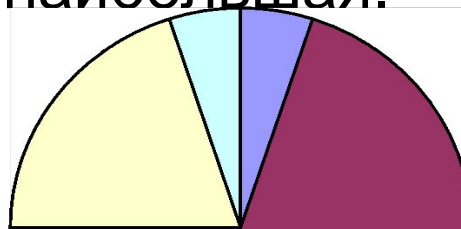
**Задание 2  
(№  
206049)**

На диаграмме показаны религиозные составы населения Германии, США, Австрии и Великобритании. Определите по диаграмме, в какой стране доля протестантов наибольшая.

Германия



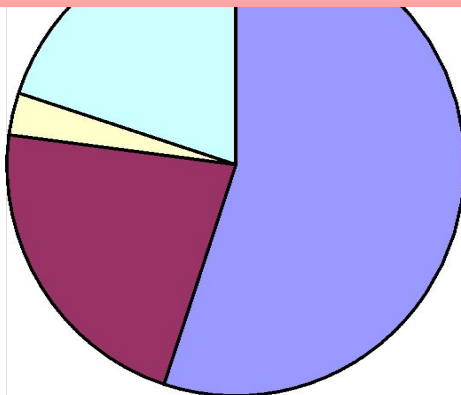
Австрия



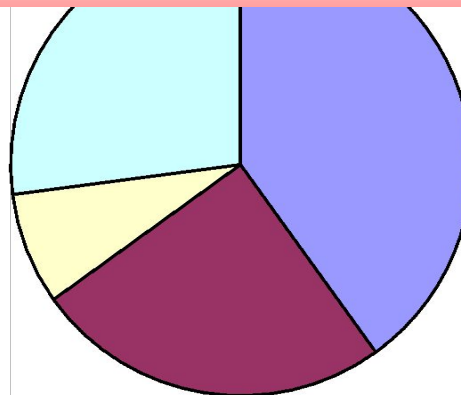
**МОЛОДЕЦ!**

**ПОДУМАЙ!**

США



Великобритани  
я



- мусульмане    - католики    - протестанты    - прочие

**Задание 2  
(№  
206189)**

На диаграмме показан религиозный состав населения **Великобритании**.  
Определите по диаграмме, в каких пределах находится доля **протестантов**.

40 – 50%

30 – 40%

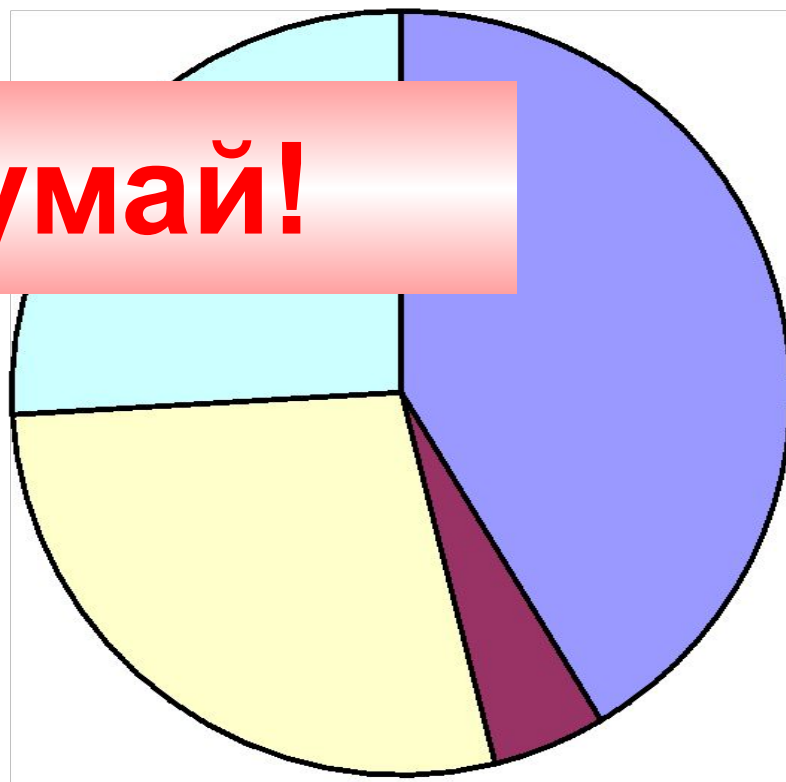
20 – 30%

10 – 20%

 - протестанты       - мусульмане

 - католики       - прочие

**Подумай!**



К прочему относятся вода, витамины и минеральные вещества.

**Задание 2  
(№  
206071)**

На диаграмме показано распределения земель Приволжского Федерального округа по категориям. Определите по диаграмме, земли какой категории преобладают.

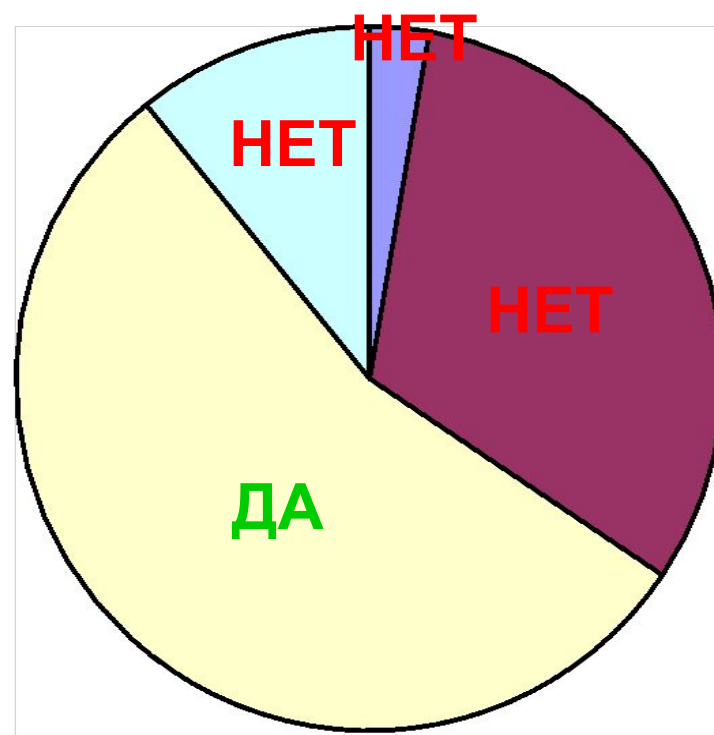
**Земли запаса**

**Лесной фонд**

**С/х назначения**

**Прочее**

Прочее — это земли поселений; земли промышленности и иного специального назначения; земли особо охраняемых территорий и объектов. .



**Задание 2  
(№  
206073)**

На диаграмме показано распределения земель  
Дальневосточного Федерального округа  
по категориям. Определите по диаграмме,  
земли какой категории преобладают.

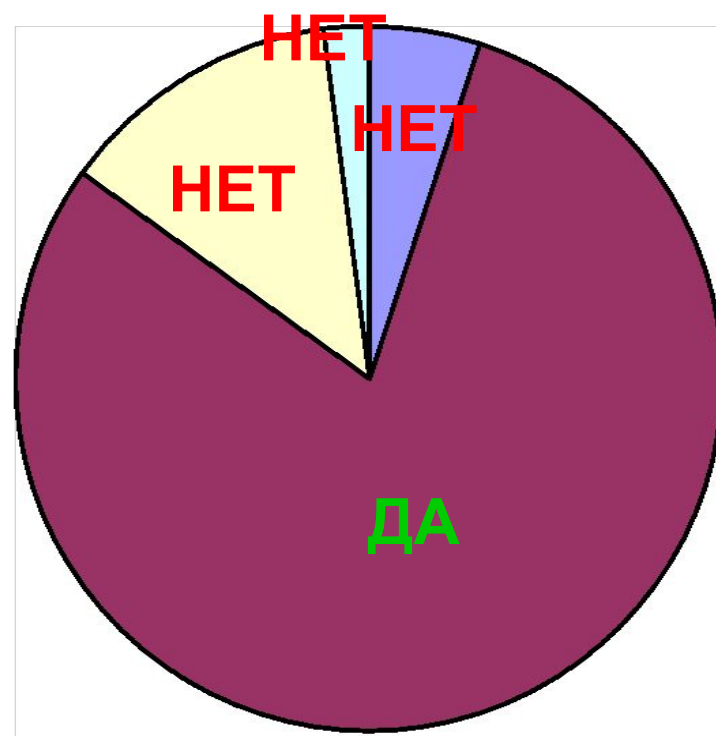
**Земли запаса**

**Лесной фонд**

**С/х назначения**

**Прочее**

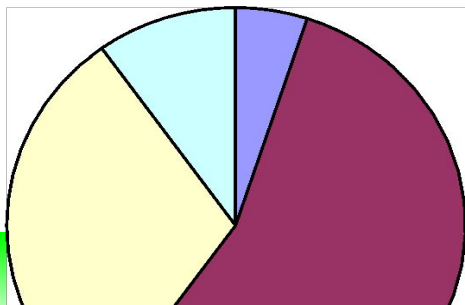
Прочее — это земли поселений; земли промышленности и иного специального назначения; земли особо охраняемых территорий и объектов. .



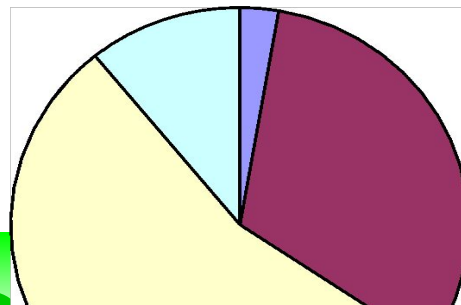
**Задание 2  
(№  
206127)**

На диаграмме показано распределение земель по Федеральным округам.  
Определите по диаграммам, в каком округе доля земель **лесного фонда** максимальная.

**Уральский**

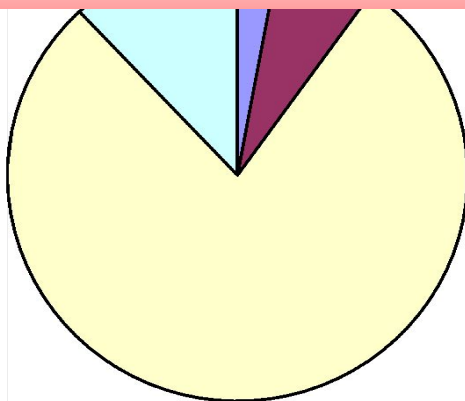


**Приволжский**

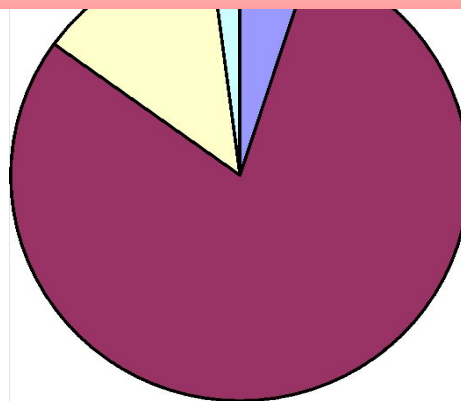


**Подумай!**

**Южный ФО**



**Д.-В. ФО**



 - с/х назначения  - лесной фонд  - земли запаса  - прочее



При создании презентации были использованы  
задачи с сайта  
**«Открытый банк заданий по математике»**  
ГИА – 2012.

<http://www.mathgia.ru:8080/or/gia12/Main.html?view=Pos>