

**СЛОЖЕНИЕ ОДНОЗНАЧНЫХ ЧИСЕЛ
С ПЕРЕХОДОМ ЧЕРЕЗ ДЕСЯТОК
ВИДА $\square + 4$**



Мы – умные!

Мы- дружные!

Мы- внимательные!

Мы – старательные!

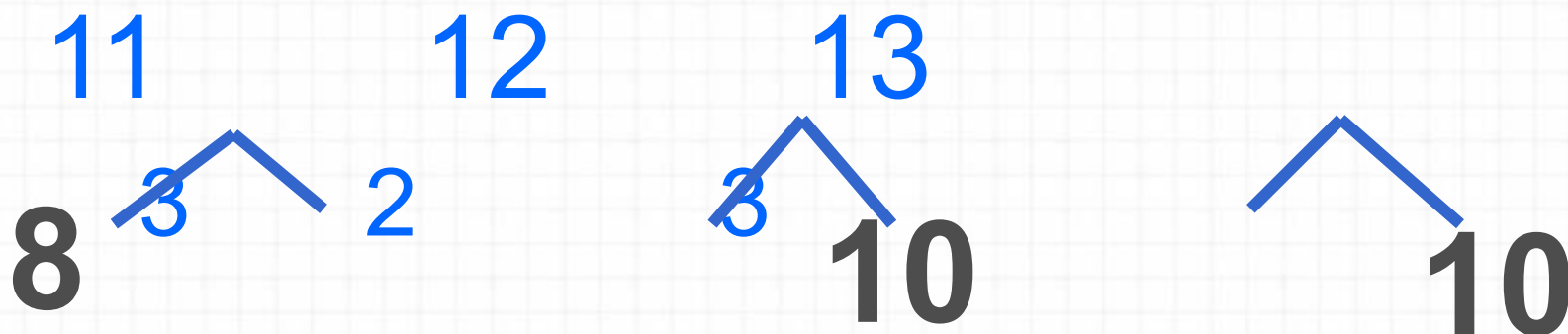
Мы в первом классе учимся!

Всё у нас получится!

- Найдите значение выражений:

$$9+2=1 \quad 8+3= \quad 9+1= \quad 1$$

- Назовите пропущенные числа:



Дополни до **10**:

8

7

9

6

2

3

1

4

Увеличь на **10**:

5

2

8


6

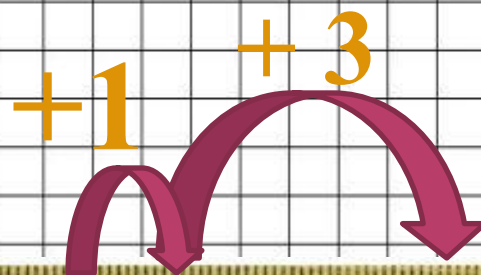
15

12

18


16


$$9 + 4$$



$$\underline{9 + 4 = 13}$$

$$9 + 1 + 3 = 13$$






Объясни, как к числу 7 прибавить 4.



$$\begin{array}{r} 7 + 4 \\ \hline 7 + 3 + 1 \end{array}$$



Рассуждая так же, вычисли.

$$\begin{array}{r} 8 + 4 \\ \hline 8 + 2 + \square \end{array}$$

$$\begin{array}{r} 9 + 4 \\ \hline 9 + \square + \square \end{array}$$






Запомни!

$$7 + 4 = 11$$

$$8 + 4 = 12$$


$$9 + 4 = 13$$





С. 67 П.1

*Для выполнения задания
возьмите чистую тетрадь в
клетку, запишите число и
решите примеры*



Проверим и оценим свои
достижения.

$$7 + 3 + 2 = 12$$

$$6 + 4 + 3 = 13$$

$$9 + 1 + 6 = 16$$

$$8 + 2 + 3 = 13$$

$$5 + 5 + 1 = 11$$

$$9 + 1 + 7 = 17$$



2 и менее
верных ответов

3
верных ответа

4 и более
верных ответов

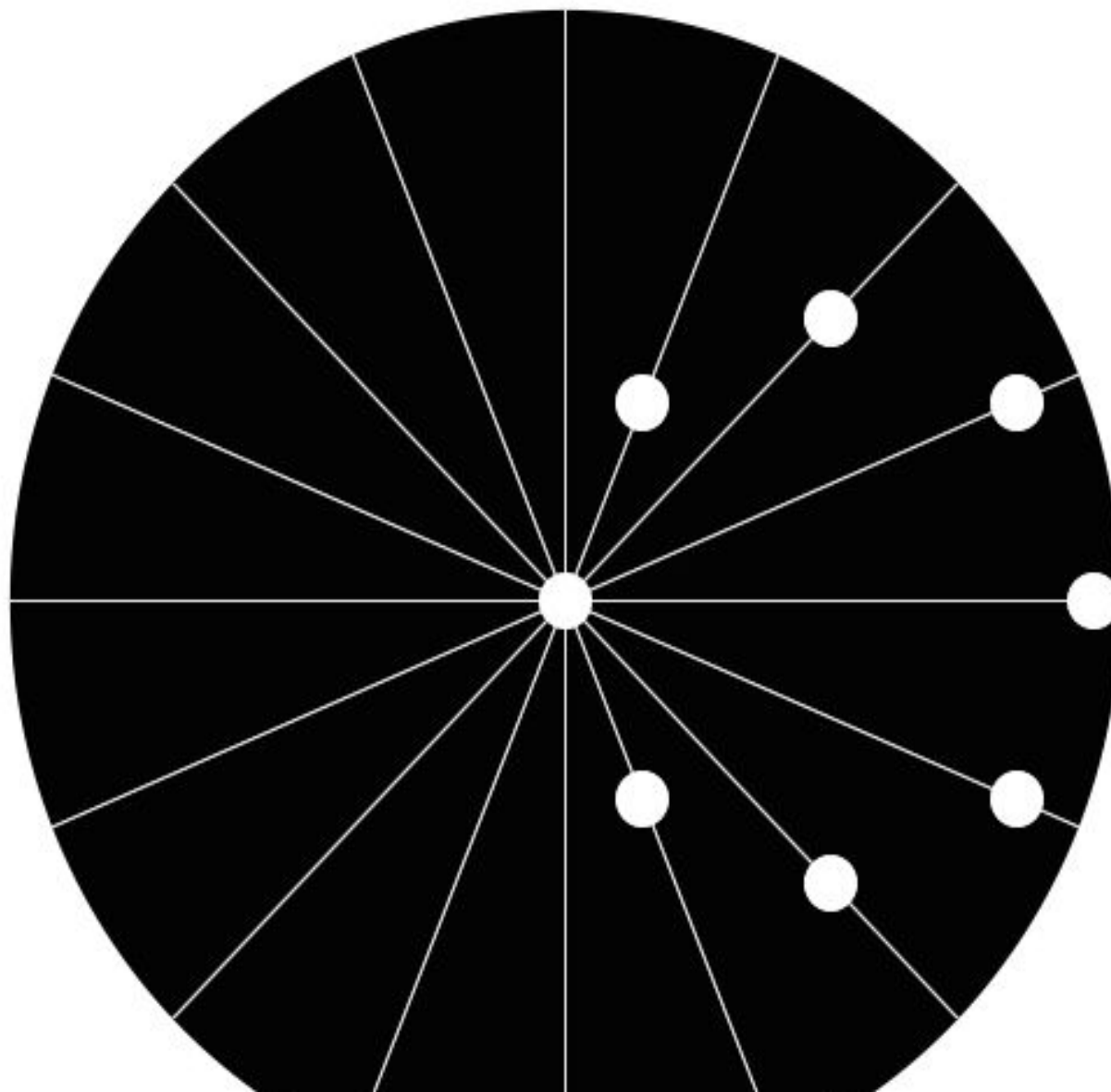
**СКОЛЬКО МЯЧИКОВ У НАС,
СТОЛЬКО МЫ ПОДПРЫГНЕМ РАЗ**



СКОЛЬКО ЁЛОЧЕК ЗЕЛЁНЫХ, СТОЛЬКО ВЫПОЛНИМ НАКЛОНОВ




**СКОЛЬКО ТОЧЕК В ЧЁРНОМ КРУГЕ ,
СТОЛЬКО РАЗ ПОДНИМЕМ РУКИ**




СКОЛЬКО ЗАЙЧИКОВ У НАС, СТОЛЬКО МЫ ПРИСЯДЕМ РАЗ





С. 67 3.2



Проверь себя.

$$7 + 2 = 9 \text{ (о.)}$$

Ответ: 9 открыток.

$$6 - 2 = 4 \text{ (к.)}$$

Ответ: 4 конверта.

Домашнее задание

Тетрадь на печатной основе
стр.35, № 1,2 (вверху страницы).

