



Учитель математики МБОУ «СОШ №12» Мариничева Ирина
Михайловна
5класс



Запишите в виде дроби :

3%

$$1 \frac{3}{10}$$

$$\frac{100}{3}$$

$$\frac{3}{10}$$

$$\frac{3}{100}$$



*

<http://aida.ucoz.ru>



Выбери кубик и щёлкни по его боковой грани

2





Сколько процентов составляет дробь $\frac{8}{400}$?



*


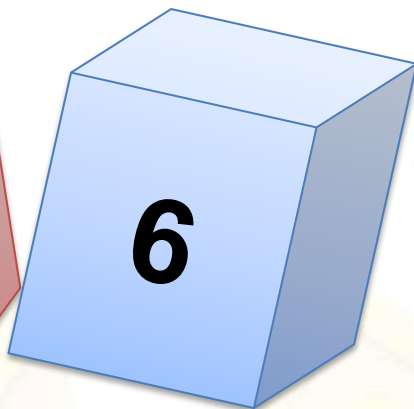
<http://aida.ucoz.ru>

Выбери кубик и щёлкни по его боковой грани





Найдите 15 % от 900:



*

<http://aida.ucoz.ru>

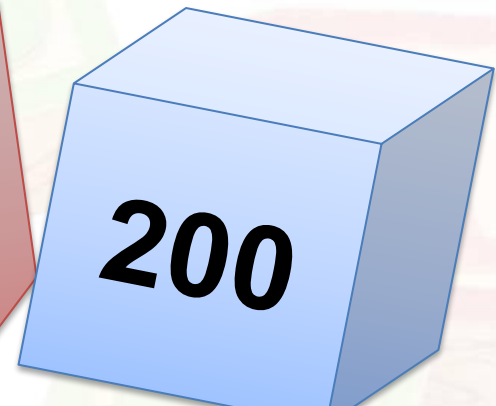


Выбери кубик и щёлкни по его боковой грани

4





Найдите неизвестное число, если 140 составляет 70% от него?



*

<http://aida.ucoz.ru>


Выбери кубик и щёлкни по его боковой грани



Решите задачу.



В саду 7 фруктовых деревьев, что составляет 35% всех деревьев. Сколько всего деревьев в саду?





Турист был в пути три дня. В первый день он прошел 37 % пути, во второй – 33 %, а в третий – оставшиеся 45 км. Сколько километров турист прошел за 3 дня?



37%

33%

45 км

1500

150

15

$1\frac{1}{2}$



Получилось?

МОЛОДЕЦ!!!





Интернет ресурсы

Картинки www.google.ru Картинки

www.google.ru,

<http://forchel.ru/1345-klipart-detskie-yemocii.html>

Шаблон_Шаблон <http://aida.ucoz.ru>

Автор <http://mim58.ucoz.ru/>