

# Угол.Измерение УГЛОВ.

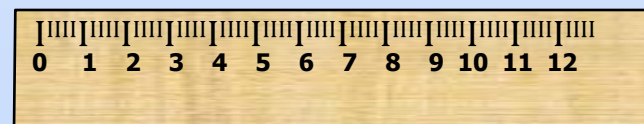


15.05.2020  
5а и 5к классы

# Разгадайте кроссворд



1. Единица измерения времени
2. Единица измерения массы
3. Сотая часть числа
4. Инструмент для измерения длины отрезков



# Как называются эти геометрические фигуры:


прямая



луч



отрезок

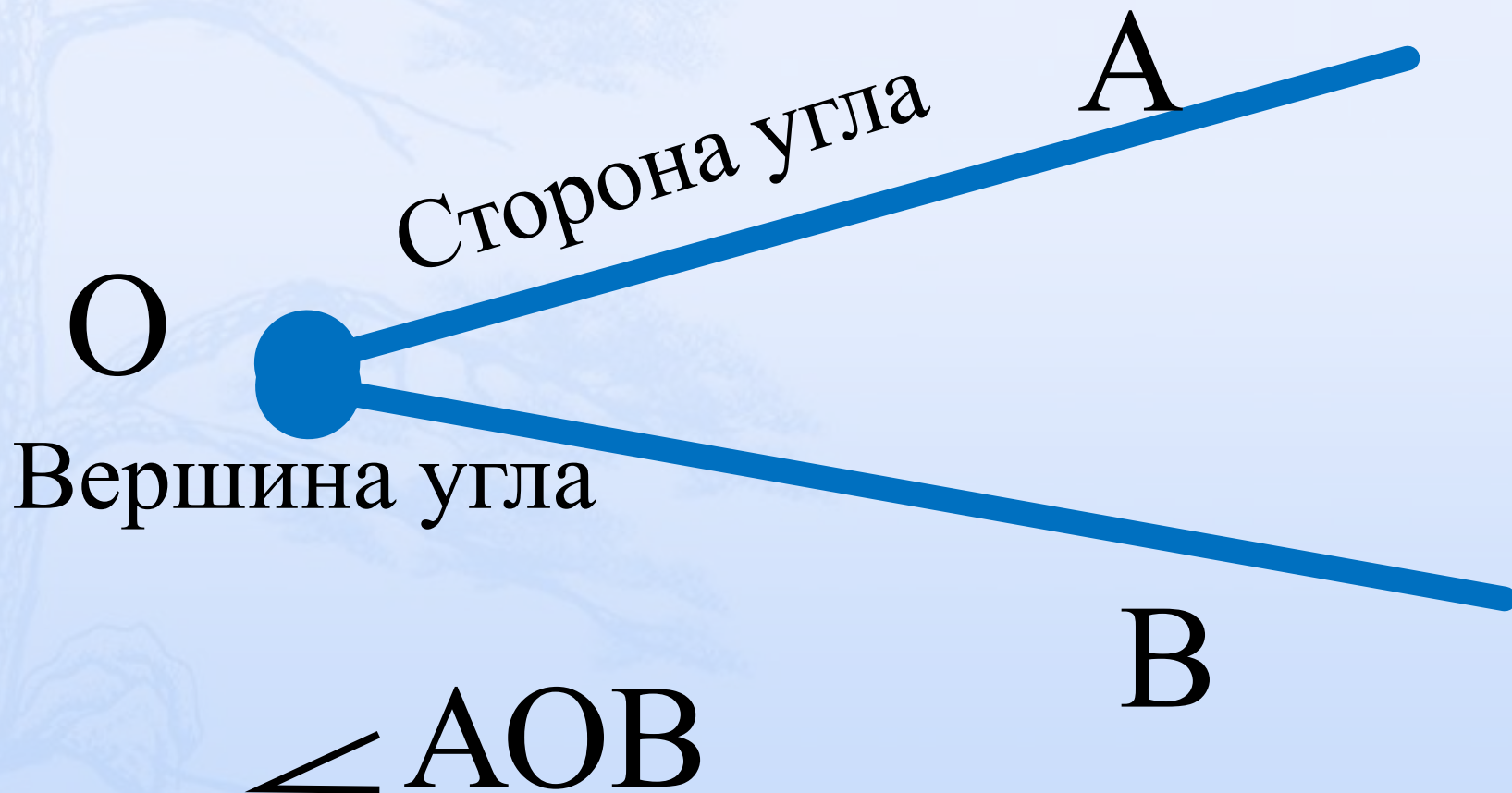


# Рассмотрим еще одну фигуру

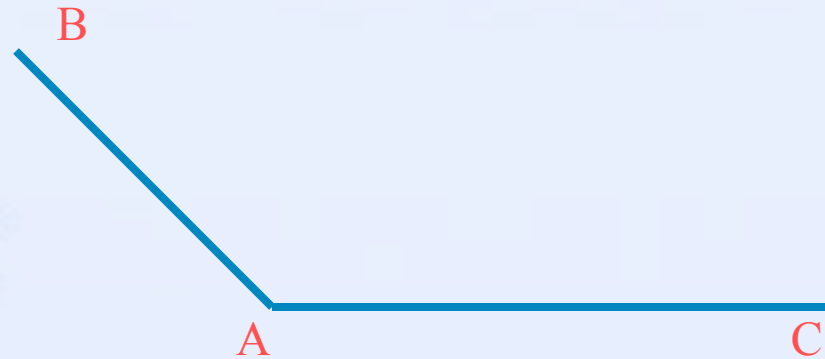
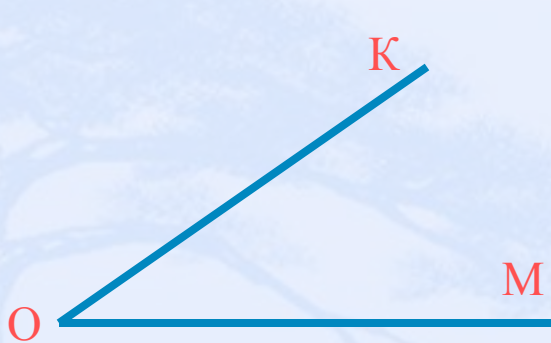


Как образовалась эта  
фигура?

**Углом** называют фигуру,  
образованную двумя лучами,  
выходящими из одной точки.



Запиши с помощью знака «  $\angle$  » изображенные углы, укажи их стороны и вершины.



Если ты выполнил задание правильно,  
то у тебя записано:

$\angle KOM$ :

$OK$  и  $OM$ -стороны

$\angle KOM$

$O$  - вершина  $\angle KOM$


$\angle BAC$ :

$AB$  и  $AC$ -стороны

$\angle BAC$

$A$  - вершина  $\angle BAC$

# Закрепление



Определите вид углов, которые образуют стрелки часов.

Час	1	2	3	4	5	6	7	8	9	10	11
Угол											

**О** - ОСТРЫЙ

**Т** - ТУПОЙ

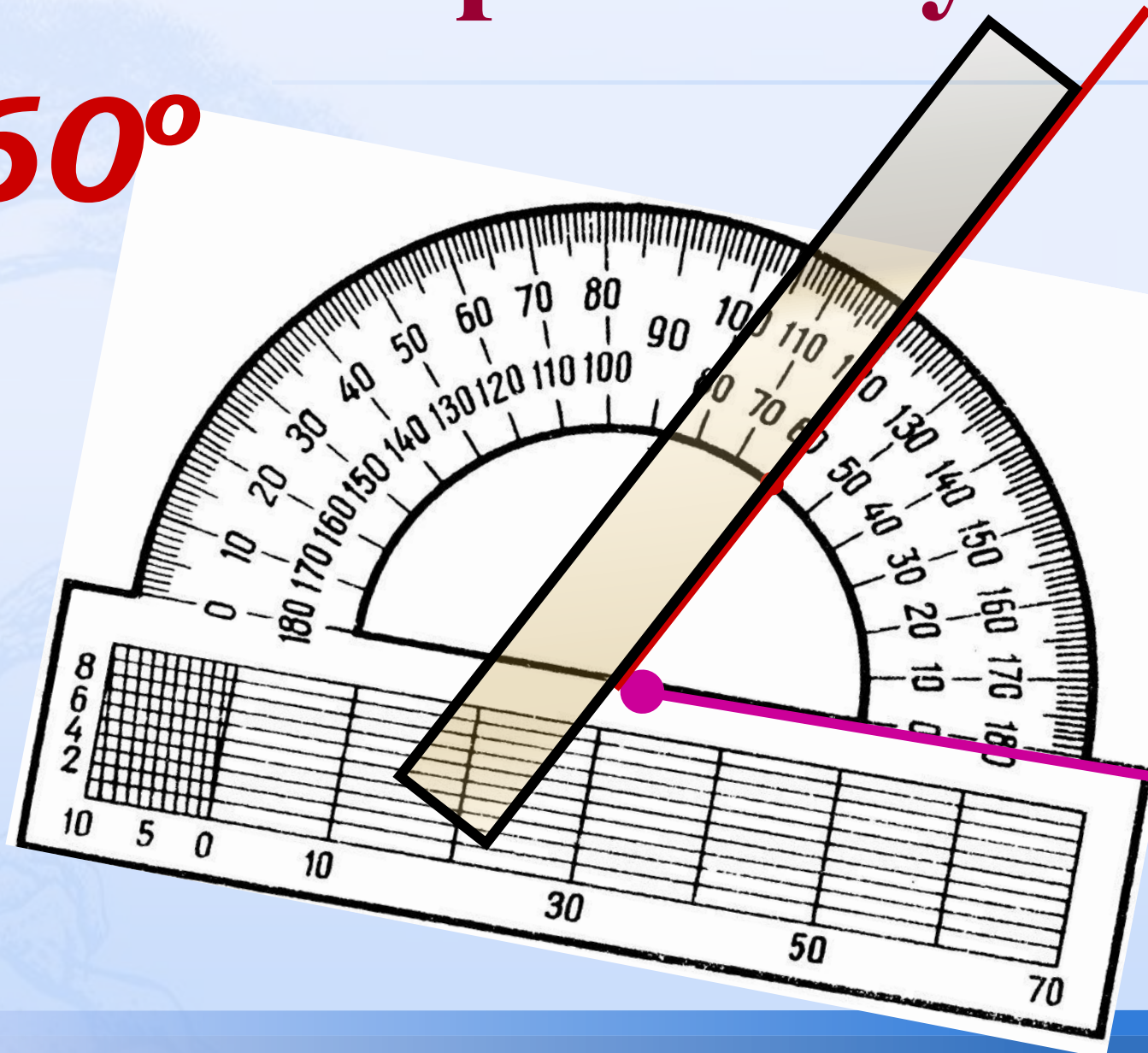
**П** - ПРЯМОЙ

**Р** - РАЗВЕРНУТЫЙ

**ПРОВЕРКА**

# Построение углов


**60°**





# Построение углов

**90°**



# Работа по учебнику:



Выполнить номера:  
1656, 1657, 1660 -  
страница 252



# Домашнее задание:

- Выполнить номер 1659 (страница 252). Прочитать параграф 42 (страница 249).

*По учебнику: Математика. 5 класс, Н.Я. Виленкин*

- Сдать домашнее задание необходимо до начала следующего урока  
(не позднее 15.05.2020 – 5а и 5к классы)

Домашнее задание можно сдать либо в комментариях в факультативе, либо в ВК у кого есть возможность.

**Спасибо за**

**урок!**

**Молодцы!**